

ವಿಷಯ ಸಂಕೇತ : 181

ಪ್ರಶ್ನೆ ಪುಸ್ತಿಕೆ ಶ್ರೇಣಿ

4583413

ಪ್ರಶ್ನೆ ಪುಸ್ತಿಕೆ  
ಸಂವಹನ  
(ಪತ್ರಿಕೆ II)



ಸಮಯ : 2 ಗಂಟೆಗಳು

ಗರಿಷ್ಠ ಅಂಕಗಳು : 100

ಸೂಚನೆಗಳು

1. ಪರೀಕ್ಷೆ ಪ್ರಾರಂಭಗೊಂಡ ತಕ್ಷಣವೇ ಒ.ಎಂ.ಆರ್. ಉತ್ತರಹಾಳಿಯಲ್ಲಿ ಪ್ರಶ್ನೆ ಪುಸ್ತಿಕೆ ಶ್ರೇಣಿಯನ್ನು ಗುರುತು ಮಾಡುವ ಮೊದಲು, ಈ ಪ್ರಶ್ನೆ ಪುಸ್ತಿಕೆಯಲ್ಲಿ ಮುದ್ರಿತವಾಗದ ಅಥವಾ ಹರಿದಿರುವ ಅಥವಾ ಯಾವುದೇ ಪುಟ ಇಲ್ಲದಿರುವ ಅಥವಾ ಮುದ್ರಿತವಾಗದ ಪ್ರಶ್ನೆಗಳು ಇತ್ಯಾದಿ ಒಳಗೊಂಡಿಲ್ಲವೆಂಬುದನ್ನು ನೀವು ಪರೀಕ್ಷಿಸತಕ್ಕದ್ದು. ಮೇಲಿನ ಯಾವುದೇ ದೋಷ ಕಂಡುಬಂದಲ್ಲಿ ಅದನ್ನು ಹಿಂತಿರುಗಿಸಿ ಲಭ್ಯವಿರುವ ಶ್ರೇಣಿಯ ಪರಿಪೂರ್ಣವಾದ ಬೇರೆ ಪ್ರಶ್ನೆ ಪುಸ್ತಿಕೆಯನ್ನು ಪಡೆಯತಕ್ಕದ್ದು.
  2. ಅಭ್ಯರ್ಥಿಯು ಪ್ರಶ್ನೆ ಪುಸ್ತಿಕೆಯ ಶ್ರೇಣಿ A, B, C ಅಥವಾ D ಅನ್ನು ವಿಷಯ ಸಂಕೇತ ಮತ್ತು ನೋಂದಣಿ ಸಂಖ್ಯೆಯನ್ನು OMR ಉತ್ತರ ಪತ್ರಿಕೆಯಲ್ಲಿ ಅದಕ್ಕಾಗಿ ಒದಗಿಸಲಾಗಿರುವ ಸ್ಥಳದಲ್ಲಿ ಬರೆದು ಸಂಕೇತ (ಎನ್ ಕೋಡ್) ಗೊಳಿಸಬೇಕು. ಹಾಗೂ ನಿಗದಿತ ಸ್ಥಳದಲ್ಲಿ ತಾವು ಮತ್ತು ಸಂವಿಕ್ಷಕರು ಸಹಿ ಮಾಡಿರುವುದನ್ನು ಖಚಿತ ಪಡಿಸಿಕೊಳ್ಳಬೇಕು. ಒ.ಎಂ.ಆರ್. ಹಾಳೆಯಲ್ಲಿ ತಿಳಿಸಿರುವ ಯಾವುದೇ ಮಾಹಿತಿಯನ್ನು ಭರ್ತಿ ಮಾಡುವುದು/ಎನ್ ಕೋಡ್ ಮಾಡುವುದು ಅಭ್ಯರ್ಥಿಗಳ ಜವಾಬ್ದಾರಿಯಾಗಿರುತ್ತದೆ. ಒಂದು ವೇಳೆ ಭರ್ತಿ ಮಾಡದಿದ್ದಲ್ಲಿ/ತಪ್ಪಿದಲ್ಲಿ ಅಂತಹ ಒ.ಎಂ.ಆರ್. ಉತ್ತರ ಹಾಳೆಯನ್ನು ತಿರಸ್ಕರಿಸಲಾಗುವುದು.
  3. ಪಕ್ಕದಲ್ಲಿ ಒದಗಿಸಿರುವ ಚೌಕದಲ್ಲೇ ನಿಮ್ಮ ನೋಂದಣಿ ಸಂಖ್ಯೆಯನ್ನು ನಮೂದಿಸಬೇಕು. ಪ್ರಶ್ನೆ ಪುಸ್ತಿಕೆಯಲ್ಲಿ ಬೇರೆ ಎನನ್ನೂ ಬರೆಯಬಾರದು.
- ನೋಂದಣಿ ಸಂಖ್ಯೆ
4. ಈ ಪ್ರಶ್ನೆ ಪುಸ್ತಿಕೆ 100 ಪ್ರಶ್ನೆಗಳನ್ನು ಒಳಗೊಂಡಿರುತ್ತದೆ. (a) ಸಾಮಾನ್ಯ ಕನ್ನಡ : 1 - 35, (b) ಸಾಮಾನ್ಯ ಇಂಗ್ಲೀಷ್ : 36 - 70, (c) ಕಂಪ್ಯೂಟರ್ ಜ್ಞಾನ : 71 - 100. ಪ್ರತಿಯೊಂದು ಪ್ರಶ್ನೆಯು 4 ಪ್ರತಿಕ್ರಿಯೆಗಳನ್ನು (ಉತ್ತರಗಳನ್ನು) ಒಳಗೊಂಡಿರುತ್ತದೆ. ನೀವು ಉತ್ತರ ಹಾಳೆಯಲ್ಲಿ ಗುರುತು ಮಾಡಬೇಕೆನಿಸುವ ಉತ್ತರವನ್ನು ಆಯ್ಕೆ ಮಾಡಿಕೊಳ್ಳಿ. ಒಂದು ವೇಳೆ ಅಲ್ಲಿ ಒಂದಕ್ಕಿಂತ ಹೆಚ್ಚು ಸರಿಯಾದ ಉತ್ತರಗಳವೆಯೆಂದು ನೀವು ಭಾವಿಸಿದರೆ ನಿಮಗೆ ಅತ್ಯುತ್ತಮವೆನಿಸುವ ಉತ್ತರಕ್ಕೆ ಗುರುತು ಮಾಡಿ. ಏನೇ ಆದರೂ ಪ್ರತಿ ಪ್ರಶ್ನೆಗೆ ನೀವು ಕೇವಲ ಒಂದು ಉತ್ತರವನ್ನು ಮಾತ್ರ ಆಯ್ಕೆ ಮಾಡಬೇಕು.
  5. ಎಲ್ಲಾ ಉತ್ತರಗಳನ್ನು ನಿಮಗೆ ಒದಗಿಸಲಾಗಿರುವ ಪ್ರತ್ಯೇಕ ಉತ್ತರ ಹಾಳೆಯ ಮೇಲೆ ಕೇವಲ ಕಪ್ಪು ಅಥವಾ ನೀಲಿ ಶಾಯಿಯ ಬಾಲ್‌ಪಾಯಿಂಟ್ ಪೆನ್‌ನಲ್ಲಿ ಮಾತ್ರ ಗುರುತು ಮಾಡಬೇಕು. ಒ.ಎಂ.ಆರ್. ಉತ್ತರ ಪತ್ರಿಕೆ ಹಾಳೆಯಲ್ಲಿನ ವಿವರವಾದ ಸೂಚನೆಗಳನ್ನು ಗಮನಿಸುವುದು.
  6. ಎಲ್ಲಾ ಪ್ರಶ್ನೆಗಳಿಗೆ ಸಮಾನ ಅಂಕಗಳು. ಎಲ್ಲಾ ಪ್ರಶ್ನೆಗಳಿಗೆ ಉತ್ತರಿಸಿ. ಪ್ರತಿ ತಪ್ಪು ಉತ್ತರಕ್ಕೆ ಪ್ರಶ್ನೆಗೆ ನಿಗದಿಪಡಿಸಿದ ಅಂಕಗಳ ¼ (0.25) ರಷ್ಟು ಅಂಕಗಳನ್ನು ಕಳೆಯಲಾಗುವುದು.
  7. ಚಿತ್ತು ಕೆಲಸಕ್ಕಾಗಿ ಹಾಳೆಗಳನ್ನು ಪ್ರಶ್ನೆ ಪುಸ್ತಿಕೆಯ ಕೊನೆಯಲ್ಲಿ ಸೇರಿಸಲಾಗಿದೆ. ಪ್ರಶ್ನೆ ಪುಸ್ತಿಕೆಯ ಇನ್ನೂಳದ ಯಾವ ಭಾಗದಲ್ಲಿಯೂ ನೀವು ಯಾವ ರೀತಿಯ ಗುರುತನ್ನು ಮಾಡತಕ್ಕದ್ದಲ್ಲ.
  8. ಪರೀಕ್ಷೆಯ ಮುಕ್ತಾಯವನ್ನು ಸೂಚಿಸುವ ಅಂತಿಮ ಗಂಟೆ ಬಾರಿಸಿದ ತಕ್ಷಣವೇ ಉತ್ತರ ಪತ್ರಿಕೆ ಹಾಳೆಯಲ್ಲಿ ಇನ್ನಾವುದೇ ಗುರುತು ಮಾಡುವುದನ್ನು ನಿಲ್ಲಿಸಬೇಕು. ಸಂವಿಕ್ಷಕರು ಬಂದು ನಿಮ್ಮಲ್ಲಿರುವ ಉತ್ತರ ಹಾಳೆಯನ್ನು ತಮ್ಮ ವಶಕ್ಕೆ ಪಡೆದುಕೊಂಡು ಲೆಕ್ಕಕ್ಕೆ ತೆಗೆದುಕೊಳ್ಳುವವರೆಗೂ ನಿಮ್ಮ ನಿಮ್ಮ ಆಸನದಲ್ಲಿಯೇ ಕುಳಿರಿತಕ್ಕದ್ದು.
  9. ಪ್ರಶ್ನೆಗಳು ಕನ್ನಡ ಮತ್ತು ಆಂಗ್ಲ ಭಾಷೆಯಲ್ಲಿರುತ್ತವೆ. ಕನ್ನಡ ಪ್ರಶ್ನೆಗಳಲ್ಲಿ ಸಂದೇಹ ಉಂಟಾದರೆ, ದಯವಿಟ್ಟು ಆಂಗ್ಲ ಭಾಷೆಯ ಪ್ರಶ್ನೆಗಳನ್ನು ಗಮನಿಸುವುದು. ಪ್ರಶ್ನೆ ಪತ್ರಿಕೆಯ ಪ್ರಶ್ನೆಗಳಲ್ಲಿ ಯಾವುದೇ ಗೊಂದಲಗಳಿದ್ದರೂ ಆಂಗ್ಲ ಭಾಷೆಯ ಪ್ರಶ್ನೆಗಳೇ ಅಂತಿಮವಾಗಿರುತ್ತದೆ.

ಯಾವುದೇ ರೀತಿಯ ಮೊಬೈಲ್ ಫೋನ್, ಕ್ಯಾಲ್ ಕ್ಯುಲೇಟರ್ ಮತ್ತು ಇತರ ರೀತಿಯ ಎಲೆಕ್ಟ್ರಾನಿಕ್/ಕಮ್ಯೂನಿಕೇಷನ್ ಸಾಧನಗಳು ಇತ್ಯಾದಿಗಳನ್ನು ಪರೀಕ್ಷಾ ಕೇಂದ್ರದ ಆವರಣದೊಳಗೆ ತರುವುದನ್ನು ನಿಷೇಧಿಸಿದೆ.

Note : English version of the instructions is printed on the back cover of this booklet.

(1-A)

GENERAL KANNADA

1. ಕಲ್ಯಾಣ ಚಾಲುಕ್ಯರ ಅತ್ಯಂತ ಜನಪ್ರಿಯ ದೊರೆಯಾಗಿ ತನ್ನ ಹೆಸರಿನಲ್ಲಿ ಶಕಿಯನ್ನು ಪ್ರಾರಂಭಿಸಿದವನು ಯಾರು ?

- (1) ಒಂದನೆಯ ವಿಕ್ರಮಾದಿತ್ಯ
- (2) ಆರನೆಯ ವಿಕ್ರಮಾದಿತ್ಯ
- (3) ಎರಡನೆಯ ವಿಕ್ರಮಾದಿತ್ಯ
- (4) ಐದನೆಯ ವಿಕ್ರಮಾದಿತ್ಯ

2. 'ನಾನೇರುವೆತ್ತರಕೆ ನೀನೇರಬಲ್ಲೆಯಾ, ನಾನಿಳಿಯುವಾಳಕ್ಕೆ ನೀನಿಳಿಯ ಬಲ್ಲೆಯಾ' ಎಂದು ಕವಿ ವಿಮರ್ಶಕನ ಸಂಬಂಧದ ಬಗ್ಗೆ ಹೇಳಿದ ಲೇಖಕ ಯಾರು?

- (1) ಕೆ.ಎಸ್. ನರಸಿಂಹಸ್ವಾಮಿ
- (2) ಕುವೆಂಪು
- (3) ಗೋಪಾಲಕೃಷ್ಣ ಅಡಿಗ
- (4) ಗೋವಿಂದ ಪೈ

3. ಆಧುನಿಕ ಕನ್ನಡ ಸಾಹಿತ್ಯದ ವಿವಿಧ ಘಟ್ಟಗಳನ್ನು ಕಾಲಾನುಕ್ರಮವಾಗಿ ಗುರ್ತಿಸಿ.

- (1) ನವೋದಯ, ನವ್ಯ, ಪ್ರಗತಿಶೀಲ, ದಲಿತ-ಬಂಡಾಯ
- (2) ನವೋದಯ, ಪ್ರಗತಿಶೀಲ, ನವ್ಯ, ದಲಿತ-ಬಂಡಾಯ
- (3) ಪ್ರಗತಿಶೀಲ, ನವೋದಯ, ನವ್ಯ, ದಲಿತ-ಬಂಡಾಯ
- (4) ನವೋದಯ, ನವ್ಯ, ದಲಿತ-ಬಂಡಾಯ, ಪ್ರಗತಿಶೀಲ

4. ಇವುಗಳಲ್ಲಿ ಯಾವ ಗುಂಪು ಸರಿಯಾದುದು ?

(1)

- (i) ಭೋಗ ನಂದೀಶ್ವರ ದೇವಾಲಯ ಗಂಗರು -
- (ii) ಮೇಗುತಿ ದೇವಾಲಯ ಬಾದಾಮಿ ಚಾಲುಕ್ಯರು -
- (iii) ಶೃಂಗೇರಿ ಶಾರದಾ ದೇವಾಲಯ ರಾಷ್ಟ್ರಕೂಟರು -
- (iv) ಡಂಬಳದ ದೊಡ್ಡ ಬಸವನಗುಡಿ ಕಲ್ಯಾಣಿ ಚಾಲುಕ್ಯರು -

(2)

- (i) ಭೋಗ ನಂದೀಶ್ವರ ದೇವಾಲಯ ಬಾದಾಮಿ ಚಾಲುಕ್ಯರು -
- (ii) ಮೇಗುತಿ ದೇವಾಲಯ ಗಂಗರು -
- (iii) ಶೃಂಗೇರಿ ಶಾರದಾ ದೇವಾಲಯ ಕಲ್ಯಾಣಿ ಚಾಲುಕ್ಯರು -
- (iv) ಡಂಬಳದ ದೊಡ್ಡ ಬಸವನಗುಡಿ ರಾಷ್ಟ್ರಕೂಟರು -

(3)

- (i) ಭೋಗ ನಂದೀಶ್ವರ ದೇವಾಲಯ ರಾಷ್ಟ್ರಕೂಟರು -
- (ii) ಮೇಗುತಿ ದೇವಾಲಯ ಕಲ್ಯಾಣಿ ಚಾಲುಕ್ಯರು -
- (iii) ಶೃಂಗೇರಿ ಶಾರದಾ ದೇವಾಲಯ ಗಂಗರು -
- (iv) ಡಂಬಳದ ದೊಡ್ಡ ಬಸವನಗುಡಿ ಬಾದಾಮಿ ಚಾಲುಕ್ಯರು -

(4)

- (i) ಭೋಗ ನಂದೀಶ್ವರ ದೇವಾಲಯ ಕಲ್ಯಾಣಿ ಚಾಲುಕ್ಯರು -
- (ii) ಮೇಗುತಿ ದೇವಾಲಯ ರಾಷ್ಟ್ರಕೂಟರು -
- (iii) ಶೃಂಗೇರಿ ಶಾರದಾ ದೇವಾಲಯ ಬಾದಾಮಿ ಚಾಲುಕ್ಯರು -
- (iv) ಡಂಬಳದ ದೊಡ್ಡ ಬಸವನಗುಡಿ ಗಂಗರು -

5. ಹೀಬ್ರು ಬೈಬಲ್ಲಿನ 'ತೂಕಿ' ಶಬ್ದ ದ್ರಾವಿಡ 'ತೋಕೈ' ಶಬ್ದದ ಹೀಬ್ರು ರೂಪಾಂತರ ಅದರ ಅರ್ಥ.

- (1) ಹುಲಿ
- (2) ತೋಳ
- (3) ನವಿಲು
- (4) ನರಿ

6. ಇಲ್ಲಿ ಯಾರೂ ಮುಖ್ಯರಲ್ಲ ಯಾರೂ ಅಮುಖ್ಯರಲ್ಲ, ಇದು ಯಾವ ಕಾದಂಬರಿಯ ಕೇಂದ್ರ ನುಡಿಗಳು?

- (1) ಕುಸುಮಬಾಲೆ
- (2) ಹಂಸಗೀತೆ
- (3) ಗೃಹಭಂಗ
- (4) ಮಲೆಗಳಲ್ಲಿ ಮದುಮಗಳು

7. ಗಾದೆಯೆಂದರೆ ದೇವಭೇರಿ ಎಂದು ಹೇಳಿದವರು :

- (1) ಮಾಸ್ತಿ ವೆಂಕಟೇಶ್ ಅಯ್ಯಂಗಾರ್
- (2) ಅರಿಸ್ವಾಟಲ್
- (3) ಗೊರೂರು ರಾಮಸ್ವಾಮಿ ಅಯ್ಯಂಗಾರ್
- (4) ಚಂದ್ರಶೇಖರ ಕಂಬಾರ

8. 'ಮೈಸೂರು ಗೆಜೆಟ್' ಪತ್ರಿಕೆಯನ್ನು 'ಕರ್ನಾಟಕ ರಾಜ್ಯಪತ್ರ' ಎಂದು ಹೆಸರು ಬದಲಾಯಿಸಿದ ವರ್ಷ:

- (1) 1965
- (2) 1966
- (3) 1967
- (4) 1968

9. ಕಾಲುಚೀಲ, ಗುಂಡುಸೂಜಿ, ಸೀಮೆಸುಣ್ಣ ಮೊದಲಾದ ಪದಗಳು ಇಂಗ್ಲೀಷ್ ಪದಗಳು:

- (1) ನೇರ ಅನುವಾದಗಳು
- (2) ವಿವರಣಾತ್ಮಕ ಅನುವಾದಗಳು
- (3) ತದ್ಭವಗಳು
- (4) ಮೇಲಿನ ಯಾರೂ ಅಲ್ಲ, ನಮ್ಮಲ್ಲಿ ಇದ್ದ ಪದಗಳ ಜೀರ್ಣೋದ್ಧಾರ.

10. ಅಖಿಲ ಭಾರತ ಕನ್ನಡ ಸಾಹಿತ್ಯ ಸಮ್ಮೇಳನದ ಮೊದಲ ಮಹಿಳಾ ಅಧ್ಯಕ್ಷರು.

- (1) ಕಮಲಾ ಹಂಪನಾ
- (2) ತ್ರಿವೇಣಿ
- (3) ಅನಸೂಯಮ್ಮ
- (4) ಜಯದೇವಿ ತಾಯಿ ಲಿಗಾಡೆ

11. ಅವಿಭಾಜ್ಯವಾದ ಸ್ವತಂತ್ರ ರೂಪಗಳೇ \_\_\_\_\_

- (1) ಧ್ವನಿಗಳು
- (2) ವಾಕ್ಯ
- (3) ಪದಗಳು
- (4) ನಾಮಪದ

12. 'ಹೊರಬಾಗಿಲು' ಎಂಬುದು \_\_\_\_\_ ಸಮಾಸ.

- (1) ಕ್ರಿಯಾ ಸಮಾಸ
- (2) ಗಮಕ ಸಮಾಸ
- (3) ದ್ವಿಗು ಸಮಾಸ
- (4) ಅಂಶಿ ಸಮಾಸ

13. ಕೆಳಗಿನವುಗಳನ್ನು ಸರಿ ಹೊಂದಿಸಿರಿ.

ಲೇಖಕರು	ಕೃತಿ
A. ಡಾ. ರಾಮೇಗೌಡ	I. ಬೆಳಗಾವಿ ಜಿಲ್ಲೆಯ ಜನಪದ ಕಥೆಗಳು
B. ಪ್ರೊ. ಸುಧಾಕರ	II. ನಮ್ಮ ಒಗಟುಗಳು
C. ಟಿ.ಎಸ್. ರಾಜಪ್ಪ	III. ಗರತಿಯ ಹಾಡು
D. ಹಲಸಂಗಿಯ ಚನ್ನಮಲ್ಲಪ್ಪ ಮತ್ತು ಇತರರು	IV. ನಮ್ಮ ಸುತ್ತಿನ ಗಾದೆಗಳು

ಸರಿ ಉತ್ತರವನ್ನು ಆಯ್ಕೆ ಮಾಡಿ :

	A	B	C	D
(1)	I	III	II	IV
(2)	II	IV	I	III
(3)	III	II	IV	I
(4)	IV	II	III	I

14. ಕೆಳಗಿನ ಸಾಹಿತಿಗಳನ್ನು ಮತ್ತು ಅವರ ಸಾಹಿತ್ಯ ಪಂಥವನ್ನು ಸರಿಹೊಂದಿಸಿರಿ.

ಸಾಹಿತಿಗಳು	ಸಾಹಿತ್ಯ ಪಂಥ
A. ಗೋವಿಂದ ಪೈ	I. ನವ್ಯ
B. ಎಚ್.ಎಂ. ಚೆನ್ನಯ್ಯ	II. ನವೋದಯ
C. ಕೋ. ಚೆನ್ನಬಸಪ್ಪ	III. ಬಂಡಾಯ
D. ಬರಗೂರು ರಾಮಚಂದ್ರಪ್ಪ	IV. ಪ್ರಗತಿಶೀಲ

ಸರಿ ಉತ್ತರವನ್ನು ಆಯ್ಕೆ ಮಾಡಿ :

	A	B	C	D
(1)	II	I	IV	III
(2)	IV	III	I	II
(3)	III	I	IV	I
(4)	II	IV	II	III

15. 'ಊರಿಗೆ ಊರೇ ಕಣ್ಣೇರು ಸುರಿಸಿತು' ಈ ವಾಕ್ಯವು ಶಬ್ದ ಸ್ಥಿತಿಯ \_\_\_\_\_ ಸೂಚಿಸುತ್ತದೆ.

- (1) ವಾಚ್ಯಾರ್ಥ
- (2) ಲಕ್ಷ್ಯಾರ್ಥ
- (3) ವ್ಯಂಗ್ಯಾರ್ಥ
- (4) ಸರಳ ರಗಳೆ

16. ನಮ್ಮ ಹಳೆಯ ಕವಿಗಳಿಗೆ ಸಂಬಂಧಿಸಿದಂತೆ ಯಾವ ಗುಂಪಿನ ಉತ್ತರ ಸರಿಯಾಗಿದೆ ?

- (ಎ) ತನ್ನೆರಡು ಕಾವ್ಯಗಳಲ್ಲಿ ವಿಶಿಷ್ಟ ಪ್ರೇಮದ ಕಥೆಗಳನ್ನು ಚಿತ್ರಿಸಿದ ಕವಿ.
- (ಬಿ) ಕೃತಿ ಸತ್ಯಕ್ಕಿಂತ ಹೆಚ್ಚಾಗಿ ಅದೃಷ್ಟದ ಬೆಂಬಲ ಪಡೆದ ಕವಿ.
- (ಸಿ) ಅನುಕರಣೆ ಮಾಡಿಯೂ ಅದನ್ನು ಮೀರಿ ಸ್ವೋಪಜ್ಞತೆ ತೋರಿದ ಕವಿ.
- (ಡಿ) ವ್ಯಾಸ ಮುನೀಂದ್ರ ರುಂದ್ರ ವಚನಾಮೃತ ವಾರಿಧಿಯನ್ನು ಈಸಿದ ಕವಿ.

(ಎ) (ಬಿ) (ಸಿ) (ಡಿ)

- (1) ಪೊನ್ನ ಜನ್ನ ಪಂಪ ರನ್ನ
- (2) ಜನ್ನ ಪೊನ್ನ ರನ್ನ ಪಂಪ
- (3) ಪಂಪ ರನ್ನ ಪೊನ್ನ ಜನ್ನ
- (4) ಜನ್ನ ರನ್ನ ಪೊನ್ನ ಪಂಪ

17. ಇಲ್ಲಿ ಕೆಲವು ಕವಿಗಳಿದ್ದಾರೆ. ಅವರು ವಿಶೇಷವಾಗಿ ಬಳಸುವ ಅಲಂಕಾರಗಳಿರುವ ಗದ್ಯ / ಕಾವ್ಯಭಾಗಗಳೂ ಇವೆ. ಇವುಗಳ ಆಧಾರದಿಂದ ಕವಿಗಳನ್ನೂ, ಅವರಿಗೆ ಪ್ರಿಯವಾದ ಅಲಂಕಾರಗಳನ್ನೂ ಹೊಂದಿಸಿ ಬರೆಯಿರಿ.

(ಎ) ಬಿರುಗಾಳಿ ಪೊಡೆಯಲೈ ಕಂಪಿಸಿ ಫಲಿತ ಕದಳಿ

ಮುರಿದಿಳಿಗೊರಗುವಂದದಲ್ಲಿ ಲಕ್ಷ್ಮಣನ ಮಾತು ಕಿವಿ

ದೆರೆಗೆ ಬೀಳದ ಮುನ್ನು ಹಮ್ಮಿಸಿ ಬಿದ್ದಳಂಗನೆ ಧರೆಗೆ ನಡುನಡುಗತೆ!

(ಬಿ) ಅಳಿಪಿ ಪರವಧುವನಧೋಗತಿ ಗಿಳಿವುದನಭಿನಯಿಪಂತೆ ಸೀತೆಯ ಸಾರಣ್ಣಿಳಿದಂ ನಭದಿಂ ಖಚರಂ ಪಳಿಗಂ ಪಾಪಕ್ಕಮಂಜದವರೇಗೆಯ್ಯರ್

(ಸಿ) ರಾಶಿಗೆ ಬಂದಾರಂಬದಂತೆ ಕೈ ನೀರೆರೆದ ಮದುವೆಯಂತೆ ಫಲಮಾದ ತೋಂಟದಂತೆ ಗೆಲ್ಲಂಗೊಂಡ ಕಾಳಗದಂತೆ

ಮೊತ್ತಿಸಿದ ಸೊಡರಂತೆ ಕೊಲ್ಲದ ವ್ರತಮಂ ಕೈಕೊಂಡು

(ಡಿ) ಅನುಜ ಮತದೊಳು ವಿಸ್ತರಿಸಿ ಮೈ ಮನನ ಯತದೊಳು ಬಣ್ಣವಿಟ್ಟನು ಜನಪನಪ ಕೀರ್ತ್ಯಂಗನೆಗೆ ತುಡಿಸಿದನು ಭೂಷಣವ

(ಎ) (ಬಿ) (ಸಿ) (ಡಿ)

ಉಪಮೆ ಮಾಲೋಪಮೆ ಅರ್ಥಾಂತರನ್ಯಾಸ ರೂಪಕ

- (1) ನಾಗಚಂದ್ರ, ಲಕ್ಷ್ಮೀಶ, ನಯಸೇನ, ಕುಮಾರವ್ಯಾಸ
- (2) ನಯಸೇನ, ಕುಮಾರವ್ಯಾಸ, ಲಕ್ಷ್ಮೀಶ, ನಾಗಚಂದ್ರ
- (3) ಕುಮಾರವ್ಯಾಸ, ನಯಸೇನ, ನಾಗಚಂದ್ರ, ಲಕ್ಷ್ಮೀಶ
- (4) ಲಕ್ಷ್ಮೀಶ, ನಾಗಚಂದ್ರ, ನಯಸೇನ, ಕುಮಾರವ್ಯಾಸ

18. ಪಂಪನ ಆದಿಪುರಾಣದಲ್ಲಿನ ಭರತ ಯುದ್ಧದಲ್ಲಿ ಬಾಹುಬಲಿಗೆ ಸೋಲುತ್ತಾನೆ. ಸಾಂಗತ್ಯದ ಸಾಮ್ರಾಟ ರತ್ನಾಕರವರ್ಣಿಯ 'ಭರತೇಶ ವೈಭವದ' ಭರತ \_\_\_\_\_

- (1) ಬಾಹುಬಲಿಯನ್ನು ಯುದ್ಧದಲ್ಲಿ ಗೆಲ್ಲುತ್ತಾನೆ.
- (2) ಬಾಹುಬಲಿಗೆ ಯುದ್ಧದಲ್ಲಿ ಸೋಲುತ್ತಾನೆ.
- (3) ಯುದ್ಧವೆ ನಡೆಯದಂತೆ ಮಾಡುತ್ತಾನೆ.
- (4) ಸನ್ಯಾಸಕ್ಕೆ ತೆರಳುತ್ತಾನೆ.

19. ಚೀನಾದಿಂದ ಭಾರತಕ್ಕೆ ಬಂದಿದ್ದ ಹ್ಯೂಯೆನ್‌ತ್ಸಾಂಗ್ - "ಪೂರ್ಣ ಭರವಸೆಯಿಂದ ಶೀಲಾದಿತ್ಯರಾಜ (ಹರ್ಷ) ನ ಸೇನೆಯ ಮುಖಂಡತ್ವವನ್ನು ವಹಿಸಿ ..... ನನ್ನು ಎದುರಿಸಿದ. ಆದರೆ ಗೆಲುವನ್ನು ಸಾಧಿಸಲು ವಿಫಲನಾದ" ಎಂದಿದ್ದಾನೆ. ಕರ್ನಾಟಕದ ಯಾವ ರಾಜನ ಬಗ್ಗೆ ಈ ಮಾತುಗಳು ಹೇಳಲ್ಪಟ್ಟಿವೆ?

- (1) ಮುಮ್ಮಡಿ ಕೃಷ್ಣ
- (2) ವಿಕ್ರಮಾದಿತ್ಯ
- (3) ಇಮ್ಮಡಿ ಪುಲಿಕೇಶಿ
- (4) ಇಮ್ಮಡಿ ಕೀರ್ತಿವರ್ಮ

20. "ಮಾನವನ ಮನಸ್ಸು, ಹೃದಯ ಮತ್ತು ಕೌಶಲಗಳು ಉದಾತ್ತ ಧೈಯ ಸಾಧನೆಗಾಗಿ ಒಂದಾಗಿ ಶ್ರಮಿಸಿರುವ ನಿದರ್ಶನವಿದೆಂದು," ವಿದ್ವಾಂಸ ಪಾರ್ಸಿಬ್ರೌನ್ ಯಾವುದನ್ನು ಕುರಿತು ಹೀಗೆ ಹೇಳಿದ್ದಾನೆ?

- (1) ಶ್ರವಣಬೆಳಗೊಳದ ಗೊಮ್ಮಟೇಶ
- (2) ಬೇಲೂರಿನ ಶಿಲಾಬಾಲಿಕೆಯರು
- (3) ಹಂಪಿಯ ಕಲ್ಲಿನರಥ
- (4) ಎಲ್ಲೋರದ ಕೈಲಾಸನಾಥ ದೇವಾಲಯ

21. ಅಮೇರಿಕಾದಲ್ಲಿ ಬೆಂಜಮಿನ್ ಫ್ರಾಂಕ್ಲಿನ್ ನ ನೇತೃತ್ವದಲ್ಲಿ ರಚಿಸಿದ ಪ್ರಪಂಚ ಪ್ರಸಿದ್ಧವಾದ 'ಅಮೇರಿಕಾದ ಸ್ವಾತಂತ್ರ್ಯ ಘೋಷಣೆ'ಯ (ಅಮೇರಿಕನ್ ಡಿಕ್ಲರೇಷನ್ ಆಫ್ ಇಂಡಿಪೆಂಡೆನ್ಸ್) ಪ್ರತಿಯನ್ನು ಅಪೇಕ್ಷಿಸಿ ಪಡೆದವರಲ್ಲಿ ಮೊದಲಿಗರು:

- (1) ನಾಲ್ವಡಿ ಕೃಷ್ಣರಾಜ ಒಡೆಯರ್
- (2) ಮುಮ್ಮಡಿ ಕೃಷ್ಣರಾಜ ಒಡೆಯರ್
- (3) ಟಿಪ್ಪೂಸುಲ್ತಾನ್
- (4) ಸರ್.ಎಂ. ವಿಶ್ವೇಶ್ವರಯ್ಯನವರು

22. ಬಸವಣ್ಣನ ಜೀವನ ಚರಿತ್ರೆಯನ್ನು ಮೊಟ್ಟಮೊದಲು ಬರೆದ ಕವಿ ಯಾರು? ಆ ಕೃತಿಯ ಹೆಸರೇನು?

- (1) ಹರಿಹರ - ಬಸವರಾಜ ದೇವರ ರಗಳೆ
- (2) ಚಾಮರಸ - ಪ್ರಭುಲಿಂಗ ಲೀಲೆ
- (3) ನಂಜುಂಡ ಕವಿ - ಬಸವ ಪುರಾಣ
- (4) ಪಾಲ್ಕುರಿಕೆ ಸೋಮನಾಥ - ಬಸವ ಪುರಾಣ

23. 'ಕನ್ನಡ ಕಾವಲು ಸಮಿತಿ' ಯಾವ ಮುಖ್ಯಮಂತ್ರಿಯ ಕಾಲದಲ್ಲಿ ಅಸ್ತಿತ್ವಕ್ಕೆ ಬಂದಿತು?

- (1) ಎಸ್. ಆರ್. ಬೊಮ್ಮಾಯಿ
- (2) ರಾಮಕೃಷ್ಣ ಹೆಗಡೆ
- (3) ಎಚ್.ಡಿ. ದೇವೇಗೌಡ
- (4) ಜೆ.ಎಚ್. ಪಾಟೀಲ್

24. 'ನಳಚರಿತೆ' ಯನ್ನು ಕನಕದಾಸನಿಗಿಂತ ಕನ್ನಡದಲ್ಲಿ ಮೊದಲು ರಚನೆ ಮಾಡಿರುವ ಮತ್ತೋರ್ವ ಕವಿ ಯಾರು?

- (1) ಚೌಡರಸ
- (2) ಭೀಮಕವಿ
- (3) ಪದ್ಮಪ್ರಭ
- (4) ಯಶಸ್ ಚಂದ್ರ

25. ತಾಳಬೇಕು ತಕ್ಕಮೇಳಬೇಕು ಶಾಂತವೇಳೆ ಬೇಕು ಗಾನಪಾಡುವಗೆ - ಈ ಸಾಲುಗಳ ಕೀರ್ತನೆಕಾರ ಯಾರು?

- (1) ಪುರಂದರದಾಸರು
- (2) ಕನಕದಾಸರು
- (3) ವಾದಿರಾಜ
- (4) ವ್ಯಾಸರಾಯ

26. ಗುಂಪಿನಲ್ಲಿರುವ ಬಿಡಿಸಲಾರದ ಪದ ಯಾವುದು?

- (1) ಕೈದು
- (2) ಎಣ್ಣೆ
- (3) ಬೆಣ್ಣೆ
- (4) ಬೇಲಿ

27. ಕೆಳಕಂಡ ಪದಗಳಲ್ಲಿ ಆದಿಪ್ರತ್ಯಯವಿರುವ ಪದ ಯಾವುದು?

- (1) ಮೆಚ್ಚುಗೆ
- (2) ಪ್ರಕೃತಿ
- (3) ನಡತೆ
- (4) ಬಡವ

28. 'ಕುರಿತೋದದಮುಂ ಕಾವ್ಯಪ್ರಯೋಗ ಪರಿಣಿರ ಮತಿಗಳ್' ಈ ಮಾತುಗಳು ಯಾವ ಕೃತಿಯಲ್ಲಿ ಬಂದಿದೆ?

- (1) ಕವಿರಾಜಮಾರ್ಗ
- (2) ವಡ್ಡಾರಾಧನೆ
- (3) ವಿಕ್ರಮಾರ್ಜುನ ವಿಜಯ
- (4) ಮಲೆಮಹದೇಶ್ವರ ಕಾವ್ಯ

29. ಉತ್ತರ ದ್ರಾವಿಡ ಭಾಷೆಗಳಲ್ಲಿ ಸೇರುವ ಭಾಷೆಗಳೆಂದರೆ :

- (1) ಕುಕು, ಕೊಲಾಮಿ, ಕೊಂಡ
- (2) ಕನ್ನಡ, ತೆಲುಗು, ತಮಿಳು
- (3) ಕುರುಖ್, ಮಾಲ್ತೋ, ಬ್ರಾಹೂಕು
- (4) ಸಂಸ್ಕೃತ, ಹಿಂದಿ, ಬಂಗಾಳಿ

30. "ಮಾನವನತ್ತರ ಆಗಸದೇರಿಗೆ  
ಏರುವವರೆಗೂ ಏರೇವು  
ಮಾನವ ಹೃದಯಕೆ ವಿಶ್ವ ವಿಶಾಲತೆ  
ಹಾಯುವವರೆಗೂ ಹಾದೇವು" - ನವೋದಯದ  
ಆಶಾವಾದವನ್ನು ಹೊಮ್ಮಿಸುವ  
ಈ ಪ್ರಸಿದ್ಧ ಕವನದ ಕರ್ತೃ:

- (1) ಕುವೆಂಪು
- (2) ದ.ರಾ.ಬೇಂದ್ರೆ
- (3) ಪು.ತಿ.ನ.
- (4) ವಿ.ಸೀತಾರಾಮಯ್ಯ

31. ಪಟ್ಟಿ-1 ಮತ್ತು ಪಟ್ಟಿ-2ನ್ನು ಹೋಲಿಸಿ ಕೆಳಗೆ  
ನೀಡಿರುವ ಉತ್ತರಗಳ ಗುಂಪಿನಲ್ಲಿ  
ಸರಿಹೊಂದುವುದನ್ನು ಗುರುತಿಸಿರಿ.

ಪಟ್ಟಿ - 1                      ಪಟ್ಟಿ - 2

- |                    |             |
|--------------------|-------------|
| A. ಸಾಹಸಭೀಮ<br>ವಿಜಯ | I. ಷಟ್‌ಪದಿ  |
| B. ಪ್ರಭುಲಿಂಗ ಲೀಲೆ  | II. ಕಂದ     |
| C. ಭರತೇಶ ವೈಭವ      | III. ಚಂಪೂ   |
| D. ಶಬ್ದಮಣಿದರ್ಪಣ    | IV. ಸಾಂಗತ್ಯ |

ಸರಿ ಉತ್ತರವನ್ನು ಆರಿಸಿರಿ :

- |     |     |     |     |     |
|-----|-----|-----|-----|-----|
|     | A   | B   | C   | D   |
| (1) | II  | IV  | III | I   |
| (2) | IV  | II  | I   | III |
| (3) | III | I   | IV  | II  |
| (4) | I   | III | II  | IV  |

32. ಕರ್ನಾಟಕದಲ್ಲಿ ಅಶೋಕನ ಶಾಸನಗಳು  
ದೊರಕಿರುವ ಸ್ಥಳಗಳು:

- (1) ಪಟ್ಟದ ಕಲ್ಲು, ಮಾಸ್ತಿ, ತಾಳಗುಂದ
- (2) ಕೊಪ್ಪಳ, ಬಾದಾಮಿ, ಬೇಲೂರು
- (3) ಆತಕೂರು, ಸಿದ್ದಾಪುರ, ಐಹೊಳೆ
- (4) ಜತಿಂಗ ರಾಮೇಶ್ವರ, ಮಾಸ್ತಿ, ಬ್ರಹ್ಮಗಿರಿ

33. ಬನವಾಸಿ ಯಾವ ತಾಲ್ಲೂಕಿನಲ್ಲಿದೆ. ಅಲ್ಲಿನ  
ಪ್ರಸಿದ್ಧ ದೇವಾಲಯ ಯಾವುದು?

- (1) ಸಾಗರ ತಾಲ್ಲೂಕು - ಮಹಾಲಿಂಗೇಶ್ವರ  
ದೇವಾಲಯ
- (2) ಸಿರಸಿ ತಾಲ್ಲೂಕು - ಮಧುಕೇಶ್ವರ  
ದೇವಾಲಯ
- (3) ಹಾವೇರಿ ತಾಲ್ಲೂಕು - ಪಶುಪತಿನಾಥ  
ದೇವಾಲಯ
- (4) ಹಾನಗಲ್ ತಾಲ್ಲೂಕು - ಚಿತ್ರಕೂಬೇಶ್ವರ  
ದೇವಾಲಯ

34. 'ಪಂಪಾಯಾತ್ರಿ' ಯಾರ ಪ್ರವಾಸ ಕಥನ?

- (1) ವಿ.ಕೃ.ಗೋಕಾಕ್
- (2) ವಿ. ಸೀತಾರಾಮಯ್ಯ
- (3) ಗೋರೂರ ರಾಮಸ್ವಾಮಿ ಅಯ್ಯಂಗಾರ್
- (4) \*ವರಾಮಕಾರಂತ

35. ಚಂದ್ರಶೇಖರ ಕಂಬಾರರಿಗೆ ಕೇಂದ್ರ ಸಾಹಿತ್ಯ  
ಅಕಾಡೆಮಿ ಪ್ರಶಸ್ತಿ ದೊರಕಿಸಿಕೊಟ್ಟ ಕೃತಿ \_\_\_\_\_

- (1) ಸಿರಿಸಂಪಿಗೆ
- (2) ಕರಿಮಾಯಿ
- (3) ಬೆಳ್ಳಿಮೀನು
- (4) ಸಾವಿರದ ನೆರಳು

## GENERAL ENGLISH

**Directions :** For Questions no. 36 to 38, an idiom or phrase has been used in the sentence. You have to choose the sentence which explains the correct meaning of that and shade/darken the correct answer in your answer sheet.

*Example :*

Tejas attends Karate classes once in a blue moon.

- (1) Tejas attends Karate classes regularly.
- (2) Tejas attends Karate classes rarely.
- (3) Tejas attends Karate classes fortnightly.
- (4) Tejas attends Karate classes frequently but not regularly.

*Explanation :*

The answer is Option (2) as the underlined part means 'rare occurrence of something'. So you have to choose Option (2) and shade/darken the corresponding answer in your answer sheet for this example.

36. The Managing Director announced that he was quitting because he does not want to be an executive in a lame duck.

- 1) The Managing Director announced that he was quitting because he does not want to work in a position where no one else can match his calibre.
- 2) The Managing Director announced that he was quitting because he does not want to work in an organization where he is not drawing the salary commensurate to his competence.
- 3) The Managing Director announced that he was quitting because he does not want to involve himself in the unfair business model of the organization.
- 4) The Managing Director announced that he was quitting because he does not want to be an executive who is disabled and unsuccessful in the organization.

37. He had to kick his heels for nearly an hour when he went to that firm for an interview.

- 1) He had to wait and pass the time aimlessly for an hour when he went to that firm for an interview.
- 2) He had to negotiate his terms and conditions for working for an hour when he went to that firm for interview.
- 3) He had to discuss his salary and perks for an hour when he went to that firm for an interview.
- 4) He had to face the group discussion for around an hour when he went to that firm for an interview.



38. Now the management has understood that the new employee is **diamond in the rough**.

- 1) Now the management has understood that the new employee may be competitive but couldn't undertake the task and finish it.
- 2) Now the management has come to know that the new employee is good at heart and the competence doesn't matter.
- 3) Now the management has realized that the new employee is a rich fellow and working as he wants to sharpen his skills.
- 4) Now the management has realized that the new employee has exceptional qualities when it comes to work and he is really an asset to the company.

**Directions :** Questions no. 39 to 42 are based on completion of idioms. Fill in the blanks with the most appropriate word/words from the given alternatives and shade/blacken the corresponding circle accordingly in your answer sheet.

*Example :*

Birds of a feather \_\_\_\_\_ .

- (1) fly in a formation
- (2) flock together
- (3) fly high
- (4) flock in wilderness

*Explanation :*

Since Option (2) is the correct choice for the above question, shade/blacken Option (2) in your answer sheet for this example.

39. Let bygones \_\_\_\_\_ .

- 1) be bygones
- 2) come upon
- 3) move on
- 4) hang on

40. Jack of all trades master \_\_\_\_\_ .

- 1) of one
- 2) of none
- 3) to be done
- 4) of someone

41. A thing of beauty is \_\_\_\_\_ .

- 1) an eternal glimmer
- 2) a joy forever
- 3) a diamond
- 4) so good to hear

42. All roads lead \_\_\_\_\_ .

- 1) to home
- 2) to Rome
- 3) everywhere
- 4) to nowhere

**Directions :** In Questions no. 43 to 46, each question contains a paragraph of 6 sentences. The first and the sixth sentences are given in the beginning and end and numbered 1 and 6 respectively. The four sentences in the middle are jumbled and labelled P, Q, R and S. You must identify the proper order of these four sentences and shade/blacken the option that correctly identifies this sequence.

*Example :*

1. Once upon a time there lived a king.
- P. One day while hunting he was attacked by a tiger.
- Q. He had three ferocious hunting dogs.
- R. The dogs pounced on the tiger and saved the king's life.
- S. The king used to take them with him while going out.
6. He loved them till the end of his life.

The correct sequence is

- (1) P Q S R
- (2) R Q S P
- (3) Q S P R
- (4) S R Q P

*Explanation :*

The correct sequence or order in this example is QSPR. So you have to shade/blacken Option (3) in your answer sheet.

- 43.
1. There are various rights of a banker.
  - P. These have been vested by the law of the country.
  - Q. The account holder is authorized to operate the account through a third person, in addition to himself, by suitable authority for one-time basis and/or also for various functions through a power of attorney.
  - R. Such rights and obligations under the special relationship are mandates and power of attorney.
  - S. Along with the rights, there are certain obligations too which a banker is required to fulfil.
  6. Such power of attorney is either general or special in nature.
- 1) SPRQ
  - 2) RQPS
  - 3) RSPQ
  - 4) SPQR

44. 1. Agents and corporate agents are key distribution channels to any insurer.

P. Towards this, the IRDA has prescribed minimum educational qualifications at the point of entry and practical training followed by an examination.

Q. Development of these agencies must be on the best professional lines.

R. IRDA has also lowered the required minimum educational qualification for rural agents to pass in the tenth standard examination.

S. To aid the growth of insurance selling in rural and non-urban centres, compulsory targets which individual insurers are required to fulfil have been prescribed.

6. It has also encouraged the Insurance Institute of India to conduct qualifying examination for the agents and to bring out books and training material in various vernacular languages.

1) PQSR

2) QSRP

3) QSPR

4) QPSR

45. 1. The fox and the crane were friends for a long time.

P. She served the food in a beaker to the fox. The fox could not eat it because the beaker was having a cylindrical neck which was very high.

Q. The crane could not eat the food because of its long beak. The next day it was the crane's turn to host a lunch for the fox.

R. But the fox wanted to show that he was cleverer than the crane.

S. So one day he invited the crane for a dinner and served the food on the plate.

6. The fox realized his mistake, put down his head in shame and went away.

1) SRQP

2) RSQP

3) SQPR

4) RSPQ

46. 1. Unemployment is a burning problem and a big challenge for the country today.

P. They do not get proficiency in technical line.

Q. The result is youth of our country roam around without any job.

R. Our universities produce more job seekers than jobs available in the country.

S. Young men and women mostly want office jobs.

6. The incidents of thefts and other unsocial acts are due to unemployment.

1) SPRQ

2) RQSP

3) RSPQ

4) RQPS

**Directions :** In Questions no. 47 to 50, there are sentences which are divided and numbered into three parts, and one of the parts may contain an error. Identify the error by (1), (2) or (3) given under the parts of the sentence. If there are no errors, mark (4) No error. Shade/blacken the corresponding circle in your answer sheet.

*Example :*

Neither he nor his team  
 (1) (2)  
were present that day. No error.  
 (3) (4)

*Explanation :*

The correct answer in this case is Option (3). It should be "was present that day". So you must shade/blacken Option (3) for this question in your answer sheet.

47. None of the six qualifiers  
 (1)  
who have been given a chance  
 (2)  
to join this team play confidently.  
 (3)  
 No error.  
 (4)

48. Not only the doctor but also the nurses  
 (1)  
of this nursing home is very kind  
 (2)  
and helpful to the attendants. No error.  
 (3) (4)

49. The lawyers face the  
 (1)  
same problems in their day-to-day lives  
 (2)  
as do an ordinary man of our society.  
 (3)  
 No error.  
 (4)

50. If Mahatma Gandhi  
 (1)  
was alive he would start weeping  
 (2)  
to see the present condition of India.  
 (3)  
 No error.  
 (4)

**Directions :** For Questions no. 51 to 53, a passage has been given. In the passage, some of the words have been left out. You have to read the passage and try to understand what it is about. Then fill in the blanks with the help of the options given below it and shade/darken the appropriate circle in your answer sheet.

Suddenly, Royal Challengers Bangalore (RCB) lost wickets in a heap. Chris Gayle went followed by Virat Kohli and A.B. de Villiers. Another collapse seemed (51). Watson batted on to reach 88, his highest T20 International score to date. Then, as if it was scripted, he fell to Zaheer Khan in the last over of the match, with Maxwell pulling off an acrobatic catch behind the stumps. The stadium (52). Every spectator around the Kotla Stadium was on his feet, applauding and cheering Watson as he walked (53) like a gladiator who's just won another battle.

51. What is the correct answer for the Blank (51) ? Select from the options given below.

- 1) doubtful
- 2) menacing
- 3) imminent
- 4) throwing

52. What is the correct answer for the Blank (52) ? Select from the options given below.

- 1) exploded
- 2) disabled
- 3) crunched
- 4) wrecked

53. What is the correct answer for the Blank (53) ? Select from the options given below.

- 1) in
- 2) off
- 3) on
- 4) along

54. Match the following sentences with the figures of speech used in them :

- A. He was faster than the speed of light.
- B. Life is like a box of chocolates; you never know what you're going to get.
- C. War is peace. Ignorance is strength. Freedom is slavery.
- D. The tree quaked with fear as the wind approached.

Figures of Speech :

- I. Similie
- II. Oxymoron
- III. Personification
- IV. Oxymoron
- V. Metaphor

Select the code for the correct answer from the options given below:

- |    | A  | B  | C   | D   |
|----|----|----|-----|-----|
| 1) | I  | II | V   | III |
| 2) | II | I  | IV  | III |
| 3) | V  | I  | III | IV  |
| 4) | V  | I  | IV  | III |

55. Add a suitable question tag to the sentence given below.

"The laws are certainly in favour of the particular class."

- 1) aren't they ?
- 2) are they ?
- 3) isn't it ?
- 4) is it ?

**Directions :** For Questions no. 56 and 57, in each of the following questions, a sentence has been given in direct/indirect speech. Out of the four alternatives suggested, select the one which best expresses the same sentence in indirect/direct speech and shade/blacken the corresponding circle in your answer sheet.

56. Rajesh said, 'I bought a car yesterday.'
- (1) Rajesh said that I have bought a car the previous day.
  - (2) Rajesh told that he had bought a car yesterday.
  - (3) Rajesh said that he bought a car the previous day.
  - (4) Rajesh said that he had bought a car the previous day.
57. The teacher said, 'Be quiet boys.'
- (1) The teacher said that the boys should be quiet.
  - (2) The teacher called the boys and ordered them to be quiet.
  - (3) The teacher urged the boys to be quiet.
  - (4) The teacher commanded the boys that they be quiet.

**Directions :** Questions no. 58 to 61 consist of sentences with a blank in each. You have to choose the best answer which can be filled in the blank space and shade/blacken the corresponding circle in your answer sheet.

58. The earthquake \_\_\_\_\_ the people so suddenly that they had no time to rush out of their homes.
- (1) came out
  - (2) broke out
  - (3) came upon
  - (4) come on

59. My brother not only has principles but is capable of \_\_\_\_\_ for them.
- (1) standing up
  - (2) standing on
  - (3) standing with
  - (4) standing upon

60. As the girl was beautiful, the suitor could not \_\_\_\_\_ his eyes from her.
- (1) take of
  - (2) take after
  - (3) take off
  - (4) take with
61. If one works very very hard, day and night, it will \_\_\_\_\_ one's health.
- (1) tell on
  - (2) tell to
  - (3) tell upon
  - (4) tell out

**Directions :** For Questions no. 62 and 63, a sentence has been given in Active or Passive voice, out of the four alternatives suggested, select the one which best expresses the same sentence in Passive or Active voice and shade/blacken the corresponding circle in your answer sheet.

62. I saw him conducting the rehearsal.
- (1) He was seen conducting the rehearsal.
  - (2) I saw the rehearsal to be conducted by him.
  - (3) He was seen by me to conduct the rehearsal.
  - (4) I saw the rehearsal being conducted by him.

63. His pocket has been picked.
- (1) They have picked his pocket.
  - (2) Picking has been done to his pocket.
  - (3) Picked has been his pocket.
  - (4) Someone has picked his pocket.
64. What is the synonym of Conjecture ?
- (1) Grave
  - (2) Outward
  - (3) Guess
  - (4) Claim
65. What is the synonym of Admonish ?
- (1) Warn
  - (2) Cajole
  - (3) Encourage
  - (4) Abdicate
66. What is the antonym of Exodus ?
- (1) Influx
  - (2) Home-coming
  - (3) Return
  - (4) Restoration

**Directions :** Read the following passage and answer the items that follow (Questions no. 67 to 70). Your answers to these items should be based on the passage only.

#### Passage

Anthropologist Edward Hall identified two distinct ways in which members of various cultures deliver messages. A low-context culture uses language primarily to express thoughts, feelings, and ideas as clearly and logically as possible. To low-context communicators, the meaning of a statement is in the words spoken. By contrast, a high-context culture relies heavily on subtle, often non-verbal cues to convey meaning, save face, and maintain social harmony. Communicators in these societies learn to discover meaning from the context in which a message is delivered including the non-verbal behaviours of the speaker, the history of the relationship, and the general social rules that govern interaction between people. When delivering difficult or awkward messages, high-context speakers from countries including

India, Japan and Korea often convey meaning through context rather than plainly stated words to avoid upsetting their listeners. Mainstream culture in the United States and Canada falls toward the low-context end of the scale. Long-time residents generally value straight talk and grow impatient with "beating around the bush". By contrast, most Middle Eastern and Asian cultures fit the high-context pattern. In many Asian societies, for example, maintaining harmony is important, so communicators avoid speaking directly if that would threaten another person's dignity.

67. What are the aspects that are taken into consideration by high-context cultures in their communication ?
- A. The non-verbal behaviours of the speaker.
  - B. The history of the relationship.
  - C. Plainly stated words without context and non-verbal cues.
  - D. The general social rules that govern interaction between people.
- (1) A, C and B
  - (2) B, C and D
  - (3) A, B and D
  - (4) A, C and D
68. What does not come under a major concern of low-context cultures ?
- (1) Language
  - (2) Vocabulary
  - (3) Non-verbal cues
  - (4) Words
69. Who contributed to the study of high and low context cultures ?
- (1) Jacques Derrida
  - (2) Edward Hall
  - (3) Jacques Lacan
  - (4) Edward Said
70. Which among the following is not a country that relies on high-context cultures ?
- (1) India
  - (2) USA
  - (3) Japan
  - (4) Korea

**COMPUTER KNOWLEDGE**

71. 0 ರಿಂದ 100 ನಡುವಿನ ಎಲ್ಲಾ ಸಂಖ್ಯೆಗಳು ಕೆಂಪು ಬಣ್ಣದಲ್ಲಿ ಪ್ರದರ್ಶಿಸಲು? ಕೆಳಗಿನವುಗಳಲ್ಲಿ ಯಾವುದನ್ನು ಎಂಎಸ್ ಎಕ್ಸ್‌ಎಲ್‌ನಲ್ಲಿ ಬಳಸಬಹುದು?

- A. ಅಗತ್ಯವಾದ ಸಂಖ್ಯೆಗಳನ್ನು ಕೆಂಪು ರೂಪಿಸಲು =if() ಬಳಸಿ.
- B. ಫಾರ್ಮ್ಯಾಟ್ ಮೆನುವಿನಲ್ಲಿ ಷರತ್ತುಬದ್ಧ ಫಾರ್ಮ್ಯಾಟಿಂಗ್ ಕಮಾಂಡ್ ಅನ್ನು ಅನ್ವಯಿಸಿ.
- C. 0 ರಿಂದ 100 ರವರೆಗಿನ ಸಂಖ್ಯೆಯನ್ನು ಹೊಂದಿರುವ ಸೆಲ್‌ಗಳನ್ನು ಆಯ್ಕೆ ಮಾಡಿ ನಂತರ ಪಠ್ಯ ಬಣ್ಣ ಉಪಕರಣದ ಮೇಲೆ ಕೆಂಪು ಬಣ್ಣವನ್ನು ಕ್ಲಿಕ್ ಮಾಡಿ.

ಮೇಲಿನ ಯಾವ ಆಯ್ಕೆಯು ಸರಿಯಾಗಿದೆ ?

ಕೆಳಗಿನ ಆಯ್ಕೆಗಳಿಂದ ಸರಿಯಾದ ಉತ್ತರಕ್ಕಾಗಿ ಕೋಡ್ ಅನ್ನು ಆಯ್ಕೆ ಮಾಡಿ:

- (1) A ಮತ್ತು B ಮಾತ್ರ
- (2) B ಮತ್ತು C ಮಾತ್ರ
- (3) B ಮಾತ್ರ
- (4) A, B ಮತ್ತು C

72. ವಿಶೇಷ ಆಜ್ಞೆಯನ್ನು ಬಳಸುವುದರಿಂದ ಅಂಟಿಸಿ ನೀವು ಯಾವುದಾದರೂ ಆಯ್ಕೆ ಅಂಟಿಸಬಹುದು?

- A. ಕ್ರಮಬದ್ಧಗೊಳಿಸುವಿಕೆ (Validation)
- B. ಸ್ವರೂಪಗಳು ( Formats)
- C. ಫಾರ್ಮುಲಾ (Formula )

ಕೆಳಗಿನ ಆಯ್ಕೆಗಳಿಂದ ಸರಿಯಾದ ಉತ್ತರಕ್ಕಾಗಿ ಕೋಡ್ ಅನ್ನು ಆಯ್ಕೆ ಮಾಡಿ :

- (1) A ಮಾತ್ರ
- (2) A ಮತ್ತು B ಮಾತ್ರ
- (3) A ಮತ್ತು C ಮಾತ್ರ
- (4) A, B ಮತ್ತು C

73. ನೀವು ಮೊದಲ ಮತ್ತು ಎರಡನೆಯ ಸ್ಲೈಡ್ ಅನ್ನು ಆಯ್ಕೆ ಮಾಡಿದರೆ ಮತ್ತು ಮೈಕ್ರೋಸಾಫ್ಟ್ ಪವರ್ ಪಾಯಿಂಟ್ ಟೂಲ್ ಬಾರ್ ನ ಮೇಲೆ ಹೊಸ ಸ್ಲೈಡ್ ಬಟನ್‌ನನ್ನು ನಂತರ ಕ್ಲಿಕ್ ಮಾಡಿದರೆ ಏನಾಗುತ್ತದೆ?

- (1) ಪ್ರಸ್ತುತಿಯಲ್ಲಿ ಮೊದಲ ಸ್ಲೈಡ್ ಆಗಿ ಹೊಸ ಸ್ಲೈಡ್ ಅನ್ನು ಸೇರಿಸಲಾಗುತ್ತದೆ
- (2) ಹೊಸ ಸ್ಲೈಡ್ ಅನ್ನು ಪ್ರಸ್ತುತಿಯಲ್ಲಿ ಎರಡನೇ ಸ್ಲೈಡ್ ಆಗಿ ಸೇರಿಸಲಾಗುತ್ತದೆ
- (3) ಹೊಸ ಸ್ಲೈಡ್ ಅನ್ನು ಪ್ರಸ್ತುತಿಯಲ್ಲಿ ಮೂರನೇ ಸ್ಲೈಡ್ ಆಗಿ ಸೇರಿಸಲಾಗುತ್ತದೆ
- (4) ಎಲ್ಲಿಯೂ ಸ್ಲೈಡ್ ಆಯ್ಕೆ ಸೇರುವುದಿಲ್ಲ ಮತ್ತು ದೋಷದ ಸಂದೇಶವನ್ನು ಪ್ರದರ್ಶಿಸುವಾಗ ಒಂದು ಪಾಪ್‌ಅಪ್ ನ್ನು ಫಾಲ್ಸ್ ಮಾಡಲಾಗುತ್ತದೆ.

74. ಫೈಲ್ ಪ್ರಕಾರ (ಪಟ್ಟಿ II) ನೊಂದಿಗೆ ಫೈಲ್ ವಿಸ್ತರಣೆಗಳನ್ನು (ಪಟ್ಟಿ I) ಹೊಂದಿಕೆ ಮಾಡಿ :

ಪಟ್ಟಿ I	ಪಟ್ಟಿ II
(ಫೈಲ್	(ಫೈಲ್ ಪ್ರಕಾರ)

ವಿಸ್ತರಣೆಗಳನ್ನು)

A. .srs	I. ಮೂಲ ಸಂಪನ್ಮೂಲ ಸ್ಕ್ರಿಪ್ಟ್ ಫೈಲ್
B. .src	II. ಸ್ಕ್ರಿನ್ ಸಂಪನ್ಮೂಲ ಸ್ಕ್ರಿಪ್ಟ್ ಫೈಲ್
C. .xltx	III. ಎಕ್ಸೆಲ್ ವರ್ಕ್ ಬುಕ್
D. .xlsx	IV. ಎಕ್ಸೆಲ್ ಟೆಂಪ್ಲೇಟ್
E. .ttf	V. ಗ್ಯಾಲರಿಗಾಗಿ ಶೇಖರಣಾ ಫೈಲ್
F. .thm	VI. ಫಾಂಟ್ ಫೈಲ್

ಸಂಕೇತಗಳ ಸಹಾಯದಿಂದ ಸರಿ ಉತ್ತರಗಳನ್ನು ಆರಿಸಿ :

	<b>A</b>	<b>B</b>	<b>C</b>	<b>D</b>	<b>E</b>	<b>F</b>
(1)	I	II	III	IV	V	VI
(2)	II	I	IV	III	VI	V
(3)	I	II	IV	III	V	VI
(4)	II	I	III	IV	VI	V



## COMPUTER KNOWLEDGE

71. All the numbers between 0 to 100 have to be displayed in red colour. Which of the following may be used to do that in MS Excel ?
- Use =if() function to Format the required numbers red.
  - Apply Conditional Formatting Command on Format Menu.
  - Select the cells that contain numbers between 0 to 100 then click red colour on text colour tool.

Which of the options given above is/are correct ?

Select the code for the correct answer from the options given below :

- A and B only
- B and C only
- B only
- A, B and C

72. Which of the following can you paste selectively using Paste Special Command ?

- Validation
- Formats
- Formula

Select the code for the correct answer from the options given below :

- A only
- A and B only
- A and C only
- A, B and C

73. What happens if you select the first and second slides and then click on the New Slide button on toolbar in Microsoft PowerPoint ?

- A new slide is inserted as first slide in presentation.
- A new slide is inserted as second slide in presentation.
- A new slide is inserted as third slide in presentation.
- No slide will be inserted anywhere and a pop-up will be flashed displaying an error message.

74. Match the file extensions (List I) with the type of the file (List II) :

<i>List I</i> (File Extension)	<i>List II</i> (Type of File)
A. .srs	I. Source Resource String file
B. .src	II. Screen Resource String file
C. .xltx	III. Excel workbook
D. .xlsx	IV. Excel template
E. .ttf	V. Storage file for gallery
F. .thm	VI. Font file

Select the code for the correct answer from the options given below :

	A	B	C	D	E	F
(1)	I	II	III	IV	V	VI
(2)	II	I	IV	III	VI	V
(3)	I	II	IV	III	V	VI
(4)	II	I	III	IV	VI	V

75. ಕಂಪ್ಯೂಟರ್ ಸಿಸ್ಟಮ್ ಕೋಲ್ಡ್ ಬೂಟ್ ಯಾವುದು ?

- (1) ಕಂಪ್ಯೂಟರ್ ಅನ್ನು ಆಫ್ ಮಾಡಲಾಗಿದೆ ಮತ್ತು ನಂತರ ಕಂಪ್ಯೂಟರ್ಗೆ ವಿದ್ಯುತ್ ಸರಬರಾಜು ಅಡಚಣೆಯಾದಾಗ ಮತ್ತೆ ತಿರುಗುತ್ತದೆ.
- (2) ಕಂಪ್ಯೂಟರ್ ಅನ್ನು ಆಫ್ ಮಾಡಲಾಗಿದೆ ಮತ್ತು ಕಂಪ್ಯೂಟರ್ಗೆ ವಿದ್ಯುತ್ ಸರಬರಾಜು ಅಡಚಣೆಯಾದಾಗ ಮತ್ತೆ ತಿರುಗುತ್ತದೆ.
- (3) ಗಣಕಕ್ಕೆ ವಿದ್ಯುತ್ ಸರಬರಾಜು ಅಡಚಣೆಯಾದಾಗ ಕಂಪ್ಯೂಟರ್ ಪ್ರೋಗ್ರಾಂ ವ್ಯವಸ್ಥೆಯಿಂದ ಆಸ್ತಾಪಿಸಲ್ಪಡುತ್ತದೆ.
- (4) ಗಣಕಕ್ಕೆ ವಿದ್ಯುತ್ ಸರಬರಾಜು ಅಡಚಣೆಯಾದಾಗ ಕಂಪ್ಯೂಟರ್ ಪ್ರೋಗ್ರಾಂ ವ್ಯವಸ್ಥೆಯಿಂದ ಪುನಃ ಸ್ಥಾಪಿಸಲ್ಪಡುತ್ತದೆ.

76. ವರ್ಡ್ ಡಾಕ್ಯುಮೆಂಟ್ನಲ್ಲಿ ಎಕ್ಸ್‌ಲೆ ವರ್ಕ್‌ಶೀಟ್ ಡೇಟಾವನ್ನು ಎಂಬೆಡ್ ಮಾಡಲು ಎಳೆಯಿರಿ ಮತ್ತು ಡ್ರಾಪ್ ಅನ್ನು ನೀವು ಬಳಸಬಹುದು

- (1) Ctrl ಕೀಲಿಯನ್ನು ಒತ್ತುವಾಗ ಟಾಸ್ಕ್ ಬಾರ್‌ನಲ್ಲಿನ ವರ್ಡ್ ಬಟನ್‌ಗೆ ಎಕ್ಸ್‌ಲೆ ಡೇಟಾವನ್ನು ಶ್ರೇಣಿಯನ್ನು ಡೇಟಾವನ್ನು ಎಳೆಯುವ ಮೂಲಕ
- (2) ಶಿಫ್ಟ್ ಕೀಲಿಯನ್ನು ಒತ್ತಿದಾಗ ಟಾಸ್ಕ್ ಬಾರ್‌ನಲ್ಲಿನ ವರ್ಡ್ ಬಟನ್‌ಗೆ ಶ್ರೇಣಿಯ ಡೇಟಾವನ್ನು ಎಳೆಯುವುದರ ಮೂಲಕ
- (3) Alt ಕೀಲಿಯನ್ನು ಒತ್ತುವ ಸಂದರ್ಭದಲ್ಲಿ ಟಾಸ್ಕ್ ಬಾರ್‌ನಲ್ಲಿನ ವರ್ಡ್ ಬಟನ್‌ಗೆ ಎಕ್ಸ್‌ಲೆ ಡೇಟಾಶ್ರೇಣಿಯನ್ನು ಎಳೆಯುವ ಮೂಲಕ
- (4) ಮೇಲಿನ ಯಾವುದೂ ಇಲ್ಲ

77. ಕಂಪ್ಯೂಟರ್ ಪೀಳಿಗೆಯ (ಪಟ್ಟಿ I) ಮತ್ತು ಅವರ ಗಣಕದಲ್ಲಿ ಬಳಸಿದ ವ್ಯವಸ್ಥೆಗಳು (ಪಟ್ಟಿ II) ಹೊಂದಿಸಿ ಬರೆಯಿರಿ :

ಪಟ್ಟಿ I	ಪಟ್ಟಿ II
(ಕಂಪ್ಯೂಟರ್ ಪೀಳಿಗೆಯ)	(ಗಣಕದಲ್ಲಿ ಬಳಸಿದ ವ್ಯವಸ್ಥೆಗಳು)

- |            |                                      |
|------------|--------------------------------------|
| A. ಪ್ರಥಮ   | I. ಡಯೋಡ್‌ಗಳು ಮತ್ತು ಪ್ರಾನ್ಸಿಸ್ಟರ್‌ಗಳು |
| B. ದ್ವಿತೀಯ | II. ಮೈಕ್ರೋಪ್ರೊಸೆಸರ್‌ಗಳು              |
| C. ತ್ರಿತೀಯ | III. ಇಂಟಿಗ್ರೇಟೆಡ್ ಸರ್ಕ್ಯೂಟ್ಸ್        |
| D. ನಾಲ್ಕನೇ | IV. ನಿರ್ವಾಹಕ ಟ್ಯೂಬ್‌ಗಳು              |

ಸಂಕೇತಗಳ ಸಹಾಯದಿಂದ ಸರಿ ಉತ್ತರಗಳನ್ನು ಆರಿಸಿ :

	A	B	C	D
(1)	II	IV	III	I
(2)	II	III	IV	I
(3)	IV	III	I	II
(4)	IV	I	III	II

78. ಈ ಕೆಳಗಿನ ಹೇಳಿಕೆಗಳನ್ನು ಪರಿಗಣಿಸಿ :

- A. ಜಾವಾ ಪ್ರೋಗ್ರಾಮಿಂಗ್ ಲ್ಯಾಂಗ್ವೇಜ್ ಅನ್ನು ಜೇಮ್ಸ್ ಗೊಸ್ಲಿಂಗ್ ಸೃಷ್ಟಿಸಿದರು.
- B. ಸಿ ಭಾಷೆಯನ್ನು ಡೆನ್ನಿಸ್ ರಿಚೀ ಮೊದಲ ಬಾರಿಗೆ ಅಭಿವೃದ್ಧಿಪಡಿಸಿದರು.
- C. ಸಿ++ ಪ್ರೋಗ್ರಾಮಿಂಗ್ ಭಾಷೆ ಅನ್ನು ಬಾರ್ನ್ ಸ್ಟ್ರಾನ್ಸ್‌ಅವ್ ಅಭಿವೃದ್ಧಿಪಡಿಸಿದರು.
- D. ಫಾರ್ಟ್ರಾನ್ ಭಾಷೆಯನ್ನು ಜಾನ್ ಬ್ಯಾಕಸ್ ವಿನ್ಯಾಸಗೊಳಿಸಿದರು.

ಮೇಲಿನ ಯಾವ ಹೇಳಿಕೆಗಳು ಸರಿಯಾಗಿವೆ ?

ಕೆಳಗಿನ ಅಯ್ಯುಗಳಿಂದ ಸರಿಯಾದ ಉತ್ತರಕ್ಕಾಗಿ ಕೋಡ್ ಅನ್ನು ಆಯ್ಕೆ ಮಾಡಿ :

- (1) C ಮತ್ತು D ಮಾತ್ರ
- (2) A, B ಮತ್ತು C ಮಾತ್ರ
- (3) A, C ಮತ್ತು D ಮಾತ್ರ
- (4) A, B, C ಮತ್ತು D

75. What is cold boot of the computer system ?

- (1) A computer is turned off and then turned back on when the power supply to the computer is interrupted.
- (2) The computer's operating system is changed.
- (3) A computer program is uninstalled from the system when the power supply to the computer is interrupted.
- (4) A computer program is reinstalled from the system when the power supply to the computer is interrupted.

76. You can use drag-and-drop to embed Excel worksheet data in a Word document

- (1) By dragging a range of Excel data to the Word button on the taskbar while pressing the Ctrl key.
- (2) By dragging a range of Excel data to the Word button on the taskbar while pressing the Shift key.
- (3) By dragging a range of Excel data to the Word button on the taskbar while pressing the Alt key.
- (4) None of the above

77. Match the generation of computers (List I) with the systems used in the machine (List II) :

*List I*  
(Generation of  
Computers)

*List II*  
(Systems used in  
the machine)

- |           |                           |
|-----------|---------------------------|
| A. First  | I. Diodes and transistors |
| B. Second | II. Microprocessors       |
| C. Third  | III. Integrated Circuits  |
| D. Fourth | IV. Vacuum tubes          |

Select the code for the correct answer from the options given below :

- |     | <b>A</b> | <b>B</b> | <b>C</b> | <b>D</b> |
|-----|----------|----------|----------|----------|
| (1) | II       | IV       | III      | I        |
| (2) | II       | III      | IV       | I        |
| (3) | IV       | III      | I        | II       |
| (4) | IV       | I        | III      | II       |

78. Consider the following statements :

- A. Java programming language was created by James Gosling.
- B. C language was developed by Dennis Ritchie for the first time.
- C. C++ programming language was developed by Bjarne Stroustrup.
- D. FORTRAN language was designed by John Backus.

Which of the statements given above are correct ?

Select the code for the correct answer from the options given below :

- (1) C and D only
- (2) A, B and C only
- (3) A, C and D only
- (4) A, B, C and D

79. ASCII ಮತ್ತು EBCDIC ಗಳು ಜನಪ್ರಿಯ ಅಕ್ಷರ ಎನ್ಕೋಡಿಂಗ್ ಸಂಕೇತಗಳಾಗಿವೆ ಮತ್ತು ಅವುಗಳು ಪೂರ್ಣ ರೂಪಗಳನ್ನು ಕೆಳಗೆ ನೀಡಲಾಗಿದೆ

- A. ASCII - ಅಮೇರಿಕನ್ ಸ್ಟ್ಯಾಂಡರ್ಡ್ ಕೋಡ್ ಫಾರ್ ಇನ್ಫಾರ್ಮೇಶನ್ ಇಂಟರ್ಚೇಂಜ್  
 B. EBCDIC - ಎಕ್ಸ್‌ಟೆಂಡೆಡ್ ಬೈನರಿ ಕೋಡೆಡ್ ಡೆಸಿಮಲ್ ಇಂಟರ್ಚೇಂಜ್ ಕೋಡ್

ಮೇಲಿನ ಯಾವುದು ಸರಿಯಾಗಿದೆ ?

ಕೆಳಗಿನ ಆಯ್ಕೆಯಿಂದ ಸರಿಯಾದ ಉತ್ತರಕ್ಕಾಗಿ ಕೋಡ್ ಅನ್ನು ಆಯ್ಕೆ ಮಾಡಿ :

- (1) A ಮಾತ್ರ  
 (2) B ಮಾತ್ರ  
 (3) A ಮತ್ತು B ಎರಡು  
 (4) A ಆಗಲೀ ಅಥವಾ B ಆಗಲೀ ಅಲ್ಲ

80. ಈ ಕೆಳಗಿನ ಯಾವುದು/ಎಕ್ಸ್‌ಪ್ರೆಸ್ ನಲ್ಲಿ AVERAGE ಕಾರ್ಯವನ್ನು ಉಪಯೋಗಿಸಲು ಸರಿಯಾದ ವಿಧಾನ/ಗಳು ಯಾವುವು?

- A. =AVERAGE(4, 5, 6, 7)  
 B. =AVERAGE(A1, B1, C1)  
 C. =AVERAGE(A1:A9, B1:B9)

ಕೆಳಗಿರುವ ಆಯ್ಕೆಗಳಿಂದ ಸರಿಯಾದ ಉತ್ತರಕ್ಕಾಗಿ ಕೋಡ್ ಅನ್ನು ಆಯ್ಕೆ ಮಾಡಿ :

- (1) A ಮತ್ತು B ಮಾತ್ರ  
 (2) B ಮತ್ತು C ಮಾತ್ರ  
 (3) B ಮಾತ್ರ  
 (4) A, B ಮತ್ತು C

81. ಕಂಪ್ಯೂಟರ್ ಲ್ಯಾಂಗ್ವೇಜ್ (ಪಟ್ಟಿ I) ಮತ್ತು ಅವರ ಅಡ್ವಿಕ್ಯೇಶನ್ (ಪಟ್ಟಿ II) ಹೊಂದಿಸಿ ಬರೆಯಿರಿ :

ಪಟ್ಟಿ I

ಪಟ್ಟಿ II

(ಕಂಪ್ಯೂಟರ್ ಲ್ಯಾಂಗ್ವೇಜ್)

(ಅಡ್ವಿಕ್ಯೇಶನ್)

- A. FORTRAN I. ಕಂಪೈಸಿಗಲಿಗಾಗಿ ಹಣಕಾಸು ಮತ್ತು ಆಡಳಿತ ವ್ಯವಸ್ಥೆ  
 B. COBOL II. ಶಿಕ್ಷಣದಲ್ಲಿ ಅನ್ವಯ ಮತ್ತು ವಿಜ್ಞಾನ ವಿದ್ಯಾರ್ಥಿಗಳಲ್ಲದವರಿಗೆ ಭಾಷೆ ವಿಶೇಷ  
 C. C-ಭಾಷೆ III. ಸಿಸ್ಟಮ್ ಸಾಫ್ಟ್‌ವೇರ್ ಅನ್ನು ಅನುಷ್ಠಾನಗೊಳಿಸುವುದು ಮತ್ತು ತಂತ್ರಾಂಶಗಳ ಪೋರ್ಟಬಲ್ ಅಪ್ಲಿಕೇಶನ್ ಸಾಫ್ಟ್‌ವೇರ್‌ಗಳು  
 D. ಬೇಸಿಕ್ (BASIC) IV. ಕಂಪ್ಯೂಟೇಶನಲ್ ಭೌತಶಾಸ್ತ್ರ ಮತ್ತು ರಸಾಯನಶಾಸ್ತ್ರಗಳಲ್ಲಿ

ಸರಿಯಾದ ಉತ್ತರಕ್ಕಾಗಿ ಕೆಳಗೆ ಕೊಟ್ಟಿರುವ ಆಯ್ಕೆಗಳಲ್ಲಿ ಸಂಕೇತವನ್ನಾರಿಸಿ :

	A	B	C	D
(1)	II	IV	III	I
(2)	II	III	IV	I
(3)	IV	III	I	II
(4)	IV	I	III	II

82. ಸ್ಟ್ಯಾಂಡರ್ಡ್ ಫ್ಲೇಸ್ ಹೋಲ್ಡರ್ ಗಳನ್ನೂ ಬಳಸದೆಯೇ ಸ್ಲೈಡ್ ಪಠ್ಯವನ್ನು ಸೇರಿಸಲು ಕೆಳಗಿನ ಯಾವ ಸಾಧನವು ನಿಮ್ಮನ್ನು ಶಕ್ತಗೊಳಿಸುತ್ತದೆ ?

- (1) ಪೆಟ್ಟಿಗೆ ಟೆಕ್ಸ್ಟ್ ಟೂಲ್ ಬಾಕ್ಸ್  
 (2) ಲೈನ್ ಟೂಲ್  
 (3) ಡ್ರಾಯಿಂಗ್ ಟೂಲ್  
 (4) ಆಟೋ ಆಕೃತಿಗಳ ಉಪಕರಣ

79. ASCII and EBCDIC are popular character encoding codes and their full forms are given below :

- A. ASCII – American Standard Code for Information Interchange
- B. EBCDIC – Extended Binary Coded Decimal Interchange Code

Which of the above is/are correct ?

Select the code for the correct answer from the options given below :

- (1) A only
- (2) B only
- (3) Both A and B
- (4) Neither A nor B

80. Which of the following is/are the correct method/s for using AVERAGE function in Excel ?

- A. =AVERAGE(4, 5, 6, 7)
- B. =AVERAGE(A1, B1, C1)
- C. =AVERAGE(A1:A9, B1:B9)

Select the code for the correct answer from the options given below :

- (1) A and B only
- (2) B and C only
- (3) B only
- (4) A, B and C

81. Match the Computer Languages (List I) with their applications (List II) :

<i>List I</i> (Computer Language)	<i>List II</i> (Application)
A. FORTRAN	I. In finance and administrative system for companies
B. COBOL	II. Application in education and special language for non-science students
C. C-Language	III. Implementing system software and developing portable application softwares
D. BASIC	IV. In computational Physics and Chemistry

Select the code for the correct answer from the options given below :

	<b>A</b>	<b>B</b>	<b>C</b>	<b>D</b>
(1)	II	IV	III	I
(2)	II	III	IV	I
(3)	IV	III	I	II
(4)	IV	I	III	II

82. Which of the following tools enables you to add a text to a slide without using the standard placeholders ?

- (1) Text tool box
- (2) Line tool
- (3) Drawing tool
- (4) Auto shapes tool

83. ಮ್ಯಕ್ರೋಸಾಫ್ಟ್ ವರ್ಡ್‌ಲಿ ನೀವು ಪುಟ ವಿರಾಮವನ್ನು ಒತ್ತಾಯಿಸಬಹುದು

- (1) ಸೂಕ್ತ ಸ್ಥಳದಲ್ಲಿ ನಿಮ್ಮ ಕರ್ಸರ್ ಅನ್ನು ಇರಿಸಿ ಮತ್ತು ಎಫ್ ಕೀಯನ್ನು ಒತ್ತುವುದರ ಮೂಲಕ
- (2) ಇನ್ಸೆರ್ಟ್ ಟ್ಯಾಬ್‌ನಲ್ಲಿ ಇನ್ಸೆರ್ಟ್ / ಸೆಕ್ಷನ್ ಬ್ರೇಕ್ ಅನ್ನು ಬಳಸುವ ಮೂಲಕ
- (3) ಸೂಕ್ತ ಸ್ಥಳದಲ್ಲಿ ನಿಮ್ಮ ಕರ್ಸರ್ ಅನ್ನು ಇರಿಸಿ ಮತ್ತು Ctrl+Enter ಅನ್ನು ಒತ್ತುವುದರ ಮೂಲಕ
- (4) ನಿಮ್ಮ ಡಾಕ್ಯುಮೆಂಟನ್ನು ಫಾಂಟ್ ಗಾತ್ರವನ್ನು ಬದಲಿಸುವ ಮೂಲಕ

84. ಮುಂದಿನ ಹೇಳಿಕೆಗಳನ್ನು ಪರಿಗಣಿಸಿ :

- A. ಫಾಂಟ್ ಡೈಲಾಗ್ ಬಾಕ್ಸ್ ಅನ್ನು ತೆರೆಯಲು ಶಾರ್ಟ್ ಕಟ್ ಕೀಲಿ Ctrl + F.
- B. ಸೆಂಟರ್ ಶಾರ್ಟ್ ಕಟ್ ಕೀ ಆಯ್ಕೆ ಪಠ್ಯವನ್ನು ಸರಿಹೊಂದಿಸುತ್ತದೆ Ctrl + E.
- C. ಡಾಕ್ಯುಮೆಂಟ್‌ನಲ್ಲಿನ ಕಾಗುಣಿತ ಪರಿಕ್ಷೆಗಾಗಿ ಶಾರ್ಟ್ ಕಟ್ ಕೀಲಿಯೆಂದರೆ F7.

ಈ ಮೇಲಿನ ಯಾವ ಹೇಳಿಕೆಗಳು / ಸರಿಯಾಗಿವೆ.

ಕೆಳಗಿನ ಆಯ್ಕೆಗಳಿಂದ ಸರಿಯಾದ ಉತ್ತರಕ್ಕಾಗಿ ಕೋಡ್ ಅನ್ನು ಆಯ್ಕೆ ಮಾಡಿ :

- (1) A ಮತ್ತು B ಮಾತ್ರ
- (2) B ಮತ್ತು C ಮಾತ್ರ
- (3) A ಮತ್ತು C ಮಾತ್ರ
- (4) A, B ಮತ್ತು C

85. ವರ್ಕ್‌ಶೀಟ್‌ನಲ್ಲಿ ಒಂದು ಪ್ರದೇಶದಿಂದ ಫಾರ್ಮಾಟ್ ಮಾಡುವುದನ್ನು ನಕಲಿಸಲು ಮತ್ತು ನೀವು ಬಳಸುತ್ತಿರುವ ಮತ್ತೊಂದು ಪ್ರದೇಶಕ್ಕೆ ಅದನ್ನು ಅನ್ವಯಿಸಲು :

- (1) ಸಂಪಾದಿಸು > ನಕಲಿಸಿ ಸ್ವರೂಪ ಮತ್ತು ಸಂಪಾದಿಸು > ಅಂಟಿಸು ಸ್ವರೂಪ ಆದೇಶಗಳು ಮನು ಆನ್ನು ರೂಪಿಸುತ್ತವೆ.
- (2) ಫಾರ್ಮ್ಯಾಟ್ > ನಕಲಿಸಿ ಮತ್ತು ಅನ್ವಯಿಸು ಮೆನು ಅಡಿಯಲ್ಲಿರುವ ಫಾರ್ಮ್ಯಾಟಿಂಗ್ ಡಯೆಲಾಗ್ ಬಾಕ್ಸ್ ನಕಲಿಸಿ ಮತ್ತು ಅನ್ವಯಿಸಿ.
- (3) ಎಕ್ಸೆಲ್ ನಲ್ಲಿ ಫಾರ್ಮ್ಯಾಟಿಂಗ್ ಅನ್ನು ನಕಲಿಸಲು ಮತ್ತು ಅನ್ವಯಿಸಲು ಯಾವುದೇ ಮಾರ್ಗವಿಲ್ಲ - ನೀವು ಇದನ್ನು ಕೈಯಾರೆ ಮಾಡಬೇಕು
- (4) ಸ್ಟ್ಯಾಂಡರ್ಡ್ ಟೂಲ್‌ಬಾರ್‌ನಲ್ಲಿನ ಸ್ವರೂಪ ಪೇಂಟರ್ ಬಟನ್

86. ನೀವು ಎಂಎಸ್ ಎಕ್ಸೆಲ್ ನಲ್ಲಿ ಒಂದೇ ಶ್ರೇಣಿಯ ಕೋಶಗಳನ್ನು ಆಯ್ಕೆ ಮಾಡಬಹುದು ಇದರಿಂದ

- (1) ಕೋಶಗಳ ಗುಂಪಿನಲ್ಲಿ ಮೇಲ್ಭಾಗದ ಎಡ ಕೋಶವನ್ನು ಕ್ಲಿಕ್ ಮಾಡಿ ಮತ್ತು ನಂತರ ಕೋಶಗಳ ಗುಂಪಿನಲ್ಲಿ ಕೆಳಗಿನ ಬಲ ಕೋಶವನ್ನು ಕ್ಲಿಕ್ ಮಾಡುವಾಗ ಶಿಫ್ಟ್ ಕೀಲಿಯನ್ನು ಒತ್ತುವುದು
- (2) ಆಪೇಕ್ಷಿತ ಜೀವಕೋಶಗಳ ಮೇಲೆ ಎಳೆಯುವಾಗ Ctrl ಕೀಲಿಯನ್ನು ಒತ್ತುವುದು
- (3) ಶಿಫ್ಟ್ ಕೀಲಿಯನ್ನು ಮತ್ತು ಬಾಣ ಕೀಲಿಯನ್ನು ಒತ್ತುವುದು
- (4) ಆಪೇಕ್ಷಿತ ಕೋಶಗಳ ಮೇಲೆ ಎಳೆಯುವುದು

**83.** In Microsoft Word, you can force a page break

- (1) By positioning your cursor at the appropriate place and pressing the F1 key
- (2) By using the Insert/Section break on the Insert tab
- (3) By positioning your cursor at the appropriate place and pressing Ctrl+Enter
- (4) By changing the font size of your document

**84.** Consider the following statements :

- A. Shortcut key to open font dialogue box is Ctrl + F.
- B. Shortcut key to centre align the selected text is Ctrl + E.
- C. Shortcut key for a spellcheck in a document is F7.

Which of the statements given above are correct ?

Select the code for the correct answer from the options given below :

- (1) A and B only
- (2) B and C only
- (3) A and C only
- (4) A, B and C

**85.** To copy formatting from one area in a worksheet and apply it to another area, you would use :

- (1) The Edit>Copy Format and Edit>Paste Format commands from the menu
- (2) The Copy and Apply Formatting dialog box, located under the Format>Copy and Apply menu
- (3) There is no way to copy and apply formatting in Excel — You have to do it manually
- (4) The Format Painter button on the standard toolbar

**86.** You can select a single range of cells in MS Excel by

- (1) Clicking the upper-left cell in a group of cells and then pressing the Shift key while clicking the lower right cell in a group of cells
- (2) Pressing the Ctrl key while dragging over the desired cells
- (3) Pressing the Shift key and an Arrow key
- (4) Dragging over the desired cells

87. ಎಂ.ಎಸ್. ಎಕ್ಸ್‌ಲೆ ಫಂಕ್ಷನ್ ಕೀ ಶಾಟ್‌ಕಟ್ (ಪಟ್ಟಿ I) ದೊಂದಿಗೆ ಅದಕ್ಕೆ ಸಂಬಂಧಿಸಿದ ಕ್ರಿಯೆಗಳನ್ನು (ಪಟ್ಟಿ II) ಹೊಂದಿಸಿರಿ :

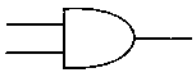
ಪಟ್ಟಿ I  
(ಫಂಕ್ಷನ್ ಕೀ ಶಾಟ್‌ಕಟ್)

- A. ಎಫ್ 1 I. ಎಡಿಟ್ ಮಾಡಲು ಆಯ್ಕೆಯಾದ ಕೋಶವನ್ನು ಆಕಿವೇಟ್ ಮಾಡುತ್ತದೆ
- B. ಎಫ್ 2 II. ಸಹಾಯ ಮೆನುವನ್ನು ತೆರೆಯುತ್ತದೆ
- C. ಎಫ್ 4 III. ಆಯ್ಕೆಯಾದ ವ್ಯಾಪ್ತಿಯಲ್ಲಿ ಸ್ಲೆಲ್ ಚೆಕ್‌ನ್ನು ನಿರ್ವಹಿಸುತ್ತದೆ
- D. ಎಫ್ 7 IV. ಕೊನೆಯ ಕಾರ್ಯದ ಪುನರಾವರ್ತನೆ
- V. ವರ್ಕ್‌ಬುಕ್ ರಿಫ್ರೆಶ್ ಮಾಡುತ್ತದೆ. ಸೂತ್ರದ ಮೇಲೆ ಲೆಕ್ಕಾಚಾರಗಳನ್ನು ನಿರ್ವಹಿಸುತ್ತದೆ

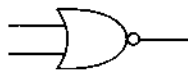
ಕೆಳಗೆ ಕೊಟ್ಟಿರುವ ಆಯ್ಕೆಗಳಿಂದ ಸರಿಯಾದ ಉತ್ತರಕ್ಕಾಗಿ ಸಂಕೇತವನ್ನಾರಿಸಿ :

	A	B	C	D
(1)	II	I	IV	III
(2)	I	III	V	IV
(3)	V	IV	III	II
(4)	II	III	I	V

88. ಈ ಇಬ್ಬರು ಚಾಲಕರನ್ನು ಪರಿಗಣಿಸಿ :



A.



B.

ಕೆಳಗಿನವುಗಳಲ್ಲಿ ಯಾವುದು ಸರಿಯಾಗಿದೆ ?

- (1) A ಯು AND ಮತ್ತು B ಯು OR
- (2) A ಯು AND ಮತ್ತು B ಯು NOR
- (3) A ಯು OR ಮತ್ತು B ಯು NOR
- (4) A ಯು NAND ಮತ್ತು B ಯು OR

89. I ನೇ ಪಟ್ಟಿಯಲ್ಲಿನ ವಾಹಿಪಟದ ಚಿಹ್ನೆಗಳೊಂದಿಗೆ II ನೇ ಪಟ್ಟಿಯಲ್ಲಿನ ಅವುಗಳನ್ನು ಏನನ್ನು ವರದಿಸುತ್ತದೆಂಬುದರ ಸರಿಯಾದ ಸಂಕೇತಗಳನ್ನು ಕೆಳಗೆ ನೀಡಿರುವ ಆಯ್ಕೆಗಳಿಂದ ಆರಿಸಿ :

ಪಟ್ಟಿ I

ಪಟ್ಟಿ II

- A. I. ಪ್ರಕ್ರಿಯೆಯಲ್ಲಿ ವಿಳಂಬವನ್ನು ಸೂಚಿಸುತ್ತದೆ
- B. II. ಒಂದು ವಾಹಿ ಪಟದಲ್ಲಿನ ಎರಡು ಅಥವಾ ಅಧಿಕ ಪಥಗಳ ನಡುವಣ ನಿರ್ಣಯ ಬಿಂದುವನ್ನು ಸೂಚಿಸುತ್ತದೆ
- C. III. ಒಂದು ವಾಹಿಪಟದಲ್ಲಿನ ಯಾವುದೇ ಮಾಹಿತಿಯನ್ನು ಪ್ರತಿನಿಧಿಸುತ್ತದೆ
- D. IV. ಯಾವುದೇ ಪ್ರಕ್ರಿಯಾ ಕಾರ್ಯವನ್ನು ಸೂಚಿಸುತ್ತದೆ
- E. V. ಯಾವುದೇ ರೀತಿಯ ಸಂಗ್ರಹಿಸಿದ ಡೇಟಾವನ್ನು ಸೂಚಿಸುತ್ತದೆ
- VI. ತಾರ್ಕಿಕ OR

ಕೆಳಗೆ ಕೊಟ್ಟಿರುವ ಆಯ್ಕೆಗಳಿಂದ ಸರಿಯಾದ ಉತ್ತರಕ್ಕಾಗಿ ಸಂಕೇತವನ್ನಾರಿಸಿ :

	A	B	C	D	E
(1)	I	II	III	IV	V
(2)	II	IV	III	V	VI
(3)	I	V	III	IV	II
(4)	II	IV	V	III	VI




87. Match the MS Excel function key shortcut (List I) with the corresponding actions (List II) :

<i>List I</i>		<i>List II</i>	
<i>(Function Key Shortcut)</i>		<i>(Action)</i>	
A. F1	I. Activates the selected cell for editing		
B. F2	II. Opens the help menu		
C. F4	III. Performs spell check in selected range		
D. F7	IV. Repeats last action		
	V. Refreshes workbook. Performs calculations on formula		

Select the code for the correct answer from the options given below :

	<b>A</b>	<b>B</b>	<b>C</b>	<b>D</b>
(1)	II	I	IV	III
(2)	I	III	V	IV
(3)	V	IV	III	II
(4)	II	III	I	V

88. Consider these two operators :



A.

B.

Which of the following is correct ?

- (1) A is AND and B is OR
- (2) A is AND and B is NOR
- (3) A is OR and B is NOR
- (4) A is NAND and B is OR

89. Match the following symbols of the flowchart (List I) with what they report (List II) :

<i>List I</i>		<i>List II</i>	
A.	I. Indicates a delay in a process		
B.	II. Indicates a decision point between two or more paths in a flowchart		
C.	III. Can represent any type of data in a flowchart		
D.	IV. Indicates any processing function		
E.	V. Indicates any type of stored data		
	VI. Logical OR		

Select the correct code from the options given below :

	<b>A</b>	<b>B</b>	<b>C</b>	<b>D</b>	<b>E</b>
(1)	I	II	III	IV	V
(2)	II	IV	III	V	VI
(3)	I	V	III	IV	II
(4)	II	IV	V	III	VI

90. ಭೌತಿಕ ಚಾನಲ್ ಅನ್ನು ಅನೇಕ ತಾರ್ಕಿಕ ಚಾನಲ್‌ಗಳಾಗಿ ವಿಭಜಿಸುವ ವಿಧಾನದಿಂದಾಗಿ ಹಲವಾರು ಸ್ವತಂತ್ರ ಸಂಕೇತಗಳನ್ನು ಏಕರೂಪವಾಗಿ ಪ್ರಸಾರಣ ಮಾಡುವುದನ್ನು ಹೆಗೆನ್ನಲಾಗುತ್ತದೆ.

- (1) ಮಲ್ಟಿಥ್ರೆಡಿಂಗ್
- (2) ಮಲ್ಟಿಪ್ಲೆಸಿಂಗ್
- (3) ಮಲ್ಟಿಪ್ಲೆಕ್ಸಿಂಗ್
- (4) ಇವುಗಳಲ್ಲಿ ಯಾವುದೂ ಅಲ್ಲ

91. ಈ ಕೆಳಗಿನ ಯಾವ ಹೇಳಿಕೆಯು ನಿಜವಲ್ಲ?

- (1) ನೀವು ನೇರವಾಗಿ ಪಠ್ಯವನ್ನು ಪವರ್ ಪಾಯಿಂಟ್ ಸ್ಲೈಡ್‌ನಲ್ಲಿ ಟೈಪ್ ಮಾಡಬಹುದು ಆದರೆ ಪಠ್ಯ ಪೆಟ್ಟಿಗೆಯಲ್ಲಿ ಟೈಪ್ ಮಾಡುವುದು ಹೆಚ್ಚು ಅನುಕೂಲಕರವಾಗಿದೆ.
- (2) ಇನ್ಸರ್ಟ್ ಮೆನುವಿನಿಂದ ಪಿಕ್ಚರ್ ನ್ನು ಆಯ್ಕೆ ಮಾಡಿ ಮತ್ತು ಫೈಲ್ ನಿಂದ ನಿಮ್ಮ ಇಮೇಜ್‌ಗಳನ್ನು ಸ್ಲೈಡ್‌ಗಳನ್ನೂ ಸೇರಿಸಿ.
- (3) ನೀವು ಸಾಮಾನ್ಯ ಸ್ಲೈಡ್ ಸಾರ್ಟರ್ ಅಥವಾ ಸ್ಲೈಡ್ ಶೋ ನೋಟದಲ್ಲಿ ಪವರ್ ಪಾಯಿಂಟ್ ಪ್ರಸ್ತುತಿಯನ್ನು ಪ್ರದರ್ಶಿಸಬಹುದು.
- (4) ವೀಕ್ಷಿಸಿ >> ಟೂಲ್‌ಬಾರ್‌ಗಳಿಂದ ನೀವು ಕೆಲಸ ಫಲಕವನ್ನು ತೋರಿಸಬಹುದು ಅಥವಾ ಮರೆಮಾಡಬಹುದು

92. ಮೈಕ್ರೋಸಾಫ್ಟ್ ಪವರ್ ಪಾಯಿಂಟ್ ನಲ್ಲಿ ಇನ್ಸರ್ಟ್ ಪಿಕ್ಚರ್ ಮೆನುವಿನಲ್ಲಿ ಲಭ್ಯವಿರುವ ಮೂರು ಆಯ್ಕೆಗಳು ಯಾವುವು

- (1) ಕ್ಲಿಪ್ ಆರ್ಟ್, ಪಿಕ್ಚರ್ಸ್, ಆಕಾರಗಳು
- (2) ಕ್ಲಿಪ್ ಆರ್ಟ್, ಫೈಲ್ ನಿಂದ, ಆಕಾರಗಳು
- (3) ಕ್ಲಿಪ್ ಆರ್ಟ್, ಫೈಲ್ ನಿಂದ, ಆಟೋಶೆಪ್ಸ್
- (4) ಕ್ಲಿಪ್ ಆರ್ಟ್, ಪಿಕ್ಚರ್ಸ್, ಆಟೋಶೆಪ್ಸ್

93. ಮೈಕ್ರೋಸಾಫ್ಟ್ ಪವರ್ ಪಾಯಿಂಟ್‌ನಲ್ಲಿ 'ಮೋಶನ್ ಪಾತ್' ಎಂದರೇನು?

- (1) ಸ್ಲೈಡ್ ಮೇಲೆ ಐಟಂಗಳನ್ನು ಸರಿಸಲು ಒಂದು ಮಾರ್ಗ
- (2) ಪವರ್ ಪಾಯಿಂಟ್ ಫೈಲ್ ಉಳಿಸಿದ ಮಾರ್ಗ
- (3) ಪವರ್ ಪಾಯಿಂಟ್ ಪ್ರೋಗ್ರಾಂನ್ನು ಸ್ಥಾಪಿಸಿದ ಮಾರ್ಗ
- (4) ಮೇಲಿನ ಯಾವುದೂ ಇಲ್ಲ

94. ಶಿಫ್ಟ್ ಕೀಲಿಯನ್ನು ಹಿಡಿದಿಟ್ಟುಕೊಂಡು ಮತ್ತು ಪ್ರತಿಬಿಂಬವನ್ನು ತಿರುಗಿಸುವುದು ಇದು ತಿರುಗುವುದು ಈ ಕಂತುಗಳಲ್ಲಿ

- (1) 10 ಡಿಗ್ರಿ
- (2) 15 ಡಿಗ್ರಿ
- (3) 20 ಡಿಗ್ರಿ
- (4) 25 ಡಿಗ್ರಿ

95. ಅಲ್‌ಗಾರಿಥಂ‌ಗಾಗಿ ಸರಾಸರಿ ಪ್ರಕರಣದ ಸಂಕೀರ್ಣತೆ ಯು

- (1) ಹೀನ ಪ್ರಕರಣಕ್ಕಿಂತಲೂ ವಿಶ್ಲೇಷಿಸಲು ಹೆಚ್ಚು ಸಂಕೀರ್ಣವಾಗಿದೆ
- (2) ಹೀನ ಪ್ರಕರಣಕ್ಕಿಂತಲೂ ವಿಶ್ಲೇಷಿಸಲು ಹೆಚ್ಚು ಸರಳವಾಗಿದೆ
- (3) ಕೆಲವೊಮ್ಮೆ ಹೆಚ್ಚು ಸಂಕೀರ್ಣ ಮತ್ತು ಹೀನ ಸಂದರ್ಭಕ್ಕಿಂತ ಕೆಲವು ಬಾರಿ ಸರಳವಾಗಿದೆ
- (4) ಯಾವುದೂ ಅಲ್ಲ

- 90.** The method of dividing a physical channel into many logical channels so that a number of independent signals may be simultaneously transmitted on it is referred to as
- (1) Multithreading
  - (2) Multiprocessing
  - (3) Multiplexing
  - (4) None of these
- 91.** Which of the following statements is *not* true ?
- (1) You can type a text directly into a PowerPoint slide but typing in text box is more convenient.
  - (2) From Insert menu choose Picture and then From File to insert your images into slides.
  - (3) You can display a PowerPoint presentation in Normal, Slide Sorter or Slide Show view.
  - (4) You can show or hide Task Pane from View >> Toolbars.
- 92.** What are the three options available in Insert Picture Menu in Microsoft PowerPoint ?
- (1) Clipart, Pictures, Shapes
  - (2) Clipart, From File, Shapes
  - (3) Clipart, From Files, AutoShapes
  - (4) Clipart, Pictures, AutoShapes
- 93.** What is 'Motion Path' in Microsoft PowerPoint ?
- (1) A path to move items on a slide
  - (2) A path where PowerPoint files are saved
  - (3) A path where PowerPoint program is installed
  - (4) None of the above
- 94.** Holding down the Shift key and rotating the image will rotate in increments of
- (1) 10 degrees
  - (2) 15 degrees
  - (3) 20 degrees
  - (4) 25 degrees
- 95.** For an algorithm the complexity of the average case is
- (1) Much more complicated to analyze than that of worst case
  - (2) Much more simpler to analyze than that of worst case
  - (3) Sometimes more complicated and some other times simpler than that of worst case
  - (4) None of the above

96. ಲಿಂಕ್ ಪಟ್ಟಿಗಳು ಅತ್ಯುತ್ತಮವಾಗಿರುವುದಕ್ಕೆ ಇದಕ್ಕಾಗಿ

- (1) ಮಾಹಿತಿಯ ತುಲನಾತ್ಮಕವಾಗಿ ಶಾಶ್ವತ ಸಂಗ್ರಹಣೆಗೆ ಸಂಬಂಧಿಸಿದಂತೆ
- (2) ರಚನೆಯ ಗಾತ್ರ ಮತ್ತು ರಚನೆಯ ಮಾಹಿತಿಯಲ್ಲಿನ ನಿರಂತರವಾಗಿ ಬದಲಾಗುತ್ತಿವೆ
- (3) ಮೇಲಿನ ಎರಡೂ ಪರಿಸ್ಥಿತಿಗಳು
- (4) ಮೇಲಿನ ಯಾವುದೇ ಪರಿಸ್ಥಿತಿಗಳು ಅಲ್ಲ

97. ಈ ಕೆಳಗಿನ ಮೆಮೋರಿ ನೆನಪುಗಳಲ್ಲಿ ಯಾವುದು ಕಡಿಮೆ ಪ್ರವೇಶ್ಯ ಸಮಯವನ್ನು ಹೊಂದಿದೆ?

- (1) ಸಂಗ್ರಹ ಸ್ಮರಣೆ (ಕ್ಯಾಚಿ ಮೆಮೋರಿ)
- (2) ಮ್ಯಾಗ್ನೆಟಿಕ್ ಬಬಲ್ ಮೆಮೋರಿ
- (3) ಮ್ಯಾಗ್ನೆಟಿಕ್ ಕೋರ್ ಮೆಮೋರಿ
- (4) RAM

98. ಮೈಕ್ರೋಸಾಫ್ಟ್ ವಿಂಡೋಸ್ ನಲ್ಲಿನ ಕೆಳಗಿನ ಶ್ರೇಣಿಗಳನ್ನು ಪರಿಗಣಿಸಿ :

- A. ವಿಂಡೋಸ್ ವಿಸ್ತಾ
- B. ವಿಂಡೋಸ್ ಎಕ್ಸ್ ಪಿ
- C. ವಿಂಡೋಸ್ 7
- D. ವಿಂಡೋಸ್ ಎಂ ಇ

ಅವುಗಳ ಬಿಡುಗಡೆಯಾದ ಕ್ರಮಾನುಗತಿಯಲ್ಲಿ ಇವುಗಳನ್ನು ಜೋಡಿಸಿ.

ನೀಡಿರುವ ಆಯ್ಕೆಗಳಲ್ಲಿ ಸರಿಯಾದ ಉತ್ತರಗಳನ್ನು ಆರಿಸಿ.

- (1) D, B, A, C
- (2) B, A, C, D
- (3) A, B, C, D
- (4) B, A, D, C

99. ಅಸೆಂಬ್ಲರ್ ನ ಕಾರ್ಯವೇನು?

- (1) ಮೂಲ ಭಾಷೆಯನ್ನು ಉನ್ನತ ಮಟ್ಟದ ಭಾಷೆಗೆ ಪರಿವರ್ತಿಸಲು
- (2) ಯಂತ್ರ ಭಾಷೆಯನ್ನು ಉನ್ನತ ಮಟ್ಟದ ಭಾಷೆಯಾಗಿ ಪರಿವರ್ತಿಸಲು
- (3) ಯಂತ್ರ ಭಾಷೆಯನ್ನು ಭಾಷೆಗೆ ಪರಿವರ್ತಿಸಲು
- (4) ಅಸೆಂಬ್ಲಿ ಭಾಷೆಯನ್ನು ಉನ್ನತ ಮಟ್ಟದ ಭಾಷೆಯಾಗಿ ಪರಿವರ್ತಿಸಲು

100. ಕೆಳಗಿನ ಹೇಳಿಕೆಗಳನ್ನು ಪರಿಗಣಿಸಿರಿ :

- A. ಎಂ.ಎಸ್. ವರ್ಡ್ ನಲ್ಲಿನ ಗರಿಷ್ಠ ಜೂಂ ಶೇಕಡಾವಾರು ಶೇ 500.
- B. ಎಂ.ಎಸ್. ಎಕ್ಸೆಲ್ ನಲ್ಲಿನ ಗರಿಷ್ಠ ಜೂಂ ಶೇಕಡಾವಾರು ಶೇ 400.
- C. ಎಂ.ಎಸ್. ಪವರ್ ಪಾಯಿಂಟ್ ನಲ್ಲಿನ ಗರಿಷ್ಠ ಜೂಂ ಶೇಕಡಾವಾರು ಶೇ 400.

ಮೇಲಿನ ಹೇಳಿಕೆಗಳಲ್ಲಿ ಯಾವುದು / ವು ಸರಿ ?

ಕೊಟ್ಟಿರುವ ಆಯ್ಕೆಗಳಿಂದ ಸಂಕೇತಗಳ ಮೂಲಕ ಸರಿಯಾದ ಉತ್ತರಗಳನ್ನು ಆರಿಸಿ :

- (1) A ಮಾತ್ರ
- (2) A ಮತ್ತು B ಮಾತ್ರ
- (3) B ಮತ್ತು C ಮಾತ್ರ
- (4) A, B ಮತ್ತು C

- 96.** Linked lists are best suited
- (1) For relatively permanent collections of data
  - (2) For the size of the structure and the data in the structure are constantly changing
  - (3) For both of the above situations
  - (4) For none of the above situations

**97.** Which of the following memories has the shortest access times ?

- (1) Cache memory
- (2) Magnetic bubble memory
- (3) Magnetic core memory
- (4) RAM

**98.** Consider the following versions of Microsoft Windows :

- A. Windows Vista
- B. Windows XP
- C. Windows 7
- D. Windows ME

Put them in the chronological order of their release.

Select the correct code for the answer from the options given below :

- (1) D, B, A, C
- (2) B, A, C, D
- (3) A, B, C, D
- (4) B, A, D, C

**99.** What is the function of an Assembler ?

- (1) To convert basic language into high level language
- (2) To convert machine language into high level language
- (3) To convert assembly language into machine language
- (4) To convert assembly language into high level language

**100.** Consider the following statements :

- A. Maximum zoom percentage in MS Word is 500%.
- B. Maximum zoom percentage in MS Excel is 400%.
- C. Maximum zoom percentage in Microsoft PowerPoint is 400%.

Which of the above statements is/are true ?

Select the code for the correct answer from the options given below :

- (1) A only
- (2) A and B only
- (3) B and C only
- (4) A, B and C

# SPACE FOR ROUGH WORK

# SPACE FOR ROUGH WORK

**SUBJECT CODE : 181**

Question Booklet Series

**A**

**QUESTION BOOKLET  
COMMUNICATION  
(PAPER II)**

Time Allowed : 2 Hours

Maximum Marks : 100

**INSTRUCTIONS**

1. Immediately after the commencement of the Examination, before writing the Question Booklet Series in the OMR sheet, you should check that this Question Booklet does NOT have any unprinted or torn or missing pages or questions etc. If so, get it replaced by a complete 'Question Booklet' of the available series.
2. Write and encode clearly the Question Booklet Series A, B, C or D, Subject Code and Register Number in the appropriate space provided for that purpose in the OMR Answer Sheet. Also ensure that candidate's signature and Invigilator's signature columns are properly filled in. Please note that it is candidate's responsibility to fill in and encode these particulars and any omission/discrepancy will render the OMR Answer Sheet liable for Rejection.
3. You have to enter your Register Number in the Question Booklet in the box provided alongside.  
DO NOT write anything else on the Question Booklet.
4. This Question Booklet contains 100 questions, including (a) General Kannada : 1 to 35, (b) General English : 36 to 70, (c) Computer Knowledge : 71 to 100. Each question contains **four** responses (answers). Select the response which you want to mark on the Answer Sheet. In case you feel that there is more than one correct response, mark the response which you consider the most appropriate. In any case, choose **ONLY ONE RESPONSE** for each question.
5. All the responses should be marked **ONLY** on the separate Answer Sheet provided and **ONLY** in Black or Blue Ball Point Pen. See detailed instructions in the OMR Answer Sheet.
6. All questions carry equal marks. **Attempt all questions**. Every question for which wrong answer has been given by the candidate,  $1/4^{\text{th}}$  (0.25) of the marks assigned for that question will be deducted.
7. Sheets for rough work are appended in the Question Booklet at the end. You should not make any marking on any other part of the Question Booklet.
8. Immediately after the final bell indicating the conclusion of the examination, stop making any further markings in the Answer Sheet. Be seated till the Answer Sheets are collected and accounted for by the Invigilator.
9. Questions are printed both in Kannada and English. If any confusion arises in the Kannada Version, please refer to the English Version of the questions. Please note that in case of any confusion the English Version of the Question Booklet is final.

**Register Number**

**Use of Mobile Phones, Calculators and other Electronic/Communication gadgets of any kind is prohibited inside the Examination venue.**

ಗಮನಿಸಿ: ಸೂಚನೆಗಳ ಕನ್ನಡ ಆವೃತ್ತಿಯು ಈ ಪ್ರಶ್ನೆ ಪುಸ್ತಿಕೆಯ ಮುಂಭಾಗದಲ್ಲಿ ಮುದ್ರಿಸಲ್ಪಟ್ಟಿದೆ.