


ಈ ಪ್ರಶ್ನೆಪುಸ್ತಿಕೆಯನ್ನು ತೆರೆಯುವಂತೆ ನಿಮಗೆ ತಿಳಿಸುವವರೆಗೂ ಇದನ್ನು ತೆರೆಯಕೂಡದು

ಪ್ರಶ್ನೆಪುಸ್ತಿಕೆ
ನಿರ್ದಿಷ್ಟ ಪತ್ರಿಕೆ
ಪತ್ರಿಕೆ II
(273)

ಪ್ರಶ್ನೆಪತ್ರಿಕೆ ಶ್ರೇಣಿ



ಸಮಯ : 2 ಗಂಟೆಗಳು

ಗರಿಷ್ಠ ಅಂಕಗಳು : 200

ಸೂಚನೆಗಳು

1. ಪರೀಕ್ಷೆ ಪ್ರಾರಂಭವಾದ ಕೂಡಲೇ ನಿಮ್ಮ ಪ್ರಶ್ನೆಪತ್ರಿಕೆಯಲ್ಲಿ ಅಮುದ್ರಿತ ಅಥವಾ ಹರಿದಿರುವ ಅಥವಾ ಬಿಟ್ಟು ಹೋಗಿರುವ ಪುಟಗಳು ಅಥವಾ ಪ್ರಶ್ನೆಗಳು ಇತ್ಯಾದಿಗಳು ಕಂಡುಬಂದಲ್ಲಿ ನಿಮ್ಮ ಒ.ಎಂ.ಆರ್. ಉತ್ತರ ಹಾಳೆಯಲ್ಲಿ ಮುದ್ರಿತವಾಗಿರುವ ಅದೇ ಶ್ರೇಣಿಯ ಪೂರ್ಣ ಪ್ರಶ್ನೆ ಪತ್ರಿಕೆ ಯೊಂದಿಗೆ ಬದಲಾಯಿಸಿ ಕೊಳ್ಳತಕ್ಕದ್ದು.
 2. ಅಭ್ಯರ್ಥಿಯು ಪ್ರಶ್ನೆ ಪತ್ರಿಕೆಯ ಶ್ರೇಣಿಯು, ತಮ್ಮ ಒ.ಎಂ.ಆರ್. ಉತ್ತರ ಹಾಳೆಯಲ್ಲಿ ಮುದ್ರಿತವಾಗಿರುವ ಅದೇ ಪ್ರಶ್ನೆಪತ್ರಿಕೆಯ ಶ್ರೇಣಿಯಾಗಿರುವುದೇ ಎಂಬುದನ್ನು ಖಚಿತಪಡಿಸಿಕೊಳ್ಳಬೇಕು. ವ್ಯತ್ಯಾಸಗಳು ಕಂಡುಬಂದಲ್ಲಿ, ಸಂವಿಕ್ಷಕರ ಗಮನಕ್ಕೆ ತರುವುದು ಮತ್ತು ಪ್ರಶ್ನೆಪತ್ರಿಕೆಯ ಶ್ರೇಣಿಯು ತಮಗೆ ಹೊಂದುವ (ಅದೇ) ಪ್ರಶ್ನೆ ಪತ್ರಿಕೆಯಾದ ಮತ್ತು ಒ.ಎಂ.ಆರ್. ಉತ್ತರ ಹಾಳೆಯಲ್ಲಿ ಮುದ್ರಿತವಾಗಿರುವ ಶ್ರೇಣಿಯ ಪ್ರಶ್ನೆಪತ್ರಿಕೆಯನ್ನೇ ಪಡೆಯತಕ್ಕದ್ದು.
 3. ಪಕ್ಕದಲ್ಲಿ ಒದಗಿಸಿರುವ ಪ್ರಶ್ನೆಪತ್ರಿಕೆಯ ಚೌಕದಲ್ಲೇ ನಿಮ್ಮ ನೋಂದಣಿ ಸಂಖ್ಯೆಯನ್ನು ನಮೂದಿಸಬೇಕು. ಪ್ರಶ್ನೆ ಪುಸ್ತಿಕೆಯಲ್ಲಿ ಬೇರೆ ಏನನ್ನೂ ಬರೆಯಬಾರದು.
- | ನೋಂದಣಿ ಸಂಖ್ಯೆ | | | | |
|---------------|--|--|--|--|
| | | | | |
4. ಈ ಪ್ರಶ್ನೆ ಪುಸ್ತಿಕೆ 100 ಪ್ರಶ್ನೆಗಳನ್ನು ಒಳಗೊಂಡಿರುತ್ತದೆ. ಪ್ರತಿಯೊಂದು ಪ್ರಶ್ನೆಯು 4 ಪ್ರತಿಕ್ರಿಯೆಗಳನ್ನು (ಉತ್ತರಗಳನ್ನು) ಒಳಗೊಂಡಿರುತ್ತದೆ. ನೀವು ಉತ್ತರ ಹಾಳೆಯಲ್ಲಿ ಗುರುತು ಮಾಡಬೇಕೆನಿಸುವ ಉತ್ತರವನ್ನು ಆಯ್ಕೆ ಮಾಡಿಕೊಳ್ಳಿ. ಒಂದು ವೇಳೆ ಅಲ್ಲಿ ಒಂದಕ್ಕಿಂತ ಹೆಚ್ಚು ಸರಿಯಾದ ಉತ್ತರಗಳಿವೆಯೆಂದು ನೀವು ಭಾವಿಸಿದರೆ ನಿಮಗೆ ಅತ್ಯುತ್ತಮವೆನಿಸುವ ಉತ್ತರಕ್ಕೆ ಗುರುತು ಮಾಡಿ. ಏನೇ ಅದರೂ ಪ್ರತಿ ಪ್ರಶ್ನೆಗೆ ನೀವು ಕೇವಲ ಒಂದು ಉತ್ತರವನ್ನು ಮಾತ್ರ ಆಯ್ಕೆ ಮಾಡಬೇಕು.
 5. ಎಲ್ಲಾ ಉತ್ತರಗಳನ್ನು ನಿಮಗೆ ಒದಗಿಸಲಾಗಿರುವ ಪ್ರತ್ಯೇಕ ಒ.ಎಂ.ಆರ್. ಉತ್ತರ ಹಾಳೆಯ ಮೇಲೆ ಕೇವಲ ಕಪ್ಪು ಅಥವಾ ನೀಲಿ ಶಾಯಿಯ ಬಾಲ್ ಪಾಯಿಂಟ್ ಪೆನ್ನಿನಲ್ಲಿ ಮಾತ್ರ ಗುರುತು ಮಾಡಬೇಕು. ಒ.ಎಂ.ಆರ್. ಉತ್ತರ ಪತ್ರಿಕೆ ಹಾಳೆಯಲ್ಲಿನ ವಿವರವಾದ ಸೂಚನೆಗಳನ್ನು ಗಮನಿಸುವುದು.
 6. ಎಲ್ಲಾ ಪ್ರಶ್ನೆಗಳಿಗೆ ಸಮಾನ ಅಂಕಗಳು. ಎಲ್ಲಾ ಪ್ರಶ್ನೆಗಳಿಗೆ ಉತ್ತರಿಸಿರಿ.
 7. ಚಿತ್ತು ಕೆಲಸಕ್ಕಾಗಿ ಹಾಳೆಗಳನ್ನು ಪ್ರಶ್ನೆ ಪುಸ್ತಿಕೆಯ ಕೊನೆಯಲ್ಲಿ ಸೇರಿಸಲಾಗಿದೆ. ಪ್ರಶ್ನೆ ಪುಸ್ತಿಕೆಯ ಇನ್ನುಳಿದ ಯಾವ ಭಾಗದಲ್ಲಿಯೂ ನೀವು ಯಾವ ರೀತಿಯ ಗುರುತನ್ನು ಮಾಡತಕ್ಕದ್ದಲ್ಲ.
 8. ಪರೀಕ್ಷೆಯ ಮುಕ್ತಾಯವನ್ನು ಸೂಚಿಸುವ ಅಂತಿಮ ಗಂಟೆ ಬಾರಿಸಿದ ತಕ್ಷಣವೇ ಒ.ಎಂ.ಆರ್. ಉತ್ತರ ಪತ್ರಿಕೆ ಹಾಳೆಯಲ್ಲಿ ಇನ್ನಾವುದೇ ಗುರುತು ಮಾಡುವುದನ್ನು ನಿಲ್ಲಿಸಬೇಕು. ಸಂವಿಕ್ಷಕರು ಬಂದು ನಿಮ್ಮಲ್ಲಿರುವ ಒ.ಎಂ.ಆರ್. ಉತ್ತರ ಹಾಳೆಯನ್ನು ತಮ್ಮ ವಶಕ್ಕೆ ಪಡೆದುಕೊಂಡು ಲೆಕ್ಕಕ್ಕೆ ತೆಗೆದುಕೊಳ್ಳುವವರೆಗೂ ನಿಮ್ಮ ನಿಮ್ಮ ಆಸನದಲ್ಲಿಯೇ ಕುಳಿತಿರತಕ್ಕದ್ದು.
 9. ಪ್ರಶ್ನೆಗಳು ಕನ್ನಡ ಮತ್ತು ಆಂಗ್ಲ ಭಾಷೆಯಲ್ಲಿರುತ್ತವೆ. ಕನ್ನಡ ಪ್ರಶ್ನೆಗಳಲ್ಲಿ ಸಂದೇಹ ಉಂಟಾದರೆ, ದಯವಿಟ್ಟು ಆಂಗ್ಲ ಭಾಷೆಯ ಪ್ರಶ್ನೆಗಳನ್ನು ಗಮನಿಸುವುದು. ಪ್ರಶ್ನೆ ಪತ್ರಿಕೆಯ ಪ್ರಶ್ನೆಗಳಲ್ಲಿ ಯಾವುದೇ ಗೊಂದಲಗಳಿದ್ದರೂ ಆಂಗ್ಲಭಾಷೆಯ ಪ್ರಶ್ನೆಗಳೇ ಅಂತಿಮವಾಗಿರುತ್ತದೆ.
 10. ತಪ್ಪು ಉತ್ತರಗಳಿಗೆ ವಿಧಿಸಲಾಗುವ ದಂಡ :
ವಸ್ತುನಿಷ್ಠ ಬಹು ಆಯ್ಕೆ ಪ್ರಶ್ನೆ ಪತ್ರಿಕೆಗಳಲ್ಲಿ ಅಭ್ಯರ್ಥಿಗಳು ಗುರುತು ಮಾಡಿದ ತಪ್ಪು ಉತ್ತರಕ್ಕೆ ದಂಡ ವಿಧಿಸಲಾಗುತ್ತದೆ.
(i) ಪ್ರತಿಯೊಂದು ಪ್ರಶ್ನೆಯ ಉತ್ತರಕ್ಕೆ ನಾಲ್ಕು ಪರ್ಯಾಯಗಳಿವೆ. ಅಭ್ಯರ್ಥಿಯು ತಪ್ಪು ಉತ್ತರ ನೀಡಿದ ಪ್ರತಿಯೊಂದು ಪ್ರಶ್ನೆಗೆ ಆ ಪ್ರಶ್ನೆಗೆ ನಿಗದಿಪಡಿಸಲಾದ ಅಂಕಗಳಲ್ಲಿ 1/4 ರಷ್ಟು ಅಂಕಗಳನ್ನು ದಂಡ ರೂಪದಲ್ಲಿ ಕಳೆಯಲಾಗುವುದು.
(ii) ಅಭ್ಯರ್ಥಿಯು ಒಂದು ಪ್ರಶ್ನೆಗೆ ಒಂದಕ್ಕಿಂತ ಹೆಚ್ಚು ಉತ್ತರವನ್ನು ನೀಡಿದರೆ, ಅಲ್ಲಿರುವ ಒಂದು ಉತ್ತರವು ಸರಿಯಿದ್ದರೂ ಸಹ ಅದನ್ನು ತಪ್ಪು ಉತ್ತರ ಎಂದು ಪರಿಗಣಿಸಲಾಗುವುದು ಮತ್ತು ಮೇಲೆ ತಿಳಿಸಿದಂತೆಯೇ ಆ ಪ್ರಶ್ನೆಗೆ ದಂಡ ವಿಧಿಸಲಾಗುವುದು.
(iii) ಅಭ್ಯರ್ಥಿಯು ಪ್ರಶ್ನೆಯನ್ನು ಖಾಲಿ ಬಿಟ್ಟಿದ್ದಾಗ ಅಂದರೆ ಉತ್ತರವನ್ನು ನೀಡದಿದ್ದಾಗ ಆ ಪ್ರಶ್ನೆಗೆ ಯಾವುದೇ ದಂಡ ವಿಧಿಸಲಾಗುವುದಿಲ್ಲ.

ಯಾವುದೇ ರೀತಿಯ ಮೊಬೈಲ್ ಫೋನ್ ಮತ್ತು ಇತರೆ ರೀತಿಯ ಎಲೆಕ್ಟ್ರಾನಿಕ್/ಕಮ್ಯೂನಿಕೇಷನ್ ಸಾಧನಗಳು ಇತ್ಯಾದಿಗಳನ್ನು ಪರೀಕ್ಷಾ ಕೇಂದ್ರದ ಆವರಣದೊಳಗೆ ತರುವುದನ್ನು ನಿಷೇಧಿಸಿದೆ.

Note : English version of the instructions is printed on the back cover of this booklet.

1. ವೇಗೋತ್ಕರ್ಷ ತತ್ತ್ವವೆಂದರೆ
 - (1) ಉಳಿತಾಯ ಮಟ್ಟ ಬದಲಾವಣೆಗೂ ಹೂಡಿಕೆ ವೆಚ್ಚದ ಗಾತ್ರಕ್ಕೂ ಇರುವ ಸಂಬಂಧ.
 - (2) ಉದ್ಯೋಗ ಮಟ್ಟ ಬದಲಾವಣೆಗೂ ಹೂಡಿಕೆ ವೆಚ್ಚದ ಗಾತ್ರಕ್ಕೂ ಇರುವ ಸಂಬಂಧ.
 - (3) ಉತ್ಪನ್ನದ ಬದಲಾವಣೆಗೂ ಮತ್ತು ಹೂಡಿಕೆ ವೆಚ್ಚದ ಗಾತ್ರಕ್ಕೂ ಇರುವ ಸಂಬಂಧ.
 - (4) ಈ ಮೇಲಿನ ಯಾವುದೂ ಅಲ್ಲ

2. ನಿರಪೇಕ್ಷ ಆದಾಯ ಸಿದ್ಧಾಂತದ/ಗಳ ಸರಿಯಾದ ಅರ್ಥ ಹೀಗಿದೆ :

- A. ಪ್ರತ್ಯೇಕ ಗ್ರಾಹಕರ ಚಾಲ್ತಿ ಆದಾಯ ಭಾಗವನ್ನು ಗ್ರಾಹಕತೆಯ ಆದಾಯದ ನಿರಪೇಕ್ಷ ಮಟ್ಟವನ್ನು ಅನುಸರಿಸಿ ವಿನಿಯೋಗಿಸುವುದು.
- B. ಪ್ರತ್ಯೇಕ ಗ್ರಾಹಕರ ಚಾಲ್ತಿ ಆದಾಯ ಭಾಗವನ್ನು ಗ್ರಾಹಕತೆಯ ಆದಾಯದ ನಿರಪೇಕ್ಷ ಮಟ್ಟವನ್ನು ಅನುಸರಿಸಿ ವಿನಿಯೋಗಿಸದಿರುವುದು.
- C. ಬೇರೆ ಅಂಶಗಳು ಸಮನಾಗಿದ್ದರೆ, ಆತನ (ಗ್ರಾಹಕನ) ನಿರಪೇಕ್ಷ ಆದಾಯದಲ್ಲಿ ಏರಿಕೆ ನೀಡುವುದು ಆ ಆದಾಯವು ಗ್ರಾಹಕತೆಗೆ ವಿನಿಯೋಗವಾಗುವ ಭಿನ್ನಾಂಶವನ್ನು ತಗ್ಗಿಸುತ್ತದೆ.

ಈ ಮೇಲಿನ ಹೇಳಿಕೆಗಳಲ್ಲಿ ಯಾವುದು / ವು ಸರಿ ?

ನೀಡಿರುವ ಆಯ್ಕೆಗಳಲ್ಲಿ ಸರಿಯಾದ ಉತ್ತರಕ್ಕಾಗಿ ಸಂಕೇತವನ್ನಾರಿಸಿ :

- (1) A ಮತ್ತು C ಮಾತ್ರ
- (2) B ಮತ್ತು C ಮಾತ್ರ
- (3) B ಮಾತ್ರ
- (4) C ಮಾತ್ರ

3. ಈ ಪೈಕಿ ಯಾವ ಹೇಳಿಕೆಯು/ಗಳು ಸರಿ ?

- A. ಹೂಡಿಕೆ ಎನ್ನುವುದು ಹರಿವು ಚರ ಮತ್ತು ಅದರ ಪ್ರತಿ ಪೂರಕ ದಾಸ್ತಾನು ಚರವು ಬಂಡವಾಳ.
- B. ಹೂಡಿಕೆಯು ದಾಸ್ತಾನು ಚರ ಅದರ ಪ್ರತಿ ಪೂರಕ ಹರಿವು ಚರ ಬಂಡವಾಳ.

ನೀಡಿರುವ ಆಯ್ಕೆಗಳಲ್ಲಿ ಸರಿಯಾದ ಉತ್ತರಕ್ಕಾಗಿ ಸಂಕೇತವನ್ನಾರಿಸಿ :

- (1) A ಮಾತ್ರ
- (2) B ಮಾತ್ರ
- (3) A ಮತ್ತು B ಎರಡೂ
- (4) A ಆಗಲೀ ಅಥವಾ B ಆಗಲೀ ಅಲ್ಲ

4. ಯಾವ ಹಣವನ್ನು ಹಣಕಾಸು ಅರ್ಥಶಾಸ್ತ್ರದಲ್ಲಿ ಅಧಿಕ ಸಾಮರ್ಥ್ಯದ ಹಣ, ಮೂಲ ಹಣ, ಪ್ರಾಥಮಿಕ ಹಣ ಅಥವಾ ಹಣಕಾಸು ಆಧಾರ ಎಂದು ಕರೆಯಲಾಗುತ್ತದೆ ?

- (1) ಮೀಸಲು ಹಣ
- (2) ಮೀಸಲಿಲ್ಲದ ಹಣ
- (3) ಕವು ಹಣ
- (4) ಈ ಯಾವುದೂ ಅಲ್ಲ

5. ಠೇವಣಿ ಬಾಹುಳ್ಯಕ್ಕೆ ಸಂಬಂಧಿಸಿದ ಸರಿಯಾದ ಸಮೀಕರಣ ಕೆಳಗಿನವುಗಳಲ್ಲಿ ಯಾವುದು ?

- (1) ಠೇವಣಿ ಬಾಹುಳ್ಯಕ = $\frac{1}{c + r}$
- (2) ಠೇವಣಿ ಬಾಹುಳ್ಯಕ = $\frac{c + r}{2}$
- (3) ಠೇವಣಿ ಬಾಹುಳ್ಯಕ = $\frac{1}{c - r}$
- (4) ಠೇವಣಿ ಬಾಹುಳ್ಯಕ = $\frac{1}{c \cdot r}$

ಇಲ್ಲಿ, c ಎಂದರೆ ಕರೆನ್ಸಿ ಠೇವಣಿ ಅನುಪಾತ, r ಮೀಸಲು ಠೇವಣಿ ಅನುಪಾತ.

1. The Acceleration Principle means
- (1) The relationship between the change in the level of savings and the volume of investment spending.
 - (2) The relationship between the change in the level of employment and the volume of investment spending.
 - (3) The relationship between the change in the level of output and the volume of investment spending.
 - (4) None of the above

2. The correct meaning of the Absolute Income Theory is/are as below :

- A. The fraction of the individual consumer's current income is devoted to the consumption on the basis of the absolute level of that income.
- B. The fraction of the individual consumer's current income is not devoted to the consumption on the basis of the absolute level of that income.
- C. Other things being equal, a rise in his (consumer's) absolute income will lead to a decrease in the fraction of that income devoted to consumption.

Which of the above statements is/are correct ?

Select the code for the correct answer from the options given below :

- (1) A and C only
- (2) B and C only
- (3) B only
- (4) C only

3. Which of the following statements is/are correct ?

- A. Investment is flow variable whose counterpart stock variable is capital.
- B. Investment is stock variable whose counterpart flow variable is capital.

Select the code for the correct answer from the options given below :

- (1) A only
- (2) B only
- (3) Both A and B
- (4) Neither A nor B

4. What is the money often referred to in monetary economics as high powered money, basic money, primary money or monetary base ?

- (1) Reserved money
- (2) Unreserved money
- (3) Black money
- (4) None of the above

5. Which one of the following is the correct equation for Deposit Multiplier ?

- (1) Deposit Multiplier = $\frac{1}{c + r}$
- (2) Deposit Multiplier = $\frac{c + r}{2}$
- (3) Deposit Multiplier = $\frac{1}{c - r}$
- (4) Deposit Multiplier = $\frac{1}{c \cdot r}$

where, c is the currency-deposit ratio
r is the reserve-deposit ratio

6. ವಹಿವಾಟು ವಲಯ - ಗೃಹ ಕೃತ್ಯವಲಯ (ಬೇಡಿಕೆ ವಲಯ) - ಸರ್ಕಾರಿ ವಲಯದ ಆರ್ಥಿಕತೆಯನ್ನು ಹೀಗೆನ್ನುತ್ತಾರೆ

- (1) ಏಕ-ವಲಯ ಆರ್ಥಿಕತೆ
- (2) ದ್ವಿ-ವಲಯ ಆರ್ಥಿಕತೆ
- (3) ತ್ರಿ-ವಲಯ ಆರ್ಥಿಕತೆ
- (4) ಚತುರ್-ವಲಯ ಆರ್ಥಿಕತೆ

7. ದೀರ್ಘಾವಧಿ ಹೂಡಿಕೆ ಈಕ್ವಿಟಿ ವಿತ್ತವು ಅಧಿಕ ರಿಸ್ಕನ (ಅಪಾಯಕಾರಿ) ಯೋಜನೆಗಳಲ್ಲಿ ಅಧಿಕ ಲಾಭದಾಯಕದ ಸಾಧ್ಯತೆ ಯೋಡನೆ ಇರುತ್ತದೆ. ಇದನ್ನು ಹೀಗೆನ್ನುತ್ತಾರೆ.

- (1) ಅಭಿವೃದ್ಧಿ ಬಂಡವಾಳ
- (2) ವೆಂಚರ್ (ಸಾಹಸೋದ್ಯಮ) ಬಂಡವಾಳ
- (3) ಷೇರು ಬಂಡವಾಳ
- (4) ಡಿಬೆಂಚರು

8. “ಆರ್ಥಿಕ ಬೆಳವಣಿಗೆಯು ಪ್ರಧಾನವಾಗಿ ಅಧಿಕ ಕೆಲಸಮಾಡುವಂತಹದು. ಇದಕ್ಕೆ ನಾಲ್ಕು ಪ್ರಾರಂಭಿಕ ನಿರ್ಬಂಧಗಳಿವೆ. ಮೊದಲನೆಯದಾಗಿ ಪ್ರೇರಣೆ, ಎರಡನೆಯದಾಗಿ ಖಚಿತ ತಿಳಿವು, ಮೂರನೆಯದಾಗಿ ಒಂದಷ್ಟು ಬಂಡವಾಳ ಮತ್ತು ನಾಲ್ಕನೆಯದು ಔಟ್‌ಲೆಟ್ (ಉತ್ಪನ್ನ) ಹೆಚ್ಚುವರಿ ಉತ್ಪನ್ನ ಫಲಿತಾಂಶಕ್ಕೆ ಹೆಚ್ಚುವರಿ ಮಾರುಕಟ್ಟೆಯ ಅಗತ್ಯವಿದೆ.”

ಆರ್ಥಿಕ ಬೆಳವಣಿಗೆಯನ್ನು ಈ ರೀತಿಯಲ್ಲಿ ವಿವರಿಸಿದವರು ಯಾರು ?

- (1) ಆಡಮ್ ಸ್ಮಿತ್ ಮತ್ತು ಜೆ.ಎಸ್. ಮಿಲ್
- (2) ಹರೋಡ್ ಡೋಮರ್
- (3) ಮರ್ಕೆಂಟಲಿಸ್ಟ್ (ವಾಣಿಜ್ಯ/ಸಂಪತ್ತು) ಅಸಿದ್ಧಾಂತ
- (4) ಷೂಮ್ಯಾಕರ್

9. ಫಲಿತಾಂಶ ಏನೇ ಇರಲಿ, ಉತ್ಪಾದನೆಯ ಸಂದರ್ಭದಲ್ಲಿ ಉಂಟಾದ ಆದಾಯವು, ಫಲಿತಾಂಶವು ಸಮಮೊತ್ತದ ಹೂಡಿಕೆಗೆ ಮತ್ತು ಇದು ಸರಕು ಕೊಳ್ಳಲು ಮತ್ತು ಸೇವೆ ಉತ್ಪಾದಿಸಲು ದಾರಿಮಾಡಿಕೊಡುತ್ತದೆ. ಇದನ್ನು ಹೀಗೆನ್ನುತ್ತಾರೆ.

- (1) ಗ್ರೆಷಾಂನ ನಿಯಮ
- (2) ಕುಗ್ಗುವ ಅಂಚಿನ ಉಪಯುಕ್ತತೆ ನಿಯಮ
- (3) ಜೇನ್ ಬ್ಯಾಪ್ಟಿಷ್ಟ್ ಸೇಯ ನಿಯಮ
- (4) ಈ ಯಾವುವೂ ಅಲ್ಲ

10. ಸಮಗ್ರ ರಾಷ್ಟ್ರೀಯ ಉತ್ಪಾದನೆ (GNP) ಕುರಿತಂತೆ ಈ ವೈಕಿ ಯಾವ ಸಮೀಕರಣ ಸರಿ ?

- (1) $GNP = C + I_d + G + (X - M)$
- (2) $GNP = C - I_d + G + (X - M)$
- (3) $GNP = C + I_d - G + (X - M)$
- (4) $GNP = C - I_d - G + (X - M)$

ಎಲ್ಲಿ,

$C =$ ಗ್ರಾಹಕತೆ / ಬಳಕೆ

$I_d =$ ಹೂಡಿಕೆ + ವಿದೇಶೀಯ ನಿವ್ವಳ ಆಂತಿಕ ಆದಾಯ

$G =$ ಸರ್ಕಾರಿ ವೆಚ್ಚ

$(X - M) =$ ರಫ್ತುಗಳು - ಆಮದುಗಳು

6. The Business sector – Household sector (Demand sector) – Government sector's economy is known as

- (1) One-sector economy
- (2) Two-sector economy
- (3) Three-sector economy
- (4) Four-sector economy

7. It is the investment of long-term equity finance on high risk projects with high reward possibility. It is known as

- (1) Development capital
- (2) Venture capital
- (3) Share capital
- (4) Debenture

8. "The economic development is primarily a question of getting more work done. For this, there are four initial conditions. First there must be motivation, second there must be some know-how, third there must be some capital and fourth there must be an outlet : additional output requires additional markets."

Who explained economic development this way ?

- (1) Adam Smith and J.S. Mill
- (2) Harrod Domar
- (3) Mercantilist theory
- (4) Schumacher

9. Whatever the level of output, the income created in the course of producing that output will necessarily lead to equal amount of spending and thus an amount of spending sufficient to purchase goods and services produced. This is known as

- (1) Gresham's Law
- (2) Law of Diminishing Marginal Utility
- (3) Jean-Baptiste Say's Law
- (4) None of the above

10. Which of the following is the correct equation for Gross National Product (GNP) ?

- (1) $GNP = C + I_d + G + (X - M)$
- (2) $GNP = C - I_d + G + (X - M)$
- (3) $GNP = C + I_d - G + (X - M)$
- (4) $GNP = C - I_d - G + (X - M)$

where,

C = Consumption

I_d = Investment + Net Factor Income from Abroad (NFIA)

G = Government Expenditure

$(X - M)$ = Exports – Imports

11. ವಿಲೇವಾರಿ ಮಾಡಬಹುದಾದ ವೈಯಕ್ತಿಕ ಆದಾಯ (DPI) ಕುರಿತ ಯಾವ ಸಮೀಕರಣ ಸರಿ ?

- (1) $DPI = PI - PDT$
- (2) $DPI = PI + PDT$
- (3) $DPI = C + S$
- (4) $DPI = PI - PI_nDT$

ಎಲ್ಲಿ,

$PI =$ ವೈಯಕ್ತಿಕ ಆದಾಯ

$PDT =$ ವೈಯಕ್ತಿಕ ನೇರ ತೆರಿಗೆ

$C =$ ಬಳಕೆ

$S =$ ಉಳಿತಾಯ

$PI_nDT =$ ವೈಯಕ್ತಿಕ ಪರೋಕ್ಷ ತೆರಿಗೆ

12. ಈ ರಾಜ್ಯಗಳನ್ನು ಜನದಟ್ಟಣೆಯ ಏರಿಕೆ ಕ್ರಮದಲ್ಲಿ 2011 ರ ಜನಗಣತಿ ಮೇರೆಗೆ ಜೋಡಿಸಿ :

- A. ತಮಿಳುನಾಡು
- B. ಕರ್ನಾಟಕ
- C. ಮಹಾರಾಷ್ಟ್ರ
- D. ಗುಜರಾತ್

ನೀಡಿರುವ ಆಯ್ಕೆಗಳಲ್ಲಿ ಸರಿಯಾದ ಉತ್ತರಕ್ಕಾಗಿ ಸಂಕೇತವನ್ನಾರಿಸಿ :

- (1) A, B, C, D
- (2) A, C, B, D
- (3) A, D, B, C
- (4) C, A, B, D

13. ಪಟ್ಟಿ I (ಪದ) ಮತ್ತು ಪಟ್ಟಿ II (ವಿವರಣೆ) ಯನ್ನು ಹೊಂದಿಸಿ ಬರೆಯಿರಿ :

ಪಟ್ಟಿ I
(ಪದ)

ಪಟ್ಟಿ II
(ವಿವರಣೆ)

- | | |
|-------------------|--|
| A. ವಿತ್ತೀಯ ಕೊರತೆ | I. ಒಟ್ಟು ವೆಚ್ಚದಲ್ಲಿ ಸ್ವೀಕೃತಿಗಿಂತ ಹೆಚ್ಚಳ |
| B. ಬಜೆಟ್ ಕೊರತೆ | II. ಕಂದಾಯ ಸ್ವೀಕೃತಿಗಿಂತ ಅಧಿಕ ಕಂದಾಯ ವೆಚ್ಚದ ಹೆಚ್ಚಳ |
| C. ಕಂದಾಯ ಕೊರತೆ | III. ಒಟ್ಟು ವೆಚ್ಚದಲ್ಲಿ ಒಟ್ಟು ಸ್ವೀಕೃತಿಗಿಂತ ಹೆಚ್ಚಳ, ಕಡಿಮೆ ಸಾಲಗಳು |
| D. ಪ್ರಾಥಮಿಕ ಕೊರತೆ | IV. ಒಟ್ಟು ವೆಚ್ಚದಲ್ಲಿ ಸ್ವೀಕೃತಿಗಿಂತ ಹೆಚ್ಚಳ ಕಡಿಮೆ ಸಾಲಗಳು ಹಾಗೂ ಬಡ್ಡಿ ನೀಡಿಕೆಗಳು |

ಸಂಕೇತಗಳ ಸಹಾಯದಿಂದ ಸರಿ ಉತ್ತರಗಳನ್ನು ಆರಿಸಿ :

- | | A | B | C | D |
|-----|-----|-----|-----|----|
| (1) | III | I | II | IV |
| (2) | II | III | IV | I |
| (3) | IV | III | I | II |
| (4) | IV | I | III | II |

11. Which of the following equations for measuring the Disposable Personal Income (DPI) is correct ?

- (1) $DPI = PI - PDT$
- (2) $DPI = PI + PDT$
- (3) $DPI = C + S$
- (4) $DPI = PI - PI_nDT$

where,

PI = Personal Income

PDT = Personal Direct Tax

C = Consumption

S = Saving

PI_nDT = Personal Indirect Tax

12. Arrange the following States in the increasing order of population density according to the Census 2011 :

- A. Tamil Nadu
- B. Karnataka
- C. Maharashtra
- D. Gujarat

Select the code for the correct answer from the options given below :

- (1) A, B, C, D
- (2) A, C, B, D
- (3) A, D, B, C
- (4) C, A, B, D

13. Match the Terms (List I) with the Explanation (List II) :

List I
(Term)

List II
(Explanation)

- | | |
|--------------------|---|
| A. Fiscal Deficit | I. Excess of total expenditure over receipts |
| B. Budget Deficit | II. Excess of revenue expenditure over revenue receipts |
| C. Revenue Deficit | III. Excess of total expenditure over total receipts less borrowings |
| D. Primary Deficit | IV. Excess of total expenditure over total receipts less borrowings and interest payments |

Select the code for the correct answer from the options given below :

- | | A | B | C | D |
|-----|----------|----------|----------|----------|
| (1) | III | I | II | IV |
| (2) | II | III | IV | I |
| (3) | IV | III | I | II |
| (4) | IV | I | III | II |

14. ಈ ಕೆಳಗಿನ ತಡೆಗೋಡೆ / ಪ್ರತಿಬಂಧಕ ಬೇಲಿಗಳನ್ನು ಪರಿಗಣಿಸಿ :

- A. ಸುರಿಯದಿರುವ ಅಭ್ಯಾಸ
- B. ಪ್ಯಾಕೇಜಿಂಗ್, ಲೇಬಲಿಂಗ್ ಮತ್ತು ಶಿಷ್ಟಗಳನ್ನು ರೂಪಿಸುವುದು
- C. ಆಮದುಗಳ ಮೇಲಿನ ಶುಲ್ಕ
- D. ರೂಲ್ಸ್ ಆಫ್ ಒರಿಜಿನ್ (ಮೂಲದ ನಿಯಮಗಳು)
- E. ನೈರ್ಮಲ್ಯ ಮತ್ತು (ಸಸ್ಯೋತ್ಪನ್ನ) ಫೈಟೋನೈರ್ಮಲ್ಯ ನಿರ್ಬಂಧಗಳು

ಈ ಮೇಲಿನ ವಹಿವಾಟುಗಳ ಪೈಕಿ ಯಾವುವು ತಾರಿಫ್ ರಹಿತ ತಡೆಗೋಡೆ (ಪ್ರತಿ ಬಂಧಕಗಳು) (NTBs) ವಿಶ್ವ ವ್ಯಾಪಾರ ಸಂಸ್ಥೆಯಲ್ಲಿವೆ ?

ನೀಡಿರುವ ಆಯ್ಕೆಗಳಲ್ಲಿ ಸರಿಯಾದ ಉತ್ತರಕ್ಕಾಗಿ ಸಂಕೇತವನ್ನಾರಿಸಿ :

- (1) A, B, C ಮತ್ತು E
- (2) A, C, D ಮತ್ತು E
- (3) A, B, D ಮತ್ತು E
- (4) ಮೇಲ್ಕಂಡ ಎಲ್ಲವೂ

15. ಈ ಪೈಕಿ ಯಾವುದು ಬಾಲ್ಟಿಕ್ ಡ್ರೈ ಇಂಡೆಕ್ಸ್ ನೊಂದಿಗೆ ಸಂಬಂಧಿತವಾದದ್ದು ?

- (1) ಪ್ರಧಾನ ಕಚ್ಚಾ ಸಾಮಗ್ರಿಯನ್ನು ಸಾಗರಾದಾಚೆಗೆ ಸಾಗಿಸುವ ವೆಚ್ಚಮೊತ್ತದ ಮೌಲ್ಯ ನಿರ್ಧಾರ.
- (2) ಬಾಲ್ಟಿಕ್ ಪ್ರದೇಶದಲ್ಲಿ ಷೇರು ಮತ್ತು ಈಕ್ವಿಟಿಗಳ ಬೆಲೆಗಳ ಏರಿಕೆ ಮತ್ತು ಇಳಿಕೆ ತೋರಿಸುವ ಸೂಚ್ಯಂಕ.
- (3) ಬಾಲ್ಟಿಕ್ ಪ್ರದೇಶದಲ್ಲಿ ಉತ್ಪಾದಿಸುವ ಕಚ್ಚಾತ್ವಲ ದರದ ಮೌಲ್ಯ ನಿರ್ಧಾರ.
- (4) ಈ ಯಾವುವೂ ಅಲ್ಲ

16. ಈ ಪೈಕಿ ಯಾವ ಸಚಿವಾಲಯವು ಸಮಗ್ರ ಬಂಜರುನೆಲ ಅಭಿವೃದ್ಧಿ ಯೋಜನೆಯನ್ನು (ಐ.ಡಬ್ಲ್ಯೂ.ಡಿ.ಪಿ.) ಯೋಜನೆ ಜಾರಿಗೆ ತಂದಿತು ?

- (1) ಗ್ರಾಮೀಣ ಅಭಿವೃದ್ಧಿ ಸಚಿವಾಲಯ
- (2) ಕೃಷಿ ಸಚಿವಾಲಯ
- (3) ರಾಸಾಯನಿಕ ಮತ್ತು ರಸಗೊಬ್ಬರಗಳ ಸಚಿವಾಲಯ
- (4) ಆರೋಗ್ಯ ಮತ್ತು ಕುಟುಂಬ ಕಲ್ಯಾಣ ಸಚಿವಾಲಯ

17. ಯಾವ ಸಾಮ್ರಾಜ್ಯವು ಪೂರ್ವ ಸಾಂಪ್ರದಾಯಿಕ ಚರ್ಚ್‌ನ್ನು ಪ್ರಾರಂಭಿಸಿತು ಮತ್ತು ರಷ್ಯಾಕ್ಕೆ ಸಿರಿಲಿಕ್ ವರ್ಣಮಾಲೆಯನ್ನು ಒದಗಿಸಿತು ?

- (1) ಬೈಜಾಂಟೀನ್
- (2) ಮಂಗೋಲ್
- (3) ಬ್ರಿಟಿಷ್
- (4) ಗುಪ್ತಾ

18. ಉತ್ಪಾದನಾ ಸಾಧ್ಯತಾ ರೇಖೆಯು ಅರ್ಥಶಾಸ್ತ್ರದ ಮೂರು ಪ್ರಮುಖ ಪರಿಕಲ್ಪನೆಗಳನ್ನು ಪ್ರತಿನಿಧಿಸುತ್ತದೆ. ಅವುಗಳೆಂದರೆ

- (1) (a) ಸರಕುಗಳ ಬೇಡಿಕೆ (b) ಸರಕುಗಳ ಪೂರೈಕೆ (c) ಉತ್ಪಾದನಾವೆಚ್ಚ
- (2) (a) ಬಡ್ಡಿಯದರ (b) ಲಾಭದರ (c) ಕೂಲಿದರ
- (3) (a) ಬೆಲೆ (b) ತುಷ್ಟಿಗುಣ (c) ಅನುಭೋಗ
- (4) (a) ಸಂಪನ್ಮೂಲಗಳ ವಿರಳತೆ (b) ಅವಕಾಶ ಗಣ (c) ಅವಕಾಶವೆಚ್ಚ

14. Consider the following barriers :
- A. Anti-dumping practice
 - B. Packaging, labelling and making standards
 - C. Charges on imports
 - D. Rules of origin
 - E. Sanitary and phytosanitary conditions

Which of the barriers given above come under the Non-Tariff Barriers (NTBs) of the World Trade Organization (WTO) ?

Select the code for the correct answer from the options given below :

- (1) A, B, C and E
- (2) A, C, D and E
- (3) A, B, D and E
- (4) All of the above

15. Which one of the following is related with the Baltic Dry Index ?

- (1) An assessment of the price of moving the major raw materials by sea.
- (2) An index showing the rising and falling prices of shares and equities in the Baltic region.
- (3) An assessment showing the price of crude oil produced in the Baltic region.
- (4) None of the above

16. Which one of the following ministries launched the Integrated Wasteland Development Programme (IWDP) ?

- (1) Ministry of Rural Development
- (2) Ministry of Agriculture
- (3) Ministry of Chemicals and Fertilizers
- (4) Ministry of Health and Family Welfare

17. Which empire introduced the Eastern Orthodox Church and the Cyrillic alphabet to Russia ?

- (1) Byzantine
- (2) Mongol
- (3) British
- (4) Gupta

18. The Production Possibility Curve represents three basic economic concepts. They are

- (1) (a) Demand for goods (b) Supply of goods (c) Cost of production
- (2) (a) Interest rate (b) Profit rate (c) Wage rate
- (3) (a) Price (b) Utility (c) Consumption
- (4) (a) Scarcity of resources (b) Opportunity set (c) Opportunity cost

19. “ಅರ್ಥಶಾಸ್ತ್ರವು ಒಂದು ವಿರಳತೆಯ ಮತ್ತು ಆಯ್ಕೆ ವಿಜ್ಞಾನ.” ಈ ಹೇಳಿಕೆಯನ್ನು ನೀಡಿದ ಅರ್ಥಶಾಸ್ತ್ರಜ್ಞರನ್ನು ಹೆಸರಿಸಿ.

- (1) ಜೆ.ಎಂ. ಕೇನ್ಸ್
- (2) ಆಡಂ ಸ್ಮಿತ್
- (3) ಆಲ್ಫ್ರೆಡ್ ಮಾರ್ಷಲ್
- (4) ಲಿಯೋನೆಲ್ ರಾಬಿನ್ಸ್

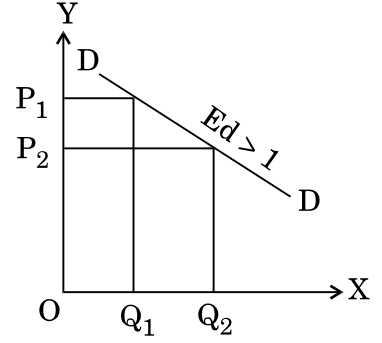
20. ರೆಪೋ ದರ (Repo rate) ಎಂದರೆ

- (1) ಭಾರತೀಯ ರಿಸರ್ವ್ ಬ್ಯಾಂಕಿನಿಂದ ವಾಣಿಜ್ಯ ಬ್ಯಾಂಕುಗಳು ಸಾಲವನ್ನು ಪಡೆಯುವ ದರ.
- (2) ವಾಣಿಜ್ಯ ಬ್ಯಾಂಕುಗಳಿಂದ ಭಾರತೀಯ ರಿಸರ್ವ್ ಬ್ಯಾಂಕು ಸಾಲವನ್ನು ಪಡೆಯುವ ದರ.
- (3) ಕೈಗಾರಿಕೋದ್ಯಮಿಗಳಿಗೆ ಕೈಗಾರಿಕಾ ಬ್ಯಾಂಕುಗಳು ಸಾಲನೀಡುವ ದರ.
- (4) ರೈತರಿಗೆ ಕೃಷಿ ಸಹಕಾರಿ ಬ್ಯಾಂಕುಗಳು ಸಾಲ ನೀಡುವ ದರ.

21. ವಿದೇಶಿ ವಿನಿಮಯ ಮಾರುಕಟ್ಟೆಯಲ್ಲಿ ಹೆಚ್ಚುವರಿ ಮೌಲ್ಯವುಳ್ಳ ಭಾರತೀಯ ರೂಪಾಯಿ ಈ ಕೆಳಗಿನ ಪರಿಣಾಮಗಳಲ್ಲಿ ಯಾವುದನ್ನು ಉಂಟುಮಾಡುತ್ತದೆ ?

- (1) ಆಮದುಗಳನ್ನು ಅಗ್ಗವಾಗಿಸುತ್ತದೆ ಮತ್ತು ರಫ್ತುಗಳನ್ನು ತುಟ್ಟಿಯಾಗಿಸುತ್ತದೆ
- (2) ಆಮದುಗಳನ್ನು ತುಟ್ಟಿಯಾಗಿಸುತ್ತದೆ ಮತ್ತು ರಫ್ತುಗಳನ್ನು ಅಗ್ಗವಾಗಿಸುತ್ತದೆ
- (3) ವಿದೇಶಿ ಪೈಪೋಟಿಗೆ ವಿರುದ್ಧವಾಗಿ ಸ್ವದೇಶಿ ಕೈಗಾರಿಕೆಗಳಿಗೆ ರಕ್ಷಣೆ ನೀಡುತ್ತದೆ
- (4) ಪಾವತಿ ಶಿಲ್ಕಿನಲ್ಲಿ ಸುಧಾರಣೆ ತರುತ್ತದೆ

22. ಈ ಕೆಳಗಿನ ಚಿತ್ರವು ತೋರಿಸುವ ಬೆಲೆಯ ಬೇಡಿಕೆಯ ಸ್ಥಿತಿಸ್ಥಾಪಕತಾ ವಿಧವನ್ನು ಹೆಸರಿಸಿ :



ಬೇಡಿಕೆಯ ಪ್ರಮಾಣ

- (1) ಪರಿಪೂರ್ಣತೆಯ ಸ್ಥಿತಿಸ್ಥಾಪಕ ಬೇಡಿಕೆ
- (2) ಪರಿಪೂರ್ಣತೆಯ ಸ್ಥಿತಿಸ್ಥಾಪಕ ರಹಿತ ಬೇಡಿಕೆ
- (3) ಸಾಪೇಕ್ಷತೆಯ ಸ್ಥಿತಿಸ್ಥಾಪಕ ಬೇಡಿಕೆ
- (4) ಸಾಪೇಕ್ಷತೆಯ ಸ್ಥಿತಿಸ್ಥಾಪಕ ರಹಿತ ಬೇಡಿಕೆ

23. ಶ್ರಮದ ಸೀಮಾಂತ ಉತ್ಪನ್ನ (MP_L) ದ ಗಣಿತೀಯ ನಿರೂಪಣೆ ಹೀಗಿದೆ

- (1) $MP_L = \frac{\text{ಬಂಡವಾಳ ಪ್ರಮಾಣದಲ್ಲಿ ಬದಲಾವಣೆ (\Delta K)}}{\text{ಶ್ರಮದ ಪ್ರಮಾಣದಲ್ಲಿ ಬದಲಾವಣೆ (\Delta L)}}$
- (2) $MP_L = \frac{\text{ಶ್ರಮದ ಪ್ರಮಾಣದಲ್ಲಿ ಬದಲಾವಣೆ (\Delta L)}}{\text{ಉತ್ಪನ್ನ ಪ್ರಮಾಣದಲ್ಲಿ ಬದಲಾವಣೆ (\Delta Q)}}$
- (3) $MP_L = \frac{\text{ಉತ್ಪನ್ನ ಪ್ರಮಾಣದಲ್ಲಿ ಬದಲಾವಣೆ (\Delta Q)}}{\text{ಶ್ರಮದ ಪ್ರಮಾಣದಲ್ಲಿ ಬದಲಾವಣೆ (\Delta L)}}$
- (4) $MP_L = \frac{\text{ಶ್ರಮದ ಪ್ರಮಾಣದಲ್ಲಿ ಬದಲಾವಣೆ (\Delta L)}}{\text{ಬಂಡವಾಳ ಪ್ರಮಾಣದಲ್ಲಿ ಬದಲಾವಣೆ (\Delta K)}}$

19. "Economics is a science of scarcity and choice." Name the economist who gave this statement.

- (1) J.M. Keynes
- (2) Adam Smith
- (3) Alfred Marshall
- (4) Lionel Robbins

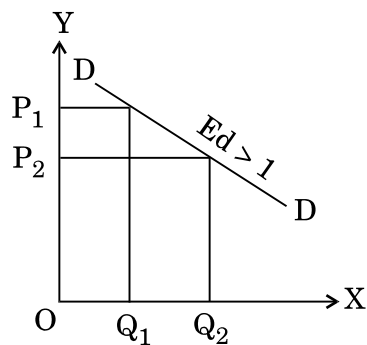
20. The Repo rate means

- (1) The rate at which Commercial Banks borrow from the Reserve Bank of India.
- (2) The rate at which the Reserve Bank of India borrows from Commercial Banks.
- (3) The rate at which Industrial Banks provide loans to industrialists.
- (4) The rate at which Agricultural Co-operative Banks provide loans to farmers.

21. An overvalued Indian Rupee in the foreign exchange market will have which one of the following consequences ?

- (1) Make imports cheaper and exports costlier
- (2) Make imports costlier and exports cheaper
- (3) Give protection to domestic industries against foreign competition
- (4) Will improve balance of payments

22. Name the type of price elasticity of demand shown in the following figure :



- (1) Perfectly Elastic demand
- (2) Perfectly inelastic demand
- (3) Relatively elastic demand
- (4) Relatively inelastic demand

23. Mathematical representation of marginal product of labour [MP_L] is

- (1) $MP_L = \frac{\text{Change in capital } (\Delta K)}{\text{Change in labour } (\Delta L)}$
- (2) $MP_L = \frac{\text{Change in labour } (\Delta L)}{\text{Change in quantity } (\Delta Q)}$
- (3) $MP_L = \frac{\text{Change in quantity } (\Delta Q)}{\text{Change in labour } (\Delta L)}$
- (4) $MP_L = \frac{\text{Change in labour } (\Delta L)}{\text{Change in capital } (\Delta K)}$

24. ಕೆನ್ಸನ್ ಪ್ರಕಾರ, ಈ ಕೆಳಗಿನ ಯಾವ ಅಂಶಗಳು ಹೂಡಿಕೆಯನ್ನು ನಿರ್ಧರಿಸುತ್ತವೆ ?

- A. ಬಡ್ಡಿಯ ದರ
- B. ಅನುಭೋಗಿಯ ಆದಾಯ
- C. ಬಂಡವಾಳ ಸೀಮಾಂತ ದಕ್ಷತೆ
- D. ಸೀಮಾಂತ ಅನುಭೋಗ ಪ್ರವೃತ್ತಿ

ನೀಡಿರುವ ಆಯ್ಕೆಗಳಲ್ಲಿ ಸರಿಯಾದ ಉತ್ತರಕ್ಕಾಗಿ ಸಂಕೇತವನ್ನಾರಿಸಿ :

- (1) A ಮತ್ತು C ಮಾತ್ರ
- (2) A ಮತ್ತು B ಮಾತ್ರ
- (3) A ಮತ್ತು D ಮಾತ್ರ
- (4) B ಮತ್ತು D ಮಾತ್ರ

25. ಕೆ.ಜಿ.ಬಿ.ಯು ಈ ಕೆಳಗಿನ ಯಾವ ದೇಶಕ್ಕೆ ಸಂಬಂಧಿಸಿದೆ ?

- (1) ಅಮೇರಿಕಾ
- (2) ರಷ್ಯಾ
- (3) ಜಪಾನ್
- (4) ಚೀನಾ

26. ಕ್ರೋಸೇಡಗಳು (ಧಾರ್ಮಿಕಯುದ್ಧ) ಕೆಳಗಿನ ಎಲ್ಲಕ್ಕೂ ತಮ್ಮ ಕೊಡುಗೆಯನ್ನಿತ್ತವು ಇದರ ಹೊರತಾಗಿ

- (1) ಮೆಡಿಟರೇನಿಯನ್ ವ್ಯಾಪಾರಿ ನಗರಗಳ ಬೆಳವಣಿಗೆ
- (2) ಯುರೋಪಿನ ಶಿಕ್ಷಣದ ಮಟ್ಟದಲ್ಲಿ ಸುಧಾರಣೆ
- (3) ಯುರೋಪ್, ಬೈಜಾಂಟೀನ್ ಮತ್ತು ಮುಸ್ಲಿಂ ನಾಗರಿಕತೆಗಳ ನಡುವೆ ಬೃಹತ್ ಸಂಪರ್ಕವೇರ್ಪಡಿಸಿತು
- (4) ಊಳಿಗಮಾನ್ಯ ದೊರೆಗಳ ಸಾಮರ್ಥ್ಯವನ್ನು ಹೆಚ್ಚಿಸಿತು

27. “ಸಾಮ್ರಾಜ್ಯಕ್ಕೆ ಬಹುತೇಕ ಸಾವಿರ ವರ್ಷಗಳವರೆಗೂ ಕ್ರೈಸ್ತಮತದ ಉಳಿವನ್ನು ಬಯಸಿ ಪಶ್ಚಿಮ ಯುರೋಪ್ ಕೃತಜ್ಞತೆಯ ಸಾಲಕ್ಕೆ ಋಣಿಯಾಗಿದ್ದು, ಯುರೋಪು ಆ ಸಂದರ್ಭದಲ್ಲಿದ್ದ ಕಾರ್ಯಭಾರವನ್ನು ನಿರ್ವಹಿಸಲಾರದಷ್ಟು ದುರ್ಬಲವಾಗಿತ್ತು.” ಈ ಉಲ್ಲೇಖಿತ ಹೇಳಿಕೆಯು ಯಾವ ಸಾಮ್ರಾಜ್ಯವನ್ನು ಕುರಿತದ್ದು ?

- (1) ಹೆಲ್ಲೆನ್ಸಿಸ್ಟಿಕ್
- (2) ಮಂಗೋಲ್
- (3) ಬೈಜಾಂಟೀನ್
- (4) ಒಟ್ಟೋಮನ್

28. ಪೂರ್ವ ಮಧ್ಯಯುಗದ ಅವಧಿಯಲ್ಲಿ ಪಶ್ಚಿಮ ಯುರೋಪ್‌ನಲ್ಲಿ ಸಮಾಜದ ಉತ್ಪಾತ್ತಿಯ ಆಕಾರವನ್ನು ಕೆಳಗಿನ ಯಾವ ಬಲಗಳು ರೂಪಿಸಲಿಲ್ಲ ?

- (1) ರೋಮನ್ ಪರಂಪರೆ
- (2) ಬಾರ್ಬೇರಿಯನ್ ಪಂಗಡಗಳ ರೀತಿರಿವಾಜುಗಳು
- (3) ರೋಮನ್ ಕ್ಯಾಥೋಲಿಕ್ ಚರ್ಚ್
- (4) ಪೂರ್ವದ ಸಾಂಪ್ರದಾಯಿಕ ಚರ್ಚ್

29. 1857 ರ ದಂಗೆಯನ್ನು ಭಾರತದ ಪ್ರಥಮ ಸ್ವಾತಂತ್ರ್ಯ ಸಂಗ್ರಾಮ ಎಂಬುದಾಗಿ ಕರೆದವರಾರು ?

- (1) ಸರ್ ಜಾನ್ ಲೋರೆನ್ಸ್
- (2) ಸರ್ ಸೈಯದ್ ಅಹ್ಮದ್ ಖಾನ್
- (3) ವಿ.ಡಿ. ಸಾವರ್ಕರ
- (4) ಆರ್.ಸಿ. ಮಜುಂದಾರ್

24. According to Keynes, which of the following factors determine(s) the investment ?

- A. Rate of interest
- B. Income of the consumer
- C. Marginal efficiency of capital
- D. Marginal propensity to consume

Select the code for the correct answer from the options given below :

- (1) A and C only
- (2) A and B only
- (3) A and D only
- (4) B and D only

25. KGB is related to which of the following countries ?

- (1) U.S.A.
- (2) Russia
- (3) Japan
- (4) China

26. The crusades contributed to all of the following *except*

- (1) The growth of mediterranean trading cities
- (2) Improvement in the level of European education
- (3) Greater contact between Europe and the Byzantine and Muslim civilizations
- (4) An increase in the power of feudal lords

27. "Western Europe owed a debt of gratitude to the Empire that for almost a thousand years ensured the survival of Christianity during a time when Europe was too weak to accomplish the task." Which empire is referred to in the quote above ?

- (1) Hellenistic
- (2) Mongol
- (3) Byzantine
- (4) Ottoman

28. Which of these factors did *not* shape the evolution of society in Western Europe during the early medieval period ?

- (1) Roman heritage
- (2) Customs of barbarian tribes
- (3) Roman Catholic Church
- (4) Eastern Orthodox Church

29. Who called the Revolt of 1857 the First War of Indian Independence ?

- (1) Sir John Lawrence
- (2) Sir Syed Ahmad Khan
- (3) V.D. Savarkar
- (4) R.C. Majumdar

30. ಅಂತರರಾಷ್ಟ್ರೀಯ ಅರ್ಥಶಾಸ್ತ್ರದಲ್ಲಿನ ತೌಲನಾತ್ಮಕ ಅನುಕೂಲ ಸಿದ್ಧಾಂತವು ಇವರೊಂದಿಗೆ ಸಂಬಂಧಿಸಿದೆ

- (1) ರಿಕಾರ್ಡೊ
- (2) ಆಡಂ ಸ್ಮಿತ್
- (3) ಹೆಕ್ಟರ್ ಓಹ್ಲಿನ್
- (4) ಟೌಸಿಗ್

31. ಜೋನ್ ಆಫ್ ಆರ್ಕ್ ಅನ್ನು ಏತಕ್ಕಾಗಿ ಸ್ಮರಿಸಲಾಗುತ್ತದೆ ?

- (1) ಆಕೆಯು ರೈತರ ಬಂಡಾಯಕ್ಕೆ ಮುಂದಾಳುವಾಗಿದ್ದು, ಅದು ಊಳಿಗಮಾನ್ಯ ಪದ್ಧತಿಯನ್ನು ಕೊನೆಗಾಣಿಸಿತು.
- (2) ನೂರು ವರ್ಷಗಳ ಯುದ್ಧದಲ್ಲಿ ಬ್ರಿಟಿಷರ ವಿರುದ್ಧವಾಗಿ ಜಯಗಳಿಸುವಂತೆ ಫ್ರೆಂಚರನ್ನು ಆಕೆ ಮುನ್ನಡೆಸಿದಳು.
- (3) ನೂರು ವರ್ಷಗಳ ಯುದ್ಧದಲ್ಲಿ ಇಂಗ್ಲಿಷ್ ದಳಗಳನ್ನು ಆಕೆ ಮುನ್ನಡೆಸಿದಳು.
- (4) ಆಕೆಯು ಕ್ಯಾಲಿಫರ್ನಿಯಾದ ಇಂಗ್ಲಿಷ್‌ರನ್ನು ಅಟ್ಟಿದ್ದು.

32. “ಜರ್ಮನಿ, ಆಸ್ಟ್ರಿಯಾ-ಹಂಗರಿ ಮತ್ತು ಇಟಲಿಗಳು ತ್ರಿ ಕೂಟವನ್ನು ರೂಪಿಸಿದವು.”

“ಸರ್ಬಿಯನ್ ರಾಷ್ಟ್ರೀಯತೆಯು ಬಾಲ್ಕನ್‌ನಲ್ಲಿ ಬೆಳವಣಿಗೆಯಾಗಿದೆ.”

“ರಾಜಕುಮಾರ ಫ್ರಾನ್ಸ್ ಫರ್ಡಿನೆಂಡನು ಬೋಸ್ನಿಯಾದಲ್ಲಿ ಹತ್ಯೆಗೀಡಾದನು.”

ಮೇಲಿನ ಶೀರ್ಷಿಕೆಗಳಲ್ಲಿರುವ ಘಟನೆಗಳು ನೇರವಾಗಿ ಈ ಕೆಳಗಿನ ಯಾವುದಕ್ಕೆ ಕೊಡುಗೆಯನ್ನಿತ್ತಿದೆ ?

- (1) ಪ್ರಥಮ ವಿಶ್ವ ಯುದ್ಧದ ಆರಂಭ
- (2) ಶೀತಲ ಯುದ್ಧದ ಸ್ಫೋಟ
- (3) ಯುರೋಪಿನಲ್ಲಿ ಕಮ್ಯೂನಿಸ್ಟ್ ಆಳ್ವಿಕೆಯ ಬೆಳವಣಿಗೆ
- (4) ಯುರೋಪಿಯನ್ ರಾಜಪ್ರಭುತ್ವವನ್ನು ಬಲಯುತಗೊಳಿಸಿತು

33. ಲೀಗ್ ಆಫ್ ನೇಷನ್ಸ್‌ನನ್ನು ಕುರಿತಂತೆ ಈ ಕೆಳಗಿನ ಯಾವ ಹೇಳಿಕೆಗಳು ಸರಿಯಾಗಿಲ್ಲ ?

- (1) ಇದು ವುಡ್ರೋ ವಿಲ್ಸನ್ ರಿಂದ ಗ್ರಹಿಸಲ್ಪಟ್ಟಿತು.
- (2) ಯು.ಎಸ್. ಕಾಂಗ್ರೆಸ್‌ನಿಂದ ತಿರಸ್ಕರಿಸಲ್ಪಟ್ಟಿತು.
- (3) ಇದು ಅಂತರರಾಷ್ಟ್ರೀಯ ವ್ಯಾಜ್ಯಗಳನ್ನು ಮಧ್ಯಸ್ಥಿಕೆಯ ಮೂಲಕ ಪರಿಹರಿಸುವಂತೆ ವಿನ್ಯಾಸಿಸಲಾಗಿತ್ತು ಮತ್ತು ಅದರ ತೀರ್ಮಾನಗಳನ್ನು ಜಾರಿಗೊಳಿಸಲು ಅದಕ್ಕೆ ಸಾಮರ್ಥ್ಯ ಇರಲಿಲ್ಲ.
- (4) ಇದು ಯುರೋಪ್‌ನ ರಾಷ್ಟ್ರಗಳ ಪ್ರಾಬಲ್ಯತೆ ಗೊಳಪಟ್ಟಿತ್ತು.

34. ತನ್ನನ್ನು ತಾನು ಮಾರ್ಕ್ಸಿಸ್ಟ್ ಎಂದು ಕರೆದುಕೊಂಡರೂ ಮಾರ್ಕ್ಸ್ ನಂತಲ್ಲದೆ ಲೆನಿನ್ ನಂಬಿದ್ದುದು

- (1) ಕ್ರಾಂತಿಯ ಮುಂದಾಳತ್ವವನ್ನು ಗ್ರಾಮೀಣ ರೈತರುಗಳು ವಹಿಸಿಕೊಂಡು ನಡೆಸಬೇಕಾಗಿತ್ತು, ಕೈಗಾರಿಕಾ ಕೆಲಸಗಾರರಲ್ಲ.
- (2) ಅತಿ ಹೆಚ್ಚು ಶಿಸ್ತುಬದ್ಧವಾದ ಪಕ್ಷವು ಕೆಲಸಗಾರರ ಪರವಾಗಿ ವರ್ತಿಸುತ್ತಿದ್ದು, ಒಂದು ಸಣ್ಣ ಪಕ್ಷದಿಂದ ಕ್ರಾಂತಿಯು ಮುನ್ನಡೆಯಬೇಕಾಗಿತ್ತು.
- (3) ರಷ್ಯಾದ ಎಲ್ಲ ಜನರ ಪರವಾಗಿ ಸಕ್ರಿಯವಾಗಿದ್ದ ಬುದ್ಧಿಜೀವಿಗಳ ವರ್ಗದ ಮುಂದಾಳತ್ವದಲ್ಲಿ ಕ್ರಾಂತಿಯು ಮುನ್ನಡೆಯಬೇಕಾಗಿತ್ತು.
- (4) ಕ್ರಾಂತಿಯು ಯಶಸ್ವಿಯಾಗುತ್ತಿರಲಿಲ್ಲ ರಷ್ಯಾದ ಕೆಲಸಗಾರರು ವಿಶ್ವದಾದ್ಯಂತದ ಕೆಲಸಗಾರ ರೊಡನೆ ಸೇರ್ಪಡೆಯಾಗುವವರೆಗೂ.

30. The comparative advantage theory in international economics is associated with

- (1) Ricardo
- (2) Adam Smith
- (3) Heckscher Ohlin
- (4) Taussig

31. Why is Joan of Arc remembered ?

- (1) She led a peasant uprising that ended feudalism.
- (2) She led the French to victories against the English in the hundred years war.
- (3) She led the English troops in the hundred years war.
- (4) She drove the English from Calics.

32. “Germany, Austria-Hungary and Italy form triple alliance.”

“Serbian Nationalism grows in Balkans.”

“Archduke Franz Ferdinand assassinated in Bosnia.”

The events in the above headlines contributed most directly to which of the following ?

- (1) Beginning of World War I
- (2) Outbreak of Cold War
- (3) Development of Communist Rule in Europe
- (4) Strengthening of European Monarchies

33. Which of the following statements about the League of Nations is *not* true ?

- (1) It was conceived by Woodrow Wilson.
- (2) It was rejected by the US Congress.
- (3) It was designed to solve international disputes through arbitration and it had no power to enforce its decisions.
- (4) It was dominated by the countries of Europe.

34. Although he called himself a Marxist, Lenin, unlike Marx, believed that

- (1) The revolution would be led by rural peasants, not industrial workers.
- (2) The revolution would be led by a small, highly disciplined party acting on behalf of the workers.
- (3) The revolution would be led by the intelligentsia acting on behalf of all Russian people.
- (4) The revolution will not be successful until Russian workers were joined by workers all over the world.

35. ನಿಕೋಲಸ್ II ನನ್ನು ಪದಚ್ಯುತಿಯನ್ನೆದುರಿಸಿದ್ದು ಯಾವಾಗ ಎಂದರೆ

- (1) ಬೋಲ್ಡ್ವಿಕ್‌ರು ಚಳಿಗಾಲದ ಅರಮನೆಯತ್ತ ಕಲ್ಲುಹಾಸಿದಾಗ.
- (2) ಹತ್ಯೆಯ ಪ್ರಯತ್ನವು ವಿವರಿಸಿದ್ದೇನೆಂದರೆ ಅವನ ಕುಟುಂಬವು ಅಪಾಯದ ಸ್ಥಿತಿಯಲ್ಲಿದ್ದುದನ್ನು.
- (3) ರಾಜಧಾನಿಯಲ್ಲಿ ದಳಗಳು ರಕ್ಷಣಾ ಸೈನ್ಯವು ದಂಗೆ ಎದ್ದಾಗ.
- (4) ಜರ್ಮನ್ ದಳಗಳು ಯುಕ್ರೇನ್‌ನ್ನು ಸ್ವಾಧೀನಪಡಿಸಿಕೊಂಡಾಗ.

36. IIನೇ ವಿಶ್ವ ಮಹಾಯುದ್ಧಕ್ಕೆ ಸಂಬಂಧಿಸಿದಂತೆ, ಹತ್ಯಾಕಾಂಡ ಪದವು ಕೆಳಗಿನ ಯಾವುದನ್ನು ಕುರಿತದ್ದಾಗಿದೆ ?

- (1) ಹಿಟ್ಲರ್‌ನ ಕಾರ್ಯಾಚರಣೆಯು ಜರ್ಮನಿಗೆ ಹೆಚ್ಚು ಬದುಕುವ ಅವಕಾಶವನ್ನು ಒದಗಿಸಲಿಕ್ಕಾಗಿ.
- (2) ಅಮೇರಿಕಾದ ಅಣು ಬಾಂಬ್, ಹಿರೋಷಿಮಾ ಮತ್ತು ನಾಗಸಾಕಿಗಳ ವಿನಾಶವನ್ನುಂಟು ಮಾಡಿತು.
- (3) ಅಮೇರಿಕಾದ ಪ್ರಯತ್ನವು ಹಿಟ್ಲರ್‌ನಿಂದ ಜ್ಯೂಗಳ ನಿರ್ಮೂಲನವನ್ನು ತಡೆಯುವುದಾಗಿತ್ತು.
- (4) ಹಿಟ್ಲರ್‌ನ ಕಾರ್ಯಾಚರಣೆಯು ಜ್ಯೂಗಳನ್ನು ನಿರ್ಮೂಲಗೊಳಿಸುವುದಾಗಿತ್ತು.

37. ಪ್ರಪಂಚದ ಎರಡನೇ ಮಹಾಯುದ್ಧದ ಅಂತಿಮ ತಿಂಗಳುಗಳಲ್ಲಿ, ಯುರೋಪ್ ಅಮೇರಿಕಾ ಮತ್ತು ಬ್ರಿಟಿಷ್ ಬಲಗಳು

- (1) ಜರ್ಮನಿಯ ಹೃದಯಕ್ಕೆ ತಳ್ಳಲ್ಪಟ್ಟಿತು ಆಗ ಸೋವಿಯತ್ ದಳಗಳು ಪೋಲೆಂಡ್‌ನಲ್ಲಿ ಸಿಕ್ಕಿಹಾಕಿಕೊಂಡಿತ್ತು.
- (2) ಪಶ್ಚಿಮದಿಂದ ಜರ್ಮನಿಯ ಪ್ರದೇಶ ಮತ್ತು ಸೋವಿಯತ್ ದಳಗಳು ಪೂರ್ವದಿಂದ ಜರ್ಮನಿಯ ಪ್ರವೇಶ ಮತ್ತು ಬರ್ಲಿನ್‌ನ್ನು ವಶಪಡಿಸಿಕೊಂಡದ್ದು.
- (3) ಸೋವಿಯತ್ ಬಲದೊಂದಿಗೆ ಸಂಪರ್ಕ ಹೊಂದುವವರೆಗೂ ರೈನ್ ನದಿಯುದ್ದಕ್ಕೂ ಜರ್ಮನಿಯ ಹೊರಗೆ ನೆಲೆಯಾಗಿದ್ದು.
- (4) ರಾಜಧಾನಿ ನಗರದಲ್ಲಿ ಸೋವಿಯತ್ ದಳಗಳ ಆಗಮನದ ಮುನ್ನ ಹಿಟ್ಲರ್‌ನ ಮೇಲೆ “ನಾಕ್-ಔಟ್ ಪಂಚ್” ನ್ನು ಗಳಿಸಲಿಕ್ಕಾಗಿ ಬರ್ಲಿನ್‌ನತ್ತ ಧಾವಿಸಿದ್ದು.

38. ಸುಧಾರಣೆಯ “ಉಷಾತಾರೆ” ಎಂದು ಯಾರನ್ನು ಕರೆಯಲಾಗಿದೆ ?

- (1) ಜಾನ ವೈಕ್ಲಿಫ್
- (2) ಮಾರ್ಟಿನ್ ಲೂಥರ್
- (3) ಜಾನ ಕ್ಯಾಲ್ವಿನ್
- (4) VIII ನೇ ಹೆನ್ರಿ

39. ಶ್ರೀರಂಗಪಟ್ಟಣದಲ್ಲಿ ಸ್ವಾತಂತ್ರ್ಯದ ವ್ಯಕ್ತವನ್ನು ನೆಟ್ಟವರು ಯಾರು ?

- (1) ಹೈದರ್ ಅಲಿ
- (2) ಟಿಪ್ಪು ಸುಲ್ತಾನ್
- (3) ಚಿಕ್ಕ ದೇವರಾಜ ಒಡೆಯರ್
- (4) ಸಂಗೊಳ್ಳಿ ರಾಯಣ್ಣ

35. Nicholas II was forced to abdicate when

- (1) Bolsheviks stoned the winter palace.
- (2) An assassination attempt revealed that his family was in danger.
- (3) Troops garrisoned in the capital mutinied.
- (4) German forces seized Ukraine.

36. With reference to World War II, the term Holocaust refers to which of the following ?

- (1) Hitler's campaign to provide German with more living spaces.
- (2) The American nuclear bomb destruction of Hiroshima and Nagasaki.
- (3) The American effort to prevent Hitler's extermination of the Jews.
- (4) Hitler's campaign to exterminate the Jews.

37. In the final months of World War II in Europe, American and British forces

- (1) Pushed into the heart of Germany while Soviet troops bogged down in Poland.
- (2) Entered Germany from the west and Soviet troops entered Germany from the east and occupied Berlin.
- (3) Stalled along the Rhine river just outside Germany until they linked with Soviet forces.
- (4) Rushed towards Berlin to gain a "knock-out punch" on Hitler before the Soviet troops could arrive in the capital city.

38. Who is called the "Morning Star" of Reformation ?

- (1) John Wycliffe
- (2) Martin Luther
- (3) John Calvin
- (4) Henry VIII

39. Who planted the Tree of Liberty at Srirangapatna ?

- (1) Haider Ali
- (2) Tipu Sultan
- (3) Chikka Devaraja Wodeyar
- (4) Sangolli Rayanna

40. ಈ ಪೈಕಿ ಸರಿಯಾದ ಹೊಂದಿಕೆಯ ಜೋಡಿ ಯಾವುದು ?
ನಗ್ನೀಕರಣ/ ಸ್ವರದರ್ಶನದ ಜಿಯೋಮಾರ್ಫಿಕ್
ಮಧ್ಯವರ್ತಿ (ಭೂರೂಪಶಾಸ್ತ್ರ)

ವೈಶಿಷ್ಟ್ಯ

- (1) ಹಿಮನದಿ - ಬರ್ಕ್‌ಹಾನ್ಸ್
(2) ಮಾರುತ - ಸ್ಟಾಲ್ಕ್ವೆಟ್
(3) ಅಂತರ್ಜಲ - ಪೊನಾರ್ಸ್
(4) ಸಮುದ್ರ ಅಲೆಗಳು - ಡ್ರಮ್‌ಲಿನ್ಸ್

41. ಈ ಕೆಳಗಿನ ಹೇಳಿಕೆಗಳನ್ನು ಪರಿಗಣಿಸಿ :

- A. ಮರಗಳು ಏಕ ಮರಯುತ ಮೇಲ್ಮುಖ ಪ್ರಧಾನತೆಯ ಬೊಡ್ಡೆಯವು.
B. ಪೊದೆಗಳು ಅನೇಕ ಮರಯುತ ಕಾಂಡಗಳುಳ್ಳವಾಗಿದ್ದು ನೆಲದ ಮೇಲ್ದರದಲ್ಲಿ ಕವಲಾಗುವವು.
C. ಲಿಯನಾಗಳು ಮರಯುತವಾದ ಸಸ್ಯಗಳಾಗಿದ್ದು ದ್ರಾಕ್ಷಿಯಂತೆ ಮರ ಮತ್ತು ಪೊದೆಗಳ ಆಧಾರ ಪಡೆದವು.
D. ಮೂಲಿಕಾ ಸಸ್ಯಗಳು ಮರದಕಾಂಡ ಇಲ್ಲದವು ಮತ್ತು ಸಾಮಾನ್ಯಾಗಿ ಕಿರುಮೈದುವಾದ ಎಳಸಾದ ಸಸ್ಯಗಳು.

ಈ ಮೇಲಿನ ಹೇಳಿಕೆಗಳಲ್ಲಿ ಯಾವುವು ಸರಿ ?

ನೀಡಿರುವ ಆಯ್ಕೆಗಳಲ್ಲಿ ಸರಿಯಾದ ಉತ್ತರಕ್ಕಾಗಿ ಸಂಕೇತವನ್ನಾರಿಸಿ :

- (1) A, B ಮತ್ತು C ಮಾತ್ರ
(2) A, C ಮತ್ತು D ಮಾತ್ರ
(3) B, C ಮತ್ತು D ಮಾತ್ರ
(4) A, B, C ಮತ್ತು D

42. “ವರ್ತಮಾನವು ಗತಕಾಲಕ್ಕೆ ಕಿಲಿಕ್ಕಿ” ಎಂಬ ತತ್ವವನ್ನು ಪ್ರತಿಪಾದಿಸಿದವರು

- (1) ಬಿ.ಡಬ್ಲ್ಯೂ. ಸ್ವಾರ್ಕ್
(2) ಜೆ. ಹಟ್ಚಿನ್
(3) ಡಬ್ಲ್ಯೂ.ಡಿ. ಥಾನ್‌ಬರಿ
(4) ಮಾಂಕ್‌ಹೌಸ್

43. ಕೆಳಗಿನ ಹೇಳಿಕೆಗಳನ್ನು ಪರಿಕ್ಷಿಸಿ ಮತ್ತು ತಪ್ಪಾಗಿರುವುದನ್ನು ಆಯ್ಕೆಮಾಡಿ :

- (1) ಬಿಗ್-ಬ್ಯಾಂಗ್ (ಮಹಾಭಾಜಣೆ) ಆಧಾರಭಾವನೆಯನ್ನು ಪ್ರತಿಪಾದಿಸಿದವರು ಈ.ಎಮ್. ಡ್ರೊಬಿಷೆವ್‌ಸಿ
(2) ಅಂತರ್‌ತಾರಾ ಆಧಾರಭಾವನೆಯನ್ನು ಪ್ರತಿಪಾದಿಸಿದವರು ಓ. ಸ್ವಿಡ್ಲ್ಡ್
(3) ಅಧಿನವ್ಯ (ಸೂಪರ್‌ನೋವಾ ಆಧಾರಭಾವನೆಯನ್ನು) ಪ್ರತಿಪಾದಿಸಿದವರು ಎಫ್. ಹೊಯ್ಲ್
(4) ಗ್ರಹಕಣ ಆಧಾರ ಭಾವನೆಯನ್ನು ಪ್ರತಿಪಾದಿಸಿದವರು ಜೇಮ್ಸ್ ಮತ್ತು ಜೆಫೆರೆಸ್.

44. ಈ ಕೆಳಗಿನ ಹೇಳಿಕೆಗಳನ್ನು ಪರಿಗಣಿಸಿ :

ಹೇಳಿಕೆ (ಎ) :

ಹಿಮನದಿಗಳನ್ನು ವಿಶಾಲ ಜಲಶಾಸ್ತ್ರೀಯ ಚಕ್ರದ ಭಾಗವೆಂದು ಪರಿಗಣಿತವಾಗಿಲ್ಲ

ಕಾರಣ (ಆರ್) :

ಹಿಮನದಿಗಳು ಚಲಿಸುವ ಶಕ್ತಿ ಮತ್ತು ವಸ್ತುವಿನ ಧಾರಮೋತ್ತರ ತೆರೆದ ವ್ಯವಸ್ಥೆಗೆ ಒಂದು ಉದಾಹರಣೆ.

ನೀಡಿರುವ ಆಯ್ಕೆಗಳಲ್ಲಿ ಸರಿಯಾದ ಉತ್ತರಕ್ಕಾಗಿ ಸಂಕೇತವನ್ನಾರಿಸಿ :

- (1) ಎ ಮತ್ತು ಆರ್ ಎರಡೂ ಸರಿ ಮತ್ತು ಆರ್‌ವು ಎ ಯ ಸರಿಯಾದ ವಿವರಣೆ
(2) ಎ ಮತ್ತು ಆರ್ ಎರಡೂ ಸರಿ ಆದರೆ ಆರ್‌ವು ಎ ಯ ಸರಿಯಾದ ವಿವರಣೆ ಅಲ್ಲ
(3) ಎ ಸರಿ ಆದರೆ ಆರ್ ತಪ್ಪು
(4) ಎ ತಪ್ಪು ಆದರೆ ಆರ್ ಸರಿ

40. Which one of the following pairs is correctly matched ?

<i>Agent of Denudation</i>	<i>Geomorphic Feature</i>
----------------------------	---------------------------

- (1) Glacier – Barkhans
- (2) Wind – Stalactite
- (3) Underground water – Ponars
- (4) Sea waves – Drumlins

41. Consider the following statements :

- A. Trees have a single woody upright main trunk.
- B. Shrubs have several woody stems branching out near the soil surface.
- C. Lianas are woody plants like vines supported on trees and shrubs.
- D. Herbs lack woody stems and are usually small tender plants.

Which of the above statements are correct ?

Select the code for the correct answer from the options given below :

- (1) A, B and C only
- (2) A, C and D only
- (3) B, C and D only
- (4) A, B, C and D

42. The principle “Present is the Key to the Past” was put forth by

- (1) B.W. Spark
- (2) J. Hutton
- (3) W.D. Thornbury
- (4) Monkhouse

43. Examine the following statements and choose the **wrong** one :

- (1) Big-Bang hypothesis was propounded by E.M. Drobyshevski
- (2) Interstellar hypothesis was propounded by O. Schimdt
- (3) Supernova hypothesis was propounded by F. Hoyle
- (4) Planetesimal hypothesis was propounded by James and Jeffreys.

44. Consider the following statements :

Assertion (A) :

Glaciers are not considered as a part of the larger hydrological cycle.

Reason (R) :

Glacier is an example of a cascading open system of moving energy and material.

Select the correct answer from the options given below :

- (1) Both A and R are correct, and R explains A
- (2) Both A and R are correct, but R does not explain A
- (3) A is correct but R is incorrect
- (4) A is incorrect but R is correct

45. ಪಟ್ಟಿ I (ಪದರಗಳು) ಮತ್ತು ಪಟ್ಟಿ II (ಗುಣಲಕ್ಷಣಗಳು) ನ್ನು ಹೊಂದಿಸಿ ಬರೆಯಿರಿ :

	ಪಟ್ಟಿ I (ಪದರಗಳು)		ಪಟ್ಟಿ II (ಗುಣಲಕ್ಷಣಗಳು)
A.	ಅಯಾನು ಗೋಳ I.		ಓಜೋನ್ ಅಸ್ತಿತ್ವ
B.	ವಾಯು ಗೋಳ/ಮಂಡಲ	II.	ರೇಡಿಯೋ ಅಲೆಗಳು ಪ್ರತಿಫಲನ ಗೊಳ್ಳುವುದು
C.	ಬಾಹ್ಯ ಗೋಳ	III.	ತಾಪಮಾನದಲ್ಲಿ ಇಳಿಕೆ
D.	ಹವಾ ಗೋಳ	IV.	ಎತ್ತರದೊಂದಿಗೆ ತಾಪಮಾನದಲ್ಲಿನ ಹೆಚ್ಚಳ

ಸಂಕೇತಗಳ ಸಹಾಯದಿಂದ ಸರಿ ಉತ್ತರಗಳನ್ನು ಆರಿಸಿ :

	A	B	C	D
(1)	II	III	IV	I
(2)	II	I	III	IV
(3)	II	I	IV	III
(4)	II	III	I	IV

46. ಉಪ ಉಷ್ಣಪಟ್ಟಿಯಲ್ಲಿ ಅಧಿಕ ಒತ್ತಡ ವಲಯವು ಉಂಟಾಗಲು ಮುಖ್ಯ ಕಾರಣ

- (1) ಗಾಳಿಯ ಅಪಸರಣ
- (2) ಗಾಳಿಯ ತಗ್ಗಿಕೆ
- (3) ಅಧಿಕತಾಪ ಇರುವುದು
- (4) ಕಡಿಮೆ ತಾಪ ಇರುವುದು

47. ಈ ಕೆಳಗಿನ ಹೇಳಿಕೆಗಳನ್ನು ಪರಿಗಣಿಸಿ :

ಹೇಳಿಕೆ (ಎ) :

ಬೃಹತ್ ಪ್ರಮಾಣದ ಮಾನವನ ವೈವಿಧ್ಯೀಕರಣ ಚಟುವಟಿಕೆಗಳಿಂದಾಗಿ ನಗರ ಕೇಂದ್ರಗಳನ್ನು ಉಷ್ಣದ್ವೀಪಗಳೆಂದು ಪರಿಗಣಿಸಿದೆ.

ಕಾರಣ (ಆರ್) :

ನಗರ ರಚನೆಯ ಪ್ರವೃತ್ತಿಯು ನೈಸರ್ಗಿಕ ಸ್ವರೂಪಕ್ಕಿಂತ ವಿಭಿನ್ನವಾಗಿರುವುದು.

ನೀಡಿರುವ ಆಯ್ಕೆಗಳಲ್ಲಿ ಸರಿಯಾದ ಉತ್ತರಕ್ಕಾಗಿ ಸಂಕೇತವನ್ನಾರಿಸಿ :

- (1) ಎ ಮತ್ತು ಆರ್ ಎರಡೂ ಸರಿ ಮತ್ತು ಆರ್‌ವು ಎ ಯ ಸರಿಯಾದ ವಿವರಣೆ
- (2) ಎ ಮತ್ತು ಆರ್ ಎರಡೂ ಸರಿ ಆದರೆ ಆರ್‌ವು ಎ ಯ ಸರಿಯಾದ ವಿವರಣೆ ಅಲ್ಲ
- (3) ಎ ಸರಿ ಆದರೆ ಆರ್ ತಪ್ಪು
- (4) ಎ ತಪ್ಪು ಆದರೆ ಆರ್ ಸರಿ

48. ಪಟ್ಟಿ I (ಕಂದಕಗಳು) ಮತ್ತು ಪಟ್ಟಿ II (ಸಾಗರ) ನ್ನು ಹೊಂದಿಸಿ ಬರೆಯಿರಿ :

	ಪಟ್ಟಿ I (ಕಂದಕಗಳು)		ಪಟ್ಟಿ II (ಸಾಗರ)
A.	ಆಲ್ಟಿಚ್ / ತೊಂಗಾ I.		ದಕ್ಷಿಣ ಹಿಂದೂ ಮಹಾಸಾಗರ
B.	ಚಾಲೆಂಜರ್	II.	ದಕ್ಷಿಣ ಫೆಸಿಫಿಕ್ ಸಾಗರ
C.	ನರೇರ / ಪ್ಯೂರ್ಟೋ ರಿಕೋ	III.	ದಕ್ಷಿಣ ಅಟ್ಲಾಂಟಿಕ್ ಸಾಗರ
D.	ಸುಂಡಾ	IV.	ಉತ್ತರ ಅಟ್ಲಾಂಟಿಕ್ ಸಾಗರ

ಸಂಕೇತಗಳ ಸಹಾಯದಿಂದ ಸರಿ ಉತ್ತರಗಳನ್ನು ಆರಿಸಿ :

	A	B	C	D
(1)	II	I	III	IV
(2)	II	III	IV	I
(3)	I	III	II	IV
(4)	I	IV	III	II

45. Match the Layers (List I) with the Characters (List II) :

<i>List I</i> (Layer)	<i>List II</i> (Character)
A. Ionosphere	I. Presence of ozone
B. Stratosphere	II. Radio waves are reflected
C. Exosphere	III. Decrease in temperature
D. Troposphere	IV. Increase in temperature with height

Select the code for the correct answer from the options given below :

	A	B	C	D
(1)	II	III	IV	I
(2)	II	I	III	IV
(3)	II	I	IV	III
(4)	II	III	I	IV

46. The main cause of the high pressure belt in the sub-tropical belt is

- (1) Divergence of the air
- (2) Subsidence of the air
- (3) Presence of high temperature
- (4) Presence of low temperature

47. Consider the following statements :

Assertion (A) :

Urban centres are considered as heat islands due to large scale diversified activities of man.

Reason (R) :

The behaviour of the urban structures is quite distinct from natural structures.

Select the correct answer from the options given below :

- (1) Both A and R are correct, and R explains A
- (2) Both A and R are correct, but R does not explain A
- (3) A is correct but R is incorrect
- (4) A is incorrect but R is correct

48. Match the Trenches (List I) with the Oceans (List II) :

<i>List I</i> (Trench)	<i>List II</i> (Ocean)
A. Aldrich/Tonga	I. South Indian Ocean
B. Challenger	II. South Pacific Ocean
C. Narer/Puerto Rico	III. South Atlantic Ocean
D. Sunda	IV. North Atlantic Ocean

Select the code for the correct answer from the options given below :

	A	B	C	D
(1)	II	I	III	IV
(2)	II	III	IV	I
(3)	I	III	II	IV
(4)	I	IV	III	II

49. ಈ ಕೆಳಗಿನ ಹೇಳಿಕೆಗಳನ್ನು ಗಮನಿಸಿ :
- A. ಪ್ರಕಾಶ ಭರಿತ ಬೆಳಕಿನ ನೀರು ಹವಳದ ಉತ್ತಮ ಬೆಳವಣಿಗೆಗೆ ಸಹಾಯಕ.
- B. ಸಾಮಾನ್ಯವಾಗಿ ಹವಳ ದ್ವಿಪಗಳು 9 ಕಿ.ಮೀ. ಆಳದ ವರೆಗೆ ಬೆಳವಣಿಗೆಯಾಗುವುವು.
- C. ಹವಳಗಳ ಕಾಯದ ಮೇಲೆ “ಸನ್ ಲೋಷನ್” ಇದೆ.
- D. ಸಾಗರ ತಾಪ 20°C ಗಿಂತ ಕಡಿಮೆ ಇದ್ದರೆ ಹವಳಗಳು ಉಳಿಯಲಾರವು.

ಈ ಮೇಲಿನ ಹೇಳಿಕೆಗಳಲ್ಲಿ ಯಾವುವು ಸರಿ ?

ನೀಡಿರುವ ಆಯ್ಕೆಗಳಲ್ಲಿ ಸರಿಯಾದ ಉತ್ತರಕ್ಕಾಗಿ ಸಂಕೇತವನ್ನಾರಿಸಿ :

- (1) A, B, C ಮತ್ತು D
 (2) B, C ಮತ್ತು D ಮಾತ್ರ
 (3) A, C ಮತ್ತು D ಮಾತ್ರ
 (4) A, B ಮತ್ತು C ಮಾತ್ರ

50. ಈ ಕೆಳಗಿನ ಭೂರೂಪ ಪ್ರಕ್ರಿಯೆಯನ್ನು ಸರಿಯಾದ ಅನುಕ್ರಮದಲ್ಲಿ ಜೋಡಿಸಿದ ಉತ್ತರವನ್ನು ಗುರುತಿಸಿ :

- A. ನಿಕ್ಷೇಪನ
 B. ಸವಕಳಿ
 C. ಸಾಗಣೆ
 D. ಒತ್ತಟ್ಟಿನ

ನೀಡಿರುವ ಆಯ್ಕೆಗಳಲ್ಲಿ ಸರಿಯಾದ ಉತ್ತರಕ್ಕಾಗಿ ಸಂಕೇತವನ್ನಾರಿಸಿ :

- (1) B, D, C, A
 (2) B, D, A, C
 (3) B, C, A, D
 (4) D, C, B, A

51. ಹವಾಗೋಲದಲ್ಲಿನ ತಾಪಮಾನದ ಸರಾಸರಿ ಪರಿಸರಾತ್ಮಕ ಉಷ್ಣದರವು

- (1) ಕಿ.ಮೀ. ಗೆ 6.4°C
 (2) ಕಿ.ಮೀ. ಗೆ 5.4°C
 (3) ಕಿ.ಮೀ. ಗೆ 4.4°C
 (4) ಕಿ.ಮೀ. ಗೆ 7.4°C

52. ಪಟ್ಟಿ I (ಕೊಪ್ಪೆನ್ ಚಿಹ್ನೆ) ಮತ್ತು ಪಟ್ಟಿ II (ಹವಾಮಾನ ಪ್ರಕಾರ) ನ್ನು ಹೊಂದಿಸಿ ಬರೆಯಿರಿ :

ಪಟ್ಟಿ I (ಕೊಪ್ಪೆನ್ ಚಿಹ್ನೆ)	ಪಟ್ಟಿ II (ಹವಾಮಾನ ಪ್ರಕಾರ)
A. ಬಿ.ಡಬ್ಲ್ಯು.ಕೆ. I.	ಶೀತ ಮಧ್ಯ ಅಕ್ಷಾಂಶ ಸ್ವೆಪ್ಪೀ
B. ಬಿ.ಡಬ್ಲ್ಯು.ಹೆಚ್. II.	ಬಿಸಿ ಮಧ್ಯ ಅಕ್ಷಾಂಶ ಸ್ವೆಪ್ಪೀ
C. ಬಿ.ಎಸ್.ಹೆಚ್. III.	ಬಿಸಿ ಕೆಳ ಅಕ್ಷಾಂಶ ಮರುಭೂಮಿ
D. ಬಿ.ಎಸ್.ಕೆ. IV.	ಶೀತ ಕೆಳ ಅಕ್ಷಾಂಶ ಮರುಭೂಮಿ

ಸಂಕೇತಗಳ ಸಹಾಯದಿಂದ ಸರಿ ಉತ್ತರಗಳನ್ನು ಆರಿಸಿ :

	A	B	C	D
(1)	IV	III	II	I
(2)	IV	II	III	I
(3)	I	III	II	IV
(4)	I	II	III	IV

49. Examine the statements given below :

- A. Bright lighted water helps the corals to grow well.
- B. Generally coral reefs develop to a depth of 9 km.
- C. Corals have “Sun lotion” on their bodies.
- D. Corals cannot live if the temperature of the sea water falls below 20°C.

Which of the above statements are correct ?

Select the code for the correct answer from the options given below :

- (1) A, B, C and D
- (2) B, C and D only
- (3) A, C and D only
- (4) A, B and C only

50. Arrange the following geomorphic processes in a sequential order :

- A. Deposition
- B. Weathering
- C. Transportation
- D. Compaction

Select the code for the correct answer from the options given below :

- (1) B, D, C, A
- (2) B, D, A, C
- (3) B, C, A, D
- (4) D, C, B, A

51. The average environmental lapse rate of temperature in the troposphere is

- (1) 6.4°C per km
- (2) 5.4°C per km
- (3) 4.4°C per km
- (4) 7.4°C per km

52. Match the Koeppen’s Symbols (List I) with the Climate Types (List II) :

<i>List I</i> (Koeppen’s Symbol)	<i>List II</i> (Climate Type)
A. BWk	I. Cold mid latitude steppe
B. BWh	II. Hot mid latitude steppe
C. BSh	III. Hot low latitude desert
D. BSk	IV. Cold low latitude desert

Select the code for the correct answer from the options given below :

	A	B	C	D
(1)	IV	III	II	I
(2)	IV	II	III	I
(3)	I	III	II	IV
(4)	I	II	III	IV

53. ಈ ಸೇವೆಗಳ ಪೈಕಿ ಯಾವುದು ಸಂವಿಧಾನದಲ್ಲಿ ನಮೂದಾಗಿದೆ ?

- A. ಭಾರತೀಯ ಆಡಳಿತ ಸೇವೆ
- B. ಭಾರತೀಯ ಅರಣ್ಯ ಸೇವೆ
- C. ಭಾರತೀಯ ಪೊಲೀಸು ಸೇವೆ
- D. ಅಖಿಲಭಾರತ ನ್ಯಾಯಾಂಗ ಸೇವೆ
- E. ಭಾರತೀಯ ವಿದೇಶ ಸೇವೆ

ನೀಡಿರುವ ಆಯ್ಕೆಗಳಲ್ಲಿ ಸರಿಯಾದ ಉತ್ತರಕ್ಕಾಗಿ ಸಂಕೇತವನ್ನಾರಿಸಿ :

- (1) A ಮತ್ತು C ಮಾತ್ರ
- (2) A, B ಮತ್ತು C ಮಾತ್ರ
- (3) A, C ಮತ್ತು E ಮಾತ್ರ
- (4) A, C ಮತ್ತು D ಮಾತ್ರ

54. ರಾಷ್ಟ್ರಪತಿಗಳ ಹಾಗೂ ರಾಜ್ಯಪಾಲರ ಕ್ಷಮಾಪಣೆಯ ಅಧಿಕಾರ ಕುರಿತಂತೆ ಈ ಹೇಳಿಕೆಗಳನ್ನು ಪರಿಗಣಿಸಿ :

- A. ರಾಷ್ಟ್ರಪತಿಯವರು ಮರಣದಂಡನೆರದ್ದು ಪಡಿಸಬಲ್ಲರು, ಆದರೆ ರಾಜ್ಯಪಾಲರು ಅಲ್ಲ.
- B. ರಾಜ್ಯಪಾಲರು ಕೋರ್ಟ್ ಮಾರ್ಷಲ್ ದಂಡನೆಯನ್ನು ಕ್ಷಮಿಸಬಲ್ಲರು, ಆದರೆ ರಾಷ್ಟ್ರಪತಿಗೆ ಸಾಧ್ಯವಿಲ್ಲ.

ಈ ಮೇಲಿನ ಹೇಳಿಕೆಗಳಲ್ಲಿ ಯಾವುದು / ವು ಸರಿ ?

ನೀಡಿರುವ ಆಯ್ಕೆಗಳಲ್ಲಿ ಸರಿಯಾದ ಉತ್ತರಕ್ಕಾಗಿ ಸಂಕೇತವನ್ನಾರಿಸಿ :

- (1) A ಮಾತ್ರ
- (2) B ಮಾತ್ರ
- (3) A ಮತ್ತು B ಎರಡೂ
- (4) A ಆಗಲೀ ಅಥವಾ B ಆಗಲೀ ಅಲ್ಲ

55. ಸಾರ್ವಜನಿಕ ಲೆಕ್ಕ ಪತ್ರಸಮಿತಿ ಅನುಮೋದಿಸಿದ ನಂತರವೇ ಲೋಕಸಭೆಯ ಮತಕ್ಕಾಗಿ ಮಂಡಿಸುವಂತಹುದು ಕೆಳಗಿನವುಗಳಲ್ಲಿ ಯಾವುದು ?

- (1) ಹೆಚ್ಚುವರಿ ಅನುದಾನ
- (2) ವಿಶೇಷ ಅನುದಾನ
- (3) ಸಾಂಕೇತಿಕ ಅನುದಾನ
- (4) ಅಧಿಕ ಅನುದಾನ

56. ಪಟ್ಟಿ I ಮತ್ತು ಪಟ್ಟಿ II ನ್ನು ಹೊಂದಿಸಿ ಬರೆಯಿರಿ :

ಪಟ್ಟಿ I

ಪಟ್ಟಿ II

- A. ಆಸ್ತಿ ಮುಟ್ಟುಗೋಲು I. ಅರ್ಹ ವೀಟೋ
- B. ಸಾಮಾನ್ಯ II. ಪಾಕೆಟ್ ವೀಟೋ ಬಹುಮತದಿಂದ ಮೀರುವುದು
- C. ಮಸೂದೆ ಮೇಲೆ ಕ್ರಮ III. ನಿರಪೇಕ್ಷ ವೀಟೋ ಜರಗಿಸದಿರುವುದು
- D. ಅಧಿಕ IV. ನಿಲಂಬಿತ ವೀಟೋ ಬಹುಮತದಿಂದ ಮೀರುವುದು
- V. ಬಹುಮತ ವೀಟೋ

ಸಂಕೇತಗಳ ಸಹಾಯದಿಂದ ಸರಿ ಉತ್ತರಗಳನ್ನು ಆರಿಸಿ :

	A	B	C	D
(1)	III	V	II	I
(2)	IV	III	II	V
(3)	V	III	I	II
(4)	III	IV	II	I

57. 1979 ರಷ್ಟು ಪೂರ್ವದಲ್ಲಿಯೇ ಪಕ್ಷಾಂತರ ನಿಷೇಧಿ ಕಾಯ್ದೆ ಜಾರಿಗೆ ತಂದ ರಾಜ್ಯ ಈ ಕೆಳಗಿನವುಗಳಲ್ಲಿ ಯಾವುದು

- (1) ಕೇರಳ
- (2) ಜಮ್ಮು ಮತ್ತು ಕಾಶ್ಮೀರ
- (3) ಪಶ್ಚಿಮ ಬಂಗಾಳ
- (4) ತಮಿಳುನಾಡು

53. Which of the following services find mention in the Constitution ?

- A. Indian Administrative Service
- B. Indian Forest Service
- C. Indian Police Service
- D. All India Judicial Service
- E. Indian Foreign Service

Select the code for the correct answer from the options given below :

- (1) A and C only
- (2) A, B and C only
- (3) A, C and E only
- (4) A, C and D only

54. Consider the following statements regarding the pardoning power of the President and the Governor :

- A. The President can pardon death sentences while the Governor cannot.
- B. The Governor can pardon sentences inflicted by Court-Martial but the President cannot.

Which of the above statements is/are correct ?

Select the code for the correct answer from the options given below :

- (1) A only
- (2) B only
- (3) Both A and B
- (4) Neither A nor B

55. Which of the following must be approved by the Public Accounts Committee before being submitted to the Lok Sabha for voting ?

- (1) Additional Grant
- (2) Exceptional Grant
- (3) Token Grant
- (4) Excess Grant

56. Match List I with List II :

List I

List II

- | | |
|---------------------------------------|---------------------|
| A. Withholding of assent | I. Qualified veto |
| B. Overridden by an ordinary majority | II. Pocket veto |
| C. Taking no action on the bill | III. Absolute veto |
| D. Overridden by a higher majority | IV. Suspensive veto |
| | V. Majority veto |

Select the code for the correct answer from the options given below :

- | | A | B | C | D |
|-----|----------|----------|----------|----------|
| (1) | III | V | II | I |
| (2) | IV | III | II | V |
| (3) | V | III | I | II |
| (4) | III | IV | II | I |

57. The Anti-Defection Law was enacted as early as 1979 in which of the following States ?

- (1) Kerala
- (2) Jammu and Kashmir
- (3) West Bengal
- (4) Tamil Nadu

58. 1996 – 1997 ರ ಅವಧಿಯಲ್ಲಿ ಆಡಳಿತ ನಡೆಸಿದ ಯುನೈಟೆಡ್ ಫ್ರಂಟ್‌ಸರ್ಕಾರದ ಭಾಗವಲ್ಲದ ರಾಜಕೀಯ ಪಕ್ಷ ಕೆಳಗಿನವುಗಳಲ್ಲಿ ಯಾವುದು ?

- A. ಬಹುಜನ ಸಮಾಜ ಪಕ್ಷ
- B. ಸಮತಾ ಪಕ್ಷ
- C. ಹರಿಯಾಣ ವಿಕಾಸ ಪಕ್ಷ
- D. ಅಸ್ಸಾಮ್ ಗಣಪರಿಷತ್

ನೀಡಿರುವ ಆಯ್ಕೆಗಳಲ್ಲಿ ಸರಿಯಾದ ಉತ್ತರಕ್ಕಾಗಿ ಸಂಕೇತವನ್ನಾರಿಸಿ :

- (1) A, B, C ಮತ್ತು D
- (2) A, B ಮತ್ತು C ಮಾತ್ರ
- (3) C ಮತ್ತು D ಮಾತ್ರ
- (4) A ಮತ್ತು B ಮಾತ್ರ

59. ಸಾರ್ವಜನಿಕ ಹಿತಾಸಕ್ತಿ ಅರ್ಜಿಯ ಪರಿಕಲ್ಪನೆ (ಪಿ.ಐ.ಎಲ್.) ಮೂಲತಃ ಕೆಳಗಿನ ಯಾವ ದೇಶದಲ್ಲಿ ಉಗಮವಾಯಿತು ?

- (1) ಯುನೈಟೆಡ್ ಕಿಂಗ್‌ಡಂ
- (2) ಆಸ್ಟ್ರೇಲಿಯಾ
- (3) ಅಮೇರಿಕಾ ಸಂಯುಕ್ತ ಸಂಸ್ಥಾನ
- (4) ಕೆನಡಾ

60. ಭಾರತದ ರಾಷ್ಟ್ರಾಧ್ಯಕ್ಷರು ವೀಟೋವನ್ನು ಚಲಾಯಿಸಿದ ಏಕೈಕ ಪ್ರಸಂಗ ಇದಕ್ಕೆ ಸಂಬಂಧಿಸಿದ್ದು

- (1) ಹಿಂದೂ ಸಂಹಿತೆ ಮಸೂದೆ
- (2) ಪೆಪ್ಸು (PEPSU) ವಿನಿಯೋಗ ಮಸೂದೆ
- (3) ಭಾರತ ಅಂಚೆ ಕಚೇರಿ ತಿದ್ದುಪಡಿ ಮಸೂದೆ
- (4) ವರದಕ್ಷಿಣೆ ನಿಷೇಧ ಮಸೂದೆ

61. ಸಂವಿಧಾನದ ಸಹವರ್ತಿ ಪಟ್ಟಿಯಲ್ಲಿರುವುದು ಈ ಪೈಕಿ ಯಾವುದು ?

- (1) ಜನಸಂಖ್ಯಾ ನಿಯಂತ್ರಣ ಮತ್ತು ಕುಟುಂಬ ಯೋಜನೆ
- (2) ಸಾರ್ವಜನಿಕ ಆರೋಗ್ಯ ಮತ್ತು ನೈರ್ಮಲ್ಯ
- (3) ಕ್ಯಾಪಿಟೇಷನ್ ತೆರಿಗೆಗಳು
- (4) ನಿಧಿ ನಿಕ್ಷೇಪ

62. ದೂರದೃಷ್ಟಿ ಇಲ್ಲದ ಚಿಕ್ಕ ಪುಟ್ಟ ನಿರ್ಧಾರಗಳಿಂದ ಜೀವಿ ಪರಿಸರ ಹಾನಿ ಮತ್ತು ಪ್ರಕೋಪ ಆಗುವ ಬಗೆಯನ್ನು ವಿವರಿಸಲು “ಕಿರು ನಿರ್ಧಾರಗಳ ಸಂಚು” ಎಂಬ ಪದಪುಂಜವನ್ನು ಟಂಕಿಸಿ, ಬಳಸಿದವರಾರು ?

- (1) ಕೆನೆತ್ ಇ. ಬೌಲ್ಡಿಂಗ್
- (2) ಆಲ್ಫ್ರೆಡ್ ಇ. ಕಾಹ್ನ್
- (3) ಆಲ್ಫ್ರೆಡ್ ವೆಗೆನರ್
- (4) ವಿಲಿಯಮ್ ಗಿಲ್ಬಿನ್

63. ಜನ ಸಂಖ್ಯಾ ಸಂಕ್ರಮಣವೆಂದರೆ

- (1) ಜನ ಸಂಖ್ಯಾ ಹೆಚ್ಚಳ ಕುರಿತಂತೆ ನೈಸರ್ಗಿಕ ಮತ್ತು ವಲಸೆ ಬದಲಾವಣೆಯ ಅಂಶಗಳ ನಡುವಣ ಸಂಬಂಧ.
- (2) ಜನನ ದರದಲ್ಲಿನ ಅನುಕ್ರಮ ಬದಲಾವಣೆಗಳು.
- (3) ಜನಸಂಖ್ಯಾ ಬದಲಾವಣೆಯು ಜನನ ಮತ್ತು ಮರಣ ದರ ಆಧರಿಸಿ ಕಾಲದೊಂದಿಗೆ ಆಗುವುದರ ಆದರ್ಶೀಕೃತ ಅನುಕ್ರಮ.
- (4) ಈ ಯಾವುವೂ ಅಲ್ಲ

58. Which of the following political parties were **not** a part of the United Front Government which was in power during 1996 – 1997 ?

- A. Bahujan Samaj Party
- B. Samata Party
- C. Haryana Vikas Party
- D. Assam Gana Parishad

Select the code for the correct answer from the options given below :

- (1) A, B, C and D
- (2) A, B and C only
- (3) C and D only
- (4) A and B only

59. The concept of Public Interest Litigation (PIL) originated in which of the following countries ?

- (1) United Kingdom
- (2) Australia
- (3) United States of America
- (4) Canada

60. The only instance when the President of India exercised his power of veto is related to

- (1) The Hindu Code Bill
- (2) The PEPSU Appropriation Bill
- (3) The Indian Post Office (Amendment) Bill
- (4) The Dowry Prohibition Bill

61. Which one of the following is in the Concurrent List of the Constitution ?

- (1) Population Control and Family Planning
- (2) Public Health and Sanitation
- (3) Capitation Taxes
- (4) Treasure Trove

62. Who coined the phrase “Tyranny of small decisions” to describe the petty and short-sighted decision which lead to ecological degradation and destruction ?

- (1) Kenneth E. Boulding
- (2) Alfred E. Kahn
- (3) Alfred Wegener
- (4) William Gilpin

63. Demographic transition is

- (1) The relationship between natural and migration change components of population growth.
- (2) A sequence of changes in birth rates.
- (3) An idealised sequence of population changes over time in birth and death rates.
- (4) None of the above

64. ಯೋಜಿತ ಗ್ರಾಮೀಣ ವಸತಿ ಯೋಜನೆ “ಫೆಲ್ಡ್” ಈ ಕೆಳಗಿನ ಯಾವ ದೇಶಕ್ಕೆ ಸಂಬಂಧಿಸಿದ್ದು ?

- (1) ಮಲೇಸಿಯಾ
- (2) ಇಂಡೋನೇಷ್ಯಾ
- (3) ಸಿಂಗಾಪೂರ್
- (4) ಥೈಲ್ಯಾಂಡ್

65. ಇಮಿಗ್ರೇಷನ್ (ವಲಸೆ ಬರುವುದು) ಮತ್ತು ಎಮಿಗ್ರೇಷನ್‌ಗಳ (ವಲಸೆ ಹೋಗುವುದು) ಪದಗಳ ನಡುವಿನ ವ್ಯತ್ಯಾಸವನ್ನು ಹೀಗೆ ನ್ನಲಾಗುತ್ತದೆ.

- (1) ವಲಸೆ ಅಂತರ
- (2) ನಿವ್ವಳ ವಲಸೆ
- (3) ಸಮಗ್ರ ವಲಸೆ
- (4) ಒಟ್ಟು ವಲಸೆ

66. ಬೇರೆ-ಬೇರೆ ಸೂಫಿ ಪಂಥಗಳು ಮತ್ತು ಆಶ್ರಯಸ್ಥಾನಗಳನ್ನು ಕೆಳಗೆ ನೀಡಿದೆ. ತಪ್ಪಾಗಿರುವ ಜೋಡಿ ಗುರುತಿಸಿ.

- (1) ಚಿಸ್ತಿ - ದೆಹಲಿ ಮತ್ತು ದೋಲಿಬ್
- (2) ಸುಹ್ರವಾರ್ದಿ - ಸಿಂಧ್
- (3) ಔಲಿಯಾ - ಮಧ್ಯ ಪ್ರದೇಶ್
- (4) ಫಿರ್ದೋಸಿ - ಬಿಹಾರ್

67. ಮಹಮದ್-ಬಿನ್-ತುಘಲಕ್‌ಗೆ ಸಂಬಂಧಿಸಿಲ್ಲದ ಸುಧಾರಣೆಗಳು ಕೆಳಗಿನವುಗಳಲ್ಲಿ ಯಾವುದು ?

- (1) ಟೋಕನ್ ನಾಣ್ಯ ಪ್ರಾರಂಭಿಸಿದ್ದು
- (2) ದೆಹಲಿಯಿಂದ ದಾಲತಾಬಾದಿಗೆ ರಾಜಧಾನಿಯ ವರ್ಗಾವಣೆ
- (3) ದೋಆಬ್‌ನಲ್ಲಿ ಬರ ಸಂಹಿತೆಯನ್ನು ಪ್ರಾರಂಭಿಸಿದ್ದು
- (4) ಬ್ರಾಹ್ಮಣರ ಮೇಲೆ ಜೆಸಿಯಾ ತಲೆಕಂದಾಯವನ್ನು ಪುನಃ ವಿಧಿಸಿದ್ದು

68. ವಿಜಯ ನಗರದ ಕೆಳಗಿನ ಯಾವ ದೊರೆಗಳು, ಪೋರ್ಚುಗೀಸರು ಚರ್ಚುಗಳನ್ನು ಸಾಮ್ರಾಜ್ಯದೊಳನೇ ನಿರ್ಮಿಸಲು ಅವಕಾಶ ನೀಡಿದರು ?

- (1) ವೆಂಕಟ II
- (2) ಕೃಷ್ಣದೇವರಾಯ
- (3) ದೇವರಾಯ II
- (4) ಸದಾಶಿವರಾಯ

69. ಪಟ್ಟಿ I (ದಂಗೆಗಳನ್ನು) ಮತ್ತು ಪಟ್ಟಿ II (ಸ್ಥಳಗಳೊಂದಿಗೆ) ಹೊಂದಿಸಿ ಬರೆಯಿರಿ :

ಪಟ್ಟಿ I (ದಂಗೆಗಳು)	ಪಟ್ಟಿ II (ಸ್ಥಳಗಳು)
A. ಮೋಪ್ಲಾದಂಗೆ	I. ಕೇರಳ
B. ಪಬ್ನಾ ದಂಗೆ	II. ಬಿಹಾರ್
C. ಏಕಾ ಚಳುವಳಿ	III. ಬಂಗಾಳ
D. ಬಿಸಾ ಮುಂಡಾ ದಂಗೆ	IV. ಔಧ್

ಸಂಕೇತಗಳ ಸಹಾಯದಿಂದ ಸರಿ ಉತ್ತರಗಳನ್ನು ಆರಿಸಿ :

	A	B	C	D
(1)	I	III	IV	II
(2)	II	III	IV	I
(3)	I	II	III	IV
(4)	III	IV	I	II

64. Planned rural settlement scheme "FELDA" is associated with which country ?

- (1) Malaysia
- (2) Indonesia
- (3) Singapore
- (4) Thailand

65. The difference between immigration and emigration is termed as

- (1) Migration Difference
- (2) Net Migration
- (3) Gross Migration
- (4) Total Migration

66. The stronghold of various Sufi Orders are given below. Select the one which is **wrongly** paired.

- (1) Chishti – Delhi and Doab
- (2) Suhrawardi – Sindh
- (3) Auliya – Madhya Pradesh
- (4) Firdausi – Bihar

67. Which of the following measures were **not** associated with Muhammad-bin-Tughlaq ?

- (1) Introduction of token currency
- (2) Shifting of capital from Delhi to Daulatabad
- (3) Introduction of famine code in Doab
- (4) Re-imposition of Jaziya on Brahmins

68. Which of the following Vijayanagar kings allowed the Portuguese to build churches within the empire ?

- (1) Venkata II
- (2) Krishnadevaraya
- (3) Devaraya II
- (4) Sadashiva Raya

69. Match the Revolts (List I) with the Places (List II) :

<i>List I</i> (Revolt)	<i>List II</i> (Place)
A. Moplah Revolt	I. Kerala
B. Pabna Revolt	II. Bihar
C. Eka Movement	III. Bengal
D. Birsa Munda Revolt	IV. Awadh

Select the code for the correct answer from the options given below :

	A	B	C	D
(1)	I	III	IV	II
(2)	II	III	IV	I
(3)	I	II	III	IV
(4)	III	IV	I	II

70. ಅಖಿಲ ಭಾರತ ವ್ಯಾಪಾರಿ ಒಕ್ಕೂಟ ಕಾಂಗ್ರೆಸ್‌ನ (AITUC) ಮುಖ್ಯ (ಸಾಮಾನ್ಯ) ಕಾರ್ಯದರ್ಶಿಯಾಗಿದ್ದವರು ಯಾರು ?

- (1) ಲಾಲಾ ಲಜಪತ್ ರಾಯ್
- (2) ಬಾಲ ಗಂಗಾಧರ್ ತಿಲಕ್
- (3) ನಾರಾಯಣ ಗುರು
- (4) ದೀವಾನ್ ಚಮನ್ ಲಾಲ್

71. ಮಹಾತ್ಮ ಗಾಂಧೀಜಿಯವರ ಅಸಹಕಾರ ಚಳುವಳಿಯನ್ನು ಕುರಿತಂತೆ ಕೆಳಗಿನ ಯಾವ ಹೇಳಿಕೆಗಳು ಸರಿಯಾಗಿವೆ ?

- (1) ಸರ್ಕಾರಿ ದರ್ಬಾರ್‌ಗಳು ಮತ್ತು ಅಧಿಕೃತ ಸಮಾರಂಭಗಳಿಗೆ ಹಾಜರಾಗಲು ನಿರಾಕರಣೆ
- (2) ಚುನಾವಣೆಗಳಲ್ಲಿ ಭಾಗವಹಿಸುವಿಕೆ
- (3) ವಿದೇಶೀ ವಸ್ತುಗಳ ಬಹಿಷ್ಕಾರದ ಮೆರವಣಿಗೆಯಲ್ಲಿ ಭಾಗವಹಿಸುವಿಕೆ
- (4) ಬಿರುದುಗಳನ್ನು ಹಿಂದಿರುಗಿಸುವುದು

ನೀಡಿರುವ ಆಯ್ಕೆಗಳಲ್ಲಿ ಸರಿಯಾದ ಉತ್ತರಕ್ಕಾಗಿ ಸಂಕೇತವನ್ನಾರಿಸಿ :

- (1) A, B ಮತ್ತು C ಮಾತ್ರ
- (2) A, C ಮತ್ತು D ಮಾತ್ರ
- (3) B, C ಮತ್ತು D ಮಾತ್ರ
- (4) A ಮತ್ತು D ಮಾತ್ರ

72. ಪಟ್ಟಿ I (ತಮಿಳುಕೃತಿ) ಮತ್ತು ಪಟ್ಟಿ II (ಅವುಗಳು ವ್ಯವಹರಿಸುವ ವಿಷಯದೊಂದಿಗೆ) ನ್ನು ಹೊಂದಿಸಿ ಬರೆಯಿರಿ :

ಪಟ್ಟಿ I (ತಮಿಳುಕೃತಿ)	ಪಟ್ಟಿ II (ವಿಷಯ)
------------------------	--------------------

- | | |
|--------------------|---|
| A. ತೊಳಕಾಪ್ಪಿಯಮ್ I. | ಕೋವಲನ್ ಮತ್ತು ಮಾಧವಿಯರ ಪ್ರೇಮ ಕಥೆ |
| B. ತಿರುಕ್ಕುರುಳ್ | II. ಕೋವಲನ್ ಮತ್ತು ಮಾಧವಿಯರ ಒಗ್ಗೂಡಿಕೆಯಿಂದ ಜನಿಸಿದ ಮಗಳ ಸಾಹಸಗಳು |
| C. ಶಿಲಪ್ಪದಿಕಾರಂ | III. ವ್ಯಾಕರಣ ಮತ್ತು ಕವನಗಳನ್ನು ಕುರಿತದ್ದಾಗಿದೆ |
| D. ಮಣಿಮೇಖಲೈ | IV. ತತ್ವಶಾಸ್ತ್ರ ಮತ್ತು ಜಾಣ ಸೂಕ್ತಿಗಳೊಂದಿಗೆ ಸಂಬಂಧಿಸಿದೆ |

ಸಂಕೇತಗಳ ಸಹಾಯದಿಂದ ಸರಿ ಉತ್ತರಗಳನ್ನು ಆರಿಸಿ :

- | | A | B | C | D |
|-----|-----|----|-----|-----|
| (1) | I | II | III | IV |
| (2) | III | IV | I | II |
| (3) | I | II | IV | III |
| (4) | III | IV | II | I |

70. Who was the General Secretary of the All India Trade Union Congress (AITUC) ?

- (1) Lala Lajpat Rai
- (2) Bal Gangadhar Tilak
- (3) Narayana Guru
- (4) Diwan Chaman Lall

71. Which among the following statements about Mahatma Gandhi's Non-Cooperation Movement are correct ?

- A. Refusal to attend Government durbars and official functions
- B. Participation in elections
- C. Participation in rallies for the boycott of foreign goods
- D. Surrender of titles

Select the code for the correct answer from the options given below :

- (1) A, B and C only
- (2) A, C and D only
- (3) B, C and D only
- (4) A and D only

72. Match the Tamil Works (List I) with the Subjects they deal with (List II) :

<i>List I</i> (Tamil Work)	<i>List II</i> (Subject)
-------------------------------	-----------------------------

- | | |
|--------------------------|---|
| A. <i>Tolkappiyam</i> | I. Love story of Kovalan and Madhavi |
| B. <i>Thirukkural</i> | II. Adventures of the daughter born of the union of Kovalan and Madhavi |
| C. <i>Silappatikaram</i> | III. Deals with grammar and poetries |
| D. <i>Manimekalai</i> | IV. Deals with philosophy and wise maxims |

Select the code for the correct answer from the options given below :

- | | A | B | C | D |
|-----|-----|----|-----|-----|
| (1) | I | II | III | IV |
| (2) | III | IV | I | II |
| (3) | I | II | IV | III |
| (4) | III | IV | II | I |

73. ಈ ಕೆಳಗಿನ ಯಾವ ಹೇಳಿಕೆಯು / ಗಳು ಸರಿಯಾಗಿದೆ/ವೆ ?

- (1) ಸಂಗಮ ದೊರೆಯಾದ I ನೇ ಬುಕ್ಕನು ಚೀನಾಕ್ಕೆ ರಾಯಭಾರಿಯನ್ನು ಕಳುಹಿಸಿದನು.
- (2) ಸಾಳ್ವ ನರಸಿಂಹನಿಂದಾದ ಮೊದಲ ದುರಾಕ್ರಮಣದ ನಂತರ ಸಾಳ್ವ ಮನೆತನವು ಅಧಿಕಾರಕ್ಕೆ ಬಂದಿತು.
- (3) ತುಳುವ ನರಸಿಂಹನಿಂದಾದ ಎರಡನೇ ದುರಾಕ್ರಮಣದ ನಂತರ ತುಳುವ ಮನೆತನವು ಅಧಿಕಾರಕ್ಕೆ ಬಂದಿತು.
- (4) ಮೇಲಿನ ಎಲ್ಲವೂ

74. ಕೃಷ್ಣದೇವರಾಯನ ಆಮುಕ್ತಮಾಲ್ಯದ ಕೃತಿಯು ಇದನ್ನು ಕುರಿತದ್ದಾಗಿದೆ

- (1) ಅವನ ರಾಜಕೀಯ ಆಲೋಚನೆಗಳು / ಭಾವನೆಗಳು
- (2) ಸಾರ್ವಜನಿಕ ಆಡಳಿತ
- (3) ನ್ಯಾಯ ಮತ್ತು ವಿದೇಶೀ ವ್ಯವಹಾರಗಳ ಆಡಳಿತ
- (4) ಮೇಲಿನ ಎಲ್ಲವೂ

75. ಮಧ್ಯ ಭಾರತದಲ್ಲಿ ಶಿವಾಜಿಯ ಆಳ್ವಿಕೆಯ ಅವಧಿಯಲ್ಲಿ 'ಚಟ್ನಿಸ್' ಎಂಬ ಅಧಿಕಾರಿಯ ಪಾತ್ರವು

- (1) ರಾಜನ ವೈಯಕ್ತಿಕ ಸುರಕ್ಷತಾ ಕಾವಲಿನ ಹೊಣೆಗಾರಿಕೆ.
- (2) ಬೇಹುಗಾರಿಕೆ / ಗೂಢಚರ್ಯೆ ಚಟುವಟಿಕೆಗಳ ಹೊಣೆಗಾರಿಕೆ.
- (3) ರಾಜಪ್ರಭುತ್ವ ಆಸ್ಥಾನದ ವಿದ್ಯುಕ್ತತೆ / ಶಿಷ್ಟಾಚಾರಗಳ ಯಜಮಾನಿಕೆ.
- (4) ರಾಜ ಮತ್ತು ಆತನಿಗೆ ಸಂಬಂಧಿಸಿದವರೊಡನೆ ಸಹಕರಿಸುವುದು.

76. ಹೊಗೆಸೊಪ್ಪಿನ ಉಪಯೋಗವನ್ನು ನಿಷೇಧಿಸಿದ ಮೊಘಲರ ದೊರೆ

- (1) ಅಕ್ಬರ್
- (2) ಬಾಬರ್
- (3) ಜಹಾಂಗೀರ್
- (4) ಔರಂಗ್‌ಜೇಬ್

77. ಮೊಘಲರ ಆಡಳಿತಾವಧಿಯಲ್ಲಿನ ಜಿಲ್ಲೆಯನ್ನು ಹೀಗೆಂದು ಕರೆಯಲಾಗುತ್ತಿತ್ತು

- (1) ಆಹಾರ್
- (2) ವಿಷಯ
- (3) ಸುಭಾ
- (4) ಸರ್ಕಾರ್

78. ಪೃಥ್ವಿಯ ಅಂತರಾಳದ ಆಳವು ಹೆಚ್ಚಿದಂತೆ ಈ ಕೆಳಗಿನ ಯಾವ ಬದಲಾವಣೆ ಉಂಟಾಗುತ್ತದೆ ?

- (1) ಶಿಲೆಗಳ ಉಷ್ಣತೆ ಮತ್ತು ಸಾಂದ್ರತೆಗಳೆರಡೂ ಹೆಚ್ಚುತ್ತದೆ
- (2) ಶಿಲೆಗಳ ಉಷ್ಣತೆ ಮತ್ತು ಸಾಂದ್ರತೆಗಳೆರಡೂ ಕಡಿಮೆಯಾಗುತ್ತದೆ
- (3) ಕೇವಲ ಉಷ್ಣತೆ ಹೆಚ್ಚುತ್ತದೆ
- (4) ಅಂತರ್ಜಲದ ಸಂಗ್ರಹ ಮತ್ತು ಸಾಂದ್ರತೆ ಹೆಚ್ಚುತ್ತದೆ

79. ಸಾಗರದ ನೀರಿನಲ್ಲಿ ಅಧಿಕ ಶೇಷಡವಾರು ಕರಗಿರುವ ಲವಣ ಯಾವುದು ?

- (1) ಮೆಗ್ನೀಶಿಯಂ ಕ್ಲೋರೈಡ್
- (2) ಸೋಡಿಯಂ ಕ್ಲೋರೈಡ್
- (3) ಕ್ಯಾಲ್ಸಿಯಂ ಸಲ್ಫೇಟ್
- (4) ಮೆಗ್ನೀಶಿಯಂ ಸಲ್ಫೇಟ್

- 73.** Which of the following statements is/are correct ?
- (1) Bukka I, the Sangama king sent an embassy to China.
 - (2) Saluva dynasty came to the throne after the first usurpation by Saluva Narasimha.
 - (3) Tuluva dynasty came to the throne after the second usurpation by Tuluva Narasimha.
 - (4) All of the above
- 74.** Krishnadevaraya's *Amuktamalyada* is a work on
- (1) his political ideas
 - (2) public administration
 - (3) administration of justice and foreign affairs
 - (4) All of the above
- 75.** In medieval India during the reign of Shivaji, the role of the official called 'Chitnis' was to
- (1) be the in-charge of king's personal security guard.
 - (2) be the in-charge of intelligence/espionage activity.
 - (3) be the master of ceremonies in the royal court.
 - (4) assist the king with his correspondence.

- 76.** The Mughal emperor who prohibited the use of tobacco was
- (1) Akbar
 - (2) Babur
 - (3) Jahangir
 - (4) Aurangzeb
- 77.** What was the district known as during the Mughal administration ?
- (1) Ahar
 - (2) Vishaya
 - (3) Suba
 - (4) Sarkar
- 78.** Which one of the following changes takes place with the increase in depth of the Earth's interior ?
- (1) Both temperature and density of the rocks increase
 - (2) Both temperature and density of the rocks decrease
 - (3) Only temperature increases
 - (4) Storage of ground water and density increase
- 79.** Which is the highest percentage of salt dissolved in sea water ?
- (1) Magnesium chloride
 - (2) Sodium chloride
 - (3) Calcium sulphate
 - (4) Magnesium sulphate

80. ಈ ಕೆಳಗಿನವುಗಳಲ್ಲಿ ಯಾವದು ಪ್ರಾಥಮಿಕ ಚಟುವಟಿಕೆಯಾಗಿರುವುದಿಲ್ಲ?

- (1) ತೋಟಗಾರಿಕೆ
- (2) ಮೀನುಗಾರಿಕೆ
- (3) ಗಣಿಗಾರಿಕೆ
- (4) ತಯಾರಿಕೆ

81. ಕರ್ನಾಟಕದಲ್ಲಿ ಈ ಕೆಳಗಿನ ಯಾವ ಪ್ರದೇಶ ಅತಿಹೆಚ್ಚು ಮಳೆಯನ್ನು ಪಡೆಯುತ್ತದೆ ?

- (1) ಚಳ್ಳಕೆರೆ
- (2) ನೀಲ್‌ಕುಂಡ್
- (3) ಆಗುಂಬೆ
- (4) ಹುಲಿಕಲ್

82. ಭಾರತ ಭೂಪ್ರದೇಶಕ್ಕೆ ಯಾವುದು ಅತಿ ಹತ್ತಿರದ ದ್ವೀಪ ರಾಷ್ಟ್ರವಾಗಿದೆ ?

- (1) ಶ್ರೀ ಲಂಕಾ
- (2) ಮಾರ್ಡೀವ್ಸ್
- (3) ಇಂಡೋನೇಷ್ಯಾ
- (4) ಮಡಗಾಸ್ಕರ್

83. ಈ ಕೆಳಗಿನ ಯಾವ ಸರೋವರ ಅಮೇರಿಕಾದಲ್ಲಿ ಕಂಡು ಬರುವುದಿಲ್ಲ?

- (1) ಲೇಕ್ ಸುಪೀರಿಯರ್
- (2) ಲೇಕ್ ಮಿಚಿಗನ್
- (3) ಲೇಕ್ ಹ್ಯುರೊನ್
- (4) ಗ್ರೇಟ್ ಸ್ಲೇವ್ ಲೇಕ್

84. ಯುರೋಪ್ ಮತ್ತು ಏಷ್ಯಾ ಖಂಡವನ್ನು ಪ್ರತ್ಯೇಕಿಸುವ ಪರ್ವತ

- (1) ಹಿಂದುಕುಷ್
- (2) ಸುಲೈಮಾನ್
- (3) ಯೂರಲ್
- (4) ಕುನ್‌ಲುನ್

85. ಈ ಕೆಳಗಿನವುಗಳಲ್ಲಿ ಯಾವ ಪ್ರಾಣಿಯು ಕೇವಲ ಉಷ್ಣವಲಯದ ಎತ್ತರ ಪ್ರದೇಶದಲ್ಲಿ ಕಂಡು ಬರುತ್ತದೆ ?

- (1) ರ್ಯಾಮ್
- (2) ಅಲ್ಪಾಕಾ
- (3) ಕತ್ತೆ
- (4) ಹಿಮಸಾರಂಗ

86. ಪಟ್ಟಿ I (ದೇಶ) ಮತ್ತು ಪಟ್ಟಿ II (ರಾಜಧಾನಿ) ಯನ್ನು ಹೊಂದಿಸಿ ಬರೆಯಿರಿ :

ಪಟ್ಟಿ I (ದೇಶ)	ಪಟ್ಟಿ II (ರಾಜಧಾನಿ)
A. ಫಿಜಿ	I. ವೆಲ್ಲಿಂಗಟನ್
B. ಪೋಲೆಂಡ್	II. ಸುವಾ
C. ನ್ಯೂಜಿಲ್ಯಾಂಡ್	III. ಸ್ಯಾಂಟಿಯಾಗೊ
D. ಚಿಲಿ	IV. ವಾರ್ಸಾ

ಸಂಕೇತಗಳ ಸಹಾಯದಿಂದ ಸರಿ ಉತ್ತರಗಳನ್ನು ಆರಿಸಿ :

	A	B	C	D
(1)	IV	III	II	I
(2)	I	II	IV	III
(3)	II	IV	I	III
(4)	II	IV	III	I

80. Which of the following is *not* a primary activity ?
- (1) Farming
 - (2) Fishing
 - (3) Mining
 - (4) Manufacturing
81. Which one of the following places receives highest rainfall in Karnataka ?
- (1) Challakere
 - (2) Nilkund
 - (3) Agumbe
 - (4) Hulekal
82. Which is the nearest island nation to the Indian territory ?
- (1) Sri Lanka
 - (2) Maldives
 - (3) Indonesia
 - (4) Madagascar
83. Which one of the following lakes is *not* found in the USA ?
- (1) Lake Superior
 - (2) Lake Michigan
 - (3) Lake Huron
 - (4) Great Slave Lake

84. The mountain which separates Europe and Asia is
- (1) Hindukush
 - (2) Sulaiman
 - (3) Ural
 - (4) Kunlun

85. Among the following, which animal is only found in the tropical highlands ?
- (1) Ram
 - (2) Alpaca
 - (3) Ass
 - (4) Reindeer

86. Match the Countries (List I) with the Capitals (List II) :

<i>List I</i> (Country)	<i>List II</i> (Capital)
A. Fiji	I. Wellington
B. Poland	II. Suva
C. New Zealand	III. Santiago
D. Chile	IV. Warsaw

Select the code for the correct answer from the options given below :

	A	B	C	D
(1)	IV	III	II	I
(2)	I	II	IV	III
(3)	II	IV	I	III
(4)	II	IV	III	I

87. ಪಟ್ಟಿ I (ದೇಶಗಳು) ಮತ್ತು ಪಟ್ಟಿ II (ಜಲಪಾತ) ನ್ನು ಹೊಂದಿಸಿ ಬರೆಯಿರಿ :

ಪಟ್ಟಿ I (ದೇಶ)	ಪಟ್ಟಿ II (ಜಲಪಾತ)
A. ಕೆನಡಾ	I. ವಿಸ್ಕೊರಿಯಾ
B. ರ್ಝಾಂಬಿಯಾ	II. ಏಂಜೆಲ್
C. ವೆನಿಜೂಲಾ	III. ನಯಾಗರಾ
D. ಅರ್ಜಂಟೈನಾ	IV. ಇಗುರ್ಝು

ಸಂಕೇತಗಳ ಸಹಾಯದಿಂದ ಸರಿ ಉತ್ತರಗಳನ್ನು ಆರಿಸಿ :

	A	B	C	D
(1)	I	III	II	IV
(2)	III	I	II	IV
(3)	II	IV	I	III
(4)	III	II	I	IV

88. ಅಮರಕಂಟಕ್ ಪ್ರಸ್ಥಭೂಮಿಯಲ್ಲಿ ಉಗಮಿಸಿ ಮತ್ತು ಎರಡು ವಿರುದ್ಧ ದಿಕ್ಕುಗಳಲ್ಲಿ ಹರಿಯುವ (ಪೂರ್ವ ಪಶ್ಚಿಮವಾಗಿ) ಹರಿಯುವ ಎರಡು ನದಿಗಳಾವುವು ?

- (1) ತಪತಿ ಮತ್ತು ಸೋನ್
- (2) ನರ್ಮದಾ ಮತ್ತು ಮಹಾನದಿ
- (3) ತಪತಿ ಮತ್ತು ಬೇಟ್ವಾ
- (4) ನರ್ಮದಾ ಮತ್ತು ತಪತಿ

89. ಈ ಕೆಳಗಿನ ಕೈಗಾರಿಕೆಗಳಲ್ಲಿ ಯಾವ ಕೈಗಾರಿಕೆ ಮತ್ತು ಅವುಗಳ ನೆಲೆಯ ಜೋಡಣೆ ತಪ್ಪಾಗಿದೆ ?

- (1) ಹೌರಾ ಮತ್ತು ಕಲ್ಕತ್ತಾ - ಸೆಣಬು ಕೈಗಾರಿಕೆ
- (2) ದೆಹಲಿ ಮತ್ತು ತ್ರಿವೆಂಡ್ರಮ್ - ಮೋಟಾರು ವಾಹನ ಕೈಗಾರಿಕೆ
- (3) ಸೇಲಂ ಮತ್ತು ವಿಶಾಖಪಟ್ಟಣಂ - ಕಬ್ಬಿಣ ಮತ್ತು ಉಕ್ಕು ಕೈಗಾರಿಕೆ
- (4) ಬಾಂಬೆ ಮತ್ತು ಅಹ್ಮದಾಬಾದ್ - ಹತ್ತಿ ಜವಳಿ ಉದ್ಯಮ

90. "ಬ್ರಿಕ್ಸ್" ಸಮೂಹದಲ್ಲಿ ಮಾನವಾಭಿವೃದ್ಧಿಯ ಸೂಚಕತೆಯ ಅತಿ ಕಡಿಮೆ ಮೌಲ್ಯ ಇರುವುದು

- (1) ಬ್ರೆಜಿಲ್
- (2) ಭಾರತ
- (3) ದಕ್ಷಿಣ ಆಫ್ರಿಕಾ
- (4) ಚೈನಾ

91. ಇವುಗಳಲ್ಲಿ ಯಾವುದು ಜಪಾನ್ ದೇಶದ ದ್ವೀಪವಲ್ಲ ?

- (1) ಮಿಂಡನಾವೋ
- (2) ಹೊಕೈಡೋ
- (3) ಕ್ಯೂಷು
- (4) ಹೊನ್ನು

87. Match the Countries (List I) with the Waterfalls (List II) :

<i>List I</i> (Country)	<i>List II</i> (Waterfall)
A. Canada	I. Victoria
B. Zambia	II. Angel
C. Venezuela	III. Niagara
D. Argentina	IV. Iguazu

Select the code for the correct answer from the options given below :

	A	B	C	D
(1)	I	III	II	IV
(2)	III	I	II	IV
(3)	II	IV	I	III
(4)	III	II	I	IV

88. Name the two rivers which originate from Amarkantak Plateau and flow in two different directions (East and West).

- (1) Tapti and Sone
- (2) Narmada and Mahanadi
- (3) Tapti and Betwa
- (4) Narmada and Tapti

89. Find out the **wrongly** matched industry and its location among the following :

- (1) Howrah and Calcutta – Jute industry
- (2) Delhi and Trivandrum – Automobile industries
- (3) Salem and Visakhapatnam – Iron and steel industry
- (4) Bombay and Ahmedabad – Cotton textile industries

90. Among the “BRICS” group, the lowest value of Human Development Index (HDI) is in

- (1) Brazil
- (2) India
- (3) South Africa
- (4) China

91. Which of the following is **not** an island of Japan ?

- (1) Mindanao
- (2) Hokkaido
- (3) Kyushu
- (4) Honshu

92. ಸಿಂಗಪೂರ್ 105° ಪೂರ್ವರೇಖಾಂಶದಲ್ಲಿದ್ದು ಇದರ ಸ್ಥಳೀಯ ಕಾಲಮಾನ

- (1) ಗ್ರೀನ್‌ವಿಚ್ ವೇಳೆಗಿಂತ 7 ಗಂಟೆ ಹಿಂದಿದೆ
- (2) ಗ್ರೀನ್‌ವಿಚ್ ವೇಳೆಗಿಂತ 7 ಗಂಟೆ ಮುಂದಿದೆ
- (3) ಗ್ರೀನ್‌ವಿಚ್ ವೇಳೆಗಿಂತ 6 ಗಂಟೆ 30 ನಿಮಿಷ ಹಿಂದಿದೆ
- (4) ಗ್ರೀನ್‌ವಿಚ್ ವೇಳೆಗಿಂತ 6 ಗಂಟೆ 30 ನಿಮಿಷ ಮುಂದಿದೆ

93. ಪಟ್ಟಿ I (ನಗರ) ಮತ್ತು ಪಟ್ಟಿ II (ವಾಯುಗುಣ) ವನ್ನು ಹೊಂದಿಸಿ ಬರೆಯಿರಿ :

ಪಟ್ಟಿ I (ನಗರ)	ಪಟ್ಟಿ II (ವಾಯುಗುಣ)
A. ಸಿಂಗಪೂರ್	I. ಸಾಗರೀಕ ಪಶ್ಚಿಮ ತೀರ
B. ಸ್ಯಾಂಟಿಯಾಗೊ	II. ಸಮಭಾಜಕ ವೃತ್ತ
C. ಆಸ್ವಾನ್	III. ಮೆಡಿಟರೇನಿಯನ್
D. ಆಮ್‌ಸ್ಟರ್‌ಡ್ಯಾಂ	IV. ಉಷ್ಣಮರುಭೂಮಿ

ಸಂಕೇತಗಳ ಸಹಾಯದಿಂದ ಸರಿ ಉತ್ತರಗಳನ್ನು ಆರಿಸಿ :

	A	B	C	D
(1)	I	II	III	IV
(2)	II	III	IV	I
(3)	IV	I	II	III
(4)	III	IV	I	II

94. ಇವುಗಳಲ್ಲಿ ಯಾವ ದ್ವೀಪ ಹಿಂದೂ ಮಹಾಸಾಗರದಲ್ಲಿ ಇಲ್ಲ?

- (1) ಮಾಲ್ಡೀವ್ಸ್
- (2) ಮಾರಿಷಿಯಸ್
- (3) ಫಿಜಿ
- (4) ಸೊಕೋತ್ರ

95. ಪಟ್ಟಿ I (ನಗರ) ಮತ್ತು ಪಟ್ಟಿ II (ನದಿ) ಗಳನ್ನು ಹೊಂದಿಸಿ ಬರೆಯಿರಿ :

ಪಟ್ಟಿ I (ನಗರ)	ಪಟ್ಟಿ II (ನದಿ)
A. ಸೆಂಟ್‌ಲೂಯಿಸ್	I. ನೈಲ್
B. ಕೈರೋ	II. ಸೀನ್
C. ಪ್ಯಾರಿಸ್	III. ಟೈಗ್ರಿಸ್
D. ಬಾಗ್ದಾದ್	IV. ಮಿಸಿಸ್ಸಿಪ್ಪಿ

ಸಂಕೇತಗಳ ಸಹಾಯದಿಂದ ಸರಿ ಉತ್ತರಗಳನ್ನು ಆರಿಸಿ :

	A	B	C	D
(1)	IV	I	II	III
(2)	III	II	I	IV
(3)	II	III	I	IV
(4)	II	IV	I	III

92. Singapore located at 105° E longitude has a local time

- (1) 7 hours behind Greenwich time
- (2) 7 hours ahead of Greenwich time
- (3) 6 hours 30 minutes behind Greenwich time
- (4) 6 hours 30 minutes ahead of Greenwich time

93. Match the Cities (List I) with the Climate (List II) :

<i>List I</i> (City)	<i>List II</i> (Climate)
A. Singapore	I. Marine West Coast
B. Santiago	II. Equatorial
C. Aswan	III. Mediterranean
D. Amsterdam	IV. Tropical Desert

Select the code for the correct answer from the options given below :

	A	B	C	D
(1)	I	II	III	IV
(2)	II	III	IV	I
(3)	IV	I	II	III
(4)	III	IV	I	II

94. Which of the following islands is **not** in the Indian Ocean ?

- (1) Maldives
- (2) Mauritius
- (3) Fiji
- (4) Socotra

95. Match the Cities (List I) with the Rivers (List II) :

<i>List I</i> (City)	<i>List II</i> (River)
A. St. Louis	I. Nile
B. Cairo	II. Seine
C. Paris	III. Tigris
D. Baghdad	IV. Mississippi

Select the code for the correct answer from the options given below :

	A	B	C	D
(1)	IV	I	II	III
(2)	III	II	I	IV
(3)	II	III	I	IV
(4)	II	IV	I	III

96. ಮೆಡಿಟರೇನಿಯನ್ ಸಮುದ್ರ ಮತ್ತು ಕೆಂಪು ಸಮುದ್ರಗಳನ್ನು ಜೋಡಿಸುವುದು

- (1) ಪನಾಮ ಕಾಲುವೆ
- (2) ಸೂಯೆಜ್ ಕಾಲುವೆ
- (3) ಕೀಲ್ ಕಾಲುವೆ
- (4) ಸೂ ಕಾಲುವೆ

97. ಕೆಳಕಂಡ ಘಟನೆಗಳ ಸರಿಯಾದ ಕಾಲಾನುಕ್ರಮಣಿಕೆಯಾವುದು ?

- A. ಮಾಂಚಿಗ್ಯೂ-ಚೆಲ್ಮ್ ಪೂರ್ವ ಸುಧಾರಣೆಗಳು
- B. ಪ್ರಾಂತೀಯ ಸ್ವಾಯತ್ತತೆಯ ಉದ್ಘಾಟನೆ
- C. ಮಾರ್ಲೆ-ಮಿಂಟೊ ಸುಧಾರಣೆಗಳು

ನೀಡಿರುವ ಆಯ್ಕೆಗಳಲ್ಲಿ ಸರಿಯಾದ ಉತ್ತರಕ್ಕಾಗಿ ಸಂಕೇತವನ್ನಾರಿಸಿ :

- (1) A, B, C
- (2) B, C, A
- (3) C, B, A
- (4) C, A, B

98. ಸಂವಿಧಾನದ ಯಾವ ಭಾಗದಲ್ಲಿ ಪಂಚಾಯತ್‌ಗಳ ಬಗ್ಗೆ ಅವಕಾಶ ಕಲ್ಪಿಸಲಾಗಿದೆ ?

- (1) ಭಾಗ IX
- (2) ಭಾಗ IV
- (3) ಭಾಗ III
- (4) ಭಾಗ IXA

99. ಪಟ್ಟಿ I (ಪದಗಳನ್ನು) ಮತ್ತು ಪಟ್ಟಿ II (ಸಂವಿಧಾನದ ಅನುಚ್ಛೇದ) ನ್ನು ಹೊಂದಿಸಿ ಬರೆಯಿರಿ :

ಪಟ್ಟಿ I (ಪದಗಳು)	ಪಟ್ಟಿ II (ಸಂವಿಧಾನದ ಅನುಚ್ಛೇದ)
A. ರಾಜ್ಯಪಾಲರು	I. 167ನೇ ಅನುಚ್ಛೇದ
B. ಮಂತ್ರಿಮಂಡಲ	II. 169ನೇ ಅನುಚ್ಛೇದ
C. ಮುಖ್ಯಮಂತ್ರಿಗಳ ಕರ್ತವ್ಯಗಳು	III. 155ನೇ ಅನುಚ್ಛೇದ
D. ವಿಧಾನ ಪರಿಷತ್ತು	IV. 163ನೇ ಅನುಚ್ಛೇದ

ಸಂಕೇತಗಳ ಸಹಾಯದಿಂದ ಸರಿ ಉತ್ತರಗಳನ್ನು ಆರಿಸಿ :

	A	B	C	D
(1)	I	II	III	IV
(2)	IV	III	II	I
(3)	III	II	IV	I
(4)	III	IV	I	II

100. ಸಂವಿಧಾನದಲ್ಲಿ ಮೂಲಭೂತ ಕರ್ತವ್ಯಗಳನ್ನು ಸೇರಿಸಲ್ಪಟ್ಟಿರುವುದು ಇದರ ಶಿಫಾರಸ್ಸಿನ ಮೇಲೆ

- (1) ಷಾ ಆಯೋಗ
- (2) ಆಡಳಿತ ಸುಧಾರಣೆ ಆಯೋಗ
- (3) ಸಂತಾನಮ್ ಸಮಿತಿ
- (4) ಸ್ವರಣ್ ಸಿಂಗ್ ಸಮಿತಿ

96. Mediterranean Sea and Red Sea are connected by

- (1) Panama Canal
- (2) Suez Canal
- (3) Kiel Canal
- (4) Soo Canal

97. What is the correct sequence of the following events ?

- A. Montagu-Chelmsford reforms
- B. Inauguration of provincial autonomy
- C. Morley-Minto reforms

Select the code for the correct answer from the options given below :

- (1) A, B, C
- (2) B, C, A
- (3) C, B, A
- (4) C, A, B

98. In which part of the Constitution has the provision for the panchayats been made ?

- (1) Part IX
- (2) Part IV
- (3) Part III
- (4) Part IXA

99. Match the Subjects (List I) with the Articles of the Constitution (List II) :

List I
(Subject)

List II
(Article)

- | | |
|-----------------------------|------------------|
| A. Governor | I. Article 167 |
| B. Council of Ministers | II. Article 169 |
| C. Duties of Chief Minister | III. Article 155 |
| D. The Legislative Council | IV. Article 163 |

Select the code for the correct answer from the options given below :

- | | A | B | C | D |
|-----|----------|----------|----------|----------|
| (1) | I | II | III | IV |
| (2) | IV | III | II | I |
| (3) | III | II | IV | I |
| (4) | III | IV | I | II |


100. Fundamental Duties were incorporated in the Constitution on the recommendation of

- (1) Shah Commission
- (2) Administrative Reforms Commission
- (3) Santhanam Committee
- (4) Swaran Singh Committee

SPACE FOR ROUGH WORK

SPACE FOR ROUGH WORK

**QUESTION BOOKLET
SPECIFIC PAPER
PAPER II
(273)**



Time Allowed : 2 Hours

Maximum Marks : 200

INSTRUCTIONS

1. Immediately after the commencement of the Examination, you should check that this Question Booklet does NOT have any unprinted or torn or missing pages or questions etc. If so, get it replaced by a complete 'Question Booklet' of the same Question Paper Version Code as printed in your OMR Answer Sheet.
 2. **Candidate has to ensure that Question Paper Version Code of the Question Booklet given is same as the Question Paper Version Code printed on OMR Answer Sheet. Discrepancy, if any should be reported to the Invigilator and a new Question Booklet should be taken whose Question Paper Version Code tallies with the Question Paper Version Code printed on the OMR Answer Sheet.**
 3. You have to enter your Register Number in the Question Booklet in the box provided alongside.
DO NOT write anything else on the Question Booklet.
- | Register Number | | | | | | |
|-----------------|--|--|--|--|--|--|
| | | | | | | |
4. **This Question Booklet contains 100 questions.** Each question contains **four** responses (answers). Select the response which you want to mark on the Answer Sheet. In case you feel that there is more than one correct response, mark the response which you consider the most appropriate. In any case, choose **ONLY ONE RESPONSE** for each question.
 5. All the responses should be marked **ONLY** on the separate OMR Answer Sheet provided and **ONLY** in **Black or Blue Ball Point Pen**. See detailed instructions in the OMR Answer Sheet.
 6. All questions carry equal marks. **Attempt all questions.**
 7. Sheets for rough work are appended in the Question Booklet at the end. You should not make any marking on any other part of the Question Booklet.
 8. Immediately after the final bell indicating the conclusion of the examination, stop making any further markings in the OMR Answer Sheet. Be seated till the OMR Answer Sheets are collected and accounted for by the Invigilator.
 9. **Questions are printed both in Kannada and English. If any confusion arises in the Kannada Version, please refer to the English Version of the questions. Please note that in case of any confusion the English Version of the Question Booklet is final.**
 10. **Penalty for wrong answers :**
THERE WILL BE A PENALTY FOR WRONG ANSWERS MARKED BY THE CANDIDATE IN THE OBJECTIVE TYPE QUESTION PAPERS.
 - (i) There are four alternatives for the answer to every question. For each question for which a wrong answer has been given by the candidate, **one-fourth** of the marks assigned to that question will be deducted as penalty.
 - (ii) If a candidate gives more than one answer, it will be treated as a **wrong answer** even if one of the given answers happens to be correct and there will be same penalty as above to that question.
 - (iii) If a question is left blank, i.e., no answer is given by the candidate, there will be **no penalty** for that question.

Possession of Mobile Phones and other Electronic/Communication gadgets of any kind is prohibited inside the Examination venue.

ಗಮನಿಸಿ: ಸೂಚನೆಗಳ ಕನ್ನಡ ಆವೃತ್ತಿಯು ಈ ಪ್ರಶ್ನೆ ಪುಸ್ತಿಕೆಯ ಮುಂಭಾಗದಲ್ಲಿ ಮುದ್ರಿಸಲ್ಪಟ್ಟಿದೆ.