


ಪ್ರಶ್ನೆಪುಸ್ತಿಕೆ
ನಿರ್ದಿಷ್ಟ ಪತ್ರಿಕೆ
ಪತ್ರಿಕೆ II
(278)

ಪ್ರಶ್ನೆಪತ್ರಿಕೆ ಶ್ರೇಣಿ



ಸಮಯ : 2 ಗಂಟೆಗಳು

ಗರಿಷ್ಠ ಅಂಕಗಳು : 200

ಸೂಚನೆಗಳು

1. ಪರೀಕ್ಷೆ ಪ್ರಾರಂಭವಾದ ಕೂಡಲೇ ನಿಮ್ಮ ಪ್ರಶ್ನೆಪತ್ರಿಕೆಯಲ್ಲಿ ಅಮುದ್ರಿತ ಅಥವಾ ಹರಿದಿರುವ ಅಥವಾ ಬಿಟ್ಟು ಹೋಗಿರುವ ಪುಟಗಳು ಅಥವಾ ಪ್ರಶ್ನೆಗಳು ಇತ್ಯಾದಿಗಳು ಕಂಡುಬಂದಲ್ಲಿ ನಿಮ್ಮ ಒ.ಎಂ.ಆರ್. ಉತ್ತರ ಹಾಳೆಯಲ್ಲಿ ಮುದ್ರಿತವಾಗಿರುವ ಅದೇ ಶ್ರೇಣಿಯ ಪೂರ್ಣ ಪ್ರಶ್ನೆ ಪತ್ರಿಕೆ ಯೊಂದಿಗೆ ಬದಲಾಯಿಸಿ ಕೊಳ್ಳತಕ್ಕದ್ದು.
 2. ಅಭ್ಯರ್ಥಿಯು ಪ್ರಶ್ನೆ ಪತ್ರಿಕೆಯ ಶ್ರೇಣಿಯು, ತಮ್ಮ ಒ.ಎಂ.ಆರ್. ಉತ್ತರ ಹಾಳೆಯಲ್ಲಿ ಮುದ್ರಿತವಾಗಿರುವ ಅದೇ ಪ್ರಶ್ನೆಪತ್ರಿಕೆಯ ಶ್ರೇಣಿಯಾಗಿರುವುದೇ ಎಂಬುದನ್ನು ಖಚಿತಪಡಿಸಿಕೊಳ್ಳಬೇಕು. ವ್ಯತ್ಯಾಸಗಳು ಕಂಡುಬಂದಲ್ಲಿ, ಸಂವೀಕ್ಷಕರ ಗಮನಕ್ಕೆ ತರುವುದು ಮತ್ತು ಪ್ರಶ್ನೆಪತ್ರಿಕೆಯ ಶ್ರೇಣಿಯು ತಮಗೆ ಹೊಂದುವ (ಅದೇ) ಪ್ರಶ್ನೆ ಪತ್ರಿಕೆಯಾದ ಮತ್ತು ಒ.ಎಂ.ಆರ್. ಉತ್ತರ ಹಾಳೆಯಲ್ಲಿ ಮುದ್ರಿತವಾಗಿರುವ ಶ್ರೇಣಿಯ ಪ್ರಶ್ನೆಪತ್ರಿಕೆಯನ್ನೇ ಪಡೆಯತಕ್ಕದ್ದು.
 3. ಪಕ್ಕದಲ್ಲಿ ಒದಗಿಸಿರುವ ಪ್ರಶ್ನೆಪತ್ರಿಕೆಯ ಚೌಕದಲ್ಲೇ ನಿಮ್ಮ ನೋಂದಣಿ ಸಂಖ್ಯೆಯನ್ನು
ನಮೂದಿಸಬೇಕು. ಪ್ರಶ್ನೆ ಪುಸ್ತಿಕೆಯಲ್ಲಿ ಬೇರೆ ಏನನ್ನೂ ಬರೆಯಬಾರದು.
- | ನೋಂದಣಿ ಸಂಖ್ಯೆ | | | | |
|---------------|--|--|--|--|
| | | | | |
4. ಈ ಪ್ರಶ್ನೆ ಪುಸ್ತಿಕೆ 100 ಪ್ರಶ್ನೆಗಳನ್ನು ಒಳಗೊಂಡಿರುತ್ತದೆ, (a) ಸಾಮಾನ್ಯ ಕನ್ನಡ : 1-35, (b) ಸಾಮಾನ್ಯ ಇಂಗ್ಲೀಷ್ : 36-70, (c) ಕಂಪ್ಯೂಟರ್ ಜ್ಞಾನ : 71-100. ಪ್ರತಿಯೊಂದು ಪ್ರಶ್ನೆಯು 4 ಪ್ರತಿಕ್ರಿಯೆಗಳನ್ನು (ಉತ್ತರಗಳನ್ನು) ಒಳಗೊಂಡಿರುತ್ತದೆ. ನೀವು ಉತ್ತರ ಹಾಳೆಯಲ್ಲಿ ಗುರುತು ಮಾಡಬೇಕೆನಿಸುವ ಉತ್ತರವನ್ನು ಆಯ್ಕೆ ಮಾಡಿಕೊಳ್ಳಿ. ಒಂದು ವೇಳೆ ಅಲ್ಲಿ ಒಂದಕ್ಕಿಂತ ಹೆಚ್ಚು ಸರಿಯಾದ ಉತ್ತರಗಳಿವೆಯೆಂದು ನೀವು ಭಾವಿಸಿದರೆ ನಿಮಗೆ ಅತ್ಯುತ್ತಮವೆನಿಸುವ ಉತ್ತರಕ್ಕೆ ಗುರುತು ಮಾಡಿ. ಏನೇ ಅದರೂ ಪ್ರತಿ ಪ್ರಶ್ನೆಗೆ ನೀವು ಕೇವಲ ಒಂದು ಉತ್ತರವನ್ನು ಮಾತ್ರ ಆಯ್ಕೆ ಮಾಡಬೇಕು.
 5. ಎಲ್ಲಾ ಉತ್ತರಗಳನ್ನು ನಿಮಗೆ ಒದಗಿಸಲಾಗಿರುವ ಪ್ರತ್ಯೇಕ ಒ.ಎಂ.ಆರ್. ಉತ್ತರ ಹಾಳೆಯ ಮೇಲೆ ಕೇವಲ ಕಪ್ಪು ಅಥವಾ ನೀಲಿ ಶಾಯಿಯ ಬಾಲ್‌ಪಾಯಿಂಟ್ ಪೆನ್ನಿನಲ್ಲಿ ಮಾತ್ರ ಗುರುತು ಮಾಡಬೇಕು. ಒ.ಎಂ.ಆರ್. ಉತ್ತರ ಪತ್ರಿಕೆ ಹಾಳೆಯಲ್ಲಿನ ವಿವರವಾದ ಸೂಚನೆಗಳನ್ನು ಗಮನಿಸುವುದು.
 6. ಎಲ್ಲಾ ಪ್ರಶ್ನೆಗಳಿಗೆ ಸಮಾನ ಅಂಕಗಳು. ಎಲ್ಲಾ ಪ್ರಶ್ನೆಗಳಿಗೆ ಉತ್ತರಿಸಿರಿ.
 7. ಚಿತ್ತು ಕೆಲಸಕ್ಕಾಗಿ ಹಾಳೆಗಳನ್ನು ಪ್ರಶ್ನೆ ಪುಸ್ತಿಕೆಯ ಕೊನೆಯಲ್ಲಿ ಸೇರಿಸಲಾಗಿದೆ. ಪ್ರಶ್ನೆ ಪುಸ್ತಿಕೆಯ ಇನ್ನುಳಿದ ಯಾವ ಭಾಗದಲ್ಲಿಯೂ ನೀವು ಯಾವ ರೀತಿಯ ಗುರುತನ್ನು ಮಾಡತಕ್ಕದ್ದಲ್ಲ.
 8. ಪರೀಕ್ಷೆಯ ಮುಕ್ತಾಯವನ್ನು ಸೂಚಿಸುವ ಅಂತಿಮ ಗಂಟೆ ಬಾರಿಸಿದ ತಕ್ಷಣವೇ ಒ.ಎಂ.ಆರ್. ಉತ್ತರ ಪತ್ರಿಕೆ ಹಾಳೆಯಲ್ಲಿ ಇನ್ನಾವುದೇ ಗುರುತು ಮಾಡುವುದನ್ನು ನಿಲ್ಲಿಸಬೇಕು. ಸಂವೀಕ್ಷಕರು ಬಂದು ನಿಮ್ಮಲ್ಲಿರುವ ಒ.ಎಂ.ಆರ್. ಉತ್ತರ ಹಾಳೆಯನ್ನು ತಮ್ಮ ವಶಕ್ಕೆ ಪಡೆದುಕೊಂಡು ಲೆಕ್ಕಕ್ಕೆ ತೆಗೆದುಕೊಳ್ಳುವವರೆಗೂ ನಿಮ್ಮ ನಿಮ್ಮ ಆಸನದಲ್ಲಿಯೇ ಕುಳಿತಿರತಕ್ಕದ್ದು.
 9. ಕೆಳವು ಪ್ರಶ್ನೆಗಳು ಕನ್ನಡ ಮತ್ತು ಆಂಗ್ಲ ಭಾಷೆಯಲ್ಲಿರುತ್ತವೆ. ಕನ್ನಡ ಪ್ರಶ್ನೆಗಳಲ್ಲಿ ಸಂದೇಹ ಉಂಟಾದರೆ, ದಯವಿಟ್ಟು ಆಂಗ್ಲ ಭಾಷೆಯ ಪ್ರಶ್ನೆಗಳನ್ನು ಗಮನಿಸುವುದು. ಪ್ರಶ್ನೆ ಪತ್ರಿಕೆಯ ಪ್ರಶ್ನೆಗಳಲ್ಲಿ ಯಾವುದೇ ಗೊಂದಲಗಳಿದ್ದರೂ ಆಂಗ್ಲಭಾಷೆಯ ಪ್ರಶ್ನೆಗಳೇ ಅಂತಿಮವಾಗಿರುತ್ತವೆ.
 10. ತಪ್ಪು ಉತ್ತರಗಳಿಗೆ ವಿಧಿಸಲಾಗುವ ದಂಡ :

ವಸ್ತುನಿಷ್ಠ ಬಹು ಆಯ್ಕೆ ಪ್ರಶ್ನೆ ಪತ್ರಿಕೆಗಳಲ್ಲಿ ಅಭ್ಯರ್ಥಿಗಳು ಗುರುತು ಮಾಡಿದ ತಪ್ಪು ಉತ್ತರಕ್ಕೆ ದಂಡ ವಿಧಿಸಲಾಗುತ್ತದೆ.

- (i) ಪ್ರತಿಯೊಂದು ಪ್ರಶ್ನೆಯ ಉತ್ತರಕ್ಕೆ ನಾಲ್ಕು ಪರ್ಯಾಯಗಳಿವೆ. ಅಭ್ಯರ್ಥಿಯು ತಪ್ಪು ಉತ್ತರ ನೀಡಿದ ಪ್ರತಿಯೊಂದು ಪ್ರಶ್ನೆಗೆ ಆ ಪ್ರಶ್ನೆಗೆ ನಿಗದಿಪಡಿಸಲಾದ ಅಂಕಗಳಲ್ಲಿ 1/4 ರಷ್ಟು ಅಂಕಗಳನ್ನು ದಂಡ ರೂಪದಲ್ಲಿ ಕಳೆಯಲಾಗುವುದು.
- (ii) ಅಭ್ಯರ್ಥಿಯು ಒಂದು ಪ್ರಶ್ನೆಗೆ ಒಂದಕ್ಕಿಂತ ಹೆಚ್ಚು ಉತ್ತರವನ್ನು ನೀಡಿದರೆ, ಅಲ್ಲಿರುವ ಒಂದು ಉತ್ತರವು ಸರಿಯಿದ್ದರೂ ಸಹ ಅದನ್ನು ತಪ್ಪು ಉತ್ತರ ಎಂದು ಪರಿಗಣಿಸಲಾಗುವುದು ಮತ್ತು ಮೇಲೆ ತಿಳಿಸಿದಂತೆಯೇ ಆ ಪ್ರಶ್ನೆಗೆ ದಂಡ ವಿಧಿಸಲಾಗುವುದು.
- (iii) ಅಭ್ಯರ್ಥಿಯು ಪ್ರಶ್ನೆಯನ್ನು ಖಾಲಿ ಬಿಟ್ಟಿದ್ದಾಗ ಅಂದರೆ ಉತ್ತರವನ್ನು ನೀಡದಿದ್ದಾಗ ಆ ಪ್ರಶ್ನೆಗೆ ಯಾವುದೇ ದಂಡ ವಿಧಿಸಲಾಗುವುದಿಲ್ಲ.

ಯಾವುದೇ ರೀತಿಯ ಮೊಬೈಲ್ ಫೋನ್ ಮತ್ತು ಇತರೆ ರೀತಿಯ ಎಲೆಕ್ಟ್ರಾನಿಕ್/ಕಂಪ್ಯೂಟರ್/ಸಾಧನಗಳು ಇತ್ಯಾದಿಗಳನ್ನು ಪರೀಕ್ಷಾ ಕೇಂದ್ರದ ಆವರಣದೊಳಗೆ ತರುವುದನ್ನು ನಿಷೇಧಿಸಿದೆ.

Note : English version of the instructions is printed on the back cover of this booklet.

ಸಾಮಾನ್ಯ ಕನ್ನಡ

1. ಷಡಕ್ಷರದೇವ ರಚಿಸಿರುವ ಅಲಂಕಾರ ಗ್ರಂಥ

- (1) ಭಾರತೀಯ ಕಾವ್ಯಮೀಮಾಂಸೆ
- (2) ಕಾವ್ಯ ಪ್ರಕಾಶ
- (3) ಕಾವ್ಯಾದರ್ಶ
- (4) ಕವಿ ಕರ್ಣ ರಸಾಯನ

2. ಬೌದ್ಧರ ತಾರಾಭಗವತಿಯ ವಿಗ್ರಹವಿರುವ ಜಾಗ

- (1) ಬನವಾಸಿ
- (2) ಬಳ್ಳಿಗಾವೆ
- (3) ಡಂಬಳ
- (4) ಹಳೇಬೀಡು

3. ಗ್ರೀಕ್ ದುರಂತ ನಾಟಕಗಳ ಹಿನ್ನೆಲೆಯಲ್ಲಿ ರಚಿತವಾಗಿರುವ ನಾಟಕ

- (1) ಕುವೆಂಪುರವರ ರಕ್ತಾಕ್ಷಿ
- (2) ಪರ್ವತವಾಣಿಯವರ ಬಹದ್ದೂರ್ ಗಂಡ
- (3) ಶ್ರೀ ರಂಗರ ಹರಿಜನ್ವಾರ
- (4) ಬಿ.ಎಂ.ಶ್ರೀ. ಅವರ ಅಶ್ವತ್ಥಾಮನ್

4. 'ಕನ್ನಡ ದಾಸಯ್ಯ' ಎಂದು ಪ್ರಸಿದ್ಧರಾಗಿರುವ ಶಾಂತ ಕವಿಗಳ ನಿಜನಾಮವೇನು ?

- (1) ಪು.ತಿ. ನರಸಿಂಹಾಚಾರ್ಯರು
- (2) ಡಿ.ಎಲ್. ನರಸಿಂಹಾಚಾರ್ಯರು
- (3) ಎಸ್.ಜೆ. ನರಸಿಂಹಾಚಾರ್ಯರು
- (4) ಸಕ್ಕರಿ ಬಾಳಾಚಾರ್ಯರು

5. 'ಇಲ್ಲಿ ಯಾರೂ ಮುಖ್ಯರಲ್ಲ, ಯಾರೂ ಅಮುಖ್ಯರಲ್ಲ' - ಇದು ಯಾವ ಕಾದಂಬರಿಯ ಕೇಂದ್ರ ನುಡಿಗಳು ?

- (1) ಕುಸುಮ ಬಾಲೆ
- (2) ಹಂಸಗೀತೆ
- (3) ಗೃಹಭಂಗ
- (4) ಮಲೆಗಳಲ್ಲಿ ಮದುಮಗಳು

6. ಕೊಡಗಿನ ಕೊನೆಯ ರಾಜನನ್ನು ಕುರಿತು ಹೇಳುವ ಮಾಸ್ತಿಯವರ ಕಾದಂಬರಿ

- (1) ಚೆನ್ನಬಸವ ನಾಯಕ
- (2) ಮಹಾಕ್ಷತ್ರಿಯ
- (3) ಚಿಕ್ಕವೀರ ರಾಜೇಂದ್ರ
- (4) ದುರ್ಗಾಸ್ತಮಾನ

7. 'ವ್ಯಾಸ ಮುನೀಂದ್ರ ರುದ್ರ ವಚನಾಮೃತ ವಾರ್ಧಿಯನೀಸುವೆಂ ಕವಿ ವ್ಯಾಸನೆನ್ ಎಂಬ ಗರ್ವಂ ಎನಗಿಲ್ಲ ಎಂದು ವ್ಯಾಸರ ಬಗ್ಗೆ ಈ ಗೌರವದ ಮಾತುಗಳನ್ನಾಡಿದ ಕವಿ

- (1) ರನ್ನ
- (2) ಕುಮಾರವ್ಯಾಸ
- (3) ನಾಗಚಂದ್ರ
- (4) ಪಂಪ

8. 'ಭರತೇಶ ವೈಭವ' ಕಾವ್ಯದಲ್ಲಿ ಹೆಚ್ಚು ಕಲಾಪೂರ್ಣವಾದ ಭಾಗವೆಂದರೆ

- (1) ಅರ್ಕಕೀರ್ತಿ ವಿಜಯ
- (2) ಮೋಕ್ಷ ವಿಜಯ
- (3) ಭೋಗ ವಿಜಯ
- (4) ಯೋಗ ವಿಜಯ

9. ಮಾಸ್ತಿಯನರ 'ನವರಾತ್ರಿ' ಸಂಗ್ರಹದಲ್ಲಿ ಉಂಗುರದ ಪ್ರಸಂಗ ಬರುವ ಕಥನ ಕವನ

- (1) ದೇಶಾಚಾರ
- (2) ಸಮಾಧಿಯ ಸತ್ವ
- (3) ಸೋಜಿಗದ ಹೊಳಲು
- (4) ನಾಮ ಮಹಿಮೆ

10. "ಕೃತ್ಯ ಕಾಯಕವಿಲ್ಲದವರು ಭಕ್ತರಲ್ಲ, ಸತ್ಯಶುದ್ಧವಿಲ್ಲದುದು ಕಾಯಕವಲ್ಲ" ಎಂದು ಕಾಯಕದ ಮಹತ್ವವನ್ನು ತಿಳಿಸುವ ಈ ವಚನದ ಕರ್ತೃ

- (1) ಕಾಳವ್ವೆ
- (2) ಬಸವಣ್ಣ
- (3) ನುಲಿಯಚಂದಯ್ಯ
- (4) ಅಲ್ಲಮ ಪ್ರಭು

11. ರಾಷ್ಟ್ರಕೂಟ ಅರಸ ಅಮೋಘವರ್ಷ ನೃಪತುಂಗನ ತಂದೆ

- (1) ನಾಲ್ಕನೇ ಗೋವಿಂದ
- (2) ಮೂರನೇ ಗೋವಿಂದ
- (3) ಎರಡನೇ ಗೋವಿಂದ
- (4) ಒಂದನೇ ಗೋವಿಂದ

12. ಷಟ್ಪದಿಗಳಲ್ಲಿ ಸಾಮಾನ್ಯವಾಗಿ ಇರುವ ಪ್ರಾಸ

- (1) ಛೇಕಾನು ಪ್ರಾಸ
- (2) ಅಂತ್ಯ ಪ್ರಾಸ
- (3) ಆದಿ ಪ್ರಾಸ
- (4) ವೃತ್ತಾನು ಪ್ರಾಸ

13. 'ಇತಿಹಾಸ' ಕವನ ಕರ್ತೃ

- (1) ಚಂದ್ರಶೇಖರ ಪಾಟೀಲ
- (2) ಸು.ರಂ. ಎಕ್ಕುಂಡಿ
- (3) ಬಿ.ಸಿ. ರಾಮಚಂದ್ರ ಶರ್ಮ
- (4) ಚೆನ್ನವೀರ ಕಣವಿ

14. ಹೇಳಿಕೆ : “ನಿನ್ನ ಅಸೂಯಾಗ್ನಿ ತಣಿಯಲಿದೋ ಬೀಯದ ಬಾಲಕನೀ ಬೆರಳ ಬೇಳ್ಳೆ”

ಅರ್ಥ : ನಿನ್ನ ಅಸೂಯೆ ಎಂಬ ಅಗ್ನಿ ಅಡಗಲಿ ಬೇಡರ ಬಾಲಕನ ಬೆರಳ ಕತ್ತರಿಸುವುದನ್ನು ಬಿಟ್ಟು.

- (1) ಹೇಳಿಕೆ ಸರಿ ಅರ್ಥ ತಪ್ಪು
- (2) ಹೇಳಿಕೆ ಸರಿ ಅರ್ಥ ಸರಿ
- (3) ಹೇಳಿಕೆ ತಪ್ಪು ಅರ್ಥ ಸರಿ
- (4) ಹೇಳಿಕೆ ತಪ್ಪು ಅರ್ಥ ತಪ್ಪು

15. ಹರಿಶ್ಚಂದ್ರ ಕಾವ್ಯವು _____ ಷಟ್ಪದಿಯಲ್ಲಿ ರಚಿತವಾಗಿದೆ.

- (1) ಭಾಮಿನಿ
- (2) ವಾರ್ಧಕ
- (3) ಕುಸುಮ
- (4) ಪರಿವರ್ಧಿನಿ

16. ಕರ್ನಾಟಕದಲ್ಲೇ ಹುಟ್ಟಿ ಬೆಳೆದ ಮತವೆಂದರೆ

- (1) ಅದ್ವೈತ
- (2) ದ್ವೈತ
- (3) ವಿಶಿಷ್ಟಾದ್ವೈತ
- (4) ಯಾವುದೂ ಅಲ್ಲ

17. ಸಂಸ್ಕೃತ ಭಾಷೆಯ ಪ್ರಭಾವ ಅತಿ ಕಡಿಮೆ ಇರುವ ದ್ರಾವಿಡ ಭಾಷೆ

- (1) ಮಲೆಯಾಳಂ
- (2) ತಮಿಳು
- (3) ಕನ್ನಡ
- (4) ತೆಲುಗು

18. ಉತ್ತರ ದ್ರಾವಿಡ ಭಾಷಾವರ್ಗಕ್ಕೆ ಸೇರಿದ ಭಾಷೆ

- (1) ಕೊಲಾಮಿ
- (2) ಕೋಶ
- (3) ಪೆಂಗೊ
- (4) ಬ್ರಾಹೂಕು

19. “ಶ್ರೀ ರಾಮಾಯಣ ದರ್ಶನಂ” ಕಾವ್ಯದಲ್ಲಿಯ ಸಂಪುಟಗಳ ಒಟ್ಟು ಸಂಖ್ಯೆ

- (1) ಐದು
- (2) ನಾಲ್ಕು
- (3) ಆರು
- (4) ಎಂಟು

20. ಕಾವ್ಯ ಗಾಯತ್ರಿಗಳೆಂದರೆ

- (1) ಅಲಂಕಾರ, ಧ್ವನಿ, ಔಚಿತ್ಯ
- (2) ರಸ, ಅಲಂಕಾರ, ಔಚಿತ್ಯ
- (3) ರಸ, ಧ್ವನಿ, ವಕ್ರೋಕ್ತಿ
- (4) ರಸ, ಧ್ವನಿ, ಔಚಿತ್ಯ

21. “ಕಿಟಿಲ್ ಕೋಶದ ಗಾದೆಗಳು” ಕೃತಿಯ ಸಂಪಾದಕರು

- (1) ಜೀ.ಶಂ. ಪರಮಶಿವಯ್ಯ
- (2) ಹಿ.ಶಿ. ರಾಮಚಂದ್ರೇ ಗೌಡ
- (3) ರಾಮೇ ಗೌಡ
- (4) ಅಂಬಳಿಕೆ ಹಿರಿಯಣ್ಣ

22. ಹರದೇಶಿ - ನಾಗೇಶಿ ಎಂಬುದು ಜಾನಪದದಲ್ಲಿ ಒಂದು

- (1) ಸಣ್ಣಾಟ
- (2) ಯಕ್ಷಗಾನ ಸಂಪ್ರದಾಯ
- (3) ಐತಿಹ್ಯ
- (4) ಲಾವಣಿ ಹಾಡುವ ಸಂಪ್ರದಾಯ

23. ‘ಸಾಂಗತ್ಯ’ ಛಂದೋ ಪ್ರಕಾರದಲ್ಲಿ ಎಷ್ಟು ಸಾಲುಗಳಿರುತ್ತವೆ ?

- (1) ಆರು
- (2) ಮೂರು
- (3) ನಾಲ್ಕು
- (4) ಎಂಟು

24. ಸಿಂಗರಾರ್ಯನ ‘ಮಿತ್ರಾವಿಂದ ಗೋವಿಂದ’ ನಾಟಕವು _____ ನಾಟಕದ ಭಾಷಾಂತರ.

- (1) ಊರು ಭಂಗ
- (2) ವೇಣಿ ಸಂಹಾರ
- (3) ರತ್ನಾವಳಿ
- (4) ಶೋಕಚಕ್ರ

25. ‘ಕಾವ್ಯಾಲಂಕಾರ’ ಕೃತಿಯ ಕರ್ತೃ

- (1) ದಂಡಿ
- (2) ಭರತ
- (3) ಭಾಮಹ
- (4) ವಾಮನ

26. ಎಂ. ಗೋಪಾಲ ಕೃಷ್ಣ ಅಡಿಗರ ಮೊದಲ ಕವನ ಸಂಕಲನ

- (1) ಭಾವ ತರಂಗ
- (2) ಕಟ್ಟುವೆವು ನಾವು
- (3) ಚಂಡಮದ್ದಳೆ
- (4) ಭೂಮಿಗೀತೆ

27. ಮಾಯೆಯ ಪಾತ್ರವುಳ್ಳ ಕಾವ್ಯದ ಕರ್ತೃ

- (1) ನಂಜುಂಡ
- (2) ರತ್ನಾಕರ ವರ್ಣಿ
- (3) ಲಕ್ಷ್ಮೀಶ
- (4) ಚಾಮರಸ

28. ‘ಗೋಪಾಲ ಕೃಷ್ಣ ಅಡಿಗರು ಒಂದು ಜನಾಂಗದ ಕಣ್ಣು ತೆರೆಸಿದ ಕವಿ’ ಎಂದು ಅಭಿಪ್ರಾಯಿಸಿದವರು

- (1) ಯು.ಆರ್. ಅನಂತ ಮೂರ್ತಿ
- (2) ಪಿ. ಲಂಕೇಶ್
- (3) ಡಿ.ಆರ್. ನಾಗರಾಜ್
- (4) ಕಿ.ರಂ. ನಾಗರಾಜ್

29. 'ಕಮಲಾಪುರದ ಹೋಟೆನಲ್ಲಿ' ಈ ಪ್ರಕಾರಕ್ಕೆ ಸೇರುತ್ತದೆ

- (1) ಕಾದಂಬರಿ
- (2) ನಾಟಕ
- (3) ಪ್ರಬಂಧ
- (4) ಸಣ್ಣಕಥೆ

30. ಚಾತುರ್ವರ್ಣ ಎನ್ನುವುದು ಮನಃಶಾಸ್ತ್ರಕ್ಕೆ ಸಂಬಂಧ -
ಪಟ್ಟಿದೆಯೇ ಹೊರತು ಮನುಧರ್ಮ ಶಾಸ್ತ್ರಕ್ಕೆ
ಸಂಬಂಧಪಟ್ಟಿದ್ದಲ್ಲ ಎಂಬ ಹೇಳಿಕೆ ಇವರದು

- (1) ಸದ್ಗುರು ರಾಮದಾಸ್
- (2) ಸ್ವಾಮಿ ವಿವೇಕಾನಂದ
- (3) ಅರವಿಂದರು
- (4) ಶ್ರೀರಾಮಕೃಷ್ಣ ಪರಮ ಹಂಸ

31. ಹತ್ತನೆಯ ಶತಮಾನದಲ್ಲಿ ಪ್ರಸಿದ್ಧವಾದ ಸಾಹಿತ್ಯ ಪ್ರಕಾರ

- (1) ವಚನ
- (2) ಚಂಪೂ
- (3) ರಗಳೆ
- (4) ಷಟ್ಪದಿ

32. 'ಪ್ರಜ್ಞೆ ಮತ್ತು ಪರಿಸರ' ಕೃತಿಯ ಲೇಖಕ

- (1) ಗಿರೀಶ್ ಕಾರ್ನಾಡ್
- (2) ಪಿ. ಲಂಕೇಶ್
- (3) ಡಿ.ಆರ್. ನಾಗರಾಜ್
- (4) ಯು.ಆರ್. ಅನಂತಮೂರ್ತಿ

33. ನವ್ಯ ಸಾಹಿತ್ಯದ ಲಕ್ಷಣ

- (1) ವ್ಯಕ್ತಿ ವೈಶಿಷ್ಟ್ಯ
- (2) ನಿಸರ್ಗನಿಷ್ಠೆ
- (3) ಐತಿಹಾಸಿಕ ನೋಟ
- (4) ಸಾಂಸ್ಕೃತಿಕ ಶೋಧನೆ

34. ಹೊಸಗನ್ನಡದ ಕಾವ್ಯಗಳಲ್ಲಿ ಹೆಚ್ಚಾಗಿ ಕಾಣುವ
ಛಂದಸ್ಸೆಲ್ಲ

- (1) ಮಾತ್ರಾ ಗಣಾತ್ಮಕ ವಾಗಿದೆ
- (2) ಅಕ್ಷರ ಗಣಾತ್ಮಕ ವಾಗಿದೆ
- (3) ಅಂಶ ಗಣಾತ್ಮಕ ವಾಗಿದೆ
- (4) ವರ್ಣ ಗಣಾತ್ಮಕ ವಾಗಿದೆ

35. "ಸಂಚಿತ ಪಕ್ಷ್ಮ ಕಪಾಟಂ ನಯನ ದ್ವಾರಂ ಸ್ವರೂಪ
ತಡನೇನ ಉದ್ಭಾಟ್ಯ ಸಾಪ್ರವಿಷ್ಟಾ ಹೃದಯ ಗೃಹಂ ಮೇ
ನೃಪ ತನೂಜಾ" ಇಲ್ಲಿರುವ ಅಲಂಕಾರ ಯಾವುದು ?

- (1) ರೂಪಕ
- (2) ಉಪಮಾ
- (3) ದೃಷ್ಟಾಂತ
- (4) ಶ್ಲೇಷ

GENERAL ENGLISH

Directions : For Questions 36 to 39, fill in the blanks with the appropriate combination of words choosing from those given below :

The Government sanctioned a few crores of rupees to build a stadium in our town. The builders made 36 with the stadium. While the work was in progress, unfortunately, a boulder rolled down on a worker and he was injured. Immediately, he was rushed to a nearby hospital. I wished him 37 . The Government took 38 against the builders. The builders made 39 of the bills of the hospital.

36. (1) rapid progress
(2) speedy recovery
(3) swift action
(4) prompt payment
37. (1) a speedy recovery
(2) a prompt payment
(3) a swift action
(4) a rapid progress
38. (1) swift action
(2) prompt payment
(3) speedy recovery
(4) rapid progress
39. (1) rapid progress
(2) swift action
(3) prompt payment
(4) speedy recovery

Directions : For Questions 40 to 43, each of the following questions consists of an incomplete sentence. Each sentence is followed by four words or phrases out of which one completes the sentence in the best and most appropriate way. You have to choose the correct option and shade the correct bubble in your answer sheet.

Example :

His family was economically ruined on account of his wife being fashionable and _____ .

- (1) extravagant
(2) thrifty
(3) frugal
(4) remiss

In the incomplete sentence given above, the word “extravagant” completes the sentence in the best and most appropriate way. So you have to choose the Option (1) and mark it in your answer sheet.

40. He harbours great _____ against his boss because the latter has been instrumental in baulking his chances of promotion.
- (1) rage
(2) conviction
(3) hospitality
(4) resentment

41. The atom bomb and the hydrogen bomb have both been _____ by the neutron bomb in their ferocity which in fact poses great danger to the very existence of the human race.

- (1) substituted
- (2) surpassed
- (3) excelled
- (4) superseded

42. The Adult Education Programme has proven to be a potential step in the direction of _____ of illiteracy from the face of India.

- (1) elimination
- (2) absorption
- (3) extradition
- (4) eradication

43. The demands of the workers for a salary hike were _____ with lot of historical data for comparison.

- (1) build up
- (2) backed up
- (3) brushed up
- (4) done up

Directions : For Question No. 44 to 47, you have to choose the word from the options given below which has the same meaning and can be used in the same context as the bold and underlined word in both the sentences and mark the correct answer in your answer sheet.

Example :

This rule does not **hold good** in his case.

They failed to **put** themselves to the work with dedication and spirit.

- (1) accede
- (2) secede
- (3) apply
- (4) approach

Here the correct word is **apply** which can replace the bold and underlined word in both the sentences in the best way and the meaning of both sentences will remain same. So for this question, you have to select the Option (3) and mark the same in your answer sheet.

44. A. It is the **collective** effort of all the stakeholders and so everyone deserves an equal share in the profit incurred.

B. He was recently injured and felt great pain in the arm and shoulder **connection**.

- (1) joint
- (2) addendum
- (3) mutual
- (4) intrigue

45. A. He tried to present himself as their savior and messiah who can take them out of the current situation.
- B. His only scheme which attracted interest and attention of the people was one related to the revamping of the old theatre building.
- (1) plan
(2) project
(3) design
(4) plant
46. A. You can still make big money in the bourses on condition that you make your fundamentals strong and start investing right now.
- B. He made available to him all possible help to make him reach the depth of the matter.
- (1) provided
(2) convened
(3) proceeded
(4) projected
47. A. It is a/an object thinking to kick a fallen competitor and inflict more pain to him.
- B. What is the average of the heights of all the candidates who have appeared for the physical test ?
- (1) mean
(2) mode
(3) interval
(4) low

Directions : For Questions no. 48 to 52, an idiom or phrase has been used in the sentence. You have to choose the sentence which explains the correct meaning of that and shade/darken the correct answer in your answer sheet.

Example :

Tejas attends Karate classes once in a blue moon.

- (1) Tejas attends Karate classes regularly.
- (2) Tejas attends Karate classes rarely.
- (3) Tejas attends Karate classes fortnightly.
- (4) Tejas attends Karate classes frequently but not regularly.

Explanation :

The answer is Option (2) as the underlined part means 'rare occurrence of something'. So you have to choose Option (2) and shade/darken the corresponding answer in your answer sheet for this example.

48. Vincent had a windfall with the new announcement in the government policy.
- (1) Vincent had an unexpected gain and good fortune after the new announcement in the government policy.
- (2) Vincent had an unexpected loss in the business after the new announcement made by the government.
- (3) Vincent suffered a setback after the new announcement in the government policy.
- (4) Vincent whole-heartedly welcomed the new policy announced by the government.

49. Rahul **fought tooth and nail** to save the company and the interest of other stakeholders.

- (1) Rahul waged an open war with other board members to save the company and the interest of the other stakeholders.
- (2) Rahul fought as best as he could to save the company and the interest of the other stakeholders.
- (3) Rahul resorted to unfair means to save the company and the interest of the other stakeholders.
- (4) Rahul fought uninterestingly and without any commitment to save the company and the interest of other stakeholders.

50. She **burnt her fingers** by interfering in the affairs of her neighbour.

- (1) She got rebuked badly by her neighbour as she was interfering in her affairs.
- (2) She got herself humiliated by interfering in the affairs of her neighbour.
- (3) She got herself into a profitable position by interfering in the affairs of her neighbour.
- (4) She got herself into trouble by interfering in the affairs of her neighbour.

51. What Rahul is telling everyone since yesterday is a **cock and bull story** ?

- (1) What Rahul is telling everyone since yesterday is a very interesting but highly implausible story.
- (2) What Rahul is telling everyone since yesterday is a true narrative to make them serious about the issue.
- (3) What Rahul is telling everyone since yesterday is an attempt to create controversy.
- (4) What Rahul is telling everyone since yesterday is about competition between two unequal forces.

52. Rajesh realized that he had been **taken for a ride** by his friend.

- (1) Rajesh realized and understood that his friend wants to keep him in good humour and entertain him.
- (2) Rajesh understood that his friend has employed him for a task and would pay him.
- (3) Rajesh understood that he had been cheated by his friend.
- (4) Rajesh understood that he had gotten help from his friend.

Directions : In Questions no. 53 to 56, each question contains a paragraph of 6 sentences. The first and the sixth sentences are given in the beginning and end and numbered 1 and 6 respectively. The four sentences in the middle are jumbled and labelled P, Q, R and S. You must identify the proper order of these four sentences and shade/blacken the option that correctly identifies this sequence.

Example :

1. Once upon a time there lived a king.
 - P. One day while hunting he was attacked by a tiger.
 - Q. He had three ferocious hunting dogs.
 - R. The dogs pounced on the tiger and saved the king's life.
 - S. The king used to take them with him while going out.
6. He loved them till the end of his life.

The correct sequence is

- (1) P Q S R
- (2) R Q S P
- (3) Q S P R
- (4) S R Q P

Explanation :

The correct sequence or order in this example is QSPR. So you have to shade/blacken Option (3) in your answer sheet.

- 53.
1. In the old days people produced things with their own hands.
 - P. We got these things from other countries.
 - Q. Some years ago there were no factories in our country to make even small things such as pens, pencils and nails.
 - R. Now-a-days machines are making them in factories.
 - S. Machines can make them much more quickly than man.
 6. But now we not only have factories which make these items, but factories which make much bigger things as well.

The correct sequence is

- (1) P S R Q
- (2) R Q P S
- (3) R S Q P
- (4) P Q R S

54. 1. The belief in evil spirits, though still common, is probably less widespread than it was earlier.
- P. They live in terror of germs and practise elaborate antiseptic rites in order to counteract their influence.
- Q. Evil spirits being out of fashion, it must therefore find expression in other beliefs.
- R. With many people especially women, bacilli have taken the place of spirits and microbes for them are personification of evil.
- S. But the human tendency to oversize its sense of value is still as strong as ever.
6. The forms change but the substance remains the same.

The correct sequence is

- (1) S P R Q
(2) P S Q R
(3) Q P S R
(4) R Q S P

55. 1. Healthcare costs have been skyrocketing in our country.
- P. Assuming that all these reasons are true, the fact remains that there is an urgent need to check the accelerated costs and initiate suitable measures.
- Q. Some people attribute it to the increasing greediness among the medicos.
- R. The measures include yoga classes with emphasis on physical and mental exercises and also change in food habits.
- S. Certain others feel that it is because of drastic changes in people's lifestyle and eating habits.
6. The impact of these measures will be visible only after a considerable passage of time.

The correct sequence is

- (1) Q S P R
(2) Q R S P
(3) P Q R S
(4) S R Q P

56. 1. One day Emperor Akbar ordered Birbal.

P. The Emperor got very angry with Birbal and put him into prison.

Q. "The type of horse you are asking doesn't at all exist and even if it does exist, it is too hard to find."

R. Birbal said, "My lord; that is impossible."

S. "Bring me a horse of a colour which is neither grey, nor black, nor green, nor blue, nor white."

6. However, after a few days the emperor set Birbal free when the latter promised to do as he asked.

The correct sequence is

- (1) P R Q S
- (2) P Q S R
- (3) R Q P S
- (4) S R Q P

57. Out of the four groups given of feminine gender formed from masculine gender, which of the group/groups has/have all four options correct ?

A. a. actor – actress
b. poet – poetess
c. lord – lady
d. emperor – empress } Group A

B. a. hero – heroine
b. man – woman
c. executor – executors
d. master – mistress } Group B

C. a. waiter – waitress
b. master – masters
c. patron – patroness
d. husband – wife } Group C

D. a. lad – lass
b. heir – heiress
c. uncle – aunt
d. prince – princess } Group D

Select the code for the correct answer from the options given below :

- (1) Group A and Group B only
- (2) Group A and Group D only
- (3) Group A only
- (4) None of the above

58. Out of the four groups given, which group/groups has/have all four correct pairs of singular and plural nouns ?

- A. a. calf – calfs
 b. wife – wives
 c. lie – lies
 d. man – men } Group A

- B. a. deer – deer
 b. witch – witches
 c. candy – candies
 d. child – children } Group B

- C. a. sheep – sheep
 b. goose – geese
 c. fungus – fungi
 d. woman – women } Group C

- D. a. hoof – hoofs
 b. roof – roofs
 c. nucleus – nuclei
 d. mouse – mice } Group D

Select the code for the correct answer from the options given below :

- (1) Group A and Group B only
 (2) Group B and Group C only
 (3) Group C and Group D only
 (4) None of the above

59. Match the idioms in section A with the meanings in section B :

<i>Section A</i> (Idiom)	<i>Section B</i> (Meaning)
A. to look forward	I. to tolerate
B. to put up with	II. to take into consideration
C. to bell the cat	III. to await eagerly
D. to take into account	IV. to take the leading part in any activity

Select the code for the correct answer from the options given below :

	A	B	C	D
(1)	II	IV	III	I
(2)	III	I	IV	II
(3)	II	IV	I	III
(4)	II	I	IV	III

60. Choose the word which is opposite in meaning to the underlined word in the following sentence :

“The decision of disinvestment by the government was vehemently opposed by the stakeholders.”

- (1) Calmly
 (2) Voraciously
 (3) Singularly
 (4) Collectively

- 61.** Add a suitable question tag to the sentence given below :
 “The odds are certainly in favour of the Australian team today.”
- (1) aren't they ?
 (2) are they ?
 (3) isn't it ?
 (4) is it ?

- 62.** Match the following sentences (List I) with the figure of speech (List II) used in them :

List I

(Sentence)

A. Peter Piper
picked a peck of
pickled peppers.

B. A failure is an
orphan with no
takers.

C. The desert
travellers' hopes
were dashed as
when at last he
reached a well, it
was as dry as a
bone.

D. The sun smiled
and chased away
all the angry
clouds.

List II

(Figure of
speech)

I. Metaphor

II. Alliteration

III. Personification

IV. Simile

Select the code for the correct answer from the options given below :

- | | A | B | C | D |
|-----|----------|----------|----------|----------|
| (1) | III | I | II | IV |
| (2) | II | I | IV | III |
| (3) | II | I | III | IV |
| (4) | I | II | III | IV |

- 63.** Consider the following words :

- A. Aberation
 B. Miniscule
 C. Playwrite
 D. Twelvth
 E. Seperate

Which of the above words are misspelt or wrongly spelt ?

- (1) A, D and E only
 (2) A, C, D and E only
 (3) B, C and D only
 (4) A, B, C, D and E

Directions : In Questions no. **64** to **66**, you will find a sentence given with four separate parts. In some sentences, there is an error in one of the three parts in the light of the rules of standard written English for grammar, correct usage and choice of words. No sentence has more than one error. If you find an error, choose that part as answer and mark it in your answer sheet. If you find no error, mark your answer option as (4) No error in your answer sheet.

Example :

Neither he nor his team

(1) (2)

were present that day. No error.

(3) (4)

Explanation :

The correct answer in this case is Option (3). It should be “was present that day”. So you must shade/blacken Option (3) for this question in your answer sheet.

64. The director, along with
(1)
the manager has decided
(2)
to opt for a pay cut.
(3)
No error.
(4)
65. The little girl says that she prefers
(1)
playing with the Barbie doll
(2)
than playing with a toy house.
(3)
No error.
(4)
66. A tax is called as 'Direct Tax'
(1)
when it is assessed upon the person
(2)
who has to bear the burden of it.
(3)
No error.
(4)

Directions : Read the following passage and answer the items that follow (Questions no. 67 to 70). Your answers to these items should be based on the passage only.

Passage

The lives of the Ancient Greeks revolved around eris, a concept by which they defined the universe. They believed that the world existed in a condition of opposites. If there was good, then there was evil, if there was love, then there was hatred; joy, then sorrow; war, then peace; and so on. The Greeks believed that good eris occurred when one held a balanced outlook on life and coped with problems as they arose. It was a kind of ease of living that came from trying to bring together the great opposing forces in nature. Bad eris was evident in the violent conditions that ruled men's lives. Although these things were found in nature and sometimes could not be controlled, it was believed that bad eris occurred when one ignored a problem, letting it grow larger until it destroyed not only that person, but his family as well. The Ancient Greeks saw eris as a goddess: Eris, the Goddess of Discord, better known as Trouble.

One myth that expresses this concept of bad eris deals with the marriage of King Peleus and the river goddess Thetis. Zeus, the supreme ruler, learns that Thetis would bear a child strong enough to destroy its father. Not wanting to father his own ruin,

Zeus convinces Thetis to marry a human, a mortal whose child could never challenge the gods. He promises her, among other things, the greatest wedding in all of Heaven and Earth and allows the couple to invite whomever they please. This is one of the first mixed marriages of Greek Mythology and the lesson learned from it still applies today. They do invite everyone ... except Eris, the Goddess of Discord. In other words, instead of facing the problems brought on by a mixed marriage, they turn their backs on them. They refused to deal directly with their problems and the result is tragic. In her fury, Eris arrives, ruins the wedding, causes a jealous feud between the three major goddesses over a golden apple, and sets in place the conditions that lead to the Trojan War. The war would take place 20 years in the future, but it would result in the death of the only child of the bride and groom, Achilles. Eris would destroy the parents' hopes for their future, leaving the couple with no legitimate heirs to the throne.

Hence, when we are told, "If you don't invite trouble, trouble comes," it means that if we don't deal with our problems, our problems will deal with us ... with a vengeance! It is easy to see why the Greeks considered many of their myths learning myths, for this one teaches us the best way to defeat that which can destroy us.

- 67.** Most specifically, bad eris is defined in the passage as
- (1) The violent conditions of life
 - (2) The problems man encounters
 - (3) The evil goddess who has a golden apple
 - (4) The murderer of generations
- 68.** It can also be inferred that Zeus did not fear a child sired by King Peleus because
- (1) He knew that the child could not climb Mt. Olympus.
 - (2) He knew that the child would be killed in the Trojan War.
 - (3) He knew that no matter how strong a mortal child was, he couldn't overthrow an immortal God.
 - (4) He knew that Thetis would always love him above everyone else.
- 69.** According to the passage, Achilles
- (1) Defeated Zeus during the Trojan War.
 - (2) Dies during the Trojan War.
 - (3) Was born 20 years after the war because of the disruption Eris caused at the wedding.
 - (4) Was the illegitimate son of Peleus.
- 70.** Which of the following statements is the message offered in the myth ?
- (1) Do not consider a mixed marriage.
 - (2) Do not anger the gods.
 - (3) Do not ignore the problems that arise in life.
 - (4) Do not take myths seriously.

ಕಂಪ್ಯೂಟರ್ ಜ್ಞಾನ

71. ಕೆಳಗಿನ ಹೇಳಿಕೆಗಳನ್ನು ಪರಿಗಣಿಸಿ :

- A. ನಿಬ್ಬಲ್ ಎಂಬುದು ಒಂದು ಬೈಟ್‌ನಲ್ಲಿ ಅರ್ಧ.
- B. ಸೆಕೆಂಡ್‌ನ 1/1000 ನ್ನು ಮೈಕ್ರೋಸೆಕೆಂಡ್ ಎನ್ನುತ್ತಾರೆ.
- C. ಒಂದು ಟೆರಾಬೈಟ್‌ವು 1 ಗೀಗಾ ಬೈಟ್‌ಗಿಂತ ದೊಡ್ಡದು.

ಈ ಮೇಲಿನ ಹೇಳಿಕೆಗಳಲ್ಲಿ ಯಾವುದು /ವು ಸರಿ ?
ನೀಡಿರುವ ಆಯ್ಕೆಗಳಲ್ಲಿ ಸರಿಯಾದ ಉತ್ತರಕ್ಕಾಗಿ ಸಂಕೇತವನ್ನಾರಿಸಿ :

- (1) A ಮತ್ತು B ಮಾತ್ರ
- (2) B ಮತ್ತು C ಮಾತ್ರ
- (3) A ಮತ್ತು C ಮಾತ್ರ
- (4) A, B ಮತ್ತು C

72. ಈ ಕೆಳಗಿನವುಗಳಲ್ಲಿ ಯಾವ ಹೇಳಿಕೆಯು (ಬ್ಯಾಂಡ್ ವಿಡ್ತ್) ಬ್ಯಾಂಡ್ ಅಗಲವನ್ನು ಕುರಿತಂತೆ ಸರಿಯಾಗಿವೆ ?

- (1) ಸಂದಹನ ವ್ಯವಸ್ಥೆಯ ಬ್ಯಾಂಡ್ ಅಗಲದ ಸಂಕುಚಿತತೆಯು, ನೀಡಿರುವ ವೇಳೆಯ ಅವಧಿಯಲ್ಲಿ ಕಡಿಮೆ ಮಾಹಿತಿಯನ್ನು ಸಂವಹನ ಮಾಡುತ್ತದೆ.
- (2) ಸಂವಹನ ವ್ಯವಸ್ಥೆಯ ಬ್ಯಾಂಡ್ ಅಗಲದ ಸಂಕುಚಿತತೆಯು, ನೀಡಿರುವ ವೇಳೆಯ ಅವಧಿಯಲ್ಲಿ ಹೆಚ್ಚು ಮಾಹಿತಿಯನ್ನು ಸಂವಹನ ಮಾಡುತ್ತದೆ.
- (3) ಸಂವಹನ ವ್ಯವಸ್ಥೆಯ ಬ್ಯಾಂಡ್ ಅಗಲದ ವ್ಯಾಪಕತೆಯು, ನೀಡಿರುವ ವೇಳೆಯ ಅವಧಿಯಲ್ಲಿ ಕಡಿಮೆ ಮಾಹಿತಿಯನ್ನು ಸಂವಹನಗೊಳಿಸುತ್ತದೆ.
- (4) ಮೇಲಿನ ಯಾವುದೂ ಅಲ್ಲ

73. ಕಂಪ್ಯೂಟರ್ ಮೇಲಣ ಅಂತರಸಂಪರ್ಕಿತ ಕಂಪ್ಯೂಟರ್ ರಚನಾವಿನ್ಯಾಸಗಳು ಎರಡು ಅಥವಾ ಹೆಚ್ಚು ಸ್ವತಂತ್ರ CPU ಗಳೊಡನೆ ಏಕಕಾಲಿಕವಾಗಿ ಅನೇಕ ಕಾರ್ಯಕ್ರಮಗಳನ್ನು ನಿರೂಪಗೊಳಿಸುವ ಸಾಮರ್ಥ್ಯವನ್ನು ಹೀಗೆನ್ನುತ್ತಾರೆ

- (1) ಬಹುತಂತುಳ್ಳ
- (2) ಬಹು ಪ್ರಕ್ರಿಯಾತ್ಮಕ
- (3) ಬಹುಘಟಕ (ಬಹುಸಂದೇಶ ವಾಹಕ)
- (4) ಮೇಲಿನ ಯಾವುದೂ ಅಲ್ಲ

74. 'ಸ್ವೂಫಿಂಗ್ ಅಟ್ಯಾಕ್' (ಅಣಕದ ಧಾಳಿ) ಎಂದರೇನು ?

- (1) ಒಂದು ಸಿದ್ಧಪಡಿಸಿದ ಅನ್ವಯವಾಗಿದ್ದು ಇದು ತಿಳಿದಿರುವ ದೌರ್ಬಲ್ಯದ ಅನುಕೂಲತೆಯನ್ನು ತೆಗೆದುಕೊಳ್ಳುತ್ತದೆ.
- (2) ಗೊತ್ತಿರುವ ದೌರ್ಬಲ್ಯಕ್ಕಾಗಿ, ಒಂದು ನೆಟ್‌ವರ್ಕ್‌ನ ಮೇಲೆ ಕಂಪ್ಯೂಟರ್‌ನ್ನು ಶೀಘ್ರವಾಗಿ ಪರಿಶೀಲಿಸಲು ಬಳಸುವ ಒಂದು ಸಾಧನ.
- (3) ಇದು ಕಂಪ್ಯೂಟರ್‌ನ ಒಳಗೇ ಅಥವಾ ನೆಟ್‌ವರ್ಕ್‌ನ ಮೇಲೆ ದುರುದ್ದೇಶದಿಂದ ಪಾಸ್‌ವರ್ಡ್‌ಗಳನ್ನು ಸೆರೆಹಿಡಿಯುವಾಗ ಮತ್ತು ಇತರ ಮಾಹಿತಿಗಳ ಸಾಗಣೆಯಾಗುತ್ತಿರುವಾಗ TCP/IP ಡೇಟಾ ಪೊಟ್ಟಣಗಳನ್ನು ಸೆರೆ ಹಿಡಿಯುವ ಅನ್ವಯವಾಗಿದೆ.
- (4) ಒಬ್ಬ ವ್ಯಕ್ತಿ ಅಥವಾ ಒಂದು ಪ್ರೋಗ್ರಾಂನ್ನು ಯಶಸ್ವಿಯಾಗಿ ಸುಳ್ಳಿನ ಮಾಹಿತಿಯಿಂದ ಯಶಸ್ವಿಯಾಗಿ ಮತ್ತೊಂದೆಂಬಂತೆ ಬಿಂಬಿಸುವ ಮತ್ತು ಇದರಿಂದ ಅಕ್ರಮ ಪ್ರವೇಶವನ್ನು ಹೊಂದುವ ಒಂದು ಸಂದರ್ಭ.

COMPUTER KNOWLEDGE

71. Consider the following statements :

- A. Nibble is half of a byte.
- B. One-thousandth of a second is called microsecond.
- C. 1 Terabyte is greater than 1 Gigabyte.

Which of the above statements are correct ?

Select the code for the correct answer from the options given below :

- (1) A and B only
- (2) B and C only
- (3) A and C only
- (4) A, B and C

72. Which of the following statements is true for bandwidth ?

- (1) The narrower the bandwidth of a communications system the less data it can transmit in a given period of time.
- (2) The narrower the bandwidth of a communications system the more data it can transmit in a given period of time.
- (3) The wider the bandwidth of a communications system the less data it can transmit in a given period of time.
- (4) None of the above

73. An interconnected computer configuration on computers with two or more independent CPUs that have the ability to simultaneously execute several programs is called

- (1) Multithreading
- (2) Multiprocessing
- (3) Multiplexing
- (4) None of the above

74. What is a spoofing attack ?

- (1) A prepared application that takes advantage of a known weakness.
- (2) A tool used to quickly check computers on a network for known weaknesses.
- (3) An application that captures TCP/IP data packets which can maliciously be used to capture passwords and other data while it is in transit, either within the computer or over the network.
- (4) A situation in which one person or program successfully masquerades as another by falsifying data and thereby gaining illegitimate access.

75. ಕೆಳಗಿನ ಕ್ಷುಪ್ತನಾಮಗಳನ್ನು ಅವುಗಳ ವಿಸ್ತರಣೆಯೊಂದಿಗೆ ಪರಿಗಣಿಸಿ :
- VGA – ವೀಡಿಯೋ ಗ್ರಾಫಿಕ್ಸ್ ಆರೇ
 - GIF – ಗ್ರಾಫಿಕ್ ಇಂಟೆಲಿಜೆನ್ಸ್ ಫಾರ್ಮ್ಯಾಟ್
 - COBOL – ಕಾಮನ್ ಬಿಸಿನೆಸ್ ಓರಿಯೆಂಟೆಡ್ ಲಾಂಗ್ವೇಜ್
 - DRAM – ಡೈನಮಿಕ್ ರ್ಯಾಂಡಂ ಆಕ್ಸೆಸ್ ಮೆಮೊರಿ.

ಮೇಲಿನವುಗಳಲ್ಲಿ ಯಾವುದು ಸರಿ ?

ನೀಡಿರುವ ಆಯ್ಕೆಗಳಲ್ಲಿ ಸರಿಯಾದ ಉತ್ತರಕ್ಕಾಗಿ ಸಂಕೇತವನ್ನಾರಿಸಿ :

- (1) A, B ಮತ್ತು C ಮಾತ್ರ
- (2) A, B ಮತ್ತು D ಮಾತ್ರ
- (3) A, C ಮತ್ತು D ಮಾತ್ರ
- (4) A, B, C ಮತ್ತು D

76. ಸಿ.ಪಿ.ಯು.ಗಳಲ್ಲಿ ಕಂಪ್ಯೂಟರ್‌ಗಳು ಟ್ರಾನ್ಸಿಸ್ಟರ್‌ಗಳನ್ನು ಬಳಸುವುದು, ಕಾಂಪೀಯ ತಿರುಳನ್ನು ಮುಖ್ಯ ಸ್ಮೃತಿಗಳಾಗಿ ಮತ್ತು FORTRAN ಮತ್ತು COBOL ಎಂಬ ಅಧಿಕ ಮಟ್ಟದ ಭಾಷೆಗಳನ್ನು ಪ್ರೋಗ್ರಾಮಿಂಗ್‌ಗಾಗಿ ಉಪಯೋಗಿಸುವುದು ಇದು ಈ ಕೆಳಗಿನವುಗಳಲ್ಲಿ ಯಾವುದಕ್ಕೆ ಸಂಬಂಧಿಸಿದೆ ?

- (1) ಮೊದಲನೇ ತಲೆಮಾರಿನ ಕಂಪ್ಯೂಟರ್‌ಗಳು
- (2) ಎರಡನೇ ತಲೆಮಾರಿನ ಕಂಪ್ಯೂಟರ್‌ಗಳು
- (3) ಮೂರನೇ ತಲೆಮಾರಿನ ಕಂಪ್ಯೂಟರ್‌ಗಳು
- (4) ನಾಲ್ಕನೇ ತಲೆಮಾರಿನ ಕಂಪ್ಯೂಟರ್‌ಗಳು

77. ಈ ಕೆಳಗಿನ ಹೇಳಿಕೆಗಳನ್ನು ಪರಿಗಣಿಸಿ :

- ENIAC, EDVAC ಮತ್ತು EDSAC ಗಳು ಮೊದಲನೇ ತಲೆಮಾರಿನ ಕಂಪ್ಯೂಟರ್‌ಗಳಿಗೆ ಉದಾಹರಣೆಗಳಾಗಿವೆ.
- 'ENIAC' ನ್ನು ಚಾರ್ಲ್ಸ್ ಬ್ಯಾಬೇಜನು ಅಭಿವೃದ್ಧಿಗೊಳಿಸಿದನು.

ಈ ಮೇಲಿನ ಹೇಳಿಕೆಗಳಲ್ಲಿ ಯಾವುದು /ವು ಸರಿ ?

ನೀಡಿರುವ ಆಯ್ಕೆಗಳಲ್ಲಿ ಸರಿಯಾದ ಉತ್ತರಕ್ಕಾಗಿ ಸಂಕೇತವನ್ನಾರಿಸಿ :

- (1) A ಮಾತ್ರ
- (2) B ಮಾತ್ರ
- (3) A ಮತ್ತು B ಇವೆರಡೂ
- (4) A ಆಗಲೀ ಅಥವಾ B ಆಗಲೀ ಅಲ್ಲ

78. ಒಂದು ಭಾಷಾ ಪ್ರೊಸೆಸರ್‌ವು ಒಂದು ಅಧಿಕ ಮಟ್ಟದ ಭಾಷೆಯ ಒಂದು ಹೇಳಿಕೆಯನ್ನು ಭಾಷಾಂತರಗೊಳಿಸುತ್ತದೆ ಮತ್ತು ಮುಂದಿನ ಆಕರದ ಭಾಷಾ ಹೇಳಿಕೆಯ ಭಾಷಾಂತರ ಮಾಡುವ ಮುನ್ನವೇ. ಅದನ್ನು ತಕ್ಷಣವೇ ಕಾರ್ಯಗತ ಗೊಳಿಸುವುದನ್ನು ಹೀಗೆನ್ನುತ್ತಾರೆ

- (1) ಇಂಟರ್‌ಪ್ರೆಟರ್
- (2) ಅಡಾಪ್ಟರ್
- (3) ಡೈರೆಕ್ಟರ್
- (4) ಮೇಲಿನ ಯಾವುದೂ ಅಲ್ಲ

75. Consider the following acronyms with their expansions :

- A. VGA – Video Graphics Array
- B. GIF – Graphic Intelligence Format
- C. COBOL – Common Business Oriented Language
- D. DRAM – Dynamic Random Access Memory

Which of the above are correct ?

Select the code for the correct answer from the options given below :

- (1) A, B and C only
- (2) A, B and D only
- (3) A, C and D only
- (4) A, B, C and D

76. Computers which use transistors in CPU, magnetic core as main memories and high-level languages like FORTRAN and COBOL for programming are referred to as which of the following ?

- (1) First Generation Computers
- (2) Second Generation Computers
- (3) Third Generation Computers
- (4) Fourth Generation Computers

77. Consider the following statements :

- A. ENIAC, EDVAC and EDSAC are the examples of first generation computers.
- B. ENIAC was developed by Charles Babbage.

Which of the above statements is/are correct ?

Select the code for the correct answer from the options given below :

- (1) A only
- (2) B only
- (3) Both A and B
- (4) Neither A nor B

78. A language processor that translates a statement of a high-level language and immediately executes it before translating the next source language statement is called

- (1) Interpreter
- (2) Adapter
- (3) Director
- (4) None of these

79. ಪಟ್ಟಿ I ಮೈಕ್ರೋಸಾಫ್ಟ್ ಪವರಪಾಯಿಂಟ್ ಶಾರ್ಟ್‌ಕಟ್ ಕೀ ಗಳೊಂದಿಗೆ ಮತ್ತು ಪಟ್ಟಿ II ಅವುಗಳ ಕ್ರಿಯೆಗಳನ್ನು ಹೊಂದಿಸಿರಿ :

ಪಟ್ಟಿ I
(ಶಾರ್ಟ್‌ಕಟ್ ಕೀಗಳು)

ಪಟ್ಟಿ II
(ಕ್ರಿಯೆಗಳು)

A. Ctrl + M	I.	ಒಂದು ಹೊಸ ಶುದ್ಧ ನಿರೂಪಣೆಯನ್ನು ತೆರೆಯುವುದು
B. Ctrl + N	II.	ಒಂದು ಹೊಸ ಸ್ಲೈಡ್‌ನ್ನು ಸೇರಿಸುವುದು
C. Ctrl + O	III.	ಫಾಂಟ್ ಡೈಲಾಗ್ ಬಾಕ್ಸ್‌ನ್ನು ತೆರೆಯುವುದು
D. Ctrl + T	IV.	ಓಪನ್ ಡೈಲಾಗ್ ಬಾಕ್ಸ್‌ನ್ನು ತೆರೆಯುವುದು

ಸಂಕೇತಗಳ ಸಹಾಯದಿಂದ ಸರಿ ಉತ್ತರಗಳನ್ನು ಆರಿಸಿ :

	A	B	C	D
(1)	I	II	III	IV
(2)	II	I	IV	III
(3)	I	II	IV	III
(4)	II	I	III	IV

80. ಒಂದು ಡೇಟಾಬೇಸ್ ಮ್ಯಾನೇಜ್‌ಮೆಂಟ್ ವ್ಯವಸ್ಥೆಯು (DBMS)

- (1) ಒಂದು ಡೇಟಾಬೇಸ್‌ಗಾಗಿ ಸೃಷ್ಟಿಸುವ, ನಿರ್ವಹಿಸುವ ಮತ್ತು ನಿಯಂತ್ರಿತ ಪ್ರವೇಶ್ಯವನ್ನು ಒದಗಿಸುವ ಯಾಂತ್ರಿಕಾಂಶ ವ್ಯವಸ್ಥೆ.
- (2) ಒಂದು ಡೇಟಾಬೇಸ್‌ಗಾಗಿ ಸೃಷ್ಟಿಸುವ ನಿರ್ವಹಿಸುವ ಮತ್ತು ಅನಿಯಂತ್ರಿತ ಪ್ರವೇಶ್ಯವನ್ನು ಒದಗಿಸುವ ಒಂದು ಯಾಂತ್ರಿಕಾಂಶ ವ್ಯವಸ್ಥೆ.
- (3) ಒಂದು ಡೇಟಾಬೇಸ್‌ಗಾಗಿ ಸೃಷ್ಟಿಸುವ ನಿರ್ವಹಿಸುವ ಮತ್ತು ನಿಯಂತ್ರಿತ ಪ್ರವೇಶ್ಯವನ್ನೊದಗಿಸುವ ಒಂದು ತಂತ್ರಾಂಶ ವ್ಯವಸ್ಥೆ.
- (4) ಒಂದು ಡೇಟಾಬೇಸ್‌ಗಾಗಿ ಸೃಷ್ಟಿಸುವ, ನಿರ್ವಹಿಸುವ ಮತ್ತು ಅನಿಯಂತ್ರಿತ ಪ್ರವೇಶ್ಯವನ್ನೊದಗಿಸುವ ತಂತ್ರಾಂಶ ವ್ಯವಸ್ಥೆ.

81. ಒಂದು ಆಕ್ಟ್ ವ್ಯವಸ್ಥೆಗೆ

- (1) ಒಂದು ಸಂಖ್ಯೆಯನ್ನು ಪ್ರತಿನಿಧಿಸಲು ಬೈನರಿ ವ್ಯವಸ್ಥೆಯಲ್ಲಿ ಅವಶ್ಯಕವಿರುವ ಡಿಜಿಟ್‌ಗಳಿಗಿಂತಲೂ ಕಡಿಮೆ ಡಿಜಿಟ್‌ಗಳ ಅವಶ್ಯಕವಿದೆ.
- (2) ಒಂದು ಸಂಖ್ಯೆಯನ್ನು ಪ್ರತಿನಿಧಿಸಲು, ಬೈನರಿ ವ್ಯವಸ್ಥೆಯಲ್ಲಿ ಅವಶ್ಯಕವಿರುವ ಡಿಜಿಟ್‌ಗಳಿಗಿಂತಲೂ ಅಧಿಕ ಡಿಜಿಟ್‌ಗಳ ಅವಶ್ಯಕವಿದೆ.
- (3) ಒಂದು ಸಂಖ್ಯೆಯನ್ನು ಪ್ರತಿನಿಧಿಸಲು, ಬೈನರಿ ವ್ಯವಸ್ಥೆಯಲ್ಲಿರುವಷ್ಟೇ ಸಂಖ್ಯೆಯ ಡಿಜಿಟ್‌ಗಳ ಅವಶ್ಯಕತೆ ಇದೆ.
- (4) ಒಂದು ಸಂಖ್ಯೆಯನ್ನು ಪ್ರತಿನಿಧಿಸಲು, ದಶಮಾಂಶ ವ್ಯವಸ್ಥೆಯಲ್ಲಿರುವ ಸಂಖ್ಯೆಯಷ್ಟೇ ಡಿಜಿಟ್‌ಗಳ ಅವಶ್ಯಕತೆ ಇದೆ.

79. Match the following Shortcut Keys (List I) of Microsoft PowerPoint with their Actions (List II) :

<i>List I</i> (Shortcut Key)	<i>List II</i> (Action)
---------------------------------	----------------------------

- | | |
|-------------|-----------------------------------|
| A. Ctrl + M | I. Opens a new blank presentation |
| B. Ctrl + N | II. Inserts a new slide |
| C. Ctrl + O | III. Opens the font dialog box |
| D. Ctrl + T | IV. Opens the open dialog box |

Select the code for the correct answer from the options given below :

- | | A | B | C | D |
|-----|----|----|-----|-----|
| (1) | I | II | III | IV |
| (2) | II | I | IV | III |
| (3) | I | II | IV | III |
| (4) | II | I | III | IV |

80. A Database Management System (DBMS) is a

- (1) Hardware system used to create, maintain and provide controlled access to a database.
- (2) Hardware system used to create, maintain and provide uncontrolled access to a database.
- (3) Software system used to create, maintain and provide controlled access to a database.
- (4) Software system used to create, maintain and provide uncontrolled access to a database.

81. The Octal system

- (1) Needs less digits to represent a number than the digits required in the binary system.
- (2) Needs more digits to represent a number than the digits required in the binary system.
- (3) Needs the same number of digits to represent a number as in the binary system.
- (4) Needs the same number of digits to represent a number as in the decimal system.

82. ಕೆಳಗಿನ ಭಾಷೆಗಳನ್ನು ಪರಿಗಣಿಸಿ :

- A. C++
- B. C
- C. FORTRAN
- D. BASIC
- E. PASCAL

ಈ ಮೇಲೆ ನೀಡಿರುವ ಭಾಷೆಗಳಲ್ಲಿ ಯಾವುದು ಅಧಿಕ ಮಟ್ಟದ (HLL) ಭಾಷೆಗಳಾಗಿವೆ ?

ನೀಡಿರುವ ಆಯ್ಕೆಗಳಲ್ಲಿ ಸರಿಯಾದ ಉತ್ತರಕ್ಕಾಗಿ ಸಂಕೇತವನ್ನಾರಿಸಿ :

- (1) A, B ಮತ್ತು D ಮಾತ್ರ
- (2) A ಮತ್ತು B ಮಾತ್ರ
- (3) C, D ಮತ್ತು E ಮಾತ್ರ
- (4) A, B, C, D ಮತ್ತು E

83. ಕೆಳಗಿನ ಹೇಳಿಕೆಗಳನ್ನು ಪರಿಗಣಿಸಿ :

- A. ಬೆಲ್ ಲ್ಯಾಬ್‌ಗಳಲ್ಲಿ C++ ವು ಬಿಜರ್ನೆಸ್ ಸ್ಟ್ರಾಕ್ಚರ್ ನಿಂದ ಅಭಿವೃದ್ಧಿಗೊಂಡಿತು.
- B. ಸನ್ ಮೈಕ್ರೊಸಿಸ್ಟಂಗಳಲ್ಲಿ ಜಾವಾವು ಜೇಮ್ಸ್ ಗೊಸ್ಲಿಂಗ್‌ರಿಂದ ಅಭಿವೃದ್ಧಿಗೊಂಡಿತು.

ಈ ಮೇಲಿನ ಹೇಳಿಕೆಗಳಲ್ಲಿ ಯಾವುದು /ವು ಸರಿ ?

ನೀಡಿರುವ ಆಯ್ಕೆಗಳಲ್ಲಿ ಸರಿಯಾದ ಉತ್ತರಕ್ಕಾಗಿ ಸಂಕೇತವನ್ನಾರಿಸಿ :

- (1) A ಮಾತ್ರ
- (2) B ಮಾತ್ರ
- (3) A ಮತ್ತು B ಇವೆರಡೂ
- (4) A ಆಗಲೀ ಅಥವಾ B ಆಗಲೀ ಅಲ್ಲ

84. “ಎಂ.ಎಸ್. ವರ್ಡ್”ನ್ನು ಕುರಿತಂತೆ ಕೆಳಗಿನ ಹೇಳಿಕೆಗಳನ್ನು ಪರಿಗಣಿಸಿ :

- A. ಎಂ.ಎಸ್. ವರ್ಡ್ ನಲ್ಲಿ ಒಂದು ಕಂಡಿಕೆಯ ದೋಷಪೂರಿತ ಅಲ್ಟ್ರಾ-ಮೆಂಟ್‌ವು, ‘ಲೆಫ್ಟ್ ಅಲ್ಟ್ರಾ’.
- B. ‘ಸೆಂಟರ್ ಇಂಡೆಂಟ್’ ವು ಎಂ.ಎಸ್. ವರ್ಡ್‌ನ ಪರದೆಯ ರೂಲರ್‌ನ ಮೇಲೆ ಲಭ್ಯವಿರುವುದಿಲ್ಲ.

ಈ ಮೇಲಿನ ಹೇಳಿಕೆಗಳಲ್ಲಿ ಯಾವುದು /ವು ಸರಿ ?

ನೀಡಿರುವ ಆಯ್ಕೆಗಳಲ್ಲಿ ಸರಿಯಾದ ಉತ್ತರಕ್ಕಾಗಿ ಸಂಕೇತವನ್ನಾರಿಸಿ :

- (1) A ಮಾತ್ರ
- (2) B ಮಾತ್ರ
- (3) A ಮತ್ತು B ಇವೆರಡೂ
- (4) A ಆಗಲೀ ಅಥವಾ B ಆಗಲೀ ಅಲ್ಲ

85. ಕೆಳಗಿನ ಆಲೋದಂಗಳನ್ನು ಎಚ್ಚರಿಕೆಯಿಂದ ಪರಿಶೀಲಿಸಿ :

INTEGER W = 9

INTEGER X = 10

INTEGER Y = 11

INTEGER Z

Z = (W + X + 1) + (Y - 1)

PRINT THE VALUE OF 'Z'

ಕೊಟ್ಟಿರುವ ಆಲೋದಂಗಳ ಪ್ರಕಾರ Z ನ ಮೌಲ್ಯವು

- (1) 30
- (2) 29
- (3) 31
- (4) 28

82. Consider the following languages :

- A. C++
- B. C
- C. FORTRAN
- D. BASIC
- E. PASCAL

Which of the above given languages are High Level Languages (HLL) ?

Select the code for the correct answer from the options given below :

- (1) A, B and D only
- (2) A and B only
- (3) C, D and E only
- (4) A, B, C, D and E

83. Consider the following statements :

- A. C++ was developed by Bjarne Stroustrup at Bell Labs.
- B. Java was developed by James Gosling at Sun Microsystems.

Which of the above statements is/are correct ?

Select the code for the correct answer from the options given below :

- (1) A only
- (2) B only
- (3) Both A and B
- (4) Neither A nor B

84. Consider the following statements regarding “MS Word” :

- A. In MS Word, the default alignment for the paragraph is ‘left aligned’.
- B. ‘Centre Indent’ is not available on the ruler of the MS Word screen.

Which of the above statements is/are correct ?

Select the code for the correct answer from the options given below :

- (1) A only
- (2) B only
- (3) Both A and B
- (4) Neither A nor B

85. Go through the following algorithm carefully :

```
INTEGER W = 9
INTEGER X = 10
INTEGER Y = 11
INTEGER Z
Z = (W + X + 1) + (Y - 1)
PRINT THE VALUE OF 'Z'
```

The value of Z according to the given algorithm should be

- (1) 30
- (2) 29
- (3) 31
- (4) 28

86. ಮಾಹಿತಿಯ ಸಂವಹನದಲ್ಲಿ ಮೋಡೆಂವು

- A. ಎನ್‌ಕೋಡಿಂಗ್ ಮತ್ತು ಡಿಕೋಡಿಂಗ್ ಸಾಧನ
- B. ಡಿಜಿಟಲ್‌ನ್ನು ಅನಲಾಗ್ ಆಗಿ ಪರಿವರ್ತಿಸಲು ಬಳಕೆಯಾಗುತ್ತದೆ
- C. ಅನಲಾಗ್‌ನ್ನು ಡಿಜಿಟಲ್ ಆಗಿ ಪರಿವರ್ತಿಸಲು ಬಳಕೆಯಾಗುತ್ತದೆ
- D. ಪರಿಫೆರಲ್ ಸಾಧನದಿಂದ ಸಿ.ಪಿ.ಯು ಮತ್ತು ಸಿ.ಪಿ.ಯು.ನಿಂದ ಪರಿಫೆರಲ್ ಸಾಧನಕ್ಕೆ ಮಾಹಿತಿ ಪ್ರವಾಹಗಳ ನಿರ್ವಹಣೆಗಾಗಿ ಬಳಸಲಾಗುತ್ತದೆ

ಮೇಲಿನವುಗಳಲ್ಲಿ ಯಾವುದು / ವು ಸರಿ ?

ಕೊಟ್ಟಿರುವ ಆಯ್ಕೆಗಳಲ್ಲಿ ಸಂಕೇತಗಳ ಮೂಲಕ ಸರಿ ಉತ್ತರವನ್ನು ಆರಿಸಿ :

- (1) A ಮತ್ತು B ಮಾತ್ರ
- (2) B ಮತ್ತು C ಮಾತ್ರ
- (3) C ಮಾತ್ರ
- (4) A, B, C ಮತ್ತು D

87. ಹೊಂದಿಸಿ ಬರೆಯಿರಿ :

ಪಟ್ಟಿ I	ಪಟ್ಟಿ II
A. ವಿಂಡೋಸ್ 10	I. ಅಪ್ಲಿಕೇಷನ್ ಸಾಫ್ಟ್‌ವೇರ್
B. ಆ್ಯಂಟಿವೈರಸ್	II. ಸಿಸ್ಟಮ್ ಸಾಫ್ಟ್‌ವೇರ್
C. ಎಂ.ಎಸ್. ಆಫೀಸ್	III. ಬ್ರೌಸರ್
D. ಇಂಟರ್ನೆಟ್ ಎಕ್ಸ್‌ಪ್ಲೋರರ್	IV. ಯುಟಿಲಿಟಿ ಸಾಫ್ಟ್‌ವೇರ್

ಸಂಕೇತಗಳ ಸಹಾಯದಿಂದ ಸರಿ ಉತ್ತರಗಳನ್ನು ಆರಿಸಿ :

	A	B	C	D
(1)	II	IV	I	III
(2)	II	IV	III	I
(3)	IV	I	II	III
(4)	I	III	II	IV

88. ಕಂಪ್ಯೂಟರ್ ಭಾಷೆಗಳನ್ನು (ಪಟ್ಟಿ I) ಮತ್ತು ಅವುಗಳ ಅನ್ವಯಗಳೊಂದಿಗೆ (ಪಟ್ಟಿ II) ಹೊಂದಿಸಿ ಬರೆಯಿರಿ :

ಪಟ್ಟಿ I (ಕಂಪ್ಯೂಟರ್ ಭಾಷೆ)	ಪಟ್ಟಿ II (ಅನ್ವಯಗಳು)
-----------------------------	------------------------

- | | | |
|-------------------|------|---|
| A. FORTRAN | I. | ಕಂಪೆನಿಗಳಿಗಾಗಿ ಹಣಕಾಸು ಮತ್ತು ಆಡಳಿತ ವ್ಯವಸ್ಥೆಯಲ್ಲಿ |
| B. COBOL | II. | ಶಿಕ್ಷಣದಲ್ಲಿ, ಅನ್ವಯ ಮತ್ತು ವಿಜ್ಞಾನೇತರ ವಿದ್ಯಾರ್ಥಿಗಳಿಗೆ ವಿಶೇಷ ಭಾಷೆ |
| C. C-ಭಾಷೆ | III. | ಸಿಸ್ಟಮ್ ಸಾಫ್ಟ್‌ವೇರ್ ಅನ್ನು ಅನುಷ್ಠಾನಗೊಳಿಸುವುದು ಮತ್ತು ತಂತ್ರಾಂಶಗಳ ಪೋರ್ಟಬಲ್ ಅನ್ವಯವನ್ನು ಅಭಿವೃದ್ಧಿಗೊಳಿಸುವುದು |
| D. ಬೇಸಿಕ್ (BASIC) | IV. | ಕಂಪ್ಯೂಟೇಶನಲ್ ಭೌತಶಾಸ್ತ್ರ ಮತ್ತು ರಸಾಯನಶಾಸ್ತ್ರಗಳಲ್ಲಿ |

ಸಂಕೇತಗಳ ಸಹಾಯದಿಂದ ಸರಿ ಉತ್ತರಗಳನ್ನು ಆರಿಸಿ :

	A	B	C	D
(1)	II	IV	III	I
(2)	II	III	IV	I
(3)	IV	III	I	II
(4)	IV	I	III	II

- 86.** In data transmission, MODEM is
- A. An encoding and decoding device
 - B. Used for converting digital into analog
 - C. Used for converting analog into digital
 - D. Used for handling data streams from peripheral device to the CPU and vice versa

Which of the above is/are correct ?

Select the code for the correct answer from the options given below :

- (1) A and B only
- (2) B and C only
- (3) C only
- (4) A, B, C and D

- 87.** Match the following :

List I

List II

- | | |
|----------------------|-------------------------|
| A. Windows10 | I. Application Software |
| B. Antivirus | II. System Software |
| C. MS-Office | III. Browser |
| D. Internet Explorer | IV. Utility Software |

Select the code for the correct answer from the options given below :

- | | A | B | C | D |
|-----|----------|----------|----------|----------|
| (1) | II | IV | I | III |
| (2) | II | IV | III | I |
| (3) | IV | I | II | III |
| (4) | I | III | II | IV |

- 88.** Match the Computer Languages (List I) with their applications (List II) :

List I
(Computer Language)

List II
(Application)

- | | |
|---------------|---|
| A. FORTRAN | I. In finance and administrative system for companies |
| B. COBOL | II. Application in education and special language for non-science students |
| C. C-Language | III. Implementing system software and developing portable application softwares |
| D. BASIC | IV. In computational Physics and Chemistry |

Select the code for the correct answer from the options given below :

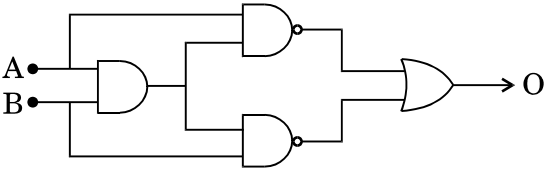
- | | A | B | C | D |
|-----|----------|----------|----------|----------|
| (1) | II | IV | III | I |
| (2) | II | III | IV | I |
| (3) | IV | III | I | II |
| (4) | IV | I | III | II |

89. ಎಂ.ಎಸ್. ಪವರ್‌ಪಾಯಿಂಟ್‌ನಲ್ಲಿನ ಗರಿಷ್ಠ ಜೂಮ್ ಶೇಕಡಾವಾರು
- (1) 100%
 - (2) 200%
 - (3) 400%
 - (4) 500%

90. ಒಂದು ಪ್ರಿಂಟ್‌ಹೆಡ್ ನೊಂದಿಗೆ ಕೆಲವು ಸಂಖ್ಯೆಯ ನೋಯ್ಡ್‌ಗಳು (ಮೂತಿಗಳು) ಇವೆ. ಪ್ರತಿಯೊಂದು ನೋಯ್ಡ್‌ನ್ನು ಸಮಗ್ರ ಮಂಡಲ ರೆಸಿಸ್ಟರ್‌ನಿಂದ ಅತಿಶೀಘ್ರವಾಗಿ ಬಿಸಿ ಮಾಡಲಾಗಿದೆ. ರೆಸಿಸ್ಟರ್ ಬಿಸಿಗೊಂಡಾಗ, ಅವರ ಸಮೀಪದ ಶಾಯಿಯು ಆವಿಯಾಗುತ್ತದೆ ಮತ್ತು ನೋಡಲ್ಸ್ ಗಳ ಮೂಲಕ ಹೊರ ಚಿಮ್ಮುತ್ತದೆ. ನೋಡಲ್ಸ್ ಮೂಲಕ ಚಿಮ್ಮಿ ತಿರದಬಳಿ ಇರುವ ಕಾಗದದ ಮೇಲೆ ಬಿಂದುವನ್ನುಂಟು ಮಾಡುತ್ತದೆ. ಇದು ಯಾವ ಬಗೆಯ ಪ್ರಿಂಟರ್‌ನ್ನು ಕುರಿತದ್ದಾಗಿದೆ ?

- (1) ಡಾಟ್ ಮಾತ್ರಿಕೆ ಮುದ್ರಕ
- (2) ಇಂಕ್ ಜೆಟ್ ಮುದ್ರಕ
- (3) ಲೇಸರ್ ಮುದ್ರಕ
- (4) ಮೇಲಿನ ಯಾವುದೂ ಅಲ್ಲ

91. ಕೆಳಗೆ ನೀಡಿರುವ ನಕಾಶೆಯಲ್ಲಿ ನಿರ್ಗತ O ದ ಮೌಲ್ಯವೇನು ?



- (1) $O = A + B$
- (2) $O = A \cdot B$
- (3) $O = \overline{A + B}$
- (4) ಮೇಲಿನ ಯಾವುದೂ ಅಲ್ಲ

92. MS ಆಕ್ಸ್‌ನ ಕೋಷ್ಟಕಗಳಲ್ಲಿ ಶೇಖರಿಸಲ್ಪಟ್ಟಿರುವ ಮಾಹಿತಿಯಿಂದ ಆಕ್ಷೇಪ/ಪ್ರಶ್ನೆಗಳಿಗೆ ಉತ್ತರವನ್ನು ಪಡೆಯಬಹುದು. ಕೆಳಗಿನ ಪ್ರಶ್ನೆಗಳ ಬಗೆಗಳು ಮತ್ತು ಅವುಗಳ ವಿವರಣೆಯನ್ನು ಪರಿಗಣಿಸಿ :

ಪ್ರಶ್ನೆ / ಆಕ್ಷೇಪ ವಿವರಣೆ

- A. ಆಯ್ಕೆ — ಒಂದು ಅಥವಾ ಹೆಚ್ಚು ಕೋಷ್ಟಕಗಳಿಂದ ಮಾಹಿತಿಯನ್ನು ಮರಳಿ ಪಡೆಯುವುದು ಮತ್ತು ಒಂದು ಡೇಟಾ ಹಾಳೆಯ ಮೇಲೆ ರೆಕಾರ್ಡ್‌ಸೆಟ್‌ನ್ನು ಪ್ರದರ್ಶಿಸುವುದು. ಇದು ಅತ್ಯಧಿಕವಾಗಿ ಸಾಮಾನ್ಯವಾಗಿರುವ ಪ್ರಶ್ನೆಯ / ಆಕ್ಷೇಪ ವಿಧಾನ.
- B. ಪ್ಯಾರಾಮಿಟರ್ — ಬಳಕೆದಾರನಿಗೆ ಮೌಲ್ಯಗಳ ನಮೂದಿಗೆ ಸಹಾಯ ಮಾಡುತ್ತದೆ ಇದರಿಂದ ಪ್ರಶ್ನೆ/ಆಕ್ಷೇಪದ ವ್ಯಾಖ್ಯಾನ, ಮಾರಾಟ ಫಲಿತಾಂಶಕ್ಕಾಗಿ ನಿರ್ದಿಷ್ಟವಾದ ಕ್ಷೇತ್ರ ಅಥವಾ ಗೃಹಗಳಿಗೆ ನಿರ್ದಿಷ್ಟವಾದ ಬೆಲೆಪಟ್ಟಿಯು ಲಭ್ಯವಾಗುತ್ತದೆ.

ಈ ಮೇಲಿನವುಗಳಲ್ಲಿ ಯಾವುದು/ವು ಸರಿಯಾಗಿ ವಿವರಿಸಲ್ಪಟ್ಟಿದೆ ?

ಸಂಕೇತಗಳ ಸಹಾಯದಿಂದ ಸರಿ ಉತ್ತರಗಳನ್ನು ಆರಿಸಿ :

- (1) A ಮಾತ್ರ
- (2) B ಮಾತ್ರ
- (3) A ಮತ್ತು B ಇವೆರಡೂ
- (4) A ಆಗಲೀ ಅಥವಾ B ಆಗಲೀ ಅಲ್ಲ

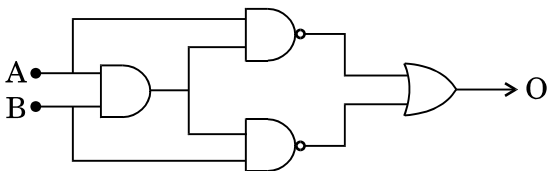
89. The maximum zoom percentage in MS PowerPoint is

- (1) 100%
- (2) 200%
- (3) 400%
- (4) 500%

90. It consists of a print head with a number of nozzles. An individual nozzle is heated very rapidly by an integrated circuit resistor. When the resistor heats up, ink near it vaporizes and is ejected through the nozzle which makes a dot on the paper placed near the head. What kind of printer is referred to here ?

- (1) Dot Matrix Printer
- (2) Ink Jet Printer
- (3) Laser Printer
- (4) None of the above

91. In relation to the diagram given below, what is the value of the output O ?



- (1) $O = A + B$
- (2) $O = A \cdot B$
- (3) $O = \overline{A + B}$
- (4) None of the above

92. Queries get information from the data stored in the tables in MS Access. Consider the following Query types with their explanations :

<i>Query</i>	<i>Explanation</i>
A. Select Query –	Retrieving data from one or more tables and displays the recordset in a datasheet. This is the most common type of query.
B. Parameter Query –	Prompts the user to enter values that define the query, such as a specified region for sales results or a specified price range for houses.

Which of the above is/are correctly explained ?

Select the code for the correct answer from the options given below :

- (1) A only
- (2) B only
- (3) Both A and B
- (4) Neither A nor B

93. ಎಂ.ಎಸ್. ಎಕ್ಸೆಲ್‌ನಲ್ಲಿ ಈ ಸೂತ್ರದ ಸರಿಯಾದ ಮೌಲ್ಯವು

ROUND(2·62,0)+CEILING(1·63,1)

- (1) 0
- (2) 2
- (3) 3
- (4) 5

94. ಈ ಕೆಳಗಿನ ಯಾವ ಕುಕೀಗಳಲ್ಲಿ ಬಳಕೆದಾರನು ರದ್ದುಗೊಳಿಸಿದ ನಂತರವೂ ಸ್ವಯಂ ಚಾಲಿತವಾಗಿ ಪುನರ್ ಸೃಷ್ಟಿಯಾಗುವ ಕುಕೀಯಾಗಿದೆ ?

- (1) ಸೆಷನ್ ಕುಕೀ
- (2) ಪರ್ಸಿಸ್ಟೆಂಟ್ ಕುಕೀ
- (3) ಸೂಪರ್ (ಅಧಿ) ಕುಕೀ
- (4) ರೋಂಬಿ ಕುಕೀ

95. ಕಂಪ್ಯೂಟರ್ ಯುಗ ಮತ್ತು ಆಧುನಿಕ ಮಾಹಿತಿ ತಂತ್ರಜ್ಞಾನದಲ್ಲಿ 'ವಿಷಿಂಗ್' ಎಂದರೇನು ?

- (1) ಸಾಮಾಜಿಕ ಎಂಜಿನಿಯರಿಂಗ್ ಬಳಕೆಯ ಕ್ರಿಮಿನಲ್ ಪದ್ಧತಿಯು ಟೆಲಿಫೋನ್ ಸಿಸ್ಟಂನ ಮೇಲೆ ಖಾಸಗಿ, ವೈಯಕ್ತಿಕ ಪ್ರವೇಶಗಳಿಸಿಕೊಳ್ಳುವುದು ಮತ್ತು ವಿತ್ತೀಯ ಪ್ರಶಂಸೆ ಉದ್ದೇಶಕ್ಕಾಗಿ ಸಾರ್ವಜನಿಕರಿಂದ ವಿತ್ತೀಯ ಮಾಹಿತಿಯನ್ನು ಪಡೆಯುವುದು.
- (2) VOIP ಯನ್ನು ಬಳಸುವ ಕ್ರಿಮಿನಲ್ ಪದ್ಧತಿಯು ಸಾರ್ವಜನಿಕ ತಾಣಗಳ ರೂಪಾಂತರಕ್ಕಾಗಿ ಅಧಿಕ ಸುರಕ್ಷೆಯಲ್ಲಿರುವ ತಾಣಗಳಿಗೆ ಪ್ರವೇಶವನ್ನು ಗಳಿಸುವುದು.
- (3) ಆಧುನಿಕ ಪದ್ಧತಿಯಲ್ಲಿ ಒಂದು ಸಿಸ್ಟಂನಲ್ಲಿ ಶೇಖರ ವಾಗಿರುವ ಮಾಹಿತಿ ಮತ್ತು ಕಡತಗಳನ್ನು ಹೊಂದುವುದು ಮತ್ತು ಮಾಲಿಕನ ಗಮನಕ್ಕೆ ಬಾರದಂತೆ ಮುಖ್ಯವಾದ ಮಾಹಿತಿ ಮತ್ತು ಕಡತಗಳನ್ನು ರದ್ದುಗೊಳಿಸುವುದು.
- (4) ವರ್ಲ್ಡ್ ವೈಡ್ ವೈಬ್‌ನ ಮೂಲಕ ಕುಕೀಸ್ ರೂಪದಲ್ಲಿ ಕಂಪ್ಯೂಟರ್ ಜಂతుಗಳನ್ನು ಆಧುನಿಕ ವಿಧಾನಗಳು ಹರಡುತ್ತವೆ.

96. ಈ ಕೆಳಗಿನ ಯಾವ ಫಲನವು ಎಂ.ಎಸ್. ಎಕ್ಸೆಲ್‌ನಲ್ಲಿ 9 ರ ಮೌಲ್ಯವನ್ನು ಮರಳಿಸುವುದು ?

- A. ROUNDUP(9·4999,0)
- B. ROUNDDOWN(9·4999,0)
- C. ROUND(9·4999,0)

ನೀಡಿರುವ ಆಯ್ಕೆಗಳಲ್ಲಿ ಸರಿಯಾದ ಉತ್ತರಕ್ಕಾಗಿ ಸಂಕೇತವನ್ನಾರಿಸಿ :

- (1) A ಮಾತ್ರ
- (2) B ಮತ್ತು C ಮಾತ್ರ
- (3) A ಮತ್ತು C ಮಾತ್ರ
- (4) A, B ಮತ್ತು C

97. ಎಂ.ಎಸ್. ಎಕ್ಸೆಲ್‌ನಲ್ಲಿ SUM ಫಲನಕ್ಕೆ ಸಂಬಂಧಿಸಿದಂತೆ ಕೆಳಗಿನ ಯಾವ ಸಿಂಟ್ಯಾಕ್ಸ್ ಸರಿಯಾಗಿದೆ/ವೆ ?

- A. SUM(A1,B1)
- B. SUM(A1:B9)
- C. SUM(A1:A9,B1:B9)

ನೀಡಿರುವ ಆಯ್ಕೆಗಳಲ್ಲಿ ಸರಿಯಾದ ಉತ್ತರಕ್ಕಾಗಿ ಸಂಕೇತವನ್ನಾರಿಸಿ :

- (1) A ಮತ್ತು C ಮಾತ್ರ
- (2) C ಮಾತ್ರ
- (3) B ಮತ್ತು C ಮಾತ್ರ
- (4) A, B ಮತ್ತು C

98. ಎಂ.ಎಸ್. ವರ್ಡ್ ಸ್ವಯಂಚಾಲಿತವಾಗಿ ಮುಂದಿನ ಗೆರೆಗೆ ಪಠ್ಯವನ್ನು ಚಲಿಸುವುದು ಅದು ತೆರೆಯ ಬಲ ಅಂಚನ್ನು ತಲುಪಿದಾಗ. ಈ ಲಕ್ಷಣವನ್ನು ಏನೆನ್ನುತ್ತಾರೆ ?

- (1) ಕ್ಯಾರೆಜ್ ರಿಟರ್ನ್
- (2) ಎಂಟರ್
- (3) ವರ್ಡ್ ವ್ಯಾಪ್
- (4) ಈ ಮೇಲಿನ ಯಾವುದೂ ಅಲ್ಲ

- 93.** The correct value of the formula
ROUND(2·62,0)+CEILING(1·63,1)
in MS Excel is
- (1) 0
 - (2) 2
 - (3) 3
 - (4) 5
- 94.** Which one of the following cookies is the cookie that is automatically recreated after a user has deleted it ?
- (1) Session Cookie
 - (2) Persistent Cookie
 - (3) Super Cookie
 - (4) Zombie Cookie
- 95.** What is 'Vishing' in the modern information technology and computer era ?
- (1) Criminal practice of using social engineering over the telephone system to gain access to private, personal and financial information from the public for the purpose of financial reward.
 - (2) Criminal practice of using VOIP to gain access to highly secured sites to morph the public sites.
 - (3) Modern practice of accessing the data and files stored in a system without the knowledge of the owner to delete the important data on files.
 - (4) Modern method of spreading computer worms in the form of cookies through the World Wide Web.

- 96.** Which of the following functions will return a value of 9 in MS Excel ?
- A. ROUNDUP(9·4999,0)
 - B. ROUNDDOWN(9·4999,0)
 - C. ROUND(9·4999,0)
- Select the code for the correct answer from the options given below :
- (1) A only
 - (2) B and C only
 - (3) A and C only
 - (4) A, B and C
- 97.** Which of the following syntax is/are correct w.r.t. SUM function in MS Excel ?
- A. SUM(A1,B1)
 - B. SUM(A1:B9)
 - C. SUM(A1:A9,B1:B9)
- Select the code for the correct answer from the options given below :
- (1) A and C only
 - (2) C only
 - (3) B and C only
 - (4) A, B and C
- 98.** MS-Word automatically moves the text to the next line when it reaches the right edge of the screen. This feature is known as
- (1) Carriage Return
 - (2) Enter
 - (3) Word Wrap
 - (4) None of the above

99. ಕೆಳಗಿನ ಪಟ್ಟಿ I ರಲ್ಲಿನ ಎಂ.ಎಸ್. ವರ್ಡ್‌ನ ಶಾರ್ಟ್‌ಕಟ್ ಕೀಗಳನ್ನು ಪಟ್ಟಿ II ರಲ್ಲಿನ ಅವುಗಳಿಗೆ ಸಂಬಂಧಿಸಿರುವ ಟಾಸ್‌ಗಳೊಂದಿಗೆ (ಕಾರ್ಯಭಾರ) ಹೊಂದಿಸಿರಿ :

ಪಟ್ಟಿ I
(ಶಾರ್ಟ್‌ಕಟ್ ಕೀಗಳು)

ಪಟ್ಟಿ II
ಕಾರ್ಯಭಾರ (ಟಾಸ್‌)

- A. Ctrl + X I. ಆಯ್ಕೆಯನ್ನು ನಕಲು ಮಾಡುವುದು ಮತ್ತು ಅದನ್ನು ಕ್ಲಿಪ್‌ಬೋರ್ಡ್‌ನ ಮೇಲಿಡುವುದು
- B. Ctrl + C II. ಆಯ್ಕೆಯನ್ನು ಕತ್ತರಿಸುವುದು ಮತ್ತು ಅದನ್ನು ಕ್ಲಿಪ್ ಬೋರ್ಡ್‌ನ ಮೇಲಿಡುವುದು
- C. Ctrl + V III. ದಾಖಲೆಯ ಪ್ರಾರಂಭದವರೆಗೂ ಕರ್ಸರ್‌ನ್ನು ಚಲಿಸುವುದು
- D. Ctrl + Home IV. ಇನ್‌ಸರ್ಷನ್ ಬಿಂದು ವಿನಲ್ಲಿ ಕ್ಲಿಪ್ ಬೋರ್ಡ್ ವಿಷಯವನ್ನು ಸೇರಿಸುವುದು

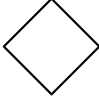

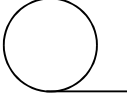


ಸಂಕೇತಗಳ ಸಹಾಯದಿಂದ ಸರಿ ಉತ್ತರಗಳನ್ನು ಆರಿಸಿ :

	A	B	C	D
(1)	II	I	III	IV
(2)	II	I	IV	III
(3)	I	II	IV	III
(4)	I	II	III	IV

100. ಕೆಳಗಿನ ಪಟ್ಟಿ I ರಲ್ಲಿನ ಹರಿವು ಪಟದ ಚಿಹ್ನೆಗಳೊಂದಿಗೆ ಅದು ಏನನ್ನು ಸೂಚಿಸುತ್ತವೆಂಬುದರೊಂದಿಗೆ ಪಟ್ಟಿ II ನ್ನು ಹೊಂದಿಸಿರಿ :

ಪಟ್ಟಿ I

ಪಟ್ಟಿ II

- A.  I. ಒಂದು ಹರಿವು ಪಠದಲ್ಲಿನ ಎರಡು ಅಥವಾ ಹೆಚ್ಚು ಭಾಗಗಳ ನಡುವಣ ತೀರ್ಮಾನದ ಅಂಶವನ್ನು ಸೂಚಿಸುತ್ತದೆ
- B.  II. ಒಬ್ಬ ವ್ಯಕ್ತಿಯು ಸ್ವತಃ ತಾನೇ ಕೈಯಿಂದ ಸಿದ್ಧಪಡಿಸುವ ಯಾವುದೇ ಕಾರ್ಯಾಚರಣೆಯನ್ನು ಸೂಚಿಸುತ್ತದೆ
- C.  III. ಯಾವುದೇ ಸಂಗ್ರಹಿತ ಮಾದರಿಯ ಬಗೆಯನ್ನು ಸೂಚಿಸುತ್ತದೆ
- D.  IV. ಮ್ಯಾಗ್ನೆಟಿಕ್ ಟೇಪ್‌ನ ಮೇಲೆ ಶೇಖರವಾಗಿರುವಂತಹ ಮಾಹಿತಿಯನ್ನು ಕ್ರಮಾನುಗತಿಯಾಗಿ ಹೊಂದುವುದನ್ನು ಸೂಚಿಸುತ್ತದೆ
- E.  V. ಇದು 'ತಾರ್ಕಿಕ OR' ವನ್ನು ಸೂಚಿಸುತ್ತದೆ
- VI. ಇದು 'ತಾರ್ಕಿಕ AND' ವನ್ನು ಸೂಚಿಸುತ್ತದೆ

ಸಂಕೇತಗಳ ಸಹಾಯದಿಂದ ಸರಿ ಉತ್ತರಗಳನ್ನು ಆರಿಸಿ :

	A	B	C	D	E
(1)	I	II	III	IV	V
(2)	I	II	IV	III	V
(3)	I	II	IV	III	VI
(4)	II	I	VI	IV	III



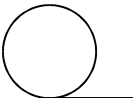


99. Match the following Shortcut Keys (List I) of MS Word with the tasks (List II) associated with them :

<i>List I</i> (Shortcut Key)	<i>List II</i> (Task)
A. Ctrl + X	I. Copies the selection and puts it on the clipboard
B. Ctrl + C	II. Cuts the selection and puts it on the clipboard
C. Ctrl + V	III. Moves the cursor to the beginning of the document
D. Ctrl + Home	IV. Inserts the clipboard content at the insertion point

Select the code for the correct answer from the options given below :

	A	B	C	D
(1)	II	I	III	IV
(2)	II	I	IV	III
(3)	I	II	IV	III
(4)	I	II	III	IV

100. Match the following symbols of a flow chart (List I) with what they indicate (List II) :

<i>List I</i>	<i>List II</i>
A. 	I. Indicates a decision point between two or more parts in a flow chart
B. 	II. Indicates any operation that is performed manually by a person
C. 	III. Indicates any type of stored data
D. 	IV. Indicates the data that is accessible sequentially, such as data stored in a magnetic tape
E. 	V. Indicates the logical OR
	VI. Indicates the logical AND


Select the code for the correct answer from the options given below :

	A	B	C	D	E
(1)	I	II	III	IV	V
(2)	I	II	IV	III	V
(3)	I	II	IV	III	VI
(4)	II	I	VI	IV	III

SPACE FOR ROUGH WORK

SPACE FOR ROUGH WORK

**QUESTION BOOKLET
SPECIFIC PAPER
PAPER II
(278)**



Time Allowed : 2 Hours

Maximum Marks : 200

INSTRUCTIONS

1. Immediately after the commencement of the Examination, you should check that this Question Booklet does NOT have any unprinted or torn or missing pages or questions etc. If so, get it replaced by a complete 'Question Booklet' of the same Question Paper Version Code as printed in your OMR Answer Sheet.
2. **Candidate has to ensure that Question Paper Version Code of the Question Booklet given is same as the Question Paper Version Code printed on OMR Answer Sheet. Discrepancy, if any should be reported to the Invigilator and a new Question Booklet should be taken whose Question Paper Version Code tallies with the Question Paper Version Code printed on the OMR Answer Sheet.**
3. You have to enter your Register Number in the Question Booklet in the box provided alongside.
DO NOT write anything else on the Question Booklet.

Register Number					
4. This Question Booklet contains **100** questions, including (a) General Kannada : 1 to 35, (b) General English : 36 to 70, (c) Computer Knowledge : 71 to 100. Each question contains **four** responses (answers). Select the response which you want to mark on the Answer Sheet. In case you feel that there is more than one correct response, mark the response which you consider the most appropriate. In any case, choose **ONLY ONE RESPONSE** for each question.
5. All the responses should be marked **ONLY** on the separate OMR Answer Sheet provided and **ONLY** in **Black or Blue Ball Point Pen**. See detailed instructions in the OMR Answer Sheet.
6. All questions carry equal marks. **Attempt all questions.**
7. Sheets for rough work are appended in the Question Booklet at the end. You should not make any marking on any other part of the Question Booklet.
8. Immediately after the final bell indicating the conclusion of the examination, stop making any further markings in the OMR Answer Sheet. Be seated till the OMR Answer Sheets are collected and accounted for by the Invigilator.
9. **Some questions are printed both in Kannada and English. If any confusion arises in the Kannada Version, please refer to the English Version of the questions. Please note that in case of any confusion the English Version of the Question Booklet is final.**
10. **Penalty for wrong answers :**
THERE WILL BE A PENALTY FOR WRONG ANSWERS MARKED BY THE CANDIDATE IN THE OBJECTIVE TYPE QUESTION PAPERS.
 - (i) There are four alternatives for the answer to every question. For each question for which a wrong answer has been given by the candidate, **one-fourth** of the marks assigned to that question will be deducted as penalty.
 - (ii) If a candidate gives more than one answer, it will be treated as a **wrong answer** even if one of the given answers happens to be correct and there will be same penalty as above to that question.
 - (iii) If a question is left blank, i.e., no answer is given by the candidate, there will be **no penalty** for that question.

Possession of Mobile Phones and other Electronic/Communication gadgets of any kind is prohibited inside the Examination venue.

ಗಮನಿಸಿ: ಸೂಚನೆಗಳ ಕನ್ನಡ ಆವೃತ್ತಿಯು ಈ ಪ್ರಶ್ನೆ ಪುಸ್ತಿಕೆಯ ಮುಂಭಾಗದಲ್ಲಿ ಮುದ್ರಿಸಲ್ಪಟ್ಟಿದೆ.