


2018



ಪ್ರಶ್ನೆಪತ್ರಿಕೆ ಶ್ರೇಣಿ

ಪ್ರಶ್ನೆ ಪುಸ್ತಿಕೆ
ಸಾಮಾನ್ಯ ಜ್ಞಾನ



ಸಮಯ : 1 $\frac{1}{2}$ ಗಂಟೆಗಳು

ವಿಷಯ ಸಂಕೇತ : 291

ಗರಿಷ್ಠ ಅಂಕಗಳು : 100

ಸೂಚನೆಗಳು

1. ಪರೀಕ್ಷೆ ಪ್ರಾರಂಭವಾದ ಕೂಡಲೇ ನಿಮ್ಮ ಪ್ರಶ್ನೆಪತ್ರಿಕೆಯಲ್ಲಿ ಅಮುದ್ರಿತ ಅಥವಾ ಹರಿದಿರುವ ಅಥವಾ ಬಿಟ್ಟು ಹೋಗಿರುವ ಪುಟಗಳು ಅಥವಾ ಪ್ರಶ್ನೆಗಳು ಇತ್ಯಾದಿಗಳು ಕಂಡುಬಂದಲ್ಲಿ ನಿಮ್ಮ ಒ.ಎಂ.ಆರ್. ಉತ್ತರ ಹಾಳೆಯಲ್ಲಿ ಮುದ್ರಿತವಾಗಿರುವ ಅದೇ ಶ್ರೇಣಿಯ ಪೂರ್ಣ ಪ್ರಶ್ನೆ ಪತ್ರಿಕೆ ಯೊಂದಿಗೆ ಬದಲಾಯಿಸಿ ಕೊಳ್ಳತಕ್ಕದ್ದು.
 2. ಅಭ್ಯರ್ಥಿಯು ಪ್ರಶ್ನೆ ಪತ್ರಿಕೆಯ ಶ್ರೇಣಿಯು, ತಮ್ಮ ಒ.ಎಂ.ಆರ್. ಉತ್ತರ ಹಾಳೆಯಲ್ಲಿ ಮುದ್ರಿತವಾಗಿರುವ ಅದೇ ಪ್ರಶ್ನೆಪತ್ರಿಕೆಯ ಶ್ರೇಣಿಯಾಗಿರುವುದೇ ಎಂಬುದನ್ನು ಖಚಿತಪಡಿಸಿಕೊಳ್ಳಬೇಕು. ವ್ಯತ್ಯಾಸಗಳು ಕಂಡುಬಂದಲ್ಲಿ, ಸಂವೀಕ್ಷಕರ ಗಮನಕ್ಕೆ ತರುವುದು ಮತ್ತು ಪ್ರಶ್ನೆಪತ್ರಿಕೆಯ ಶ್ರೇಣಿಯು ತಮಗೆ ಹೊಂದುವ (ಅದೇ) ಪ್ರಶ್ನೆಪತ್ರಿಕೆಯಾದ ಮತ್ತು ಒ.ಎಂ.ಆರ್. ಉತ್ತರ ಹಾಳೆಯಲ್ಲಿ ಮುದ್ರಿತವಾಗಿರುವ ಶ್ರೇಣಿಯ ಪ್ರಶ್ನೆಪತ್ರಿಕೆಯನ್ನೇ ಪಡೆಯತಕ್ಕದ್ದು.
 3. ಪಕ್ಕದಲ್ಲಿ ಒದಗಿಸಿರುವ ಪ್ರಶ್ನೆಪತ್ರಿಕೆಯ ಚೌಕದಲ್ಲೇ ನಿಮ್ಮ ನೋಂದಣಿ ಸಂಖ್ಯೆಯನ್ನು ನಮೂದಿಸಬೇಕು. ಪ್ರಶ್ನೆ ಪುಸ್ತಿಕೆಯಲ್ಲಿ ಬೇರೆ ಏನನ್ನೂ ಬರೆಯಬಾರದು.
- | ನೋಂದಣಿ ಸಂಖ್ಯೆ | | | | | |
|---------------|--|--|--|--|--|
| | | | | | |
4. ಈ ಪ್ರಶ್ನೆ ಪುಸ್ತಿಕೆ 100 ಪ್ರಶ್ನೆಗಳನ್ನು ಒಳಗೊಂಡಿರುತ್ತದೆ. ಪ್ರತಿಯೊಂದು ಪ್ರಶ್ನೆಯು 4 ಪ್ರತಿಕ್ರಿಯೆಗಳನ್ನು (ಉತ್ತರಗಳನ್ನು) ಒಳಗೊಂಡಿರುತ್ತದೆ. ನೀವು ಉತ್ತರ ಹಾಳೆಯಲ್ಲಿ ಗುರುತು ಮಾಡಬೇಕೆನಿಸುವ ಉತ್ತರವನ್ನು ಆಯ್ಕೆ ಮಾಡಿಕೊಳ್ಳಿ. ಒಂದು ವೇಳೆ ಅಲ್ಲಿ ಒಂದಕ್ಕಿಂತ ಹೆಚ್ಚು ಸರಿಯಾದ ಉತ್ತರಗಳಿವೆಯೆಂದು ನೀವು ಭಾವಿಸಿದರೆ ನಿಮಗೆ ಅತ್ಯುತ್ತಮವೆನಿಸುವ ಉತ್ತರಕ್ಕೆ ಗುರುತು ಮಾಡಿ. ಏನೇ ಆದರೂ ಪ್ರತಿ ಪ್ರಶ್ನೆಗೆ ನೀವು ಕೇವಲ ಒಂದು ಉತ್ತರವನ್ನು ಮಾತ್ರ ಆಯ್ಕೆ ಮಾಡಬೇಕು.
 5. ಎಲ್ಲಾ ಉತ್ತರಗಳನ್ನು ನಿಮಗೆ ಒದಗಿಸಲಾಗಿರುವ ಪ್ರತ್ಯೇಕ ಒ.ಎಂ.ಆರ್. ಉತ್ತರ ಹಾಳೆಯ ಮೇಲೆ ಕೇವಲ ಕಪ್ಪು ಅಥವಾ ನೀಲಿ ಶಾಯಿಯ ಬಾಲ್‌ಪಾಯಿಂಟ್ ಪೆನ್‌ನಲ್ಲಿ ಮಾತ್ರ ಗುರುತು ಮಾಡಬೇಕು. ಒ.ಎಂ.ಆರ್. ಉತ್ತರ ಪತ್ರಿಕೆ ಹಾಳೆಯಲ್ಲಿನ ವಿವರವಾದ ಸೂಚನೆಗಳನ್ನು ಗಮನಿಸುವುದು.
 6. ಎಲ್ಲಾ ಪ್ರಶ್ನೆಗಳಿಗೆ ಸಮಾನ ಅಂಕಗಳು. ಎಲ್ಲಾ ಪ್ರಶ್ನೆಗಳಿಗೆ ಉತ್ತರಿಸಿರಿ. ಪ್ರತಿ ತಪ್ಪು ಉತ್ತರಕ್ಕೆ ಪ್ರಶ್ನೆಗೆ ನಿಗದಿಪಡಿಸಿದ ಅಂಕಗಳ $\frac{1}{4}$ (0.25) ರಷ್ಟು ಅಂಕಗಳನ್ನು ಕಳೆಯಲಾಗುವುದು.
 7. ಚಿತ್ತು ಕೆಲಸಕ್ಕಾಗಿ ಹಾಳೆಗಳನ್ನು ಪ್ರಶ್ನೆ ಪುಸ್ತಿಕೆಯ ಕೊನೆಯಲ್ಲಿ ಸೇರಿಸಲಾಗಿದೆ. ಪ್ರಶ್ನೆ ಪುಸ್ತಿಕೆಯ ಇನ್ನುಳಿದ ಯಾವ ಭಾಗದಲ್ಲಿಯೂ ನೀವು ಯಾವ ರೀತಿಯ ಗುರುತನ್ನು ಮಾಡತಕ್ಕದ್ದಲ್ಲ.
 8. ಪರೀಕ್ಷೆಯ ಮುಕ್ತಾಯವನ್ನು ಸೂಚಿಸುವ ಅಂತಿಮ ಗಂಟೆ ಬಾರಿಸಿದ ತಕ್ಷಣವೇ ಒ.ಎಂ.ಆರ್. ಉತ್ತರ ಪತ್ರಿಕೆ ಹಾಳೆಯಲ್ಲಿ ಇನ್ನಾವುದೇ ಗುರುತು ಮಾಡುವುದನ್ನು ನಿಲ್ಲಿಸಬೇಕು. ಸಂವೀಕ್ಷಕರು ಬಂದು ನಿಮ್ಮಲ್ಲಿರುವ ಒ.ಎಂ.ಆರ್. ಉತ್ತರ ಹಾಳೆಯನ್ನು ತಮ್ಮ ವಶಕ್ಕೆ ಪಡೆದುಕೊಂಡು ಲೆಕ್ಕಕ್ಕೆ ತೆಗೆದುಕೊಳ್ಳುವವರೆಗೂ ನಿಮ್ಮ ನಿಮ್ಮ ಆಸನದಲ್ಲಿಯೇ ಕುಳಿತಿರತಕ್ಕದ್ದು.
 9. ಪ್ರಶ್ನೆಗಳು ಕನ್ನಡ ಮತ್ತು ಆಂಗ್ಲ ಭಾಷೆಯಲ್ಲಿರುತ್ತವೆ. ಕನ್ನಡ ಪ್ರಶ್ನೆಗಳಲ್ಲಿ ಸಂದೇಹ ಉಂಟಾದರೆ, ದಯವಿಟ್ಟು ಆಂಗ್ಲ ಭಾಷೆಯ ಪ್ರಶ್ನೆಗಳನ್ನು ಗಮನಿಸುವುದು. ಪ್ರಶ್ನೆ ಪತ್ರಿಕೆಯ ಪ್ರಶ್ನೆಗಳಲ್ಲಿ ಯಾವುದೇ ಗೊಂದಲಗಳಿದ್ದರೂ ಆಂಗ್ಲಭಾಷೆಯ ಪ್ರಶ್ನೆಗಳೇ ಅಂತಿಮವಾಗಿರುತ್ತದೆ.

ಯಾವುದೇ ರೀತಿಯ ಮೊಬೈಲ್ ಫೋನ್, ಕ್ಯಾಲ್‌ಕ್ಯುಲೇಟರ್ ಮತ್ತು ಇತರ ರೀತಿಯ ಎಲೆಕ್ಟ್ರಾನಿಕ್/ಕಮ್ಯೂನಿಕೇಷನ್ ಸಾಧನಗಳು ಇತ್ಯಾದಿಗಳನ್ನು ಪರೀಕ್ಷಾ ಕೇಂದ್ರದ ಆವರಣದೊಳಗೆ ತರುವುದನ್ನು ನಿಷೇಧಿಸಿದೆ.

Note : English version of the instructions is printed on the back cover of this booklet.

1. ಪಟ್ಟಿ I (ರಾಸಾಯನಿಕಗಳು) ಮತ್ತು ಪಟ್ಟಿ II (ಬಳಕೆ) ಗಳನ್ನು ಹೊಂದಿಸಿ :

ಪಟ್ಟಿ I
(ರಾಸಾಯನಿಕಗಳು)

ಪಟ್ಟಿ II
(ಬಳಕೆ)

- A. ಪೊಟ್ಯಾಸಿಯಂ ಬ್ರೋಮೈಡ್ I. ರಸಗೊಬ್ಬರ
B. ಪೊಟ್ಯಾಸಿಯಂ ನೈಟ್ರೇಟ್ II. ಪೋಟೋಗ್ರಫಿ
C. ಪೊಟ್ಯಾಸಿಯಂ ಸಲ್ಫೇಟ್ III. ಬೇಕರಿ
D. ಮಾನೋ ಪೊಟ್ಯಾಸಿಯಂ ಟಾರ್ಟರೇಟ್ IV. ಗನ್‌ಪುಡಿ

ಸಂಕೇತಗಳ ಸಹಾಯದಿಂದ ಸರಿ ಉತ್ತರಗಳನ್ನು ಆರಿಸಿ :

	A	B	C	D
(1)	II	IV	I	III
(2)	II	IV	III	I
(3)	IV	II	III	I
(4)	IV	II	I	III

2. ಈ ಮೊದಲು ಸೊಳ್ಳೆಗಳನ್ನು ಕೊಲ್ಲಲು ಡಿ.ಡಿ.ಟಿ.ಯನ್ನು ಬಳಸಲಾಗುತ್ತಿತ್ತು, ಇತ್ತೀಚಿನ ವರ್ಷಗಳಲ್ಲಿ ಡಿ.ಡಿ.ಟಿ.ಯನ್ನು ಬಳಸಿ ಸೊಳ್ಳೆಗಳನ್ನು ಕೊಲ್ಲುವುದು ಕಠಿಣವಾಗುತ್ತಿದೆ, ಡಿ.ಡಿ.ಟಿ.ಯಿಂದ ಸೊಳ್ಳೆಗಳ ಪ್ರತಿರಕ್ಷಾ ಗುಣವನ್ನು ಯಾವ ತತ್ವವು ವಿವರಿಸುತ್ತದೆ ?

- (1) ನಿಸರ್ಗದ ಮಧ್ಯಸ್ಥಿಕೆ ಸಿದ್ಧಾಂತ
(2) ಪ್ರತಿರಕ್ಷೆ (ರೋಧಕತೆ) ಸಿದ್ಧಾಂತ
(3) ಪರಭಕ್ಷಕ ಶಿಕಾರಿ ಸಿದ್ಧಾಂತ
(4) ನಿಸರ್ಗದ ಆಯ್ಕೆ ಸಿದ್ಧಾಂತ

3. ದೈತ್ಯ ಪಾಂಡಾ ಐಲುರೋಪೊಂಡಾ ಮೆಲನೋಲ್ಯುಕಾ, ಇದರ ಸಂಕೇತವಾಗಿದೆ

- (1) ಅಂತರರಾಷ್ಟ್ರೀಯ ನಿಸರ್ಗ ಸಂರಕ್ಷಣಾ ಒಕ್ಕೂಟ
(2) ವಿಶ್ವವ್ಯಾಪಿ ಮಾಲಿನ್ಯ ಪರಿಷ್ಕಣಾ ಫೆಡರೇಷನ್
(3) ಪ್ರಸರಿಸಲ್ಪಡುವ ರೋಗಗಳ ಪರ ವಿಶ್ವವ್ಯಾಪಿ ನಿಧಿ
(4) ನಿಸರ್ಗಕ್ಕಾಗಿ ವಿಶ್ವ ವನ್ಯಜೀವಿ ನಿಧಿ

4. ಆದರ್ಶ ಕೃಷ್ಣಕಾಯವನ್ನು ಸಾಮಾನ್ಯ ತಾಪದಲ್ಲಿ ಕುಲುಮೆಗೆ ಹಾಕಲಾಯಿತು ಆಗ ಗಮನಿಸಲಾದುದು

- (1) ಪ್ರಾರಂಭದಲ್ಲಿ ಕಪ್ಪಾಗಿದ್ದದ್ದು ಮತ್ತು ಅನಂತರದ ಸಮಯದಲ್ಲಿ ಹೊಳಪಾಗುವುದು
(2) ಅದು ಎಲ್ಲಾ ಸಮಯಗಳಲ್ಲೂ ಮತ್ತಷ್ಟು ಕಪ್ಪಾಗುವುದು
(3) ಅದನ್ನು ಪ್ರತ್ಯೇಕವಾಗಿ ಎಲ್ಲಾ ಸಮಯಗಳಲ್ಲೂ ಗುರ್ತಿಸಲಾಗದು
(4) ಪ್ರಾರಂಭದಲ್ಲಿ ಕಪ್ಪಾಗಿದ್ದು ಮತ್ತು ಅನಂತರದ ಸಮಯದಲ್ಲಿ ಇದನ್ನು ಪ್ರತ್ಯೇಕವಾಗಿ ಗುರುತಿಸಲಾಗದು

5. ಈ ಕೆಳಗಿನ ಹೇಳಿಕೆಗಳನ್ನು ಪರಿಗಣಿಸಿ :

- A. ಕೊಳಗಳು ಸಾಮಾನ್ಯವಾಗಿ ನೀರಿನ ಸ್ಥಾಯಿ ಕಾಯಗಳು.
B. ಕೊಳಗಳು ಸುತ್ತಲೂ ಭೂಮಿಯಿಂದ ಆವರಿಸಲ್ಪಟ್ಟಿವೆ.
C. ಕ್ಯಾಸ್ಪಿಯನ್ ಸಮುದ್ರವು ಮೇಲ್ಮೈ ವಿಸ್ತೀರ್ಣದಿಂದ ಜಗತ್ತಿನ ಅತಿದೊಡ್ಡ ಕೊಳವಾಗಿದೆ.
D. ಚಿಲ್ಕಾವು ಮೇಲ್ಮೈ ವಿಸ್ತೀರ್ಣದಿಂದ ಭಾರತದ ಅತಿದೊಡ್ಡ ಕೊಳ.

ನೀಡಿರುವ ಆಯ್ಕೆಗಳಲ್ಲಿ ಸರಿಯಾದ ಉತ್ತರಕ್ಕಾಗಿ ಸಂಕೇತವನ್ನಾರಿಸಿ :

- (1) A, B ಮತ್ತು C ಗಳು ಸರಿಯಾಗಿವೆ
(2) A, B ಮತ್ತು D ಗಳು ಸರಿಯಾಗಿವೆ
(3) A, C ಮತ್ತು D ಗಳು ಸರಿಯಾಗಿವೆ
(4) A, B, C ಮತ್ತು D ಗಳು ಸರಿಯಾಗಿವೆ

1. Match List I (Chemicals) with List II (Usage) :

<i>List I</i> (Chemicals)	<i>List II</i> (Usage)
A. Potassium bromide	I. Fertilizer
B. Potassium nitrate	II. Photography
C. Potassium sulphate	III. Bakery
D. Monopotassium tartarate	IV. Gunpowder

Select the code for the correct answer from the options given below :

	A	B	C	D
(1)	II	IV	I	III
(2)	II	IV	III	I
(3)	IV	II	III	I
(4)	IV	II	I	III

2. Earlier DDT was used to kill mosquitoes, while in recent years it became very difficult to kill mosquitoes using DDT. Which principle explains the immunity of mosquitoes from DDT ?

- (1) Theory of Natural Intervention
- (2) Theory of Immunity
- (3) Predator-Prey Theory
- (4) Theory of Natural Selection

3. The Giant Panda, *Ailuropoda melanoleuca*, is the symbol of

- (1) International Union for Conservation of Nature
- (2) Worldwide Federation to Check Pollution
- (3) Worldwide Fund for Communicable Diseases
- (4) World Wildlife Fund for Nature

4. An ideal blackbody at room temperature is thrown into the furnace. It is observed that

- (1) Initially it is darkest and at later times the brightest
- (2) It is darkest at all times
- (3) It cannot be distinguished at all times
- (4) Initially it is darkest and at later times it cannot be distinguished

5. Consider the following statements :

- A. Lakes are generally static bodies of water.
- B. Lakes are surrounded by land on all sides.
- C. Caspian Sea is the largest lake in the world by surface area.
- D. Chilka is the largest lake in India by surface area.

Select the code for the correct answer from the options given below :

- (1) A, B and C are correct
- (2) A, B and D are correct
- (3) A, C and D are correct
- (4) A, B, C and D are correct

6. ಬೆಂಗಳೂರು ನಗರ ಸ್ಥಾಪಕನು
- (1) ಯಲಹಂಕದ ಪಾಳೆಯಗಾರನಾಗಿದ್ದನು
 - (2) ಮಧುಗಿರಿಯ ಪಾಳೆಯಗಾರನಾಗಿದ್ದನು
 - (3) ರಾಮನಗರದ ಪಾಳೆಯಗಾರನಾಗಿದ್ದನು
 - (4) ಚಿಕ್ಕನಾಯಕನಹಳ್ಳಿಯ ಪಾಳೆಯಗಾರನಾಗಿದ್ದನು
7. ಕೆಳಗಿನವುಗಳಲ್ಲಿ ಯಾವುದು UN SDSN ನ ವಿಶ್ವ ಸಂತೋಷ ಸೂಚ್ಯಂಕದ ಸೂಚಕವಲ್ಲ?
- (1) ನೈರ್ಮಲ್ಯ
 - (2) ಜೀವನದ ಆಯ್ಕೆಗಳನ್ನು ಮಾಡುವ ಸ್ವಾತಂತ್ರ್ಯ
 - (3) ಉದಾರತೆ / ಔದಾರ್ಯ
 - (4) ಭ್ರಷ್ಟಾಚಾರದ ಗ್ರಹಿಕೆಗಳು
8. ಈ ಕೆಳಗಿನವುಗಳಲ್ಲಿ ಯಾರು ಭಾರತದ ಸಂವಿಧಾನದ ಕರಡು ಸಮಿತಿಯ ಸದಸ್ಯರಾಗಿರಲಿಲ್ಲ?
- (1) ಡಾ. ಕೆ.ಎಂ. ಮುನ್ಶಿ
 - (2) ಪಂಡಿತ್ ಜವಾಹರ್‌ಲಾಲ್ ನೆಹರೂ
 - (3) ಅಲ್ಲಾಡಿ ಕೃಷ್ಣಸ್ವಾಮಿ ಅಯ್ಯರ್
 - (4) ಎನ್. ಗೋಪಾಲಸ್ವಾಮಿ ಅಯ್ಯಂಗಾರ್
9. ರಾಜ್ಯದ ಸಾರ್ವಜನಿಕ ಸೇವೆಯಲ್ಲಿ ನ್ಯಾಯಾಂಗವನ್ನು ಕಾರ್ಯಾಂಗದಿಂದ ಪ್ರತ್ಯೇಕಿಸುವ ನಿರ್ದೇಶನ ಈ ಕೆಳಗಿನ ಯಾವ ವಿಧಿಯಲ್ಲಿದೆ?
- (1) 47 ನೇ ವಿಧಿ
 - (2) 48 ನೇ ವಿಧಿ
 - (3) 49 ನೇ ವಿಧಿ
 - (4) 50 ನೇ ವಿಧಿ

10. ಪಟ್ಟಿ I (ರಾಜ್ಯ) ಮತ್ತು ಪಟ್ಟಿ II (ಪರಮಾಣು ಶಕ್ತಿ ಕೇಂದ್ರ) ಗಳನ್ನು ಹೊಂದಿಸಿ :

ಪಟ್ಟಿ I (ರಾಜ್ಯ)	ಪಟ್ಟಿ II (ಪರಮಾಣು ಶಕ್ತಿ ಕೇಂದ್ರಗಳು)
A. ಉತ್ತರ ಪ್ರದೇಶ	I. ರಾವತ್‌ಬಾಟ
B. ರಾಜಸ್ಥಾನ	II. ನರೋರ
C. ಮಹಾರಾಷ್ಟ್ರ	III. ಕಕ್ರಪಾರ
D. ಗುಜರಾತ್	IV. ತಾರಾಪುರ

ಸಂಕೇತಗಳ ಸಹಾಯದಿಂದ ಸರಿ ಉತ್ತರಗಳನ್ನು ಆರಿಸಿ :

	A	B	C	D
(1)	III	I	II	IV
(2)	I	II	III	IV
(3)	IV	I	III	II
(4)	II	I	IV	III

11. ಕರ್ನಾಟಕದಲ್ಲಿ ಅತಿ ಹೆಚ್ಚು ಜಲವಿದ್ಯುತ್‌ನ್ನು ಉತ್ಪಾದಿಸುವುದು ಇಲ್ಲಿ
- (1) ಕಾವೇರಿ ನದಿ ಜಲಾನಯನ
 - (2) ಕೃಷ್ಣಾನದಿ ಜಲಾನಯನ
 - (3) ಕಾಳಿ ನದಿ ಜಲಾನಯನ
 - (4) ಶರಾವತಿ ಜಲಾನಯನ
12. ಮೃತ್ಯು ಸಮುದ್ರದ ಕರಾವಳಿಯನ್ನು ಹಂಚಿಕೊಂಡಿರುವ ದೇಶಗಳು
- (1) ಜೋರ್ಟಾನ್ ಮತ್ತು ಇಸ್ರೇಲ್
 - (2) ಲೆಬನಾನ್ ಮತ್ತು ಸಿರಿಯಾ
 - (3) ಟರ್ಕಿ ಮತ್ತು ಇಸ್ರೇಲ್
 - (4) ಜೋರ್ಟಾನ್ ಮತ್ತು ಲೆಬನಾನ್

6. The founder of Bangalore was
- (1) Palegara of Yelahanka
 - (2) Palegara of Madhugiri
 - (3) Palegara of Ramanagara
 - (4) Palegara of Chikkanayakanahalli
7. Which one of the following is **not** the indicator in the UN SDSN's World Happiness Index ?
- (1) Sanitation
 - (2) Freedom to make life choices
 - (3) Generosity
 - (4) Perceptions of corruption
8. One among the following was **not** a member of the Drafting Committee of the Constitution of India.
- (1) Dr. K.M. Munshi
 - (2) Pt. Jawaharlal Nehru
 - (3) Alladi Krishnaswami Ayyar
 - (4) N. Gopalaswami Ayyangar
9. The directive to separate Judiciary from Executive in public services of the State is mentioned in which of the following Articles ?
- (1) Article 47
 - (2) Article 48
 - (3) Article 49
 - (4) Article 50

10. Match List I (States) with List II (Atomic Power Stations) :
- | <i>List I</i>
(State) | <i>List II</i>
(Atomic Power Stations) |
|--------------------------|---|
| A. Uttar Pradesh | I. Rawatbhata |
| B. Rajasthan | II. Narora |
| C. Maharashtra | III. Kakrapara |
| D. Gujarat | IV. Tarapur |
- Select the code for the correct answer from the options given below :
- | | A | B | C | D |
|-----|----------|----------|----------|----------|
| (1) | III | I | II | IV |
| (2) | I | II | III | IV |
| (3) | IV | I | III | II |
| (4) | II | I | IV | III |
11. Highest amount of Hydro Power produced in Karnataka is in
- (1) Cauvery river basin
 - (2) Krishna river basin
 - (3) Kali Nadi basin
 - (4) Sharavati basin
12. The countries sharing the coast of Dead Sea are
- (1) Jordan and Israel
 - (2) Lebanon and Syria
 - (3) Turkey and Israel
 - (4) Jordan and Lebanon

13. ಪಟ್ಟಿ I (ವಾಯುಗುಣ) ಮತ್ತು ಪಟ್ಟಿ II (ನಗರ) ಗಳನ್ನು ಹೊಂದಿಸಿ :

ಪಟ್ಟಿ I (ವಾಯುಗುಣ)	ಪಟ್ಟಿ II (ನಗರ)
----------------------	-------------------

- | | |
|------------------------------|-------------------|
| A. ಸಮಭಾಜಕ ವೃತ್ತದ ವಾಯುಗುಣ | I. ಸ್ಯಾಂಟಿಯಾಗೋ |
| B. ಉಷ್ಣವಲಯದ ಮಾನ್ಸೂನ್ ವಾಯುಗುಣ | II. ಸಿಂಗಪೂರ್ |
| C. ಮೆಡಿಟರೇನಿಯನ್ ವಾಯುಗುಣ | III. ವಿಂಡ್‌ಹೋಯೆಕ್ |
| D. ಮರುಭೂಮಿ ವಾಯುಗುಣ | IV. ಮುಂಬೈ |

ಸಂಕೇತಗಳ ಸಹಾಯದಿಂದ ಸರಿ ಉತ್ತರಗಳನ್ನು ಆರಿಸಿ :

	A	B	C	D
(1)	II	I	IV	III
(2)	II	IV	I	III
(3)	IV	III	II	I
(4)	I	III	II	IV

14. ಈ ಕೆಳಗಿನವುಗಳಲ್ಲಿ ಯಾವ ನದಿ ಭಾರತದಲ್ಲಿ ಉಗಮವಾಗುವುದಿಲ್ಲ?

- (1) ಬಿಯಾಸ್
- (2) ಚೀನಾಬ್
- (3) ರಾವಿ
- (4) ಸಟ್ಲೆಜ್

15. ಖಾಸಗಿ ಶಿಕ್ಷಣ ಸಂಸ್ಥೆಗಳನ್ನು ಪ್ರೋತ್ಸಾಹಿಸಲು ಅನುದಾನ ನೀಡುವ ಪದ್ಧತಿಯನ್ನು ಶಿಫಾರಸ್ಸು ಮಾಡಿದ ಆಯೋಗ ಯಾವುದು ?

- (1) ಸರ್ ಚಾರ್ಲ್ಸ್ ವುಡ್ಸ್ ಶಿಕ್ಷಣ ಆಯೋಗ
- (2) ಹೆಂಟರ್ ಶಿಕ್ಷಣ ಆಯೋಗ
- (3) ಸ್ಯಾಡ್ಲರ್ ವಿಶ್ವವಿದ್ಯಾಲಯ ಆಯೋಗ
- (4) ಕೊಠಾರಿ ಶಿಕ್ಷಣ ಆಯೋಗ

16. ಪಟ್ಟಿ I (ಭೂ ಹಿಡುವಳಿ ಪದ್ಧತಿ) ಮತ್ತು ಪಟ್ಟಿ II (ವಿವರಣೆಗಳು) ಗಳನ್ನು ಹೊಂದಿಸಿ :

ಪಟ್ಟಿ I	ಪಟ್ಟಿ II
---------	----------

(ಭೂ ಹಿಡುವಳಿ ಪದ್ಧತಿ)	(ವಿವರಣೆಗಳು)
---------------------	-------------

- | | |
|-----------------------|---|
| A. ಜಾಗೀರ್‌ದಾರಿ ಪದ್ಧತಿ | I. ಸರ್ಕಾರ ಭೂಮಿಯನ್ನು ದೊಡ್ಡ ಊಳಿಗಮಾನ್ಯ ಭೂ ಒಡೆಯರಿಗೆ ಹಂಚಿಕೆ ಮಾಡಿದೆ |
| B. ರೈತವಾರಿ ಪದ್ಧತಿ | II. ಸರ್ಕಾರ ಕಂದಾಯ ನೀಡುವ ರೈತರಿಗೆ ಭೂಮಿಯನ್ನು ನೀಡಿ ಬಾಡಿಗೆ ಸಂಗ್ರಹವನ್ನು (ಕಲೆಕ್ಟರ್‌ಗಳ) ಸಂಗ್ರಹಕರಮೂಲಕ ಪಡೆಯುತ್ತಿತ್ತು |
| C. ಮಹಲ್ದಾರಿ ಪದ್ಧತಿ | III. ಸರ್ಕಾರ ಪ್ರತಿಯೊಬ್ಬ ರೈತನಿಗೆ ಭೂಮಿಯನ್ನು ಹಂಚಿ, ಅದರೊಂದಿಗೆ ಅದನ್ನು ರೈತನು ಬೇರೆಯವರಿಗೆ ಉಪ-ಬಾಡಿಗೆ, ಅಡಮಾನ ವರ್ಗಾವಣೆ, ಕೊಡುಗೆ ಅಥವಾ ಮಾರಾಟ ಮಾಡುವ ಹಕ್ಕನ್ನು ನೀಡಿತು |
| D. ಜಮೀನ್ದಾರಿ ಪದ್ಧತಿ | IV. ಗ್ರಾಮ ಮಟ್ಟದಲ್ಲಿ ಕಂದಾಯವನ್ನು ನಿರ್ಧರಿಸಲಾಗುತ್ತಿತ್ತು |

ಸಂಕೇತಗಳ ಸಹಾಯದಿಂದ ಸರಿ ಉತ್ತರಗಳನ್ನು ಆರಿಸಿ :

	A	B	C	D
(1)	I	III	II	IV
(2)	II	I	III	IV
(3)	II	III	IV	I
(4)	I	IV	II	III

13. Match List I (Climate) with List II (City) :

<i>List I</i> (Climate)	<i>List II</i> (City)
A. Equatorial Climate	I. Santiago
B. Tropical Monsoon Climate	II. Singapore
C. Mediterranean Climate	III. Windhoek
D. Desert Climate	IV. Mumbai

Select the code for the correct answer from the options given below :

	A	B	C	D
(1)	II	I	IV	III
(2)	II	IV	I	III
(3)	IV	III	II	I
(4)	I	III	II	IV

14. Which of the following rivers does **not** originate in India ?

- (1) Beas
- (2) Chenab
- (3) Ravi
- (4) Sutlej

15. Which commission recommended as a system of grants in-aid to encourage private educational institutions ?

- (1) Sir Charles Wood's Despatch on Education
- (2) The Hunter Education Commission
- (3) The Sadler University Commission
- (4) Kothari Education Commission

16. Match List I (Land tenure systems) with List II (Explanations) :

<i>List I</i> (Land tenure system)	<i>List II</i> (Explanation)
A. Jagirdari system	I. Land allotted to big feudal landlords
B. Ryotwari system	II. Land allotted to revenue farmers and rent collections by collectors
C. Mahalwari system	III. Land allotted to each peasant with right to sub-let, mortgage, transfer, gift or sell
D. Zamindari system	IV. Revenue settlement at village level

Select the code for the correct answer from the options given below :

	A	B	C	D
(1)	I	III	II	IV
(2)	II	I	III	IV
(3)	II	III	IV	I
(4)	I	IV	II	III

17. 'ಮಿತ್ರಾವಿಂದ ಗೋವಿಂದ' ಎಂಬ ಪ್ರಥಮ ಕನ್ನಡ ನಾಟಕ ಬರೆದವನು ಯಾರು ?

- (1) ಲಕ್ಷ್ಮೀಶ
- (2) ಮಹಾಲಿಂಗರಂಗ
- (3) ಸಿಂಗರಾರ್ಯ
- (4) ತಿರುಮಲರಾಯ

18. ಪರಮಾಣು ನಾಭಿ ಕೇಂದ್ರವು ಬೀಟಾಕಣವನ್ನು ಉತ್ಪಾದಿಸಿದಾಗ ಅದರ ಪರಮಾಣು ಸಂಖ್ಯೆ

- (1) ಸ್ಥಿರ ಅದರ ಅದರ ರಾಶಿ ಸಂಖ್ಯೆ ಬದಲಾಗುತ್ತದೆ
- (2) ಸ್ಥಿರ ಹಾಗೂ ಹಾಗೆಯೇ ಅದರ ರಾಶಿ ಸಂಖ್ಯೆಯೂ ಸ್ಥಿರವಾಗಿರುತ್ತದೆ
- (3) ಬದಲಾಗುತ್ತದೆ ಅದರ ಅದರ ರಾಶಿ ಸಂಖ್ಯೆ ಸ್ಥಿರ
- (4) ಬದಲಾಗುತ್ತದೆ ಮತ್ತು ಹಾಗೆಯೇ ಅದರ ರಾಶಿ ಸಂಖ್ಯೆಯೂ ಬದಲಾಗುತ್ತದೆ

19. ಪರಿಸರದ ಸಂದರ್ಭದಲ್ಲಿ "ಡರ್ಟಿ ಡಜನ್" ಪದವು (ಕೊಳಕು ಹನ್ನೆರಡು) ಇದಕ್ಕೆ ಸಂಬಂಧಿಸಿದೆ

- (1) 12 ಹಾನಿಕಾರಕ ಹಸಿರುಮನೆ ಅನಿಲಗಳು
- (2) 12 ಓಜೋನ್ ಕ್ಷೀಣಕ ವಸ್ತುಗಳು
- (3) 12 ಸತತವಾದ ಸಾವಯವ ಮಾಲಿನ್ಯಕಾರಿಗಳು
- (4) 12 ಭಾರ ಲೋಹಗಳು

20. ಸಿಹಿನೀರು ಸರೋವರ ಉದ್ಯಾನವನ್ನು ಸ್ಥಾಪಿಸಲು ಪ್ರಸ್ತಾವಿಸಿರುವ ಸ್ಥಳ

- (1) ಹೊನ್ನಾವರ
- (2) ಬಂಟ್ವಾಳ
- (3) ಅಪ್ಸರಕೊಂಡ
- (4) ತಡದಿ

21. ಹೇರಳವಾಗಿ ದೊರೆಯುವ ತಿಳಿದಿರುವ ಒಂದು ಪೊದೆ ಲಂಟಾನ ಒಂದು

- A. ನಂಜುಕಳೆಯಾಗಿದ್ದು ಮತ್ತು ರಾಜ್ಯದ ಪರ್ವತ ವೈವಿಧ್ಯದ ಮೇಲೆ ಪ್ರಭಾವ ಬೀರಿದೆ.
- B. ಅದರ ಹೂಗಳಿಗಾಗಿ ಅದನ್ನು ವ್ಯಾಪಕವಾಗಿ ಬೆಳೆಯುತ್ತಾರೆ.
- C. ಭಾರತಕ್ಕೆ ಸ್ಥಳೀಯ / ದೇಶೀಯವಾದುದು.
- D. ಅದನ್ನು ಗುಪ್ತ ಬೆಂಕಿಯ ಅಪಾಯಕಾರಿ ಎಂದು ಪರಿಗಣಿಸಿದ್ದು ಮತ್ತು ಹಸಿರಾಗಿದ್ದರೂ ಇದು ಹೊತ್ತುರಿಯುತ್ತದೆ.

ಈ ಮೇಲಿನ ಹೇಳಿಕೆಗಳಲ್ಲಿ ಯಾವುವು ಸರಿ ?

ನೀಡಿರುವ ಆಯ್ಕೆಗಳಲ್ಲಿ ಸರಿಯಾದ ಉತ್ತರಕ್ಕಾಗಿ ಸಂಕೇತವನ್ನಾರಿಸಿ :

- (1) A, B ಮತ್ತು D ಮಾತ್ರ
- (2) B ಮತ್ತು D ಮಾತ್ರ
- (3) A ಮತ್ತು C ಮಾತ್ರ
- (4) A, B, C ಮತ್ತು D

22. ಕರ್ನಾಟಕದಲ್ಲಿನ ಎತ್ತಿನಹೊಳೆ ಯೋಜನೆ ಈ ಕುರಿತದ್ದು

- (1) ಸಮಗ್ರ ಕುಡುವ ನೀರಿನ ಯೋಜನೆ
- (2) ಸಮಗ್ರ ಬಂಜರು ನೆಲ ಸುಧಾರಣಾ ಯೋಜನೆ
- (3) ಸಮಗ್ರ ಒದ್ದೆ ನೆಲ ಸುಧಾರಣಾ ಯೋಜನೆ
- (4) ಸಮಗ್ರ ಚರಂಡಿ ವ್ಯವಸ್ಥೆ ಯೋಜನೆ

17. Who wrote the first Kannada drama 'Mitravinda Govinda' ?
- (1) Lakshmisha
 - (2) Mahalingaranga
 - (3) Singararya
 - (4) Tirumalaraya
18. When a nucleus emits a beta particle, its atomic number
- (1) Remains constant but its mass number changes
 - (2) Remains constant and so does its mass number
 - (3) Changes, but its mass number remains constant
 - (4) Changes and so does its mass number
19. In the context of environment, the term "dirty dozen" refers to
- (1) 12 harmful greenhouse gases
 - (2) 12 ozone depleting substances
 - (3) 12 persistent organic pollutants
 - (4) 12 heavy metals
20. An estuarine marine park is proposed to be established at
- (1) Honnavar
 - (2) Bantwala
 - (3) Apsarakonda
 - (4) Tadadi

21. Lantana – a known shrub found in abundance is
- A. A toxic weed and has affected the mountain diversity of the state.
 - B. Widely cultivated for its flowers.
 - C. Endemic to India.
 - D. Considered as a potential fire hazard and is combustible even when green.

Which of the statements given above are correct ?

Select the code for the correct answer from the options given below :

- (1) A, B and D only
- (2) B and D only
- (3) A and C only
- (4) A, B, C and D

22. Yettinahole project in Karnataka is related to
- (1) Integrated Drinking Water Project
 - (2) Integrated Wasteland Reclamation Project
 - (3) Integrated Wetland Reclamation Project
 - (4) Integrated Drainage System Project

23. ಕರ್ನಾಟಕದ 'ಹಕ್ಕಿ ಹಬ್ಬ' ದ (ಪಕ್ಷಿ ಉತ್ಸವ) ಮೂರನೆ ಆವೃತ್ತಿಯು ಆದದ್ದು ಇಲ್ಲಿ

- (1) ದಾರೋಜಿ ಕರಡಿ ಧಾಮ, ಬಳ್ಳಾರಿ
- (2) ಬ್ರಹ್ಮಗಿರಿ ವನ್ಯಜೀವಿ ಅಭಯ ಧಾಮ, ಕೊಡಗು
- (3) ದಾಂಡೇಲಿ ವನ್ಯಜೀವಿ ಅಭಯ ಧಾಮ, ಉತ್ತರ ಕನ್ನಡ
- (4) ರಾಣಿಬೆನ್ನೂರು ಕೃಷ್ಣ ಪಕ್ಷಿ ಧಾಮ, ಹಾವೇರಿ

24. ಈ ಹೇಳಿಕೆಗಳನ್ನು ಪರಿಗಣಿಸಿ :

- A. ಭಾರತದಲ್ಲಿ ಕೆಂಪು ಪಾಂಡಾ ಸ್ವಾಭಾವಿಕವಾಗಿ ದೊರೆಯುವುದು ಪಶ್ಚಿಮ ಹಿಮಾಲಯದಲ್ಲಿ ಮಾತ್ರ.
- B. ಭಾರತದಲ್ಲಿ ಸ್ಲೋ ಲೋರಿಸ್ (ಕಾಡು ಪಾಪದಂತಹ ಪ್ರಾಣಿ) ವಾಸವಾಗಿರುವುದು ಈಶಾನ್ಯದ ದಟ್ಟ ಅರಣ್ಯಗಳಲ್ಲಿ

ಈ ಮೇಲಿನ ಹೇಳಿಕೆಗಳಲ್ಲಿ ಯಾವುದು /ವು ಸರಿ ?

ನೀಡಿರುವ ಆಯ್ಕೆಗಳಲ್ಲಿ ಸರಿಯಾದ ಉತ್ತರಕ್ಕಾಗಿ ಸಂಕೇತವನ್ನಾರಿಸಿ :

- (1) A ಮಾತ್ರ
- (2) B ಮಾತ್ರ
- (3) A ಮತ್ತು B ಇವೆರಡೂ
- (4) A ಆಗಲೀ ಅಥವಾ B ಆಗಲೀ ಅಲ್ಲ

25. ಪಟ್ಟಿ I (ಸಂಸ್ಥೆ) ಮತ್ತು ಪಟ್ಟಿ II (ನಗರ) ಗಳನ್ನು ಹೊಂದಿಸಿ :

ಪಟ್ಟಿ I

(ಸಂಸ್ಥೆ)

ಪಟ್ಟಿ II

(ನಗರ)

- | | |
|--|---------------|
| A. ಸೆಂಟ್ರಲ್ ಆರಿಸ್ ಜೋನ್ ರಿಸರ್ಚ್ ಇನ್‌ಸ್ಟಿಟ್ಯೂಟ್ | I. ಬೆಂಗಳೂರು |
| B. ಇನ್‌ಸ್ಟಿಟ್ಯೂಟ್ ಆಫ್ ವುಡ್ ಸೈನ್ಸ್ ಅಂಡ್ ಟೆಕ್ನಾಲಜಿ | II. ಅಲಹಾಬಾದ್ |
| C. ಇನ್‌ಸ್ಟಿಟ್ಯೂಟ್ ಆಫ್ ಫಾರೆಸ್ಟ್ ಪ್ರೊಡಕ್ಟಿವಿಟಿ | III. ಜೋಧ್‌ಪುರ |
| D. ಸೆಂಟರ್ ಫಾರ್ ಸೋಷಿಯಲ್ ಫಾರಿಸ್ಟ್ರಿ ಅಂಡ್ ಎಕೊ ರಿಹ್ಯಾಬಿಲಿಟೇಶನ್ (CSFER) | IV. ರಾಂಚಿ |

ಸಂಕೇತಗಳ ಸಹಾಯದಿಂದ ಸರಿ ಉತ್ತರಗಳನ್ನು ಆರಿಸಿ :

	A	B	C	D
(1)	III	I	II	IV
(2)	III	I	IV	II
(3)	IV	III	II	I
(4)	IV	III	I	II

26. ರಾಷ್ಟ್ರೀಯ ಹೆದ್ದಾರಿ ಸಂಖ್ಯೆ-3, ಇವುಗಳನ್ನು ಜೋಡಿಸುತ್ತದೆ

- (1) ದೆಹಲಿಯನ್ನು ಅಹಮದಾಬಾದ್‌ನೊಂದಿಗೆ
- (2) ದೆಹಲಿಯನ್ನು ಮುಂಬೈನೊಂದಿಗೆ
- (3) ಆಗ್ರಾವನ್ನು ಕೋಲ್ಕತ್ತಾದೊಂದಿಗೆ
- (4) ಆಗ್ರಾವನ್ನು ಮುಂಬೈನೊಂದಿಗೆ

23. The third edition of Karnataka 'Hakki Habba' (Birds Festival) was held at

- (1) Daroji Karadi Dhama, Ballari
- (2) Brahmagiri Wildlife Sanctuary, Kodagu
- (3) Dandeli Wildlife Sanctuary, Uttara Kannada
- (4) Ranebennur Blackbuck Sanctuary, Haveri

24. Consider the following statements :

- A. In India, Red Panda is naturally found in the Western Himalayas only.
- B. In India, Slow Loris lives in the dense forests of the North-East.

Which of the statements given above is/are correct ?

Select the code for the correct answer from the options given below :

- (1) A only
- (2) B only
- (3) Both A and B
- (4) Neither A nor B

25. Match List I (Institutes) with List II (Cities) :

<i>List I</i> (Institute)	<i>List II</i> (City)
A. Central Arid Zone Research Institute	I. Bengaluru
B. Institute of Wood Science and Technology	II. Allahabad
C. Institute of Forest Productivity	III. Jodhpur
D. Centre for Social Forestry and Eco-Rehabilitation (CSFER)	IV. Ranchi

Select the code for the correct answer from the options given below :

	A	B	C	D
(1)	III	I	II	IV
(2)	III	I	IV	II
(3)	IV	III	II	I
(4)	IV	III	I	II

26. The National Highway Number 3 joins

- (1) Delhi with Ahmedabad
- (2) Delhi with Mumbai
- (3) Agra with Kolkata
- (4) Agra with Mumbai

27. ಕೆಳಗಿನ ಹೇಳಿಕೆಗಳನ್ನು ಪರಿಗಣಿಸಿ :

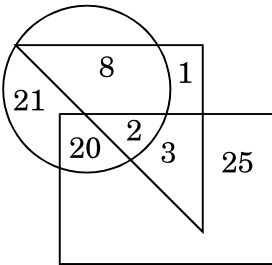
- A. ಟೊಮ್ಮಾಟೋವನ್ನು ಭಾರತದ ಎಲ್ಲಾ ರಾಜ್ಯಗಳು ಮತ್ತು ಕೇಂದ್ರಾಡಳಿತ ಪ್ರದೇಶಗಳಲ್ಲಿ ಬೆಳೆಯಲಾಗುತ್ತದೆ.
- B. 21°C ನಿಂದ 23°C ನ ವರೆಗಿನ ಸರಾಸರಿ ಮಾಸಿಕ ತಾಪಮಾನವು ಈ ಬೆಳೆಗೆ ಸರಿ ಹೊಂದುತ್ತದೆ.
- C. ಈ ಹಣ್ಣಿನ ಬಣ್ಣ ಮತ್ತು ಪೌಷ್ಟಿಕ ಮೌಲ್ಯವು ಬೆಳಕು ಮತ್ತು ಅದರ ತೀಕ್ಷ್ಣತೆಯಿಂದ ನಿರ್ಧರಿಸಲ್ಪಡುತ್ತದೆ.

ಈ ಮೇಲಿನ ಹೇಳಿಕೆಗಳಲ್ಲಿ ಯಾವುವು ಸರಿ ?

ನೀಡಿರುವ ಆಯ್ಕೆಗಳಲ್ಲಿ ಸರಿಯಾದ ಉತ್ತರಕ್ಕಾಗಿ ಸಂಕೇತವನ್ನಾರಿಸಿ :

- (1) A ಮತ್ತು B ಮಾತ್ರ
- (2) A, B ಮತ್ತು C
- (3) B ಮತ್ತು C ಮಾತ್ರ
- (4) A ಮತ್ತು C ಮಾತ್ರ

28. ಈ ಕೆಳಗಿನ ನಕ್ಷೆಯಲ್ಲಿ ವೃತ್ತವು ಗಾಯಕರನ್ನು, ತ್ರಿಭುಜವು ಅಧ್ಯಾಪಕರನ್ನು ಮತ್ತು ಆಯತವು ಲೇಖಕರನ್ನು ಪ್ರತಿನಿಧಿಸುತ್ತದೆ.



ಈ ಮೇಲಿನ ನಕ್ಷೆಯ ರೀತ್ಯಾ ಎಷ್ಟು ಅಧ್ಯಾಪಕರು, ಲೇಖಕರೂ ಅಲ್ಲ ಅಥವಾ ಗಾಯಕರೂ ಅಲ್ಲ ?

- (1) 1
- (2) 8
- (3) 2
- (4) 3

29. ಅಜಿತ 'A' ಬಿಂದುವಿನಿಂದ ಪ್ರಾರಂಭಿಸಿ, ಪೂರ್ವಕ್ಕೆ 7 km ನೇರವಾಗಿ ಸಾಗಿ, ಎಡಕ್ಕೆ ತಿರುಗಿ ಮತ್ತು ನೇರವಾಗಿ 10 km ಸಾಗುತ್ತಾನೆ ಅನಂತರ ಮತ್ತೆ ಎಡಕ್ಕೆ ತಿರುಗಿ, ನೇರವಾಗಿ 6 km ಸಾಗಿ ಮತ್ತೆ ಎಡಕ್ಕೆ ತಿರುಗಿ ನೇರವಾಗಿ 10 km ಸಾಗುತ್ತಾನೆ. ಪುನಃ ಎಡಕ್ಕೆ ತಿರುಗಿ ಪುನಃ ನೇರವಾಗಿ 10 km ಸಾಗುತ್ತಾನೆ. ಪ್ರಾರಂಭ ಬಿಂದುವಿನಿಂದ ಯಾವ ದಿಕ್ಕಿನಲ್ಲಿ ಅಜಿತ ಇರುತ್ತಾನೆ ?

- (1) ಪೂರ್ವ
- (2) ಪಶ್ಚಿಮ
- (3) ಉತ್ತರ
- (4) ದಕ್ಷಿಣ

30. 5 ಬಾಲಕರು ಅಮಿತ್, ಭಾನು, ಚಂದ್ರು, ದೇವ್ ಮತ್ತು ಎಡ್ವಿನ್ ಮೆಟ್ಟಿಲ ಮೇಲೆ ಈ ರೀತಿಯಲ್ಲಿ ಕುಳಿತಿದ್ದಾರೆ :

- A. ಎಡ್ವಿನ್, ಅಮಿತ್ ಗಿಂತ ಮೇಲಿದ್ದಾನೆ.
- B. ದೇವ್, ಭಾನುವಿಗಿಂತ ಕೆಳಗಿದ್ದಾನೆ.
- C. ಭಾನು, ಅಮಿತ್ ಗಿಂತ ಕೆಳಗಿದ್ದಾನೆ.
- D. ದೇವ್, ಭಾನು ಮತ್ತು ಚಂದ್ರುವಿನ ನಡುವೆ ಇದ್ದಾನೆ.

ಮೆಟ್ಟಿಲಿನ ಅತಿ ಕೆಳಗಿನ ಬಿಂದುವಿನಲ್ಲಿ ಕುಳಿತವರಾರು ?

- (1) ಅಮಿತ್
- (2) ಭಾನು
- (3) ಚಂದ್ರು
- (4) ಎಡ್ವಿನ್

27. Consider the following statements :

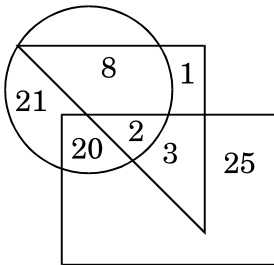
- A. Tomato is grown in all the States and Union Territories of India.
- B. The crop does well under average monthly temperature of 21°C to 23°C .
- C. The colour and nutritive value of the fruit is determined by light and its intensity.

Which of the above statements are correct ?

Select the code for the correct answer from the options given below :

- (1) A and B only
- (2) A, B and C
- (3) B and C only
- (4) A and C only

28. In the following diagram, the circle represents the singers, the triangle represents the teachers and the rectangle represents the authors.



According to the above diagram, how many teachers are neither authors nor singers ?

- (1) 1
- (2) 8
- (3) 2
- (4) 3

29. Ajit started from point 'A' and proceeded 7 km straight towards east, then he turned left and proceeded straight for a distance of 10 km. He then turned left again and proceeded straight for a distance of 6 km and then turned left again and proceeded straight for a distance of 10 km and then turned left again and proceeded straight for another 10 km. In which direction is Ajit from the starting point ?

- (1) East
- (2) West
- (3) North
- (4) South

30. Five boys Amit, Bhanu, Chandru, Dev and Edwin are sitting on a staircase in the following way :

- A. Edwin is above Amit.
- B. Dev is under Bhanu.
- C. Bhanu is under Amit.
- D. Dev is between Bhanu and Chandru.

Who is sitting at the lowest point of the staircase ?

- (1) Amit
- (2) Bhanu
- (3) Chandru
- (4) Edwin

31. ತರಗತಿಯಲ್ಲಿ ಎಷ್ಟು ಮಂದಿ ವಿದ್ಯಾರ್ಥಿಗಳಿದ್ದಾರೆ ?

- A. ತರಗತಿಯಲ್ಲಿ 20ಕ್ಕೂ ಮೀರಿದ ಆದರೆ 27 ಕ್ಕಿಂತಲೂ ಕಡಿಮೆ ವಿದ್ಯಾರ್ಥಿಗಳಿದ್ದಾರೆ.
B. ಪ್ರತಿಗುಂಪಿನಲ್ಲೂ ಐದು ವಿದ್ಯಾರ್ಥಿಗಳಿರುವಂತೆ ತರಗತಿಯ ವಿದ್ಯಾರ್ಥಿಗಳನ್ನು ಗುಂಪುಗಳಾಗಿ ವಿಭಾಗಿಸಬೇಕು.

ಪ್ರಶ್ನೆಗೆ ಉತ್ತರಿಸಲು ಮೇಲಿನ ಹೇಳಿಕೆಗಳಲ್ಲಿ ಯಾವುದು ಸಾಕಷ್ಟು ದತ್ತಾಂಶವನ್ನು ಹೊಂದಿದೆ ?

ಕೆಳಗೆ ನೀಡಿರುವ ಆಯ್ಕೆಗಳಿಂದ ಸರಿಯಾದ ಉತ್ತರಕ್ಕಾಗಿ ಸಂಕೇತವನ್ನಾರಿಸಿ :

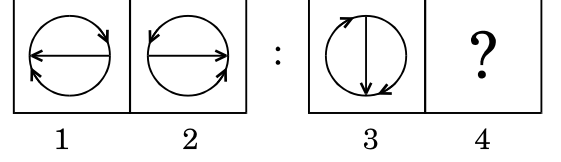
- (1) ಪ್ರಶ್ನೆಗೆ ಉತ್ತರಿಸಲು ಕೇವಲ A ಹೇಳಿಕೆಯಲ್ಲಿನ ದತ್ತಾಂಶವೊಂದೇ ಸಾಕು.
(2) ಹೇಳಿಕೆ B ನಲ್ಲಿರುವ ಮಾಹಿತಿಯೊಂದೇ ಪ್ರಶ್ನೆಗೆ ಉತ್ತರಿಸಲು ಸಾಕಾಗುತ್ತದೆ.
(3) ಪ್ರಶ್ನೆಗಳಿಗೆ ಉತ್ತರಿಸಲು ಹೇಳಿಕೆಗಳಾದ A ಮತ್ತು B ಗಳೆರಡರಲ್ಲಿ ನೀಡಲಾದ ಒಟ್ಟು ಮಾಹಿತಿಯು ಸಾಕಾಗುವುದಿಲ್ಲ.
(4) ಪ್ರಶ್ನೆಗಳಿಗೆ ಉತ್ತರಿಸಲು ಹೇಳಿಕೆಗಳಾದ A ಮತ್ತು B ಗಳೆರಡರಲ್ಲಿನ ಒಟ್ಟು ಮಾಹಿತಿಯು ಅವಶ್ಯಕವಾಗಿದೆ.

32. ಪ್ರಸ್ತುತ, ಕೈಗಾರಿಕಾ ಉತ್ಪಾದನೆಯ ಸೂಚ್ಯಂಕಕ್ಕೆ (ಐ.ಐ.ಪಿ.) ಆಧಾರಭೂತ ವರ್ಷ ಯಾವುದು ?

- (1) 2004 – 05
(2) 2011 – 12
(3) 2015 – 16
(4) 2001 – 02

33. ಈ ಕೆಳಗಿನ ಸಮಸ್ಯೆಯ ಚಿತ್ರದಲ್ಲಿ ಪ್ರಶ್ನಾರ್ಥಕ ಚಿಹ್ನೆಯುಳ್ಳ (?) ಸ್ಥಳಕ್ಕೆ ಹೊಂದಿಕೆಯಾಗಬಲ್ಲ ಸರಿ ಚಿತ್ರವನ್ನು ಉತ್ತರದ ಚಿತ್ರಗಳಿಂದ ಆರಿಸಿ.

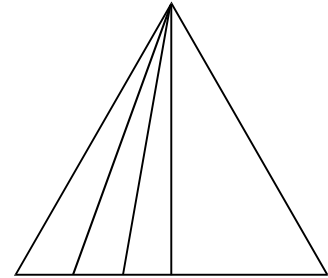
ಪ್ರಶ್ನೆ ಚಿತ್ರ :



ಸರಿಯಾದ ಆಯ್ಕೆಯನ್ನು ಆರಿಸಿ :

- (1)
- (2)
- (3)
- (4)

34. ಈ ಕೆಳಗಿನ ಚಿತ್ರದಲ್ಲಿರುವ ತ್ರಿಭುಜಗಳೆಷ್ಟು ?



- (1) 5
(2) 2
(3) 9
(4) 10

31. How many students are there in the class ?

- A. There are more than 20 but less than 27 students in the class.
- B. The number of students in the class can be divided into groups such that each group contains five students.

Which of the above statements contain sufficient data to answer the question ?

Select the code for the correct answer from the options given below :

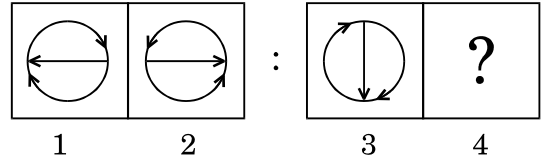
- (1) The data in Statement A alone is sufficient to answer the question.
- (2) The data in Statement B alone is sufficient to answer the question.
- (3) The data given in both Statements A and B together is not sufficient to answer the question.
- (4) The data in both Statements A and B together is necessary to answer the question.

32. Currently, what is the base year of the Index of Industrial Production (IIP) ?

- (1) 2004 – 05
- (2) 2011 – 12
- (3) 2015 – 16
- (4) 2001 – 02

33. Find the correct figure from the answer figures that will replace the question mark (?) in the question figure.

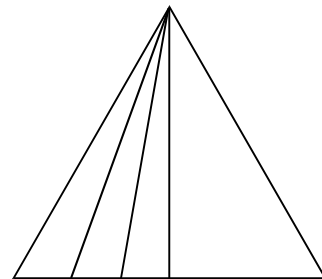
Question figure :



Select the correct option :

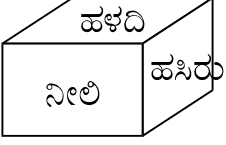
- (1)
- (2)
- (3)
- (4)

34. How many triangles are there in the following figure ?

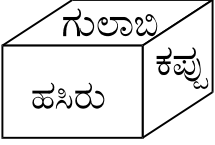


- (1) 5
- (2) 2
- (3) 9
- (4) 10

35. ಒಂದು ಘನದ ಆರು ಮುಖಗಳಿಗೆ ಹಸಿರು, ಹಳದಿ, ನೀಲಿ, ಕಪ್ಪು, ಗುಲಾಬಿ ಮತ್ತು ಬಿಳಿ ಬಣ್ಣ ಬಳಿಯಲಾಗಿದೆ. ಘನದ ಎರಡು ಸ್ಥಿತಿಗಳನ್ನು ಕೆಳಗೆ ನೀಡಲಾಗಿದೆ.



ಸ್ಥಿತಿ I

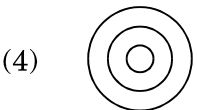
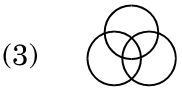


ಸ್ಥಿತಿ II

ಗುಲಾಬಿ ಮುಖವು ಅತ್ಯಂತ ಮೇಲೆಬರುವಂತೆ ಘನವನ್ನು ಇರಿಸಿದರೆ ಆಗ ತಳದಲ್ಲಿ ಇರುವುದು ಯಾವ ಬಣ್ಣ?

- (1) ಹಸಿರು
- (2) ಹಳದಿ
- (3) ನೀಲಿ
- (4) ಕಪ್ಪು

36. ಈ ನಕಾಶೆಯ ಪೈಕಿ ಯಾವುದು ವಿವಾಹಿತರು, ಮಹಿಳೆಯರು ಮತ್ತು ಅಧ್ಯಾಪಕರ ಸಂಬಂಧವನ್ನು ಉತ್ತಮವಾಗಿ ಧ್ವನಿಸುತ್ತದೆ ?



37. ಈ ಕೆಳಗಿನ ಪ್ರಶ್ನೆಯಲ್ಲಿ, ಒಂದು ಹೇಳಿಕೆಯನ್ನು, A ಮತ್ತು B ಎಂಬ ಎರಡು ಊಹನೆಗಳು ಅನುಸರಿಸುತ್ತವೆ. ನೀವು ಹೇಳಿಕೆಯನ್ನು ಮತ್ತು ಅದನ್ನು ಅನುಸರಿಸುವ ಊಹನೆಗಳನ್ನು ಪರಿಗಣಿಸಬೇಕು ಮತ್ತು ಯಾವ ಊಹನೆಯು/ಗಳು ಹೇಳಿಕೆಯಲ್ಲಿ ಧ್ವನಿಸುತ್ತದೆ/ವೆ ಎಂಬುದನ್ನು ನಿರ್ಧರಿಸಿ.

ಹೇಳಿಕೆ : ಸಂಚಾರಿ ಪೊಲೀಸು ಇಲಾಖೆಯ ಅತಿದೊಡ್ಡ ಸೂಚನಾ ಫಲಕಗಳನ್ನು ನಗರದ ಪ್ರಮುಖ ಭಾಗಗಳಲ್ಲಿ ಹಾಕಿದ್ದು, ಜನರು ಸೆಲ್ ಫೋನ್ ಬಳಕೆಯನ್ನು ಚಾಲನೆಮಾಡುವಾಗ ಬಳಕೆ ಮಾಡಬಾರದು ಇಲ್ಲವಾದರೆ ಅವರ ಲೈಸೆನ್ಸ್‌ಗಳನ್ನು ಮುಟ್ಟುಗೋಲು ಹಾಕಿಕೊಳ್ಳಲಾಗುವುದು ಎಂದು ತಿಳಿಸಿದ್ದಾರೆ.

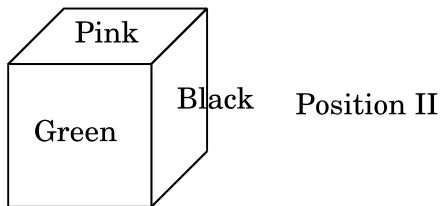
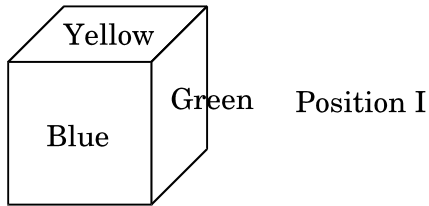
ಊಹನೆ A : ವಾಹನ ಚಾಲಕರು ಈ ಎಚ್ಚರಿಕೆಯನ್ನು ಉಪೇಕ್ಷೆ ಮಾಡಬಹುದು ಮತ್ತು ಚಾಲನೆಯಲ್ಲಿರುವಾಗ ಸೆಲ್ ಫೋನ್ ಗಳ ಬಳಕೆ ಮಾಡುವುದನ್ನು ಮುಂದುವರಿಸಬಹುದು.

ಊಹನೆ B : ಸಂಚಾರಿ ಪೊಲೀಸ್ ಇಲಾಖೆಯು ಹೆಚ್ಚಿನ ಅಪರಾಧಿಗಳನ್ನು ಹಿಡಿದು ಹೆಚ್ಚಿನವರ ಲೈಸೆನ್ಸ್‌ಗಳನ್ನು ಮುಟ್ಟುಗೋಲು ಹಾಕಿಕೊಳ್ಳಬಹುದು.

ನೀಡಿರುವ ಆಯ್ಕೆಗಳಲ್ಲಿ ಸರಿಯಾದ ಉತ್ತರಕ್ಕಾಗಿ ಸಂಕೇತವನ್ನಾರಿಸಿ :

- (1) A ಊಹನೆ ಮಾತ್ರ ಧ್ವನಿಸುತ್ತದೆ
- (2) B ಊಹನೆ ಮಾತ್ರ ಧ್ವನಿಸುತ್ತದೆ
- (3) A ಊಹನೆ ಮತ್ತು B ಊಹನೆಗಳೆರಡೂ ಧ್ವನಿಸುತ್ತವೆ
- (4) A ಊಹನೆ ಆಗಲೀ ಅಥವಾ B ಊಹನೆ ಆಗಲೀ ಧ್ವನಿಸುವುದಿಲ್ಲ.

35. Six faces of a cube have been painted with green, yellow, blue, black, pink and white. Two positions of this cube are given below.



If the cube is placed in such a way that pink colour is at the top, then which colour should be there at the bottom ?

- (1) Green
 - (2) Yellow
 - (3) Blue
 - (4) Black
36. Which of the following diagrams best depicts the relationship between Married, Women and Teachers ?



37. In the question, a statement is followed by two assumptions A and B. You have to consider the statement and the following assumptions and decide which of the assumptions is/are implicit in the statement.

Statement : The traffic police department has put up large notice boards at all major junctions of the city, warning drivers to refrain from using cell phones while driving or else their licenses will be impounded.

Assumption A : The drivers of the vehicles may ignore the warning and continue using cell phones while driving.

Assumption B : The traffic police department may be able to nab most of the offenders and impound their licenses.

Select the code for the correct answer from the options given below :

- (1) Only Assumption A is implicit
- (2) Only Assumption B is implicit
- (3) Both Assumption A and Assumption B are implicit
- (4) Neither Assumption A nor Assumption B is implicit

38. ಈ ಕೆಳಗಿನ ಹೇಳಿಕೆಗಳನ್ನು ಪರಿಶೀಲಿಸಿ :

- I. ನನಗೆ ಬೇಸರವಾದಾಗ ಮಾತ್ರ ನಾನು ಕ್ರಿಕೆಟ್ ಆಡುತ್ತೇನೆ.
- II. ನನಗೆ ಗೆಳೆಯರ ಸಹವಾಸ ಇದ್ದಾಗ, ಎಂದೂ ಬೇಸರ ಆಗದು.
- III. ನಾನು ಪಂದ್ಯ ನೋಡಲು ಸ್ಟೇಡಿಯಮ್‌ಗೆ ಹೋದಾಗಲೆಲ್ಲಾ ನನ್ನ ಸಹೋದರನನ್ನು ನನ್ನ ಜೊತೆಗೆ ಕರೆದೊಯ್ಯುತ್ತೇನೆ.

ಮೇಲಿನ ಹೇಳಿಕೆಗಳ ಆಧಾರದಿಂದ ಈ ಕೆಳಗಿನ ತೀರ್ಮಾನಗಳಲ್ಲಿ ಯಾವುದು ಸರಿ ?

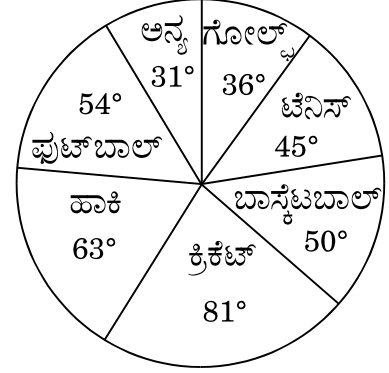
- (1) ನನಗೆ ಬೇಸರವಾದಾಗ, ನಾನು ಕ್ರಿಕೆಟ್ ಆಡುತ್ತೇನೆ.
- (2) ನನಗೆ ಬೇಸರವಾದಾಗ, ನಾನು ಸ್ಟೇಡಿಯಂನಲ್ಲಿ ಸಹವಾಸ ಬಯಸುತ್ತೇನೆ.
- (3) ನನ್ನ ಗೆಳೆಯರಿಲ್ಲದಿದ್ದರೆ, ಆಗ ನಾನು ಕ್ರಿಕೆಟ್ ಆಡುತ್ತೇನೆ.
- (4) ನನಗೆ ಬೇಸರ ಆಗದಿದ್ದರೆ, ನಾನು ಕ್ರಿಕೆಟ್ ಆಡುವುದಿಲ್ಲ.

39. ಈ ಕೆಳಗಿನ ಚೌಕದಲ್ಲಿ (?) ಚಿಹ್ನೆ ಇರುವೆಡೆ ಯಾವ ಸಂಖ್ಯೆಯನ್ನು ಬರೆದರೆ ವಿನ್ಯಾಸವು ಪೂರ್ಣ ಆಗುವುದು ?

6	5	4
7	6	5
5	7	6
37	23	?

- (1) 16
- (2) 14
- (3) 26
- (4) 21

40. ಕೆಳಗಿನ ಪೈ ಚಿತ್ರಪಟವು, ಒಂದು ದೇಶವು ಒಂದು ನಿರ್ದಿಷ್ಟ ವರ್ಷದಲ್ಲಿ ವಿವಿಧ ಕ್ರೀಡೆಗಳಿಗಾಗಿ ಮಾಡಿರುವ ವೆಚ್ಚವನ್ನು ತೋರಿಸಿದೆ. ಚಾರ್ಟ್ (ಚಿತ್ರಪಟದಲ್ಲಿ) ವಿವಿಧ ಘಟಕಗಳ ಡಿಗ್ರಿ (ಕೋನ) ಮೌಲ್ಯಗಳನ್ನು ನೀಡಲಾಗಿದೆ.



ಟೆನಿಸ್ ಕ್ರೀಡೆಯ ಸಲುವಾಗಿ ಒಟ್ಟು ವೆಚ್ಚದಲ್ಲಿ ಎಷ್ಟು ಶೇಕಡಾವಾರು ವೆಚ್ಚವನ್ನು ಮಾಡಲಾಗಿದೆ ?

- (1) $12\frac{1}{2}\%$
- (2) $22\frac{1}{2}\%$
- (3) 25%
- (4) 45%

41. 1 kg ಬಣ್ಣದ ಬೆಲೆ ₹ 36.50/kg ಮತ್ತು 1 kg ಬಣ್ಣವನ್ನು 16 ಚದರಡಿಗೆ ಲೇಪಿಸಬಹುದಾದರೆ, ಉದ್ದ 8 ಅಡಿಯ ಬದಿ ಇರುವ ಘನದ ಪೂರ್ಣ ಹೊರಗಿನ ಮೇಲ್ಮೈ ಲೇಪನಕ್ಕೆ ತಗಲುವ ವೆಚ್ಚವೇನು ?

- (1) ₹ 692
- (2) ₹ 768
- (3) ₹ 876
- (4) ₹ 972

38. Examine the following statements :

- I. I play cricket only if I am bored.
- II. I am never bored when I have my friend's company.
- III. Whenever I go to the stadium to watch a match, I take my brother along.

Which of the following conclusions is correct based on the above statements ?

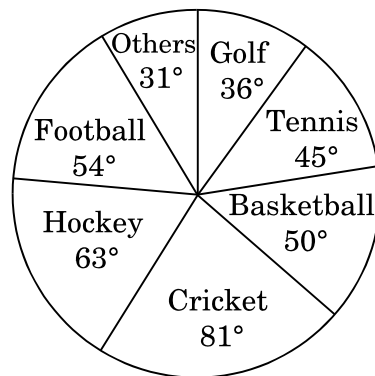
- (1) If I am bored, I play cricket.
- (2) If I am bored, I seek my friend's company.
- (3) If I am not with my friend, then I am playing cricket.
- (4) If I am not bored, I do not play cricket.

39. In the following question, which number when placed at the sign of interrogation (?) shall complete the pattern ?

6	5	4
7	6	5
5	7	6
37	23	?

- (1) 16
- (2) 14
- (3) 26
- (4) 21

40. The following pie chart shows the spending of a country on various sports during a particular year. The degree values of various components are given in the chart.



What percent of the total spending is spent on Tennis ?

- (1) $12\frac{1}{2}\%$
- (2) $22\frac{1}{2}\%$
- (3) 25%
- (4) 45%

41. The cost of the paint is ₹ 36.50 per kg. If 1 kg of paint covers 16 square feet, how much will it cost to paint the entire outside surface of a cube having 8 ft side ?

- (1) ₹ 692
- (2) ₹ 768
- (3) ₹ 876
- (4) ₹ 972

42. ಫಾಕ್‌ಲ್ಯಾಂಡ್ ದ್ವೀಪವು, ಅರ್ಜೆಂಟೀನಾ ಮತ್ತು ಯುನೈಟೆಡ್ ಕಿಂಗ್‌ಡಂ ನಡುವಣ ವಿವಾದದ ಬಿಂದುವಾಗಿದ್ದು ಇದು ಕೆಳಗಿನ ಯಾವ ಸಾಗರದಲ್ಲಿದೆ ?

- (1) ಉತ್ತರ ಅಟ್ಲಾಂಟಿಕ್ ಸಾಗರ
- (2) ದಕ್ಷಿಣ ಅಟ್ಲಾಂಟಿಕ್ ಸಾಗರ
- (3) ದಕ್ಷಿಣ ಹಿಂದೂ ಮಹಾಸಾಗರ
- (4) ದಕ್ಷಿಣ ಪೆಸಿಫಿಕ್ ಸಾಗರ

43. ದೋಣಿಯೊಂದು ಮೇಲ್ಮುಖವಾಗಿ (ಪ್ರವಾಹದ ವಿರುದ್ಧ ದಿಕ್ಕು) ಹರಿಯುವ ಹೊಳೆಯಲ್ಲಿ ಸಾಗುವಾಗ ಒಂದು ನಿರ್ದಿಷ್ಟ ದೂರ ಕ್ರಮಿಸಲು 8 ಗಂಟೆ 48 ನಿಮಿಷ ತೆಗೆದು ಕೊಳ್ಳುತ್ತದೆ ಆದರೆ ಹೊಳೆಯು ಕೆಳಮುಖವಾಗಿ (ಪ್ರವಾಹದ ಅದೇ ದಿಕ್ಕು) ಹರಿಯುವಾಗ ಅದೇ ದೂರವನ್ನು ಕ್ರಮಿಸಲು 4 ಗಂಟೆ ತೆಗೆದು ಕೊಳ್ಳುತ್ತದೆ. ದೋಣಿಯ ವೇಗ ಹಾಗೂ ನೀರಿನ ಪ್ರಸ್ತುತ ವೇಗದ ನಡುವಣ ಅನುಪಾತ ಎಷ್ಟು ?

- (1) 2 : 1
- (2) 3 : 2
- (3) 8 : 5
- (4) 3 : 8

44. ಒಂದು ವಸ್ತುವನ್ನು ಎರಡು ಸಮಾಂತರ ಸಮತಲ ದರ್ಪಣಗಳ ಮಧ್ಯೆ ಇಟ್ಟಾಗ, ದೊರೆಯುವ ಪ್ರತಿಬಿಂಬಗಳ ಸಂಖ್ಯೆಯು

- (1) ಒಂದು
- (2) ನಾಲ್ಕು
- (3) ಸೊನ್ನೆ
- (4) ಅನಂತ

45. ಪಟ್ಟಿ I (ಪರ್ಯಾಯ / ವರ್ಗಾವಣೆ ಕೃಷಿ) ಮತ್ತು ಪಟ್ಟಿ II (ರಾಜ್ಯಗಳು) ಗಳನ್ನು ಹೊಂದಿಸಿ :

ಪಟ್ಟಿ I (ವರ್ಗಾವಣೆ ಕೃಷಿ)	ಪಟ್ಟಿ II (ರಾಜ್ಯಗಳು)
A. ರುೂಮ್	I. ಆಂಧ್ರ ಪ್ರದೇಶ
B. ಪೊನಮ್	II. ಅಸ್ಸಾಮ್
C. ಪೊಡು	III. ಮಧ್ಯ ಪ್ರದೇಶ
D. ಬೇವಾರ್	IV. ಕೇರಳ

ಸಂಕೇತಗಳ ಸಹಾಯದಿಂದ ಸರಿ ಉತ್ತರಗಳನ್ನು ಆರಿಸಿ :

	A	B	C	D
(1)	II	I	IV	III
(2)	II	IV	III	I
(3)	III	II	IV	I
(4)	II	IV	I	III

46. ಯಾವ ರಾಜ ಒಡೆಯರ ಆಳ್ವಿಕೆಯಡಿ ಎಂ. ವಿಶ್ವೇಶ್ವರಯ್ಯನವರು ದಿವಾನರಾಗಿದ್ದರು ?

- (1) ಚಾಮರಾಜ ಒಡೆಯರ್
- (2) ಜಯ ಚಾಮರಾಜ ಒಡೆಯರ್
- (3) ಮುಮ್ಮಡಿ ಕೃಷ್ಣರಾಜ ಒಡೆಯರ್
- (4) ನಾಲ್ವಡಿ ಕೃಷ್ಣರಾಜ ಒಡೆಯರ್

42. Falkland Islands, which have been a bone of contention between Argentina and UK, are located in which of the following oceans ?

- (1) North Atlantic Ocean
- (2) South Atlantic Ocean
- (3) South Indian Ocean
- (4) South Pacific Ocean

43. A boat running upstream takes 8 hours 48 minutes to cover a certain distance, while it takes 4 hours to cover the same distance running downstream. What is the ratio between the speed of the boat and the speed of the water current respectively ?

- (1) 2 : 1
- (2) 3 : 2
- (3) 8 : 5
- (4) 3 : 8

44. If an object is placed between two parallel plane mirrors, then number of images formed is

- (1) One
- (2) Four
- (3) Zero
- (4) Infinity

45. Match the names of shifting cultivation (List I) with the States (List II) :

<i>List I</i> (<i>Shifting Cultivation</i>)	<i>List II</i> (<i>State</i>)
A. Jhum	I. Andhra Pradesh
B. Ponam	II. Assam
C. Podu	III. Madhya Pradesh
D. Bewar	IV. Kerala

Select the code for the correct answer from the options given below :

	A	B	C	D
(1)	II	I	IV	III
(2)	II	IV	III	I
(3)	III	II	IV	I
(4)	II	IV	I	III

46. Under which Wodeyar king's rule, did M. Visveswaraya work as Diwan ?

- (1) Chamaraja Wodeyar
- (2) Jayachamaraja Wodeyar
- (3) Krishnaraja Wodeyar III
- (4) Krishnaraja Wodeyar IV

47. ಕಾಂಗ್ರೆಸ್ ಲಾಹೋರ್ ಅಧಿವೇಶನವನ್ನು ಕುರಿತಂತೆ ಕೆಳಗಿನ ಯಾವ ಹೇಳಿಕೆಯು ಸರಿಯಾಗಿದೆ ?

- A. ಬ್ರಿಟಿಷರಿಂದ ಸಂಪೂರ್ಣ ಸ್ವಾತಂತ್ರ್ಯವನ್ನು ಗಳಿಸಲು ಠರಾವನ್ನು ಅಂಗೀಕರಿಸಲಾಯಿತು.
 B. ತೀಕ್ಷ್ಣಗ್ರಾಮಿಗಳು ಮತ್ತು ಸೌಮ್ಯವಾದಿಗಳ ನಡುವಣ ಒಡಕು ಆ ಅಧಿವೇಶನದಲ್ಲಿ ಬಗೆಹರಿಸಲ್ಪಟ್ಟಿತು.

ಈ ಮೇಲಿನ ಹೇಳಿಕೆಗಳಲ್ಲಿ ಯಾವುದು /ವು ಸರಿ ?

ನೀಡಿರುವ ಆಯ್ಕೆಗಳಲ್ಲಿ ಸರಿಯಾದ ಉತ್ತರಕ್ಕಾಗಿ ಸಂಕೇತವನ್ನಾರಿಸಿ :

- (1) A ಮಾತ್ರ
 (2) B ಮಾತ್ರ
 (3) A ಮತ್ತು B ಎರಡೂ
 (4) ಮೇಲಿನ ಯಾವುದೂ ಅಲ್ಲ

48. ಪಟ್ಟಿ I (ಕಬ್ಬಿಣದ ಅದಿರು) ಮತ್ತು ಪಟ್ಟಿ II (ಕಬ್ಬಿಣದ ಶೇಕಡಾವಾರು ಅಂಶ) ಗಳನ್ನು ಹೊಂದಿಸಿ :

ಪಟ್ಟಿ I (ಕಬ್ಬಿಣದ ಅದಿರು)	ಪಟ್ಟಿ II (ಕಬ್ಬಿಣದ ಶೇಕಡಾವಾರು ಅಂಶ)
-------------------------------	--

- | | |
|----------------|----------------------|
| A. ಮ್ಯಾಗ್ನಟೈಟ್ | I. ಶೇ. 55 ರವರೆಗೆ |
| B. ಹೆಮಟೈಟ್ | II. ಶೇ. 48.2 ರವರೆಗೆ |
| C. ಲಿಮೋನೈಟ್ | III. ಶೇ. 72.4 ರವರೆಗೆ |
| D. ಸಿಡರೈಟ್ | IV. ಶೇ. 69.9 ರವರೆಗೆ |

ಸಂಕೇತಗಳ ಸಹಾಯದಿಂದ ಸರಿ ಉತ್ತರಗಳನ್ನು ಆರಿಸಿ :

	A	B	C	D
(1)	III	IV	II	I
(2)	III	IV	I	II
(3)	II	I	III	IV
(4)	II	IV	III	I

49. ಗಡಿಯಾರದಲ್ಲಿ 3:30 ಘಂಟೆ ಇದ್ದಾಗ, ಅದರ ಮುಳ್ಳುಗಳ ನಡುವೆ ಉಂಟಾಗುವ ಕೋನವು ಎಷ್ಟಾಗಿರುತ್ತದೆ ?

- (1) 95°
 (2) 65°
 (3) 86°
 (4) 75°

50. ಪಟ್ಟಿ I (ಪುಸ್ತಕಗಳು) ಮತ್ತು ಪಟ್ಟಿ II (ಲೇಖಕರು) ಗಳನ್ನು ಹೊಂದಿಸಿ :

ಪಟ್ಟಿ I (ಪುಸ್ತಕಗಳು)	ಪಟ್ಟಿ II (ಲೇಖಕರು)
------------------------	----------------------

- | | |
|-----------------------------------|----------------------|
| A. ಎ ಬ್ರೀಫ್ ಹಿಸ್ಟರಿ ಆಫ್ ಟೈಂ | I. ಶಶಿ ತರೂರ್ |
| B. ಬುಕ್‌ಲೆಸ್ ಇನ್ ಬಾಗ್ನಾಡ್ | II. ಸ್ವಿಫನ್ ಹಾಕಿಂಗ್ |
| C. ಲಾಂಗ್ ವಾಕ್ ಟು ಫ್ರೀಡಂ | III. ಖುಷ್‌ವಂತ್ ಸಿಂಗ್ |
| D. ಟ್ರೂತ್, ಲವ್ ಅಂಡ್ ಎ ಲಿಟಲ್ ಮಲೀಸ್ | IV. ನೆಲ್ಸನ್ ಮಂಡೇಲಾ |

ಸಂಕೇತಗಳ ಸಹಾಯದಿಂದ ಸರಿ ಉತ್ತರಗಳನ್ನು ಆರಿಸಿ :

	A	B	C	D
(1)	I	II	IV	III
(2)	I	II	III	IV
(3)	II	I	IV	III
(4)	II	I	III	IV

47. Which of the following is correct about the Lahore Session of the Congress ?

- A. Resolution was adopted to gain complete independence from the British.
- B. The rift between extremists and moderates was resolved in that session.

Which of the above statements is/are correct ?

Select the code for the correct answer from the options given below :

- (1) A only
- (2) B only
- (3) Both A and B
- (4) None of the above

48. Match List I (Iron Ores) with List II (Percentage Content of Iron) :

<i>List I</i> (Iron ore)	<i>List II</i> (Percentage Content of Iron)
A. Magnetite	I. Up to 55%
B. Haematite	II. Up to 48.2%
C. Limonite	III. Up to 72.4%
D. Siderite	IV. Up to 69.9%

Select the code for the correct answer from the options given below :

	A	B	C	D
(1)	III	IV	II	I
(2)	III	IV	I	II
(3)	II	I	III	IV
(4)	II	IV	III	I

49. What angle will be formed between the hands of the clock at 3:30 ?

- (1) 95°
- (2) 65°
- (3) 86°
- (4) 75°

50. Match List I (Books) with List II (Writers) :

<i>List I</i> (Book)	<i>List II</i> (Writer)
A. A Brief History of Time	I. Shashi Tharoor
B. Bookless in Baghdad	II. Stephen Hawking
C. Long Walk to Freedom	III. Khushwant Singh
D. Truth, Love and a Little Malice	IV. Nelson Mandela

Select the code for the correct answer from the options given below :

	A	B	C	D
(1)	I	II	IV	III
(2)	I	II	III	IV
(3)	II	I	IV	III
(4)	II	I	III	IV

51. ಪಟ್ಟಿ I (ರಾಷ್ಟ್ರೀಯ ಉದ್ಯಾನ) ಮತ್ತು ಪಟ್ಟಿ II (ರಾಜ್ಯಗಳನ್ನು) ಗಳನ್ನು ಹೊಂದಿಸಿ :

ಪಟ್ಟಿ I (ರಾಷ್ಟ್ರೀಯ ಉದ್ಯಾನಗಳು)	ಪಟ್ಟಿ II (ರಾಜ್ಯಗಳು)
-------------------------------------	------------------------

- | | |
|-------------------|-----------------|
| A. ಸೈಲೆಂಟ್ ವ್ಯಾಲಿ | I. ಮೇಘಾಲಯ |
| B. ನೋಕ್ರೆಕ್ | II. ಕೇರಳ |
| C. ನಾಗರಹೊಳೆ | III. ಕರ್ನಾಟಕ |
| D. ಪನ್ನಾ | IV. ಮಧ್ಯ ಪ್ರದೇಶ |

ಸಂಕೇತಗಳ ಸಹಾಯದಿಂದ ಸರಿ ಉತ್ತರಗಳನ್ನು ಆರಿಸಿ :

	A	B	C	D
(1)	I	II	IV	III
(2)	II	I	IV	III
(3)	I	II	III	IV
(4)	II	I	III	IV

52. ಭಾರತದ 18 ವಿಜ್ಞಾನಿಗಳೂ ಸೇರಿದಂತೆ ಅಂತರರಾಷ್ಟ್ರೀಯ ವಿಜ್ಞಾನಿಗಳ ತಂಡ ಮೊಟ್ಟಮೊದಲಿಗೆ ಬಹಿರಂಗ ಪಡಿಸಿದ ವಂಶವಾಹಿ ಸಂಕೇತವು ಈ ಕೆಳಗಿನ ವ್ಯಾಪಕವಾಗಿ ಬೆಳೆಯುವ ಯಾವ ಬೆಳೆಯನ್ನು ಕುರಿತದ್ದು?

- (1) ಗೋಧಿ
- (2) ಅಕ್ಕಿ
- (3) ಮೆಕ್ಕೆ ಜೋಳ
- (4) ಜೋಳ

53. ಮೊಹಿಂದರ್ ಸಿಂಗ್ ಗಿಲ್ ಮೂರು ಜಿಗಿತ ಕ್ರೀಡೆಯಲ್ಲಿ 1970 ರಲ್ಲಿ ಚಿನ್ನದ ಪದಕವನ್ನು ಬ್ಯಾಂಗ್‌ಕಾಕ್ ಏಷಿಯನ್ ಕ್ರೀಡೆಯಲ್ಲಿ ಪಡೆದರು. 2018 ರಲ್ಲಿ ಜಕಾರ್ತಾ ಏಷಿಯನ್ ಕ್ರೀಡೆಗಳಲ್ಲಿ ಪುರುಷರ ತ್ರಿಜಿಗಿತದ ಕ್ರೀಡೆಯಲ್ಲಿ ಮೈಲುಗಲ್ಲು ಸಾಧನೆ ಮಾಡಿದ ಎರಡನೇ ಭಾರತೀಯ ಕ್ರೀಡಾಪಟು ಯಾರು ?

- (1) ಸರ್ತೆಜ್ ಸಿಂಗ್
- (2) ಗುರು ಹೆಚ್.ಎಸ್.
- (3) ಮಿಕಾ ಸಿಂಗ್
- (4) ಅರ್ಪಿಂದರ್ ಸಿಂಗ್

54. “KAKADU 2018” ನ್ನು ಕುರಿತು ಕೆಳಗಿನ ಹೇಳಿಕೆಗಳನ್ನು ಪರಿಗಣಿಸಿ :

- A. ಅದು ಬಹುಮುಖ ಪ್ರಾದೇಶಿಕ ಸಾಗರ ಒಪ್ಪಂದದ ತಾಲೀಮಿನ 14 ನೇ ಆವೃತ್ತಿಯಾಗಿದ್ದು ಇದು ಆಸ್ಟ್ರೇಲಿಯಾದ ಡಾರ್ವಿನ್‌ನಲ್ಲಿ ನಡೆಯಿತು.
- B. ಭಾರತೀಯ ನೌಕಾದಳ ನೌಕೆ “ಐ.ಎನ್.ಎಸ್. ಸಹ್ಯಾದ್ರಿ” ಯು ಈ ತಾಲೀಮಿನಲ್ಲಿ ಭಾಗವಹಿಸಿತು.

ಈ ಮೇಲಿನ ಹೇಳಿಕೆಗಳಲ್ಲಿ ಯಾವುದು /ವು ಸರಿ ? ನೀಡಿರುವ ಆಯ್ಕೆಗಳಲ್ಲಿ ಸರಿಯಾದ ಉತ್ತರಕ್ಕಾಗಿ ಸಂಕೇತವನ್ನಾರಿಸಿ :

- (1) A ಮಾತ್ರ
- (2) B ಮಾತ್ರ
- (3) A ಮತ್ತು B ಇವೆರಡೂ
- (4) A ಆಗಲೀ ಅಥವಾ B ಆಗಲೀ ಅಲ್ಲ

51. Match List I (National Parks) with List II (States) :

<i>List I</i> (National Park)	<i>List II</i> (State)
A. Silent Valley	I. Meghalaya
B. Nokrek	II. Kerala
C. Nagarhole	III. Karnataka
D. Panna	IV. Madhya Pradesh

Select the code for the correct answer from the options given below :

	A	B	C	D
(1)	I	II	IV	III
(2)	II	I	IV	III
(3)	I	II	III	IV
(4)	II	I	III	IV

52. For the first time an international team of scientists including 18 scientists from India have cracked the genetic code of which of the following widely cultivated crops ?

- (1) Wheat
- (2) Rice
- (3) Maize
- (4) Jowar

53. Mohinder Singh Gill won the Gold Medal in triple jump event in 1970 Bangkok Asian Games. Which Indian sportsperson has become the second Indian to achieve the landmark in 2018 Jakarta Asian Games in the men's triple jump event ?

- (1) Sartej Singh
- (2) Guru HS
- (3) Mika Singh
- (4) Arpinder Singh

54. Consider the following statements about "KAKADU 2018" :

- A. It was the 14th edition of multilateral regional maritime engagement exercise which took place in Darwin, Australia.
- B. Indian Naval Ship "INS Sahyadri" participated in the exercise.

Which of the statements given above is/are correct ?

Select the code for the correct answer from the options given below :

- (1) A only
- (2) B only
- (3) Both A and B
- (4) Neither A nor B

55. ಈಚಿನ ದಿನಗಳಲ್ಲಿ ಗುಂಪು ಗೊಂದಲ ಘಟನೆಗಳ ಹೆಚ್ಚಳದ ಜಾಗೃತಿಯಿಂದಾಗಿ ಘನ ಸರ್ವೋಚ್ಚ ನ್ಯಾಯಾಲಯವು ಕೇಂದ್ರ ಸರ್ಕಾರಕ್ಕೆ ನಿರ್ದೇಶನ ನೀಡಿ ಅಂತಹ ಘಟನೆಗಳನ್ನು “ಗೂಂಡಾವರ್ತನೆಯ ಹೀನ ಕಾರ್ಯ” ಎಂದು ತಿಳಿಸಿತು. ಈ ಕೆಳಗಿನ ಸಮಿತಿಗಳ ಪೈಕಿ ಯಾವ ಸಮಿತಿಯು ಗುಂಪು ಗೂಂಡಾಗಿರಿ ಮತ್ತು ಹಿಂಸೆಯ ವಿರುದ್ಧವಾಗಿ ನಿಯಮಗಳನ್ನು ಕೇಂದ್ರ ಸರ್ಕಾರಕ್ಕೆ ಸಲಹೆ ನೀಡಲು ರಚಿತವಾಗಿದ್ದು ?

- (1) ರಾಜೀವ್ ಗೌಬಾ ಸಮಿತಿ
- (2) ತಾರಕನಾಥ್ ಸಮಿತಿ
- (3) ಒ.ಪಿ. ನೀಲ್ ಸಮಿತಿ
- (4) ಇಂದರ್‌ಜೀತ್ ಸಿಂಗ್ ಸಮಿತಿ

56. ರಕ್ಷಣಾ ಸಚಿವಾಲಯದ ಸಮಗ್ರ ರಕ್ಷಣಾ ಸಿಬ್ಬಂದಿಯು ಒಡಂಬಡಿಕೆಯೊಂದನ್ನು ಸಹಿಮಾಡಿ ಈ ಕೆಳಗಿನ ಯಾವ ಸಂಸ್ಥೆಯೊಂದಿಗೆ, ಉಪಗ್ರಹಾಧಾರಿತವಾಗಿ ಟೆಲಿ ಮೆಡಿಸಿನ್ ಕೇಂದ್ರಗಳನ್ನು ಸ್ಥಾಪಿಸುವ ಮೂಲಕ ತುರ್ತು ವೈದ್ಯಕೀಯ ಬೆಂಬಲವನ್ನು ಸುಧಾರಿಸಿ ಉನ್ನತ ಎತ್ತರದ ಸ್ಥಳಗಳಲ್ಲಿ ಮುಖ್ಯವಾಗಿ ಸಿಯಾಚಿನ್‌ನಲ್ಲಿನ ಭಾರತೀಯ ಸೈನಿಕರಿಗೆ ಒದಗಿಸುವ ವ್ಯವಸ್ಥೆ ಮಾಡಿತು ?

- (1) VSSC
- (2) ISRO
- (3) BARC
- (4) DRDO

57. ಕೆಳಗಿನ ಯಾವ ದೇಶದಲ್ಲಿ ನಾಲ್ಕನೆಯ ಅಂತರರಾಷ್ಟ್ರೀಯ ಆಯುರ್ವೇದ ಅಧಿವೇಶನವನ್ನು ಸಂಘಟಿಸಲಾಯಿತು ?

- (1) ಫಿನ್ಲೆಂಡ್
- (2) ನೆದರ್‌ಲೆಂಡ್ಸ್
- (3) ರಷ್ಯಾ
- (4) ಅಮೆರಿಕಾ ಸಂಯುಕ್ತ ಸಂಸ್ಥಾನ

58. ಇತ್ತೀಚೆಗೆ ಡಿ.ಆರ್.ಡಿ.ಓ. ದ ಹೊಸ ಚೇರಮನ್ ಆಗಿ ಎರಡು ವರ್ಷ ಅವಧಿಗೆ ನೇಮಕ ಗೊಂಡವರು ಯಾರು ?

- (1) ಅತುಲ್ ಕಪೂರ್
- (2) ವಿನಯ ಡಿ.ಕೆ.
- (3) ಜಿ. ಸತೀಶ್ ರೆಡ್ಡಿ
- (4) ಸಂಜಯ ಮಿತ್ರ

59. ಈ ಕೆಳಗಿನ ಯಾವ ಸಂಸ್ಥೆಯು ಜಗತ್ತಿನ ಮೊದಲ ಬ್ಲಾಕ್ ಚೈನ್ ಬಾಂಡ್ “ಬಾಂಡ್-ಐ” ಯನ್ನು ರೂಪಿಸಿ, ವಿನಿಯೋಗಿಸಿ, ವರ್ಗಾವಣೆ ಮಾಡಿ ಮತ್ತು ವಿತರಣೆ ಲೆಡ್ಜರ್ ತಂತ್ರಜ್ಞಾನ ಬಳಕೆ ಮಾಡುವುದರಿಂದ ಅದರ ಜೀವಿತ ಚಕ್ರದ ಮೂಲಕ ನಿರ್ವಹಣೆಯನ್ನು ಜಾರಿಗೆ ತಂದಿತು ?

- (1) ವಿಶ್ವ ಬ್ಯಾಂಕು
- (2) ಏಷಿಯನ್ ಡೆವಲಪ್‌ಮೆಂಟ್ ಬ್ಯಾಂಕ್ (ADB)
- (3) ಅಂತರರಾಷ್ಟ್ರೀಯ ವಿತ್ತ ನಿಧಿ (IMF)
- (4) ಅಂತರರಾಷ್ಟ್ರೀಯ ದೂರ ಸಂವಹನ (ITU) ಒಕ್ಕೂಟ

55. Recently in the wake of increase in mob lynching incidents, the Hon'ble Supreme Court has directed the Union Government to enact a law to deal with such incidents terming them "horrendous acts of mobocracy". Which of the following committees has been constituted by the Union Government to suggest laws against mob lynching and violence ?

- (1) Rajiv Gauba Committee
- (2) Taraknath Committee
- (3) OP Neel Committee
- (4) Inderjit Singh Committee

56. The Integrated Defence Staff of the Defence Ministry has signed a Memorandum of Understanding (MoU) with which of the following organizations to set up satellite enabled telemedicine nodes to improve emergency medical support to Indian soldiers posted in high altitude areas especially Siachen ?

- (1) VSSC
- (2) ISRO
- (3) BARC
- (4) DRDO

57. In which of the following countries was the Fourth International Ayurveda Congress organized ?

- (1) Finland
- (2) The Netherlands
- (3) Russia
- (4) United States of America

58. Who has been recently appointed as the new chairman of DRDO (Defence Research Development Organisation) for a period of two years ?

- (1) Atul Kapoor
- (2) Vinay DK
- (3) G. Satheesh Reddy
- (4) Sanjay Mitra

59. The world's first blockchain bond "bond-i", which is to be created, allocated, transferred and managed through its life cycle using distributed ledger technology, has been launched by which of the following organizations ?

- (1) World Bank
- (2) Asian Development Bank (ADB)
- (3) International Monetary Fund (IMF)
- (4) International Telecommunication Union (ITU)

60. ಭಯೋತ್ಪಾದಕರ ಧಾಳಿಗೆ ಬಲಿಯಾದವರ ಸ್ಮರಣಾರ್ಥವಾಗಿ ಮೊದಲ ಬಾರಿಗೆ ಅಂತರರಾಷ್ಟ್ರೀಯ ಸ್ಮರಣಾ ದಿನವನ್ನು ಇತ್ತೀಚೆಗೆ ವಿಶ್ವ ಸಂಸ್ಥೆ ಆಚರಿಸಿತು. ಈ ಕೆಳಗಿನವುಗಳಲ್ಲಿ ಆ ದಿನಾಂಕ ಯಾವುದು ?

- (1) 20 ಆಗಸ್ಟ್
- (2) 21 ಆಗಸ್ಟ್
- (3) 22 ಆಗಸ್ಟ್
- (4) 23 ಆಗಸ್ಟ್

61. ಕನ್ನಡ ಚಿತ್ರ ನಿರ್ಮಾಪಕರು, ಭಾರತೀಯ ಫಿಲ್ಮ್ ಚೇಂಬರ್ ಆಫ್ ಕಾಮರ್ಸ್‌ನ ಅಧ್ಯಕ್ಷರಾಗಿದ್ದ ಏಕೈಕ ಕನ್ನಡಿಗರು ಇತ್ತೀಚೆಗೆ ವಿಧಿವಶರಾದರು ಅವರ ಹೆಸರು ?

- (1) ಆನಂದ ಮೂರ್ತಿ
- (2) ವಿ. ಹರಿಕೃಷ್ಣ
- (3) ಎಮ್. ಭಕ್ತವತ್ಸಲ
- (4) ಸಿ. ರಾಮಾಚಾರಿ

62. ಪುರುಷರ ಹಾಕಿಯಲ್ಲಿ ಭಾರತೀಯ ಪುರುಷರ ರಾಷ್ಟ್ರೀಯ ಹಾಕಿ ತಂಡವು 2018 ರಲ್ಲಿ ಜಕಾರ್ತ ಎಷಿಯನ್ ಕ್ರೀಡೆಯಲ್ಲಿ ಕಂಚುಗಳಿಸಿತು, ಕಂಚುಗೆಲ್ಲು ಭಾರತದಿಂದ ಈ ಕೆಳಗಿನ ಯಾವ ದೇಶವು ಸೋಲಿಸಲ್ಪಟ್ಟಿತು ?

- (1) ದಕ್ಷಿಣ ಕೊರಿಯಾ
- (2) ಪಾಕಿಸ್ತಾನ
- (3) ಜಪಾನ್
- (4) ವಿಯೆಟ್ನಾಂ

63. ಭಾರತೀಯ ರಿಸರ್ವ್ ಬ್ಯಾಂಕ್‌ನ ಮೇರೆಗೆ, ಅದರ ಇತ್ತೀಚಿನ ವಾರ್ಷಿಕ ಮಾಹಿತಿಯಲ್ಲಿ ಹಣಕಾಸಿನ ವರ್ಷ 2017 – 18 ರಲ್ಲಿ ಭಾರತಕ್ಕೆ ಒಂದೆರಡೇ ನೇರ ಹೂಡಿಕೆಯ ಅಧಿಕ ಆಕರದ ಮೂಲವಾಗಿ ಯಾವ ದೇಶವನ್ನು ಲೆಕ್ಕಿಸಿದೆ ?

- (1) ಸಿಂಗಾಪುರ
- (2) ಫ್ರಾನ್ಸ್
- (3) ಜರ್ಮನಿ
- (4) ಮಾರಿಷಸ್

64. ವಿಶ್ವ ಸಂಸ್ಥೆಯು ಅಂತರರಾಷ್ಟ್ರೀಯ ದಶಕಗಳನ್ನು ಒಂದು ನಡವಳಿಯೊಂದಿಗೆ ಆಚರಿಸುತ್ತಿದ್ದು, ವಿಶ್ವ ಸಂಸ್ಥೆಯು 2016 – 2025 ನ್ನು ಹೀಗೆಂದು ಘೋಷಿಸಿದೆ

- (1) ವಿಶ್ವಸಂಸ್ಥೆ, ಕುಟುಂಬ ರಚನೆಯ ದಶಕ
- (2) ವಿಶ್ವ ಸಂಸ್ಥೆ, ಪೌಷ್ಟಿಕಾಂಶವನ್ನು ಕುರಿತ ಕ್ರಿಯೆ/ಕ್ರಮದ ದಶಕ
- (3) ಆಫ್ರಿಕಾ ಮರುಭೂಮಿಯ ಜನರಿಗಾಗಿ ಅಂತರರಾಷ್ಟ್ರೀಯ ದಶಕ
- (4) ವಸಾಹತುಶಾಹಿ ನಿರ್ಮೂಲನಕ್ಕಾಗಿ ಅಂತರರಾಷ್ಟ್ರೀಯ ದಶಕ

- 60.** The United Nations recently observed the first ever International Day of Remembrance and Tribute to the Victims of Terror Attacks around the world. It was observed on which of the following dates ?
- (1) 20 August
 - (2) 21 August
 - (3) 22 August
 - (4) 23 August
- 61.** Which noted Kannada film producer has passed away recently, who was the only Kannadiga to chair the Indian Film Chamber of Commerce ?
- (1) Anand Murthy
 - (2) V. Harikrishna
 - (3) M. Bhakthavatsala
 - (4) C. Ramachari
- 62.** In Men's hockey, Indian men's national field hockey team clinched a Bronze at the 2018 Jakarta Asian Games. Which of the following countries was defeated by India to win the Bronze ?
- (1) South Korea
 - (2) Pakistan
 - (3) Japan
 - (4) Vietnam
- 63.** According to the Reserve Bank of India, in its annual data recently, which country accounted for the largest source of Foreign Direct Investment (FDI) into India in the Financial Year 2017 – 18 ?
- (1) Singapore
 - (2) France
 - (3) Germany
 - (4) Mauritius
- 64.** The United Nations observes international decades with a resolution. The United Nations has declared 2016 – 2025 as
- (1) The United Nations Decade of Family Farming
 - (2) The United Nations Decade of Action on Nutrition
 - (3) International Decade for People of African Desert
 - (4) International Decade for the Eradication of Colonialism

65. ಶಿವಾಜಿಯನ್ನು ಸಂಪೂರ್ಣವಾಗಿ ನಿರ್ಮೂಲನ ಮಾಡುವ ಬದಲಿಗೆ, ಮಿರ್ಜಾ ರಾಜಾ ಜಯಸಿಂಹನು ಅವನೊಂದಿಗೆ ಪುರಂದರ ಒಪ್ಪಂದವನ್ನು ಮಾಡಿ ಕೊಳ್ಳುವುದರ ಮೂಲಕ ಮುಕ್ತಾಯ ಗೊಳಿಸಿದನು ಏಕೆಂದರೆ ?

- (1) ಮರಾಠರ ಸಂಪೂರ್ಣ ನಿರ್ಮೂಲನ ಅಸಾಧ್ಯ.
- (2) ಮರಾಠರ ಬಗ್ಗೆ ರಾಜಾ ಜಯಸಿಂಹನು ಸಹಾನುಭೂತಿಯನ್ನು ಹೊಂದಿದ್ದನು.
- (3) ಶಿವಾಜಿಯ ಸಹಾಯದೊಂದಿಗೆ ಬಿಜಾಪುರದ ಆದಿಲ್ ಶಾಹಿ ಸುಲ್ತಾನನನ್ನು ಕಿತ್ತೊಗೆಯಲು ರಾಜಾ ಜಯಸಿಂಹನು ಬಯಸಿದ್ದನು.
- (4) ಬಿಜಾಪುರ ಮತ್ತು ಗೊಲ್ಕೊಂಡಾಗಳ ವಿಜಯಕ್ಕಾಗಿ ಮೊಘಲರ ಸೈನ್ಯವನ್ನು ಸಜ್ಜುಗೊಳಿಸಬೇಕಿತ್ತು.

66. ಕೆಳಗಿನ ಯಾವ ಪ್ರಶಸ್ತಿಯು ಭಾರತ ಸರ್ಕಾರದ ಅಗ್ರತೆಯ ಕ್ರಮದಲ್ಲಿ ಪಟ್ಟಿಯ 7 ನೇ ಕ್ರಮಾಂಕದಲ್ಲಿ ಹಾಜರಾಗುವ ಸ್ಥಾನಮಾನವನ್ನು ಸ್ವೀಕೃತನಿಗೆ ನೀಡುವುದು ?

- (1) ರಾಜೀವ್ ಗಾಂಧಿ ಖೇಲ್ ರತ್ನ ಪ್ರಶಸ್ತಿ
- (2) ಪರಮ ವೀರ್ ಚಕ್ರ
- (3) ಪದ್ಮ ವಿಭೂಷಣ್
- (4) ಭಾರತ ರತ್ನ

67. ಪಟ್ಟಿ I (ಪಂಗಡಗಳು) ರಲ್ಲಿನ ಪಟ್ಟಿ II (ರಾಜ್ಯಗಳು) ರಲ್ಲಿರುವ ಹೊಂದಿಸಿ :

ಪಟ್ಟಿ I (ಪಂಗಡಗಳು)	ಪಟ್ಟಿ II (ರಾಜ್ಯಗಳು)
A. ಕಟ್ಟರಿ	I. ಹಿಮಾಚಲ್ ಪ್ರದೇಶ್
B. ರಭಾ	II. ಮಧ್ಯ ಪ್ರದೇಶ್
C. ಭಿಲ್	III. ಮಹಾರಾಷ್ಟ್ರ
D. ಗಡ್ಡಿ	IV. ಮೇಘಾಲಯ

ಸಂಕೇತಗಳ ಸಹಾಯದಿಂದ ಸರಿ ಉತ್ತರಗಳನ್ನು ಆರಿಸಿ :

	A	B	C	D
(1)	III	IV	II	I
(2)	IV	III	II	I
(3)	I	IV	II	III
(4)	III	I	II	IV

68. 1946 ನೇ ವರ್ಷದಲ್ಲಿ ಈ ಕೆಳಗಿನವುಗಳಲ್ಲಿ ಯಾವ ಘಟನೆಯು ಸಂಭವಿಸಲಿಲ್ಲ ?

- (1) ಭಾರತಕ್ಕೆ ಕ್ಯಾಬಿನೆಟ್ ನಿಯೋಗದ ಪ್ರಕಟನೆ
- (2) ಮುಸ್ಲಿಂ ಲೀಗ್‌ನಿಂದ ನೀಡಲ್ಪಟ್ಟ "ಪ್ರತ್ಯಕ್ಷ /ನೇರ ಕೃತ್ಯ" ಕರೆ
- (3) ಮಧ್ಯಂತರ ಸರ್ಕಾರದ ರಚನೆ
- (4) ಲಾರ್ಡ್ ಮೌಂಟ್ ಬ್ಯಾಟನ್‌ರನ್ನು ಭಾರತದ ವೈಸರಾಯಿಯಾಗಿ ನೇಮಕಾತಿ

65. Mirza Raja Jai Singh, instead of completely annihilating Shivaji, concluded the Treaty of Purandhara with him because

- (1) Complete annihilation of Marathas was impossible.
- (2) Raja Jai Singh was sympathetic to the Marathas.
- (3) Raja Jai Singh wanted to overthrow the Adil Shahi Sultan of Bijapur with the help of Shivaji.
- (4) The Mughal army was to be deployed for the conquest of Bijapur and Golconda.

66. Which of the following awards gives the recipient the status of appearing in the order of precedence of the Government of India, appearing 7th on the list ?

- (1) Rajiv Gandhi Khel Ratna Award
- (2) Param Vir Chakra
- (3) Padma Vibhushan
- (4) Bharat Ratna

67. Match List I (Tribes) with List II (States) :

<i>List I</i> (Tribe)	<i>List II</i> (State)
A. Katkari	I. Himachal Pradesh
B. Rabha	II. Madhya Pradesh
C. Bhil	III. Maharashtra
D. Gaddi	IV. Meghalaya

Select the code for the correct answer from the options given below :

	A	B	C	D
(1)	III	IV	II	I
(2)	IV	III	II	I
(3)	I	IV	II	III
(4)	III	I	II	IV

68. Which of the following did **not** happen in the year 1946 ?

- (1) Announcement of the Cabinet Mission to India
- (2) "Direct Action" call given by the Muslim League
- (3) Formation of the interim government
- (4) Lord Mountbatten's appointment as the Viceroy of India

69. ಭಾರತದ ಸಮುದ್ರಬಂದರುಗಳನ್ನು ಪರಿಗಣಿಸಿ :

- A. ಚೆನ್ನೈ
- B. ಟುಟಿಕೊರಿನ್
- C. ವಿಶಾಖಪಟ್ಟಣಂ
- D. ಪರದೀಪ್

ಮೇಲಿನ ಬಂದರುಗಳ ಉತ್ತರದಿಂದ ದಕ್ಷಿಣದಡೆಗಿನ ಸರಿಯಾದ ಕ್ರಮಾನುಗತಿಯೇನು ?

ಕೆಳಗೆ ನೀಡಿರುವ ಆಯ್ಕೆಗಳಿಂದ ಸರಿಯಾದ ಉತ್ತರಕ್ಕಾಗಿ ಸಂಕೇತವನ್ನಾರಿಸಿ :

- (1) A, B, C, D
- (2) D, A, C, B
- (3) C, D, A, B
- (4) D, C, A, B

70. “ಕಾಂಗ್ರೆಸ್ ಚಳುವಳಿಯು ಜನರಿಂದ ಸ್ಫೂರ್ತಿಗೊಂಡಿಲ್ಲ ಅಥವಾ ಕಲ್ಪಿತವಾಗಿಲ್ಲ ಅಥವಾ ಯೋಜಿತವಾಗಿಲ್ಲ” ಎಂಬುದಾಗಿ ಯಾರು ಹೇಳಿದರು ?

- (1) ಲಾರ್ಡ್ ಡಫರಿನ್
- (2) ಸರ್ ಸೈಯದ್ ಅಹ್ಮದ್ ಖಾನ್
- (3) ಲಾರ್ಡ್ ಕರ್ಜನ್
- (4) ಲಾಲಾ ಲಜಪತ್ ರಾಯ್

71. ಈ ಹೇಳಿಕೆಗಳನ್ನು ಪರಿಗಣಿಸಿ :

- A. ಉಬ್ಬರ ಭರತಗಳು ನೌಕಾಯಾನ ಮತ್ತು ಮೀನು ಗಾರಿಕೆಗೆ ವಿಶೇಷ ಸಹಾಯ ಮಾಡುತ್ತವೆ.
- B. ಅತಿಯಾದ ಭರತಗಳು ದೊಡ್ಡ ಹಡಗುಗಳು ಬಂದರನ್ನು ಸುರಕ್ಷಿತವಾಗಿ ಪ್ರವೇಶಿಸಲು ಅಥವಾ ತೆರಳುವಂತೆ ಮಾಡಲು ಸಾಧ್ಯವಾಗಿಸುತ್ತದೆ.
- C. ಬಂದರಿನಲ್ಲಿ ಹೂಳುತುಂಬುವುದನ್ನು ಭರತವು ತಡೆಗಟ್ಟುತ್ತದೆ.
- D. ಕಾಂಡ್ಲ ಮತ್ತು ಡೈಮಂಡ್ ಬಂದರುಗಳು ಭರತದ ರೇವುಗಳಾಗಿವೆ.

ಮೇಲಿನ ಹೇಳಿಕೆಗಳಲ್ಲಿ ಯಾವುವು ಸರಿ ?

ಕೆಳಗೆ ನೀಡಿರುವ ಆಯ್ಕೆಗಳಿಂದ ಸರಿಯಾದ ಉತ್ತರಕ್ಕಾಗಿ ಸಂಕೇತವನ್ನಾರಿಸಿ :

- (1) A ಮತ್ತು D ಮಾತ್ರ
- (2) B, C ಮತ್ತು D ಮಾತ್ರ
- (3) A, B ಮತ್ತು C ಮಾತ್ರ
- (4) A, B, C ಮತ್ತು D

72. ಕೆಳಗಿನ ಕರ್ನಾಟಕದ ಸ್ಥಳಗಳಲ್ಲಿ ಮದ್ರಾಸ್ ಪ್ರಾಂತ್ಯದಿಂದ ವರ್ತಮಾನದ ಕರ್ನಾಟಕಕ್ಕೆ ಭಾಷಾವಾರು ಉದ್ದೇಶಾಧಾರಿತ ರಾಜ್ಯಗಳ ಪುನರ್ರಚನೆಯ ವೇಳೆ ಅಲ್ಲಿಯ ಜನರು ಆಡುತ್ತಿದ್ದ ಭಾಷಾಧಾರಿತವಾಗಿ ಸೇರ್ಪಡೆಯಾದಂತಹವು ಯಾವುವು ?

- (1) ಕೊಡಗು ಮತ್ತು ದಕ್ಷಿಣ ಕನ್ನಡ
- (2) ದಕ್ಷಿಣ ಕನ್ನಡ ಮತ್ತು ಕೊಳ್ಳೆಗಾಲ
- (3) ಬಳ್ಳಾರಿ ಮತ್ತು ರಾಯಚೂರು
- (4) ಬೆಂಗಳೂರು ಮತ್ತು ಮಂಡ್ಯ

69. Consider the following sea-ports of India :

- A. Chennai
- B. Tuticorin
- C. Vishakhapatnam
- D. Paradeep

What is the correct sequence of the above given ports from North to South ?

Select the code for the correct answer from the options given below :

- (1) A, B, C, D
- (2) D, A, C, B
- (3) C, D, A, B
- (4) D, C, A, B

70. Who said that “Congress Movement was neither inspired by the people, nor devised or planned by them” ?

- (1) Lord Dufferin
- (2) Sir Syed Ahmad Khan
- (3) Lord Curzon
- (4) Lala Lajpat Rai

71. Consider the following statements :

- A. Tides are of great help in navigation and fishing.
- B. High tides enable big ships to enter or leave the harbour safely.
- C. Tides prevent siltation in the harbours.
- D. Kandla and Diamond Harbour are tidal ports.

Which of the above statements are correct ?

Select the code for the correct answer from the options given below :

- (1) A and D only
- (2) B, C and D only
- (3) A, B and C only
- (4) A, B, C and D

72. Among the following places of Karnataka, which were joined from the Madras province to present Karnataka at the time of reorganization of the states on the basis of language of the people ?

- (1) Kodagu and Dakshin Kannada
- (2) Dakshin Kannada and Kollegal
- (3) Bellary and Raichur
- (4) Bangalore and Mandya

73. ಕೆಳಗಿನ ಹೇಳಿಕೆಗಳನ್ನು ಪರಿಗಣಿಸಿ :

A. ದ್ರವದ ಒತ್ತಡವು ದ್ರವದ ಸಾಂದ್ರತೆಗೆ ವಿಲೋಮಾನುಪಾತ ದಲ್ಲಿರುತ್ತದೆ.

B. ದ್ರವದ ಮೇಲೆ ಪ್ರಯೋಗಿಸಲಾದ ಒತ್ತಡವು ಧಾರಕದ ಗಾತ್ರ ಅಥವಾ ಆಕೃತಿಯನ್ನು ಅವಲಂಬಿಸಿಲ್ಲ ಮೇಲಿನ ಹೇಳಿಕೆಗಳಲ್ಲಿ ಯಾವುದು/ವು ಸರಿ ?

ಕೆಳಗೆ ನೀಡಿರುವ ಆಯ್ಕೆಗಳಿಂದ ಸರಿಯಾದ ಉತ್ತರಕ್ಕಾಗಿ ಸಂಕೇತವನ್ನಾರಿಸಿ :

- (1) A ಮಾತ್ರ
- (2) B ಮಾತ್ರ
- (3) A ಮತ್ತು B ಎರಡೂ
- (4) A ಆಗಲೀ ಅಥವಾ B ಆಗಲೀ ಅಲ್ಲ

74. ಕೆಳಗೆ ನೀಡಿರುವ ನಾಲ್ಕು ಜೋಡಿಗಳಲ್ಲಿ ಯಾವ ಪ್ರತಿಷ್ಠಿತರ ಸರಿಯಾದ ಸಂಯೋಜನೆಯು ಭಾರತದಲ್ಲಿ ಉಪ-ರಾಷ್ಟ್ರಪತಿಗಳಾಗಿದ್ದ ಹಾಗೂ ಅದಕ್ಕೆ ಪೂರ್ವದಲ್ಲಿ ರಾಜತಾಂತ್ರಿಕ ಹುದ್ದೆಗಳಾದ ರಾಯಭಾರಿಗಳು ಮತ್ತು ಹೈ ಕಮಿಷನರ್‌ಗಳ ಹುದ್ದೆಯನ್ನು ಧಾರಣ ಮಾಡಿರುವಂತವರನ್ನುಳ್ಳದ್ದಾಗಿದೆ ?

- (1) ಡಾ. ಎಸ್. ರಾಧಾಕೃಷ್ಣನ್ ಮತ್ತು ಜಿ.ಎಸ್. ಪಾಲಕ್
- (2) ಡಾ. ಎಸ್. ರಾಧಾಕೃಷ್ಣನ್ ಮತ್ತು ವಿ.ವಿ. ಗಿರಿ
- (3) ಡಾ. ರ್ನಾಕಿರ್ ಹುಸೇನ್ ಮತ್ತು ಕೆ.ಆರ್. ನಾರಾಯಣನ್
- (4) ಬಿ.ಡಿ. ಜತ್ತಿ ಮತ್ತು ಕೆ.ಆರ್. ನಾರಾಯಣನ್

75. ಸುರೇಶನು 45 ನಿಮಿಷಗಳಲ್ಲಿ 6 ಕಿ.ಮೀ. ದೂರವನ್ನು ಕ್ರಮಿಸಬಲ್ಲನು. ಅದರ ಅರ್ಧದಷ್ಟನ್ನು (ಆ ವೇಳೆಯ) 2/3 ರಷ್ಟು ಸಮಯದಲ್ಲಿ ಕ್ರಮಿಸಿದಲ್ಲಿ ಉಳಿದ ಸಮಯದಲ್ಲಿ ಉಳಿದ ದೂರವನ್ನು ಕ್ರಮಿಸಲು ಅವನು ಎಷ್ಟು ವೇಗದಿಂದರಬೇಕಾಗುತ್ತದೆ ?

- (1) 12 ಕಿ.ಮೀ. / ಘಂ
- (2) 10 ಕಿ.ಮೀ. / ಘಂ
- (3) 8 ಕಿ.ಮೀ. / ಘಂ
- (4) 6 ಕಿ.ಮೀ. / ಘಂ

76. ಪಟ್ಟಿ I ರಲ್ಲಿನ (ಉಪನಾಮ) ಪಟ್ಟಿ II ರಲ್ಲಿರುವ (ಸ್ಥಳಗಳು) ಪಟ್ಟಿಗಳೊಂದಿಗೆ ಹೊಂದಿಸಿ :

ಪಟ್ಟಿ I (ಉಪನಾಮ)	ಪಟ್ಟಿ II (ಸ್ಥಳಗಳು)
A. ನೈಲ್‌ನ ಕೊಡುಗೆ	I. ಕೆನಡಾ
B. ಮೇಪಲ್ ಎಲೆಯ ಭೂಮಿ	II. ಈಜಿಪ್ಟ್
C. ಸಾವಿರ ಸರೋವರಗಳ ಭೂಮಿ	III. ಆಸ್ಟ್ರೇಲಿಯಾ
D. ಚಿನ್ನದ ತುಪ್ಪಳದ ಭೂಮಿ	IV. ಫಿನ್‌ಲ್ಯಾಂಡ್
	V. ಸ್ವಿಟ್ಜರ್‌ಲ್ಯಾಂಡ್

ಸಂಕೇತಗಳ ಸಹಾಯದಿಂದ ಸರಿ ಉತ್ತರಗಳನ್ನು ಆರಿಸಿ :

	A	B	C	D
(1)	II	V	IV	III
(2)	II	I	III	IV
(3)	II	I	IV	III
(4)	II	I	V	III

73. Consider the following statements :

- A. The liquid pressure is inversely proportional to the density of the liquid.
- B. The pressure exerted upon the liquid does not depend upon the shape or size of the container.

Which of the statements given above is/are correct ?

Select the code for the correct answer from the options given below :

- (1) A only
- (2) B only
- (3) Both A and B
- (4) Neither A nor B

74. Among the four pairs given below, which one consists of a correct combination of dignitaries who became Vice-Presidents of India after having held diplomatic posts like Ambassadors and High Commissioners ?

- (1) Dr. S. Radhakrishnan and G.S. Pathak
- (2) Dr. S. Radhakrishnan and V.V. Giri
- (3) Dr. Zakir Hussain and K.R. Narayanan
- (4) B.D. Jatti and K.R. Narayanan

75. Suresh covers a distance of 6 km in 45 minutes. If he covers half the distance in $\frac{2}{3}$ rd of the time, then what speed does he maintain to cover the remaining distance in the remaining time ?

- (1) 12 km/hr
- (2) 10 km/hr
- (3) 8 km/hr
- (4) 6 km/hr

76. Match List I (Sobriquet) with List II (Places) :

<i>List I</i> (Sobriquet)	<i>List II</i> (Places)
A. Gift of the Nile	I. Canada
B. Land of the Maple Leaf	II. Egypt
C. Land of Thousand Lakes	III. Australia
D. Land of the Golden Fleece	IV. Finland
	V. Switzerland

Select the code for the correct answer from the options given below :

	A	B	C	D
(1)	II	V	IV	III
(2)	II	I	III	IV
(3)	II	I	IV	III
(4)	II	I	V	III

77. ಕೆಳಗಿನವುಗಳಲ್ಲಿ ಯಾವುದು ಭಾರತದ ರಾಷ್ಟ್ರಪತಿಗಳ ಚುನಾಯಕ ಭಾಗವಾಗಿರುತ್ತದೆ ಆದರೆ ಅವರ ಖಂಡನೆಗಾಗಿ ಫೋರನ ಭಾಗವಾಗಿರುವುದಿಲ್ಲ?

- (1) ಲೋಕ ಸಭೆ
- (2) ರಾಜ್ಯ ಸಭೆ
- (3) ರಾಜ್ಯ ವಿಧಾನ ಪರಿಷತ್ತುಗಳು
- (4) ರಾಜ್ಯ ವಿಧಾನ ಮಂಡಲಗಳು

78. ವಿಶ್ವ ಸಂಸ್ಥೆಯನ್ನು ಕುರಿತ ಕೆಳಗಿನ ಹೇಳಿಕೆಗಳನ್ನು ಪರಿಗಣಿಸಿ :

- A. II ನೇ ಪ್ರಪಂಚ ಮಹಾಯುದ್ಧದ ನಂತರ 1945 ರ 24 ನೇ ಅಕ್ಟೋಬರ್‌ನಲ್ಲಿ ಸ್ಥಾಪನೆ ಯಾಯಿತು.
- B. UN ನ ಕೇಂದ್ರಕಾರ್ಯ ಸ್ಥಾನವು, ನ್ಯೂಯಾರ್ಕ್ ನಗರದ ಮನ್‌ಹಾಟನ್ ನಲ್ಲಿದೆ.
- C. UN ವು 2001 ರಲ್ಲಿ ನೊಬೆಲ್ ಶಾಂತಿ ಪಾರಿತೋಷಕವನ್ನು ಗೆದ್ದಿದೆ.

ಮೇಲಿನ ಹೇಳಿಕೆಗಳಲ್ಲಿ ಯಾವುದು/ವು ಸರಿ ?

ಕೆಳಗೆ ನೀಡಿರುವ ಆಯ್ಕೆಗಳಿಂದ ಸರಿಯಾದ ಉತ್ತರಕ್ಕಾಗಿ ಸಂಕೇತವನ್ನಾರಿಸಿ :

- (1) A ಮಾತ್ರ
- (2) A ಮತ್ತು B ಮಾತ್ರ
- (3) B ಮತ್ತು C ಮಾತ್ರ
- (4) A, B ಮತ್ತು C

79. ಕೆಳಗಿನ ಹೇಳಿಕೆಗಳನ್ನು ಪರಿಗಣಿಸಿ :

A. ಸಂಸತ್ತಿನ ಅಧಿವೇಶನ ಸಭೆ ಇಲ್ಲದಿದ್ದಾಗ ಅಧ್ಯಕ್ಷರು ಸುಗ್ರೀವಾಜ್ಞೆಯನ್ನು ಘೋಷಿಸಬಹುದು. ಈ ಘೋಷಣೆಗಳು ಸಂಸತ್ತಿನಿಂದ ನ್ಯಾಯ ಸಮ್ಮತವಾಗಿ ಅದರ ಪುನರ್ ಅಧಿವೇಶನದ ಆರು ತಿಂಗಳೊಳಗಾಗಿ ಅನುಮೋದಿತವಾಗಬೇಕು.

B. ರಾಷ್ಟ್ರಪತಿಗಳು ಲೋಕಸಭೆಗೆ ಸಾಹಿತ್ಯ, ವಿಜ್ಞಾನ, ಕಲೆ ಮತ್ತು ಸಾಮಾಜಿಕ ಸೇವೆಗಳಲ್ಲಿ ವಿಶೇಷವಾಗಿ ಕಾರ್ಯಶೀಲ ಅನುಭವದ ಜ್ಞಾನವನ್ನು ಹೊಂದಿರುವ 12 ಮಂದಿ ಸದಸ್ಯರನ್ನು ನಾಮನಿರ್ದೇಶನ ಮಾಡುತ್ತಾರೆ.

ಮೇಲಿನ ಹೇಳಿಕೆಗಳಲ್ಲಿ ಯಾವುದು/ವು ಸರಿ ?

ಕೆಳಗೆ ನೀಡಿರುವ ಆಯ್ಕೆಗಳಿಂದ ಸರಿಯಾದ ಉತ್ತರಕ್ಕಾಗಿ ಸಂಕೇತವನ್ನಾರಿಸಿ :

- (1) A ಮಾತ್ರ
- (2) B ಮಾತ್ರ
- (3) A ಮತ್ತು B ಎರಡೂ
- (4) A ಆಗಲೀ ಅಥವಾ B ಆಗಲೀ ಅಲ್ಲ

80. 'ದೇವಾನಾಂ ಪಿಯದಸಿ' ಮತ್ತು 'ಅಶೋಕ ಮೌರ್ಯ' ಎಂಬುದು ಒಂದೇ ಮತ್ತು ಅದೇ ಆಗಿವೆ. ಈ ಕೆಳಗಿನ ಯಾವ ಸ್ಥಳದಲ್ಲಿಯ ಕೆತ್ತನೆಯ ಆಧಾರದ ಮೇಲೆ ಇದನ್ನು ಒಪ್ಪಲಾಗಿದೆ ?

- (1) ಜಟಿಂಗ
- (2) ಗವಿಮಠ
- (3) ಮಾಸ್ತಿ
- (4) ಸಿದ್ಧಾಪುರ

77. Which one of the following is part of the electoral college for the election of the President of India but does not form part of the forum for his impeachment ?

- (1) Lok Sabha
- (2) Rajya Sabha
- (3) State Legislative Councils
- (4) State Legislative Assemblies

78. Consider the following statements about the United Nations (UN) :

- A. It was established on 24th October 1945 and after World War II.
- B. The headquarters of UN is in Manhattan, New York City.
- C. UN has won the Nobel Peace Prize in 2001.

Which of the statements given above is/are correct ?

Select the code for the correct answer from the options given below :

- (1) A only
- (2) A and B only
- (3) B and C only
- (4) A, B and C

79. Consider the following statements :

- A. The President can promulgate ordinances when Parliament is not in session. These ordinances must be approved by the Parliament within six months from its reassembly.
- B. The President nominates 12 members of the Lok Sabha from amongst persons having special knowledge or practical experience in literature, science, art and social service.

Which of the statements given above is/are correct ?

Select the code for the correct answer from the options given below :

- (1) A only
- (2) B only
- (3) Both A and B
- (4) Neither A nor B

80. 'Devanama Piyadasi' and 'Ashoka Maurya' are one and the same. This was established on the basis of which of the following edicts ?

- (1) Jatinga
- (2) Gavimath
- (3) Maski
- (4) Siddapura

81. ಪಟ್ಟಿ I ರಲ್ಲಿನ (ಕೇಂದ್ರಾಡಳಿತ ಪ್ರದೇಶಗಳು) ಪಟ್ಟಿ II ರಲ್ಲಿರುವ (ಅವು ಯಾವ ಉಚ್ಚ ನ್ಯಾಯಾಲಯದ ವ್ಯಾಪ್ತಿಯಡಿ ಬರುವುದೋ) ಪಟ್ಟಿಗಳೊಂದಿಗೆ ಹೊಂದಿಸಿ :

	ಪಟ್ಟಿ I (ಕೇಂದ್ರಾಡಳಿತ ಪ್ರದೇಶಗಳು)		ಪಟ್ಟಿ II (ಉಚ್ಚ ನ್ಯಾಯಾಲಯ)
A.	ಅಂಡಮಾನ್ ಮತ್ತು ನಿಕೊಬಾರ್ ದ್ವೀಪಗಳು	I.	ಕಲ್ಕತ್ತಾ ಉಚ್ಚ ನ್ಯಾಯಾಲಯ
B.	ದಮನ್ ಮತ್ತು ಡಿಯು	II.	ಮುಂಬಯಿ ಉಚ್ಚ ನ್ಯಾಯಾಲಯ
C.	ಲಕ್ಷದ್ವೀಪ್	III.	ಮದ್ರಾಸ್ ಉಚ್ಚ ನ್ಯಾಯಾಲಯ
D.	ಪುದುಚೆರಿ	IV.	ಕೇರಳ ಉಚ್ಚ ನ್ಯಾಯಾಲಯ

ಸಂಕೇತಗಳ ಸಹಾಯದಿಂದ ಸರಿ ಉತ್ತರಗಳನ್ನು ಆರಿಸಿ :

	A	B	C	D
(1)	II	IV	III	I
(2)	II	I	III	IV
(3)	II	I	IV	III
(4)	I	II	IV	III

82. ಅಸಹಕಾರ ಚಳುವಳಿಯ ಅವಧಿಯಲ್ಲಿ ವಿದೇಶೀ ಬಟ್ಟೆಗಳ ಸುಡುವಿಕೆಯನ್ನು ಅವು “ಜಡ ತ್ಯಾಜ್ಯ” ಎಂಬುದಾಗಿ ಪರಿಗಣಿಸಿ ಕರೆ ನೀಡಿದವರು ಯಾರು ?

- (1) ರವೀಂದ್ರನಾಥ ಟ್ಯಾಗೋರ್
- (2) ಮೊಹಮದ್ ಅಲಿ ಜಿನ್ನಾ
- (3) ಲಾರ್ಡ್ ರೀಡಿಂಗ್
- (4) ಮೋತಿಲಾಲ್ ನೆಹರೂ

83. ಈ ಕೆಳಗಿನವುಗಳಲ್ಲಿ ಯಾವುದು “ಹತ್ತಿರದ ಹಣ” ಕ್ಕೆ ಉದಾಹರಣೆಯಾಗಿದೆ ?

- A. ಖಜಾನೆ ಬಿಲ್ಲುಗಳು
- B. ಉಳಿತಾಯ ಖಾತೆಗಳು
- C. ಯುನೈಟೆಡ್ ಸ್ಟೇಟ್ಸ್ ಡಾಲರ್
- D. ರಿಯಲ್ ಎಸ್ಟೇಟ್

ಕೆಳಗೆ ನೀಡಿರುವ ಆಯ್ಕೆಗಳಿಂದ ಸರಿಯಾದ ಉತ್ತರಕ್ಕಾಗಿ ಸಂಕೇತವನ್ನಾರಿಸಿ :

- (1) A ಮತ್ತು B ಮಾತ್ರ
- (2) A, B ಮತ್ತು C ಮಾತ್ರ
- (3) C ಮತ್ತು D ಮಾತ್ರ
- (4) A ಮತ್ತು D ಮಾತ್ರ

84. ಅಲ್ಯೂಮಿನಿಯಮ್ ಗೋಳವನ್ನು 10°C ನಲ್ಲಿ ನೀರಿನಲ್ಲಿ ಮುಳುಗಿಸಿದೆ, ಗೋಳದ ತಾಪವನ್ನು ಅಧಿಕಗೊಳಿಸಿದರೆ, ಮೇಲ್ಮುಖ ಒತ್ತಡವು

- (1) ಹೆಚ್ಚಾಗುತ್ತದೆ
- (2) ಕಡಿಮೆ ಆಗುತ್ತದೆ
- (3) ಅಷ್ಟೇ ಇರುತ್ತದೆ
- (4) ಗೋಳದ ತ್ರಿಜ್ಯವನ್ನವಲಂಬಿಸಿ ಹೆಚ್ಚಾಗಲೂ ಬಹುದು ಅಥವಾ ಕಡಿಮೆ ಆಗಲೂ ಬಹುದು

81. Match List I (Union Territories) with List II (High Court under whose jurisdiction they come) :

List I

(Union Territories)

- A. Andaman and Nicobar Islands
- B. Daman and Diu
- C. Lakshadweep
- D. Puducherry

List II

(High Court)

- I. Calcutta High Court
- II. Bombay High Court
- III. Madras High Court
- IV. Kerala High Court

Select the code for the correct answer from the options given below :

A B C D

- (1) II IV III I
- (2) II I III IV
- (3) II I IV III
- (4) I II IV III

82. Who of the following called the burning of the foreign clothes during the Non-Cooperation Movement as “an insensate waste” ?

- (1) Rabindranath Tagore
- (2) Mohammad Ali Jinnah
- (3) Lord Reading
- (4) Moti Lal Nehru

83. Which of the following is the example of “Near Money” ?

- A. Treasury Bills
- B. Savings Accounts
- C. US Dollar
- D. Real Estate

Select the code for the correct answer from the options given below :

- (1) A and B only
- (2) A, B and C only
- (3) C and D only
- (4) A and D only

84. An aluminum sphere is dipped into water at 10°C. If the temperature of the sphere is increased, the force of buoyancy

- (1) Will increase
- (2) Will decrease
- (3) Will remain the same
- (4) May increase or decrease depending upon the radius of the sphere

85. ಬಹಮನಿ ಸಾಮ್ರಾಜ್ಯದ ದೊರೆಗಳು ಕಲೆ ಮತ್ತು ವಾಸ್ತುಶಿಲ್ಪದ ಅಭಿವೃದ್ಧಿಯನ್ನು ನಗರಗಳು, ಕಟ್ಟಡಗಳು, ಮಸೀದಿಗಳು ಮತ್ತು ಕೋಟೆಗಳ ರೂಪದಲ್ಲಿ ಪ್ರೋತ್ಸಾಹಿಸಿದರು. ಈ ಸಂದರ್ಭದಲ್ಲಿ ಕೆಳಗಿನ ಯಾವ ಹೇಳಿಕೆಯು ಸರಿಯಲ್ಲ?

- (1) ಹೈದರಾಬಾದ್‌ನ ನಗರವು ಬಿಜಾಪುರದ ಇಬ್ರಾಹಿಂ ಆದಿಲ್ ಷಾ ರಿಂದ ನಿರ್ಮಿತವಾಯಿತು.
- (2) ಮೊಹಮದ್ ಆದಿಲ್ ಷಾ ನ ಸಮಾಧಿಯ ಮೇಲಣ ಬಿಜಾಪುರದ ಗೋಲ್ ಗುಂಬಜ್ ಭಾರತದ ಅತಿ ದೊಡ್ಡದಾದ ಗುಮ್ಮಟವಾಗಿದೆ.
- (3) ಹೈದರಾಬಾದ್‌ನ ಚಾರ್ ಮಿನಾರ್, ಗೋಲ್ಕೊಂಡಾದ ಖುತ್ವಾಷಾಹಿ ಮನೆತನದ ಮೊಹಮದ್ ಕುಲಿ ಕುತ್ವಾ ಷಾ ರಿಂದ ನಿರ್ಮಿಸಲ್ಪಟ್ಟಿತು.
- (4) ಮಹಮದ್ ಗವಾನನು ಬೀದರ್ ನಲ್ಲಿ ಕಾಲೇಜೊಂದನ್ನು ನಿರ್ಮಿಸಿದನು.

86. ಕೆಳಗಿನ ಹೇಳಿಕೆಗಳನ್ನು ಪರಿಗಣಿಸಿ :

- A. ಕೃಷ್ಣಾ ಮತ್ತು ತುಂಗಭದ್ರಾ ಪ್ರದೇಶಗಳ ನಡುವಣ ಪ್ರದೇಶ
- B. ಕೃಷ್ಣಾ ಗೋದಾವರಿ ಪ್ರಸ್ಥಭೂಮಿ
- C. ಮರಾಠಾವಾಡಾ ದೇಶ

ಮೇಲಿನವುಗಳಲ್ಲಿ ಯಾವುದರ ಕುರಿತಾದ ಘರ್ಷಣೆಯನ್ನು ವಿಜಯನಗರ ಮತ್ತು ಬಹಮನಿ ಸಾಮ್ರಾಜ್ಯದ ನಡುವಣ ಹೋರಾಟದ ಕಾರಣಗಳಾಗಿ ಪರಿಗಣಿಸಬಹುದು :

ಸಂಕೇತಗಳ ಸಹಾಯದಿಂದ ಸರಿ ಉತ್ತರಗಳನ್ನು ಆರಿಸಿ :

- (1) A ಮಾತ್ರ
- (2) A ಮತ್ತು B ಮಾತ್ರ
- (3) B ಮತ್ತು C ಮಾತ್ರ
- (4) A, B ಮತ್ತು C

87. ಭಾರತದ ರಾಜ್ಯಗಳಲ್ಲಿ ಕೆಳಗಿನ ಯಾವ ರಾಜ್ಯಗಳು ಮೊಗಲರ ಅವಧಿಯಲ್ಲಿ ಮತ್ತು ಸುಲ್ತಾನರಲ್ಲಿ ಅಹೊಂ ಮನೆತನದವರ ಆಳ್ವಿಕೆ ಗೊಳಪಟ್ಟಿದ್ದವು ?

- (1) ಕೇರಳ
- (2) ಕಾಶ್ಮೀರ್
- (3) ದಕ್ಷಿಣ ಕರ್ನಾಟಕ
- (4) ಅಸ್ಸಾಂ

88. ಇಬ್ರಾಹಿಂ ಲೋದಿಯ ವಿರುದ್ಧ ಸಂಚು ಮಾಡಿದ ಮತ್ತು ದೆಹಲಿಯನ್ನು ಆಕ್ರಮಣ ಮಾಡಲು ಬಾಬರ್‌ನನ್ನು ಆಹ್ವಾನಿಸಿದ್ದು ಕೆಳಗಿನವರಲ್ಲಿ ಯಾರು ?

- (1) ಬಹೋಲ್ ಲೋದಿ
- (2) ದೌಲತ್ ಖಾನ್ ಲೋದಿ
- (3) ಸಿಕಂದರ್ ಲೋದಿ
- (4) ಮೇಲಿನ ಯಾರೂ ಅಲ್ಲ

89. ಇಸ್ಮೋದ ಮೊದಲ ಮಾನವ ಬಾಹ್ಯಾಕಾಶ ನೌಕೆ 'ಗಗನ್‌ಯಾನ' ದ ಕಾರ್ಯಕ್ರಮದ ಸಹಯೋಗಕ್ಕಾಗಿ ಭಾರತದೊಂದಿಗೆ ಯಾವ ದೇಶವು ಒಪ್ಪಂದ ಮಾಡಿಕೊಂಡಿತು ?

- (1) ಜರ್ಮನಿ
- (2) ಫ್ರಾನ್ಸ್
- (3) ಜಪಾನ್
- (4) ಯುನೈಟೆಡ್ ಸ್ಟೇಟ್ಸ್

85. The rulers of Bahmani Kingdom encouraged the development of art and architecture in the form of city buildings, mosques, and fortresses. Which of the following statements in this context is incorrect ?

- (1) The city of Hyderabad was formed by Ibrahim Adil Shah of Bijapur.
- (2) Gol Gumbaz of Bijapur, the mausoleum of Mohammad Adil Shah is the largest dome in India.
- (3) The Char Minar of Hyderabad was built by Mohammad Quli Qutb Shah of Qutb Shahi dynasty of Golkonda.
- (4) Mahmud Gawan built a college at Bidar.

86. Consider the following :

- A. Region between Krishna and Tungabhadra
- B. The Krishna Godavari Delta
- C. Marathwada Colony

A conflict over which among the above is considered to be the reasons of struggle between Vijayanagara and Bahmani ?

Select the code for the correct answer from the options given below :

- (1) A only
- (2) A and B only
- (3) B and C only
- (4) A, B and C

87. Which of the following states of India was ruled by the Ahom Dynasty in Sultanate and Mughal period ?

- (1) Kerala
- (2) Kashmir
- (3) South Karnataka
- (4) Assam

88. Who among the following conspired against Ibrahim Lodi and invited Babur to invade Delhi ?

- (1) Bahlol Lodi
- (2) Daulat Khan Lodi
- (3) Sikandar Lodi
- (4) None of the above

89. Which country has signed a pact with India to collaborate on ISRO's first human space program 'Gaganyaan' ?

- (1) Germany
- (2) France
- (3) Japan
- (4) United States

90. 2018 ರ ಅಕ್ಟೋಬರ್ 2 ರಂದು ಭಾರತದ ಈಗಿನ ಮುಖ್ಯ ನ್ಯಾಯಾಧೀಶರಾದ ಶ್ರೀ ದೀಪಕ್ ಮಿಶ್ರಾ ನಿವೃತ್ತಿಯ ನಂತರ ಯಾರು ಭಾರತದ 46 ನೇ ಮುಖ್ಯ ನ್ಯಾಯಾಧೀಶರಾಗುವರು ?

- (1) ಶ್ರೀ ರಂಜನ್ ಗೋಗೋಯ್
- (2) ಶ್ರೀ ಮದನ್ ಲೋಕುರ್
- (3) ಶ್ರೀ ಕುರಿಯನ್ ಜೊಸೆಫ್
- (4) ಶ್ರೀ ಅರಜೆನ್ ಕುಮಾರ್ ಸಿಬ್ಬಿ

91. ದೆಹಲಿಯಲ್ಲಿನ ಅವರ ಆಳ್ವಿಕೆಯಲ್ಲಿ ಕೆಳಗಿನವರುಗಳನ್ನು ಕಾಲಾನುಕ್ರಮಣಿಕೆಯ ಅನುಸಾರವಾಗಿ ಜೋಡಿಸಿ :

- A. ರಝಿಯಾ
- B. ಬಲ್ಪನ್
- C. ಇಲ್ಲತಮಿಷ್
- D. ನಾಸಿರುದ್ದೀನ್

ಕೆಳಗೆ ನೀಡಿರುವ ಆಯ್ಕೆಗಳಿಂದ ಸರಿಯಾದ ಉತ್ತರಕ್ಕಾಗಿ ಸಂಕೇತವನ್ನಾರಿಸಿ :

- (1) D, A, C, B
- (2) A, C, D, B
- (3) A, B, C, D,
- (4) C, A, D, B

92. ಷೇಕ್-ಇ-ಬೇಖಬರ್ ಎಂಬುದಾಗಿ ಕೆಳಗಿನ ಯಾವ ಮೊಘಲ್ ಸಾಮ್ರಾಟ ಖ್ಯಾತನಾಗಿದ್ದಾನೆ ?

- (1) ಷಾ ಅಲಂ
- (2) ಜಹಾಂಗೀರ್
- (3) ಷಹಜಹಾನ್
- (4) ಬಹಾದ್ದೂರ್ ಷಾ I

93. ಈ ಕೆಳಗಿನ ಯಾವ ಸಾರ್ವಜನಿಕ ಸಾಮಾನ್ಯ ವಿಮಾ ಕಂಪನಿಗಳನ್ನು ವಿಲೀನಗೊಳಿಸಿ ಒಂದೇ ವಿಮಾ ಕಂಪನಿಯಾಗಿ 2018 - 19 ರ ಆಯವ್ಯಯದಲ್ಲಿ ರೂಪಿಸಲಾಯಿತು ?

- (1) ಯುನೈಟೆಡ್ ಇಂಡಿಯಾ ಇನ್ಶೂರೆನ್ಸ್, ಓರಿಯಂಟಲ್ ಇನ್ಶೂರೆನ್ಸ್ ಮತ್ತು ನ್ಯಾಷನಲ್ ಇನ್ಶೂರೆನ್ಸ್
- (2) LIC, ಭಾರತಿ AXA ಮತ್ತು ಯುನೈಟೆಡ್ ಇನ್ಶೂರೆನ್ಸ್
- (3) ಜನರಲ್ ಇನ್ಶೂರೆನ್ಸ್, ಮ್ಯಾಕ್ಸ್ ಬುಪಾ ಮತ್ತು UTI
- (4) ಅಗ್ರಿಕಲ್ಚರಲ್ ಇನ್ಶೂರೆನ್ಸ್ ಕಂಪನಿ ಆಫ್ ಇಂಡಿಯಾ ಲಿಮಿಟೆಡ್, ಭಾರತಿ AXA ಮತ್ತು ಯುನೈಟೆಡ್ ಇನ್ಶೂರೆನ್ಸ್

94. ಭಾರತದಲ್ಲಿ ಪ್ರಸ್ತುತ ಕೊರತೆ ಖಾತೆಗೆ ಕಾರಣವಾಗುವ ಬಹುತೇಕ ಸಾಧ್ಯತೆಯು ಕೆಳಗಿನವುಗಳಲ್ಲಿ ಯಾವುದು ?

- A. ಕ್ರೀಡಾ ಉಪಯುಕ್ತತೆಯ ವಾಹನಗಳ ಮೇಲಿನ ಕಡಿತಗೊಳಿಸಿದ ಸುಂಕ ತೆರಿಗೆಗಳು
 - B. ಚಿನ್ನದ ಮೇಲಿನ ಸುಂಕ ಕಡಿತ
 - C. ಈರುಳ್ಳಿಯ ರಫ್ತು ಮೇಲಿನ ನಿಷೇಧ
- ಕೆಳಗೆ ನೀಡಿರುವ ಆಯ್ಕೆಗಳಿಂದ ಸರಿಯಾದ ಉತ್ತರಕ್ಕಾಗಿ ಸಂಕೇತವನ್ನಾರಿಸಿ :

- (1) A ಮತ್ತು B ಮಾತ್ರ
- (2) B ಮತ್ತು C ಮಾತ್ರ
- (3) A ಮತ್ತು C ಮಾತ್ರ
- (4) A, B ಮತ್ತು C

90. Who will become the 46th Chief Justice of India after Shri Dipak Misra retires on 2nd October 2018 ?

- (1) Shri Ranjan Gogoi
- (2) Shri Madan Lokur
- (3) Shri Kurion Joseph
- (4) Shri Arjen Kumar Sibri

91. Arrange the following in chronological sequence of their rule at Delhi :

- A. Razia
- B. Balban
- C. Iltutmish
- D. Nasiruddin

Select the code for the correct answer from the options given below :

- (1) D, A, C, B
- (2) A, C, D, B
- (3) A, B, C, D,
- (4) C, A, D, B

92. Which of the following Mughal emperors was known as Shah-i-Bekhabar ?

- (1) Shah Alam
- (2) Jahangir
- (3) Shahjahan
- (4) Bahadur Shah I

93. Which of the following three public general insurance companies will be merged into single insurance company as per Budget 2018 – 19 ?

- (1) United India Insurance, Oriental Insurance and National Insurance
- (2) LIC, Bharti AXA and United Insurance
- (3) General Insurance, Max Bupa and UTI
- (4) Agriculture Insurance Company of India Limited, Bharti AXA and United Insurance

94. Which of the following is most likely to cause current account deficit in India ?

- A. Reduced excise duties on Sports Utility Vehicles
- B. Reduced duties on Gold
- C. Ban on export of Onions

Select the code for the correct answer from the options given below :

- (1) A and B only
- (2) B and C only
- (3) A and C only
- (4) A, B and C

95. ಶೇವಿಂಗ್ ಬ್ರಷ್‌ನ್ನು ಮುಳುಗಿಸಿ ನಂತರ ನೀರಿನಿಂದ ಹೊರತೆಗೆದಾಗ, ಅದರ ಕೂದಲುಗಳು (ಎಳೆಗಳು) ಈ ಕೆಳಗಿನ ಯಾವ ಗುಣ ಲಕ್ಷಣದ ಕಾರಣದಿಂದ ಒಟ್ಟಿಗೇ ಅಂಟಿಕೊಳ್ಳುತ್ತವೆ ?

- (1) ಘರ್ಷಣೆ
- (2) ಸ್ಥಿತಿಸ್ಥಾಪಕತ್ವ
- (3) ಸ್ನಿಗ್ಧತೆ
- (4) ಮೇಲ್ಮೈ ಕರ್ಷಣ

96. ಹೊಸ ಕಂಪ್ಯೂಟರುಗಳನ್ನು ಒಂದು ಕಂಪನಿಯು ಸ್ಥಾಪಿಸಿ ಮತ್ತು ಉದ್ಯೋಗಿಗಳನ್ನು ಅವರಿಗೆ ಆ ಕಂಪ್ಯೂಟರ್ ಜ್ಞಾನವಿಲ್ಲವೆಂದು ವಜಾ ಮಾಡಿದರೆ ಅಂತಹ ನಿರುದ್ಯೋಗವನ್ನು ಯಾವ ರೀತಿಯ ನಿರುದ್ಯೋಗ ಎಂದು ಕರೆಯುತ್ತಾರೆ ?

- (1) ಮುಸುಕಿನ ನಿರುದ್ಯೋಗ
- (2) ರಾಚನಿಕ ನಿರುದ್ಯೋಗ
- (3) ಮುಚ್ಚಿಟ್ಟ ನಿರುದ್ಯೋಗ
- (4) ಘರ್ಷಣಾತ್ಮಕ ನಿರುದ್ಯೋಗ

97. ಅಂತರರಾಷ್ಟ್ರೀಯ ಕಾರ್ಮಿಕ ದಿನಾಚರಣೆಯ 2018 ಆಶಯ ವಿಷಯವೇನು ?

- (1) ಕಾರ್ಮಿಕ ಸಾಮರ್ಥ್ಯದ ಆಚರಣೆ
- (2) ಸಾಮಾಜಿಕ ಮತ್ತು ಆರ್ಥಿಕ ಮುನ್ನಡೆಗಾಗಿ ಶ್ರಮಿಕರನ್ನು ಸಂಘಟನೆ ಸಂಘಟಿಸುವುದು
- (3) ಉದ್ಯೋಗಕ್ಕಾಗಿ ನಾವೀನ್ಯತೆ ಹಾಗೂ ಉದ್ಯಮಶೀಲತೆ
- (4) ಅಂತರರಾಷ್ಟ್ರೀಯ ಕಾರ್ಮಿಕ ಚಳುವಳಿಯ ಆಚರಣೆ

98. ಪ್ರಧಾನ ಮಂತ್ರಿಯವರ ಆರ್ಥಿಕ ಸಲಹಾ ಸಮಿತಿಯ ಇತ್ತೀಚಿನ ಅಧ್ಯಕ್ಷರು ಯಾರು ?

- (1) ಡಾ. ಸಿ. ರಂಗರಾಜನ್
- (2) ಡಾ. ಸುಬ್ರಮಣ್ಯಮ್ ಸ್ವಾಮಿ
- (3) ಡಾ. ಸುಮಿತ್ರಾ ಚೌಧರಿ
- (4) ಶ್ರೀ ಬಿಬೇಕ ದೆಬ್‌ರಾಯ್

99. ವಿಶ್ವ ಆರೋಗ್ಯ ಸಂಸ್ಥೆಯ ಕಾರ್ಯಕ್ರಮಗಳಿಗಾಗಿ ಉಪ ಮಹಾ ನಿರ್ದೇಶಕರಾಗಿ ಇತ್ತೀಚೆಗೆ ನೇಮಕ ಹೊಂದಿದ ಭಾರತೀಯ ಮಹಿಳೆ ಯಾರು ?

- (1) ಡಾ. ಸೊಮಯ ಸ್ವಾಮಿನಾಥನ್
- (2) ಡಾ. ಸರೋಜಾ ವೈದ್ಯನಾಥನ್
- (3) ಡಾ. ಸೊಮದುರ್ಗ್ ರಾಜನಾಥನ್
- (4) ಡಾ. ಸುಕಯಾ ಬಾಲಾ

100. ಇತ್ತೀಚೆಗೆ ಪರಿಸರ, ಅರಣ್ಯಗಳು ಮತ್ತು ವಾಯುಗುಣ ಬದಲಾವಣೆಯ ಸಚಿವಾಲಯದಿಂದ ಬಿಡುಗಡೆಯಾದ ಕೈಗಾರಿಕೆಗಳ ಪುನರ್ ವಿಂಗಡಣೆಯಲ್ಲಿ ಯಾವ ವರ್ಗದ ಕೈಗಾರಿಕೆಗಳಿಗೆ ಅವು ಮಾಲಿನ್ಯಕಾರಕವಲ್ಲವೆಂದೂ) ಅವುಗಳಿಗೆ ಪರಿಸರಾತ್ಮಕ ಒಪ್ಪಿಗೆ ಮತ್ತು ಪ್ರಾಯೋಗಿಕವಾಗಿ ತೀರುವಳಿ ಬೇಕಿಲ್ಲವೆನ್ನಲಾಗಿದೆ ?

- (1) ಕೆಂಪು
- (2) ಬಿಳಿ
- (3) ಹಸಿರು
- (4) ಕಿತ್ತಳೆ

- 95.** When a shaving brush is dipped and then taken out of water, its hair adheres together due to which of the following properties ?
- (1) Friction
 - (2) Elasticity
 - (3) Viscosity
 - (4) Surface Tension
- 96.** If new computers are being installed in a company and some employees are fired from the job due to lack of computer knowledge, then what kind of unemployment will it be called ?
- (1) Disguised unemployment
 - (2) Structural unemployment
 - (3) Hidden unemployment
 - (4) Frictional unemployment
- 97.** What is the theme of 2018 International Labour Day ?
- (1) Celebrating the power of labour
 - (2) Uniting workers for social and economic advancement
 - (3) Innovation and entrepreneurship for employment
 - (4) Celebrating international labour movement
- 98.** Who is the present Chairman of the Prime Minister's Economic Advisory Council (PMEAC) ?
- (1) Dr. C. Rangarajan
 - (2) Dr. Subramaniam Swamy
 - (3) Dr. Sumitra Chaudhary
 - (4) Sri Bibek Debroy
- 99.** An Indian woman, who was recently appointed as the Deputy Director General for Programmes (DDP) of the World Health Organization (WHO) is
- (1) Dr. Soumya Swaminathan
 - (2) Dr. Saroja Vaidyanathan
 - (3) Dr. Somdurge Rajnathan
 - (4) Dr. Sukaya Bala
- 100.** In the recently released recategorisation of industries by the Ministry of Environment, Forests and Climate Change, which category of industries would not require environmental consent and clearance as practically they are not polluting ?
- (1) Red
 - (2) White
 - (3) Green
 - (4) Orange


SPACE FOR ROUGH WORK

SPACE FOR ROUGH WORK

2018

Question Paper Version Code

QUESTION BOOKLET
GENERAL KNOWLEDGE



SUBJECT CODE : 291

Time Allowed : $1\frac{1}{2}$ Hours

Maximum Marks : 100

INSTRUCTIONS

1. Immediately after the commencement of the Examination, you should check that this Question Booklet does NOT have any unprinted or torn or missing pages or questions etc. If so, get it replaced by a complete 'Question Booklet' of the same Question Paper Version Code as printed in your OMR Answer Sheet.
 2. **Candidate has to ensure that Question Paper Version Code of the Question Booklet given is same as the Question Paper Version Code printed on OMR Answer Sheet. Discrepancy, if any should be reported to the Invigilator and a new Question Booklet should be taken whose Question Paper Version Code tallies with the Question Paper Version Code printed on the OMR Answer Sheet.**
 3. You have to enter your Register Number in the Question Booklet in the box provided alongside.
DO NOT write anything else on the Question Booklet.
- | Register Number | | | | | | |
|-----------------|--|--|--|--|--|--|
| | | | | | | |
4. **This Question Booklet contains 100 questions.** Each question contains **four** responses (answers). Select the response which you want to mark on the Answer Sheet. In case you feel that there is more than one correct response, mark the response which you consider the most appropriate. In any case, choose **ONLY ONE RESPONSE** for each question.
 5. All the responses should be marked **ONLY** on the separate OMR Answer Sheet provided and **ONLY** in **Black or Blue Ball Point Pen**. See detailed instructions in the OMR Answer Sheet.
 6. All questions carry equal marks. **Attempt all questions.** Every question for which wrong answer has been given by the candidate, $\frac{1}{4}$ th (0.25) of the marks assigned for that question will be deducted.
 7. Sheets for rough work are appended in the Question Booklet at the end. You should not make any marking on any other part of the Question Booklet.
 8. Immediately after the final bell indicating the conclusion of the examination, stop making any further markings in the OMR Answer Sheet. Be seated till the OMR Answer Sheets are collected and accounted for by the Invigilator.
 9. **Questions are printed both in Kannada and English. If any confusion arises in the Kannada Version, please refer to the English Version of the questions. Please note that in case of any confusion the English Version of the Question Booklet is final.**

Possession of Mobile Phones, Calculators and other Electronic/Communication gadgets
of any kind is prohibited inside the Examination venue.

ಗಮನಿಸಿ: ಸೂಚನೆಗಳ ಕನ್ನಡ ಆವೃತ್ತಿಯು ಈ ಪ್ರಶ್ನೆ ಪುಸ್ತಿಕೆಯ ಮುಂಭಾಗದಲ್ಲಿ ಮುದ್ರಿಸಲ್ಪಟ್ಟಿದೆ.