

DO NOT OPEN THIS QUESTION BOOKLET UNTIL YOU ARE ASKED TO DO SO

Version Code

A

SUBJECT CODE : 38

**QUESTION BOOKLET
GENERAL STUDIES**

Time Allowed : 1½ Hours

Maximum Marks : 200

INSTRUCTIONS

1. Immediately after the commencement of the Examination, before writing the Question Booklet Version Code in the OMR sheet, you should check that this Question Booklet does NOT have any unprinted or torn or missing pages or questions etc. If so, get it replaced by a complete 'Question Booklet' of the available series.
2. **Write and encode clearly the Register Number and Question Booklet Version Code A, B, C or D as the case may be, in the appropriate space provided for that purpose in the OMR Answer Sheet. Also ensure that candidate's signature and Invigilator's signature columns are properly filled in. Please note that it is candidate's responsibility to fill in and encode these particulars and any omission/discrepancy will render the OMR Answer Sheet liable for Rejection.**
3. You have to enter your Register Number in the Question Booklet in the box provided alongside.

Register Number

 DO NOT write anything else on the Question Booklet.
4. **This Question Booklet contains 100 questions.** Each question contains **four** responses (choices/options). Select the answer which you want to mark on the Answer Sheet. In case you feel that there is more than one correct response, mark the response which you consider the most appropriate. In any case, choose *ONLY ONE RESPONSE* for each question.
5. All the responses should be marked **ONLY** on the separate OMR Answer Sheet provided and **ONLY** in Black or Blue Ballpoint Pen. See instructions in the OMR Answer Sheet.
6. **All questions carry equal marks. Attempt all questions.**
7. Sheets for rough work are appended in the Question Booklet at the end. You should not make any marking on any other part of the Question Booklet.
8. Immediately after the final bell indicating the conclusion of the examination, stop making any further markings in the Answer Sheet. Be seated till the Answer Sheets are collected and accounted for by the Invigilator.
9. **Questions are printed both in English and Kannada. If any confusion arises in the Kannada Version, refer to the English Version of the questions. Please Note that in case of any confusion the English Version of the Question Booklet is final.**

Use of Mobile Phones, Calculators and other Electronic/Communication gadgets of any kind is prohibited inside the Examination venue.

38-A



ಗಮನಿಸಿ : ಸೂಚನೆಗಳ ಕನ್ನಡ ಆವೃತ್ತಿಯು ಈ ಪ್ರಶ್ನೆ ಪುಸ್ತಿಕೆಯ ಹಿಂಭಾಗದಲ್ಲಿ ಮುದ್ರಿಸಲ್ಪಟ್ಟಿದೆ.

1. ಭಾರತದಲ್ಲಿ ಸೇವೆ ಸಲ್ಲಿಸಿದ ಫ್ರೆಂಚ್ ಗವರ್ನರ್ ಜನರಲ್ ಗಳನ್ನು ಹೆಸರಿಸಿರಿ.

1. ಕೋಲ್ಕತ್ತಾ ಹಾಗೂ ಡೂಪ್ಲೆ
 2. ಕೌಂಟ್ ಡಿ. ಲಾಲಿ ಹಾಗೂ ಲೇನಿಯರ್
 3. ಬುಸ್ಸಿ ಹಾಗೂ ಡೂಮಾಸ್
 4. ಡೂಮಾಸ್ ಹಾಗೂ ಡೂಪ್ಲೆ
- (a) 1 ಮತ್ತು 4 (b) 2 ಮತ್ತು 4
(c) 1 ಮತ್ತು 3 (d) 3 ಮತ್ತು 4

2. ಈ ಕೆಳಗಿನ ಪಿಂಡಾರಿಗಳ ನಾಯಕರುಗಳನ್ನು ಆಯ್ಕೆ ಮಾಡಿರಿ.

1. ಚೀತು ಹಾಗೂ ಕರೀಂ ಖಾನ್
 2. ಹಫೀಲ್ ರಹಮತ್ ಖಾನ್ ಹಾಗೂ ಮಹಮ್ಮದ್ ರೇಜಾಖಾನ್
 3. ಅಮೀರ್ ಖಾನ್ ಹಾಗೂ ಕರಿಂ ಖಾನ್
 4. ಕರೀಂ ಖಾನ್ ಹಾಗೂ ಹಫೀಲ್ ರಹಮತ್ ಖಾನ್
- (a) 1 ಮತ್ತು 4 (b) 1 ಮತ್ತು 3
(c) 4 ಮತ್ತು 2 (d) 2 ಮತ್ತು 1

3. ಯಾವಾಗ ಹಾಗೂ ಯಾರಿಂದ ಭಾರತದಲ್ಲಿ ಶಸ್ತ್ರಾಸ್ತ್ರ ಕಾಯ್ದೆ ಜಾರಿಗೊಂಡಿತು ?

- (a) 1876 – ಲಾರ್ಡ್ ಕ್ಯಾನಿಂಗ್
- (b) 1881 – ಲಾರ್ಡ್ ರಿಪ್ಲೆನ್
- (c) 1878 – ಲಾರ್ಡ್ ಲಿಟ್ಟನ್
- (d) 1856 – ಲಾರ್ಡ್ ಡಾಲ್‌ಹೌಸಿ

4. ಈ ಕೆಳಗಿನ ಯಾವ ಭಾರತ ಸರ್ಕಾರ ಕಾಯ್ದೆ (Act) ಯಲ್ಲಿ ಈ ಕೆಳಗಿನ ಸೌಲಭ್ಯಗಳನ್ನು ಒದಗಿಸಲಾಗಿದೆ.

1. ಕೇಂದ್ರ ಶಾಸಕಾಂಗ ಮಂಡಳಿಯ ಹೆಚ್ಚುವರಿ ಸದಸ್ಯರ ಸಂಖ್ಯೆಯು 16 ರಿಂದ 60 ಕ್ಕೆ ಏರಿಸಲಾಯಿತು.
 2. ಭಾರತದ ಕಾರ್ಯದರ್ಶಿ ಮಂಡಳಿಯ ಸದಸ್ಯರ ಸಂಖ್ಯೆಯನ್ನು 10 ರಿಂದ 14 ಕ್ಕೆ ಏರಿಸಲಾಯಿತು.
- (a) 1858 ರ ಕಾಯ್ದೆ
(b) 1909 ರ ಕಾಯ್ದೆ
(c) 1919 ರ ಕಾಯ್ದೆ
(d) 1935 ರ ಕಾಯ್ದೆ

5. ಈ ಕೆಳಗಿನ ಯಾವ ಶಾಸನ (ಶಿಲಾ ಶಾಸನವು) ಕದಂಬರ ಮೂಲ, ಅವರ ರಾಜಧಾನಿ, ಅವರ ಗೋತ್ರ, ಅವರ ಲಾಂಛನ ಹಾಗೂ ಅವರ ಧ್ವಜವನ್ನು ಕುರಿತು ವಿವರಿಸುತ್ತದೆ ?

- (a) ಹಲ್ಮಿಡಿ ಶಾಸನ
- (b) ಗುಡ್ನಾಪುರ ಶಾಸನ
- (c) ತಾಳಗುಂದ ಶಾಸನ
- (d) ಚಂದ್ರವಳ್ಳಿ ಶಾಸನ

6. ಶಿವಪ್ರನಾಯಕನ ಶಿಸ್ತು ಏನನ್ನು ಸೂಚಿಸುತ್ತದೆ ?

- (a) ಸೈನಿಕ ಸಾಧನೆಗಳು
- (b) ಆಡಳಿತಾತ್ಮಕ ಸುಧಾರಣೆಗಳು
- (c) ಭೂ ಕಂದಾಯ ವ್ಯವಸ್ಥೆ
- (d) ಧಾರ್ಮಿಕ ಚಟುವಟಿಕೆಗಳು

1. Name the French Governor Generals served in India :
 1. Colbert and Duplex
 2. Count D. Lally and Lenior
 3. Bussy and Dumas
 4. Dumas and Duplex
 - (a) 1 and 4
 - (b) 2 and 4
 - (c) 1 and 3
 - (d) 3 and 4

2. Select the following Leaders who belong to Phindaries :
 1. Chithu and Karim Khan
 2. Hafiz Rahamath Khan and Muhammad Raja Khan
 3. Amir Khan and Karim Khan
 4. Karim Khan and Hafiz Rahamath Khan
 - (a) 1 and 4
 - (b) 1 and 3
 - (c) 4 and 2
 - (d) 2 and 1

3. When and who passed the Arms Act in India ?
 - (a) 1876 – Lord Canning
 - (b) 1881 – Lord Rippon
 - (c) 1878 – Lord Lytton
 - (d) 1856 – Lord Dalhousie

4. Which of the following Act of Govt. of India Act gives provision to :
 1. In Central Legislator increased the additional members from 16 to 60.
 2. Increase the members 10 to 14 to the Board of Secretary of State for India.
 - (a) Act of 1858
 - (b) Act of 1909
 - (c) Act of 1919
 - (d) Act of 1935

5. Which of the following inscription deals with the origin of Kadambas, their Capital, their Gotra, their Emblem, their Flag etc ?
 - (a) Halmidi Inscription
 - (b) Gudnapur Inscription
 - (c) Talagunda Inscription
 - (d) Chandravalli Inscription

6. Sivappa Nayakana Sistu belongs to his
 - (a) Military Achievements
 - (b) Administrative Reforms
 - (c) Land Revenue System
 - (d) Religious Activities

7. ಮೈಸೂರಿನ ಈಗಿರುವ ಅಂಬಾ ವಿಲಾಸ ಅರಮನೆಯನ್ನು ಯಾರು ನಿರ್ಮಿಸಿದರು ?

- (a) ಯದುರಾಯ ಒಡೆಯರ್
- (b) IV ನೇ ಕೃಷ್ಣರಾಜ ಒಡೆಯರ್
- (c) ಚಿಕ್ಕದೇವರಾಜ ಒಡೆಯರ್
- (d) ಮುಮ್ಮಡಿ ಕೃಷ್ಣರಾಜ ಒಡೆಯರ್

8. ಎಲ್ಲಿ ಹಾಗೂ ಯಾವಾಗ ಭಾರತದ ರಾಷ್ಟ್ರೀಯ ಕಾಂಗ್ರೆಸ್ಸಿನ ಪ್ರಥಮ ಅಧಿವೇಶನ ಜರುಗಿತು ? ಹಾಗೂ ಈ ಅಧಿವೇಶನದ ಪ್ರಥಮ ಅಧ್ಯಕ್ಷತೆ ಯಾರು ವಹಿಸಿದ್ದರು ?

- (a) ಪೂನಾ - 1885 - W.C. ಬ್ಯಾನರ್ಜಿ
- (b) ಮುಂಬೈ - 1885 - W.C. ಬ್ಯಾನರ್ಜಿ
- (c) ಮುಂಬೈ - 1885 - ಎ.ಓ. ಹ್ಯಾಮ
- (d) ಪೂನಾ - 1885 - ಸುರೇಂದ್ರನಾಥ್ ಬ್ಯಾನರ್ಜಿ

9. 1881 ರ ಫ್ಯಾಕ್ಟರಿ ಆಕ್ಟ್ ನ್ನು ಜಾರಿಗೆ ತಂದವರು

- (a) ಲಾರ್ಡ್ ರಿಪ್ಪನ್
- (b) ಲಾರ್ಡ್ ಇಲ್ಚಟ್
- (c) ಲಾರ್ಡ್ ಹಾರ್ಡಿಂಜ್
- (d) ಲಾರ್ಡ್ ಲಿಟ್ಟನ್

10. ಸರ್ ಥಾಮಸ್ ರೇಲಿಷ್ ಸಮಿತಿಯನ್ನು ರಚಿಸಿದ ಉದ್ದೇಶ

- (a) ಶೈಕ್ಷಣಿಕ ಸುಧಾರಣೆಗೆ
- (b) ರೈಲ್ವೆ ಸುಧಾರಣೆಗೆ
- (c) ವಾಣಿಜ್ಯ ಸುಧಾರಣೆಗೆ
- (d) ಹಣಕಾಸಿನ ಸುಧಾರಣೆಗೆ

11. 'ತತ್ವ ಬೋಧಿನಿ ಸಭಾ' ವನ್ನು ಸ್ಥಾಪಿಸಿದವರು

- (a) ಕೇಶವಚಂದ್ರ ಸೇನ್
- (b) ದೇವೇಂದ್ರನಾಥ ಠಾಗೋರ್
- (c) ರಾಜಾ ರಾಧಾಕಾಂತ್ ದೇವ
- (d) ಆಚಾರ್ಯ ಕ್ರಿಪಲಾನಿ

12. _____ ರ ಕಾಯ್ದೆಯು ದ್ವಿಪ್ರಭುತ್ವ ಪದ್ಧತಿಯನ್ನು ಜಾರಿಗೆ ತಂದಿತು ?

- (a) 1916 ರ ಕಾಯ್ದೆ
- (b) 1919 ರ ಕಾಯ್ದೆ
- (c) 1935 ರ ಕಾಯ್ದೆ
- (d) 1930 ರ ಕಾಯ್ದೆ

13. ಹಣ್ಣುಗಳ ಕೃಷಿಯ ಪ್ರದೇಶವು ಸಾಮಾನ್ಯವಾಗಿ ಈ ಕೆಳಕಂಡ ಅಕ್ಷಾಂಶಗಳ ನಡುವೆ ಕಂಡು ಬರುತ್ತದೆ ?

- (a) 30-40 ಡಿಗ್ರಿ ಉತ್ತರ ಮತ್ತು ದಕ್ಷಿಣ
- (b) 10-20 ಡಿಗ್ರಿ ಉತ್ತರ ಮತ್ತು ದಕ್ಷಿಣ
- (c) 10-10 ಡಿಗ್ರಿ ಉತ್ತರ ಮತ್ತು ದಕ್ಷಿಣ
- (d) 20-30 ಡಿಗ್ರಿ ಉತ್ತರ ಮತ್ತು ದಕ್ಷಿಣ

7. Who constructed the present Ambavilasa Palace at Mysore ?
- (a) Yadhuraya Wodeyar
 - (b) Krishnaraja Wodeyar IV
 - (c) Chikkadevaraja Wodeyar
 - (d) Krishnaraja Wodeyar III
8. Where and when did the first Conference of Indian National Congress take place ? Who was the first President of this Conference ?
- (a) Pune – 1885 – W.C. Bannerjee
 - (b) Bombay – 1885 – W.C. Bannerjee
 - (c) Bombay – 1885 – A.O. Hume
 - (d) Pune – 1885 – Surendranath Bannerjee
9. Factory Act of 1881 was implemented by
- (a) Lord Ripon
 - (b) Lord Ilbert
 - (c) Lord Hardinge
 - (d) Lord Lytton
10. Sir Thomas Raleigh Committee was appointed to suggest reform in the field of
- (a) Education (b) Railway
 - (c) Commerce (d) Finance
11. 'Tatva Bodhini Sabha' was established by
- (a) Keshavachandra Sen
 - (b) Devendranath Tagore
 - (c) Raja Radhakanta Dev
 - (d) Acharya Kripalani
12. Dyarchy was implemented by the Act of
- (a) 1916 Act (b) 1919 Act
 - (c) 1935 Act (d) 1930 Act
13. Which of these latitudes given below are best suited for fruit cultivation ?
- (a) 30-40 degree North and South
 - (b) 10-20 degree North and South
 - (c) 10-10 degree North and South
 - (d) 20-30 degree North and South

14. ಶಿಲೆಗಳು ಶಿಲಾಗೋಳದಲ್ಲಿ ಅತ್ಯುಷ್ಣತೆ ಮತ್ತು ಒತ್ತಡದಿಂದ ರೂಪಾಂತರಗೊಳ್ಳುತ್ತದೆ. ಸರಿಯಾದ ಜೋಡಿಯನ್ನು ಹೊಂದಿಸಿ.

ಪಟ್ಟಿ 1

ಪಟ್ಟಿ 2

- | | |
|----------------|-----------------|
| A. ಗ್ರಾನೈಟ್ | 1. ಅಮೃತ ಶಿಲೆ |
| B. ಸುಣ್ಣದಕಲ್ಲು | 2. ಗ್ನೀಸ್ |
| C. ಕಪ್ಪೆಚಿಪ್ಪು | 3. ಸೀಸ್ಟ್ |
| D. ಕಲ್ಲಿದ್ದಲು | 4. ಗ್ರಾಫೈಟ್ |
| | 5. ಕಾಂಗ್ಲೋಮರೇಟ್ |

ಕೋಡ್ :

	A	B	C	D
(a)	5	1	3	2
(b)	3	1	2	4
(c)	5	1	4	2
(d)	3	1	5	4

15. ಖಾಸಿ ಮತ್ತು ಗಾರೋ ಬುಡಕಟ್ಟಿನ ಜನರು ಭಾರತದ ಯಾವ ಪ್ರದೇಶದಲ್ಲಿ ಕಂಡು ಬರುತ್ತಾರೆ ?

- ಆಸ್ಸಾಂ
- ಮೇಘಾಲಯ
- ಒರಿಸ್ಸಾ
- ಆರುಣಾಚಲ ಪ್ರದೇಶ

16. ಭಾರತದಲ್ಲಿ ಯಾವ ರಾಜ್ಯವು ಅತಿ ಹೆಚ್ಚಿನ ಪ್ರಮಾಣದಲ್ಲಿ ಕಲ್ಲಿದ್ದಲನ್ನು ಉತ್ಪಾದಿಸುತ್ತದೆ ?

- ಒರಿಸ್ಸಾ
- ಆಂಧ್ರಪ್ರದೇಶ
- ಜಾರ್ಖಂಡ್
- ಛತ್ತೀಸ್‌ಗಡ

17. ಇದನ್ನು “ಜೀವಿ ಪ್ರಭೇದಗಳ ತೊಟ್ಟಿಲು” ಎನ್ನಲಾಗಿದೆ ?

- ಪಶ್ಚಿಮ ಘಟ್ಟಗಳ ಬಿಸಿತಾಣ
- ಆರಾವಳಿ ಪರ್ವತಗಳ ಸಾಲು
- ಪೂರ್ವ ಹಿಮಾಲಯಗಳ ಬಿಸಿತಾಣ
- ನೀಲಗಿರಿ ಬೆಟ್ಟಗಳ ತಾಣ

18. ವಿದೇಶಿ ವಿನಿಮಯ ಗಳಿಸುವುದಕ್ಕಾಗಿ ಮುಖ್ಯವಾಗಿ ಬೆಳೆಯುವ ಬೆಳೆಗಳು

- ಕಬ್ಬು, ಹತ್ತಿ ಮತ್ತು ಗೋದಿ
- ಭತ್ತ, ಕಾಫಿ, ಟೀ
- ಹೂವುಗಳು, ಹಣ್ಣುಗಳು ಮತ್ತು ತರಕಾರಿಗಳು
- ತರಕಾರಿ, ಆಹಾರ ಧಾನ್ಯಗಳು ಮತ್ತು ದ್ವಿದಳ ಧಾನ್ಯಗಳು

19. ಕಬ್ಬು ಬೆಳೆಯಲು ಅನುಕೂಲ ಇರುವ ಭೌಗೋಳಿಕ ಉಷ್ಣಾಂಶ

- 24-54 ಡಿಗ್ರಿ ಸೆಲ್ಸಿಯಸ್
- 20-28 ಡಿಗ್ರಿ ಸೆಲ್ಸಿಯಸ್
- 24-42 ಡಿಗ್ರಿ ಸೆಲ್ಸಿಯಸ್
- 25-35 ಡಿಗ್ರಿ ಸೆಲ್ಸಿಯಸ್

20. ಕರ್ನಾಟಕದ ಭೌಗೋಳಿಕ ವಿಸ್ತೀರ್ಣ

- 191791 ಚ.ಕಿ.ಮೀ.
- 203144 ಚ.ಕಿ.ಮೀ.
- 131805 ಚ.ಕಿ.ಮೀ.
- 407612 ಚ.ಕಿ.ಮೀ.

14. Match the following : In lithosphere layer, due to intense heat and pressure rocks change is to

List – 1 **List – 2**

- | | |
|--------------|-----------------|
| A. Granite | 1. Marble |
| B. Limestone | 2. Gneiss |
| C. Shell | 3. Schists |
| D. Coal | 4. Graphite |
| | 5. Conglomerate |

Codes :

- | | A | B | C | D |
|-----|---|---|---|---|
| (a) | 5 | 1 | 3 | 2 |
| (b) | 3 | 1 | 2 | 4 |
| (c) | 5 | 1 | 4 | 2 |
| (d) | 3 | 1 | 5 | 4 |

15. In which region of India, Khasi and Garo tribes are found ?

- (a) Assam
- (b) Meghalaya
- (c) Odisha
- (d) Arunachal Pradesh

16. Which State of India produces large amount of coal ?

- (a) Odisha
- (b) Andhra Pradesh
- (c) Jharkhand
- (d) Chhattisgarh

17. Which one of the following is known as the “Cradle of Biodiversity” ?

- (a) Western Ghats hotspot
- (b) Aravalli Mountain range
- (c) Eastern Himalayan hotspot
- (d) Nilgiri Mountain range

18. Name the commercial crops growing for earning foreign exchange.

- (a) Sugarcane, cotton, wheat
- (b) Paddy, coffee, tea
- (c) Flowers, fruits, vegetables
- (d) Vegetables, foodgrains, cereals

19. What is the ideal temperature required to grow Sugarcane ?

- (a) 24 degree to 54 degree Celsius
- (b) 20 degree to 28 degree Celsius
- (c) 24 degree to 42 degree Celsius
- (d) 25 degree to 35 degree Celsius

20. What is the geographical area of Karnataka ?

- (a) 191791 sq.km.
- (b) 203144 sq.km.
- (c) 131805 sq.km.
- (d) 407612 sq.km.

21. ಭಾರತದ ಭೂ ಭಾಗದಲ್ಲಿ ಈ ಕೆಳಗಿನ ಯಾವ ನದಿಯು ಹುಟ್ಟುವುದಿಲ್ಲ ?

- (a) ಮಹಾನದಿ (b) ಬ್ರಹ್ಮಪುತ್ರ
(c) ರಾವಿ (d) ಚೇನಾಬ್

22. ಗರ್ಬಾ ನೃತ್ಯ ರೂಪಕವು ಹೆಚ್ಚಾಗಿ ಎಲ್ಲಿ ಕಂಡು ಬರುತ್ತದೆ ?

- (a) ಪಂಜಾಬ್ (b) ರಾಜಸ್ಥಾನ್
(c) ಮಹಾರಾಷ್ಟ್ರ (d) ಗುಜರಾತ್

23. ಭಾರತದ ಮೊದಲ ಜೈವಿಕ ತಾಣವನ್ನು ಎಲ್ಲಿ ಸ್ಥಾಪಿಸಲಾಯಿತು ?

- (a) ನಂದಾ ದೇವಿ
(b) ಗ್ರೇಟ್ ನಿಕೋಬಾರ್
(c) ನೀಲಗಿರಿ
(d) ಮನ್ನಾರ್ ಖಾರಿ

24. ಪಟ್ಟಿ I ಮತ್ತು ಪಟ್ಟಿ II ನ್ನು ಹೊಂದಿಸಿ ಸರಿಯಾದ ಉತ್ತರವನ್ನು ಪಟ್ಟಿಗಳ ಕೆಳಗೆ ನೀಡಿರುವ ಸಂಕೇತಗಳಿಂದ ಆರಿಸಿರಿ :

ಪಟ್ಟಿ I (ಉದ್ಯೋಗಗಳು) ಪಟ್ಟಿ II (ಇರುವ ಸ್ಥಳ)

- A. ಸಿಮೆಂಟ್ 1. ಸಿಂಧಿ
B. ಕಾಗದ 2. ಊಟಿ
C. ರಸಗೊಬ್ಬರ 3. ನೇಪಾನಗರ
D. ಫೋಟೋ ಫಿಲಂ 4. ಕಟ್ಟಿ

ಸಂಕೇತಗಳು :

- | | A | B | C | D |
|-----|---|---|---|---|
| (a) | 4 | 3 | 1 | 2 |
| (b) | 1 | 2 | 4 | 3 |
| (c) | 4 | 2 | 1 | 3 |
| (d) | 1 | 3 | 4 | 2 |

25. ಕೆಳಗಿನ ಹೇಳಿಕೆಗಳನ್ನು ಗಮನಿಸಿರಿ :

1. ಸಂವಿಧಾನ ರಚನಾ ಸಭೆಯು ಪ್ರಥಮ ಬಾರಿಗೆ 9 ನೇ ಡಿಸೆಂಬರ್ 1948 ರಂದು ಸಭೆ ಸೇರಿತ್ತು.
2. ಸಂವಿಧಾನ ರಚನಾ ಸಭೆಯು 26ನೇ ನವೆಂಬರ್ 1949 ರಂದು ಸಂವಿಧಾನವನ್ನು ಅಂಗೀಕರಿಸಿತ್ತು.
3. ಭಾರತದ ಸಂವಿಧಾನವು 26ನೇ ಜನವರಿ 1950 ರಂದು ಜಾರಿಗೆ ಬಂದಿದೆ.

ಮೇಲಿನ ಹೇಳಿಕೆಗಳಲ್ಲಿ ಯಾವುದು/ಯಾವವು ಸರಿಯಾಗಿವೆ ?

- (a) 1 ಮಾತ್ರ
(b) 2 ಮತ್ತು 3 ಮಾತ್ರ
(c) 1, 2 ಮತ್ತು 3
(d) 3 ಮಾತ್ರ

26. 1976 ರಲ್ಲಿ ಭಾರತದ ಸಂವಿಧಾನದ ಪೂರ್ವ ಷರತಿಗೆ 42ನೇ ತಿದ್ದುಪಡಿಯು ಈ ಕೆಳಗಿನ ಯಾವ ಒಂದು ಪದಗಳ ಸಮೂಹವನ್ನು ಸೇರಿಸಲಾಯಿತು ?

- (a) ಸಾರ್ವಭೌಮ, ಪ್ರಜಾಸತ್ತಾತ್ಮಕ ಮತ್ತು ಗಣರಾಜ್ಯ
(b) ಸಮಾಜವಾದ, ಜಾತ್ಯಾತೀತ ಮತ್ತು ಸಮಗ್ರತೆ
(c) ನ್ಯಾಯ, ಸ್ವಾತಂತ್ರ್ಯ ಮತ್ತು ಏಕತೆ
(d) ಸ್ವಾತಂತ್ರ್ಯ, ಸಮಾನತೆ ಮತ್ತು ಭಾಷ್ಯತ್ವ

21. Which of the following river does not originate in the Indian territory ?
 (a) Mahanadi (b) Brahmaputra
 (c) Ravi (d) Chenab

22. Which is the major area where 'Garba' dance form is common ?
 (a) Punjab (b) Rajasthan
 (c) Maharashtra (d) Gujarat

23. Where did the first biosphere reserve set-up in India ?
 (a) Nanda Devi
 (b) Great Nicobar
 (c) Nilgiri
 (d) Gulf of Mannar

24. Match the List – I with List – II and select the correct answer using the codes given below the lists :

List – I (Industries)	List – II (Locations)
A. Cement	1. Sindri
B. Paper	2. Ooty
C. Fertilizer	3. Napanagar
D. Photofilm	4. Katni

Codes :

	A	B	C	D
(a)	4	3	1	2
(b)	1	2	4	3
(c)	4	2	1	3
(d)	1	3	4	2

25. Consider the following statements :

1. Constituent Assembly first met on 9 December, 1948.
2. Constituent Assembly adopted the Constitution on 26 November, 1949.
3. Constitution of India came into force on 26 January, 1950.

Which of the above statements is/are correct ?

- (a) 1 only
- (b) 2 and 3 only
- (c) 1, 2 and 3
- (d) 3 only

26. Which one of the following group of words are added to the Preamble of Indian Constitution by 42nd Amendment in 1976 ?

- (a) Sovereign, Democratic and Republic
- (b) Socialist, Secular and Integrity
- (c) Justice, Liberty and Unity
- (d) Liberty, Equality and Fraternity

27. ಕೆಳಗಿನ ಹೇಳಿಕೆಗಳನ್ನು ಗಮನಿಸಿರಿ :

1. ಹಣಕಾಸು ಮಸೂದೆಯನ್ನು ಕಡ್ಡಾಯವಾಗಿ ಮೊದಲು ಲೋಕಸಭೆಯಲ್ಲಿ ಮಂಡಿಸಬೇಕು.
2. ಲೋಕಸಭೆಯಿಂದ ಅಂಗೀಕೃತವಾದ ಹಣಕಾಸು ಮಸೂದೆಯನ್ನು ರಾಜ್ಯಸಭೆಯು ಅವಶ್ಯಕವೆನಿಸಿದರೆ ತಾನು ಇಚ್ಛಿಸುವವರೆಗೆ ತನ್ನಲ್ಲಿ ಇಟ್ಟುಕೊಳ್ಳಬಹುದು.
3. ರಾಜ್ಯಸಭೆಯು ಹಣಕಾಸು ಮಸೂದೆಯನ್ನು ತನ್ನ ಶಿಫಾರಸುಗಳೊಂದಿಗೆ 14 ದಿವಸ-ದೊಳಗಾಗಿ ಲೋಕಸಭೆಗೆ ಹಿಂದರುಗಿಸಬೇಕು.

ಮೇಲಿನ ಹೇಳಿಕೆಗಳಲ್ಲಿ ಯಾವುದು/ಯಾವವು ಸರಿಯಾಗಿವೆ ?

- (a) 1 ಮತ್ತು 2 ಮಾತ್ರ
- (b) 2 ಮತ್ತು 3 ಮಾತ್ರ
- (c) 1 ಮತ್ತು 3 ಮಾತ್ರ
- (d) All 1, 2 ಮತ್ತು 3

28. ಈ ಕೆಳಗೆ ನಮೂದಿಸಿರುವ ಯಾವ ಒಂದು ಸಂದರ್ಭದಲ್ಲಿ ಸಚಿವ ಸಂಪುಟದ ಸಲಹೆಯ ಮೇರೆಗೆ ರಾಷ್ಟ್ರಪತಿಗಳು ಸುಗ್ರೀವಾಜ್ಞೆಗಳನ್ನು ಹೊರಡಿಸುವ ಅಧಿಕಾರವನ್ನು ಹೊಂದಿದ್ದಾರೆ ?

- (a) ಸಂಸತ್ತು ಆ ವಿಷಯದಲ್ಲಿ ಕಾನೂನು ರಚಿಸಲು ವಿಫಲವಾಗಿದ್ದರೆ
- (b) ಸಂಸತ್ತು ಅಧಿವೇಶನದಲ್ಲಿ ಇಲ್ಲದಿದ್ದರೆ
- (c) ಸಂಸತ್ತಿನಲ್ಲಿ ಒಂದು ಪಕ್ಷಕ್ಕೆ ಬಹುಮತವಿಲ್ಲದಿದ್ದರೆ
- (d) ಸಂಸತ್ತಿನಲ್ಲಿ ಸರ್ಕಾರವು ಅವಿಶ್ವಾಸ ಗೊತ್ತುವಳಿಯನ್ನು ಎದುರಿಸುತ್ತಿದ್ದರೆ

29. ಕೆಳಗಿನ ಹೇಳಿಕೆಗಳನ್ನು ಗಮನಿಸಿರಿ :

1. ಭಾರತದ ಉಪ-ರಾಷ್ಟ್ರಪತಿಗಳು ಸಂಸತ್ತಿನ ಸದಸ್ಯರಿಂದ ಚುನಾಯಿತರಾಗುತ್ತಾರೆ.
2. ಭಾರತದ ಉಪ-ರಾಷ್ಟ್ರಪತಿಗಳು ರಾಜ್ಯಸಭೆಯ ಪದನಿಮಿತ್ತ (Ex-officio) ಸಭಾಪತಿಯಾಗಿರುತ್ತಾರೆ.
3. ಉಪ-ರಾಷ್ಟ್ರಪತಿಗಳ ಚುನಾವಣೆಯಲ್ಲಿ ರಾಜ್ಯ ವಿಧಾನಸಭೆಗಳ ಸದಸ್ಯರೂ ಸಹ ಮತ ಚಲಾಯಿಸುತ್ತಾರೆ.

ಮೇಲಿನ ಹೇಳಿಕೆಗಳಲ್ಲಿ ಯಾವುದು/ಯಾವವು ಸರಿಯಾಗಿವೆ ?

- (a) 1 ಮತ್ತು 2 ಮಾತ್ರ
- (b) 2 ಮತ್ತು 3 ಮಾತ್ರ
- (c) 1 ಮತ್ತು 3 ಮಾತ್ರ
- (d) ಎಲ್ಲಾ 1, 2 ಮತ್ತು 3

30. ಕೆಳಗಿನ ಹೇಳಿಕೆಗಳನ್ನು ಗಮನಿಸಿರಿ :

1. ರಾಷ್ಟ್ರಪತಿಗಳು ಲೋಕಸಭೆಯ ಬಹುಮತ ಪಡೆದ ಪಕ್ಷದ ನಾಯಕನನ್ನು ಪ್ರಧಾನ ಮಂತ್ರಿಯನ್ನಾಗಿ ನೇಮಕ ಮಾಡುತ್ತಾರೆ.
2. ಪ್ರಧಾನ ಮಂತ್ರಿಗಳು ಸಚಿವರಿಗೆ ಖಾತೆಗಳನ್ನು ಹಂಚಿಕೆ ಮಾಡುತ್ತಾರೆ.
3. ಸಂಸತ್ತಿನ ಉಭಯ ಸದನಗಳ ಸದಸ್ಯರೂ ಕೂಡ ಪ್ರಧಾನಮಂತ್ರಿಯಾಗಬಹುದು

ಮೇಲಿನ ಹೇಳಿಕೆಗಳಲ್ಲಿ ಯಾವುದು/ಯಾವವು ಸರಿಯಾಗಿವೆ ?

- (a) 1 ಮತ್ತು 2 ಮಾತ್ರ
- (b) 2 ಮತ್ತು 3 ಮಾತ್ರ
- (c) 1 ಮತ್ತು 3 ಮಾತ್ರ
- (d) ಎಲ್ಲಾ 1, 2 ಮತ್ತು 3

27. Consider the following statements :

1. Finance bill must be presented first in Lok Sabha.
2. Finance bill passed by Lok Sabha can be retained by Rajya Sabha as long as it desires necessary.
3. Rajya Sabha must pass the Finance bill or return with its recommendations to Lok Sabha within a period of 14 days.

Which of the above statements are correct ?

- (a) 1 and 2 only
- (b) 2 and 3 only
- (c) 1 and 3 only
- (d) All 1, 2 and 3

28. Which one among the following occasions President have the power to issue ordinances on the advice of Council of Ministers ?

- (a) If the Parliament fails to make law in that effect.
- (b) If the Parliament is not in session.
- (c) If the single party has no majority in Parliament.
- (d) If the Govt. is facing no confidence motion in Parliament.

29. Consider the following statements :

1. The Vice-President of India is elected by the members of Parliament.
2. The Vice-President of India is ex-officio Chairman of the Rajya Sabha.
3. The members of State Legislative Assemblies also cast their vote in election of the Vice-President.

Which of the above statements are correct ?

- (a) 1 and 2 only
- (b) 2 and 3 only
- (c) 1 and 3 only
- (d) All 1, 2 & 3

30. Consider the following statements :

1. The leader of the majority party of Lok Sabha is appointed by the President as Prime Minister.
2. The Prime Minister distribute portfolios among the Ministers.
3. The member of either House of the Parliament may become the Prime Minister.

Which of the above statements are correct ?

- (a) 1 and 2 only
- (b) 2 and 3 only
- (c) 1 and 3 only
- (d) All 1, 2 and 3

31. ಕೆಳಗಿನ ಹೇಳಿಕೆಗಳನ್ನು ಗಮನಿಸಿರಿ :

1. ಭಾರತದ ಸಂವಿಧಾನವು ಏಕೀಕೃತ ನ್ಯಾಯಾಂಗವನ್ನು ಸ್ಥಾಪಿಸಿದೆ.
2. ಸರ್ವೋಚ್ಚ ನ್ಯಾಯಾಲಯದ ನ್ಯಾಯಾಧೀಶರನ್ನು ಭಾರತದ ರಾಷ್ಟ್ರಪತಿಯವರು ನೇಮಕ ಮಾಡುತ್ತಾರೆ.
3. ಸರ್ವೋಚ್ಚ ನ್ಯಾಯಾಲಯದ ನಿವೃತ್ತ ನ್ಯಾಯಾಧೀಶರು ಭಾರತದ ಯಾವುದೇ ನ್ಯಾಯಾಲಯಗಳಲ್ಲಿ ವಕೀಲರಾಗಿ ಕೆಲಸ ಮಾಡಬಹುದು.

ಮೇಲಿನ ಹೇಳಿಕೆಗಳಲ್ಲಿ ಯಾವುದು/ ಯಾವವು ಸರಿಯಾಗಿವೆ ?

- (a) 1 ಮತ್ತು 2 ಮಾತ್ರ
- (b) 2 ಮತ್ತು 3 ಮಾತ್ರ
- (c) 1 ಮತ್ತು 3 ಮಾತ್ರ
- (d) ಎಲ್ಲಾ 1, 2 ಮತ್ತು 3

32. ರಾಜ್ಯ ವಿಧಾನ ಸಭೆಯ ಸದಸ್ಯರಾಗಲು ಈ ಕೆಳಗಿನ ಅರ್ಹತೆಗಳಲ್ಲಿ ಯಾವ ಒಂದು ಅರ್ಹತೆಯು ಕಡ್ಡಾಯವಾಗಿ ಬೇಕಿರುವುದಿಲ್ಲ ?

- (a) ಅವನು ಭಾರತದ ಪ್ರಜೆಯಾಗಿರಬೇಕು.
- (b) ಅವನು ವಿಶ್ವವಿದ್ಯಾಲಯವೊಂದರ ಪದವೀಧರನಾಗಿರಬೇಕು.
- (c) ಅವನಿಗೆ 25 ವರ್ಷ ವಯಸ್ಸಾಗಿರಬೇಕು.
- (d) ಅವನು ಕೇಂದ್ರ ಅಥವಾ ರಾಜ್ಯ ಸರ್ಕಾರದಲ್ಲಿ ಯಾವುದೇ ಲಾಭದಾಯಕ ಹುದ್ದೆಯನ್ನು ಹೊಂದಿರಬಾರದು

33. ಕೆಳಗಿನ ಹೇಳಿಕೆಗಳನ್ನು ಗಮನಿಸಿರಿ :

1. ರಾಜ್ಯಗಳ ಉಚ್ಚ ನ್ಯಾಯಾಲಯಗಳ ನ್ಯಾಯಾಧೀಶರುಗಳನ್ನು ಭಾರತದ ರಾಷ್ಟ್ರಪತಿಗಳು ನೇಮಕ ಮಾಡುತ್ತಾರೆ.
2. ರಾಜ್ಯಗಳ ಉಚ್ಚ ನ್ಯಾಯಾಲಯಗಳ ನ್ಯಾಯಾಧೀಶರುಗಳನ್ನು ಸಂಸತ್ತಿನ ಉಭಯ ಸದನಗಳು 2/3 ರಷ್ಟು ಬಹುಮತದಿಂದ ವಾಗ್ದಂಡನೆ (ಮಹಾಭಿಯೋಗ) ಗೊತ್ತುವಳಿಯನ್ನು ಅಂಗೀಕರಿಸುವ ಮೂಲಕ ಅಧಿಕಾರದಿಂದ ತೆಗೆದು ಹಾಕಬಹುದು.
3. ರಾಜ್ಯಗಳ ಉಚ್ಚ ನ್ಯಾಯಾಲಯಗಳ ನ್ಯಾಯಾಧೀಶರುಗಳ ವೇತನ ಮತ್ತು ಭತ್ಯೆಗಳನ್ನು ಭಾರತದ ಸಂಚಿತ ನಿಧಿಯಿಂದ ಪಾವತಿ ಮಾಡಲಾಗುತ್ತದೆ.

ಮೇಲಿನ ಹೇಳಿಕೆಗಳಲ್ಲಿ ಯಾವುದು/ ಯಾವವು ಸರಿಯಾಗಿವೆ ?

- (a) 1 ಮತ್ತು 2 ಮಾತ್ರ
- (b) 2 ಮತ್ತು 3 ಮಾತ್ರ
- (c) 1 ಮತ್ತು 3 ಮಾತ್ರ
- (d) ಎಲ್ಲಾ 1, 2 ಮತ್ತು 3

31. Consider the following statements :

1. The Constitution of India established integrated Judiciary.
2. The Judges of Supreme Court are appointed by the President of India.
3. The retired Judges of Supreme Court can practice as an advocate in any courts of India.

Which of the above statements are correct ?

- (a) 1 and 2 only
- (b) 2 and 3 only
- (c) 1 and 3 only
- (d) All 1, 2 and 3

32. Which one of the following qualifications is compulsorily not required to become the member of State Legislative Assembly ?

- (a) He must be a citizen of India.
- (b) He must be a degree holder of a University.
- (c) He must have attained the age of 25 years.
- (d) He must be not hold any office of profit either under the Central or State Govts.

33. Consider the following statements :

1. The Judges of High Courts of States are appointed by the President of India.
2. The Judges of High Courts of States can be removed from office by an Impeachment motion passed by $2/3^{\text{rd}}$ majority of both the houses of Parliament.
3. The salaries and allowances of the Judges of High Courts of States are paid from the consolidated fund of India.

Which of the above statements are correct ?

- (a) 1 and 2 only
- (b) 2 and 3 only
- (c) 1 and 3 only
- (d) All 1, 2 and 3

34. P, Q, R ಮತ್ತು S ಎಂಬ ನಾಲ್ಕು ವ್ಯಕ್ತಿಗಳಲ್ಲಿ, P ಯು ದೊಡ್ಡವನು ಆದರೆ ಬಡವನಲ್ಲ, R ಎಂಬುವನು ಅತ್ಯಂತ ಶ್ರೀಮಂತ ಆದರೆ ದೊಡ್ಡವನಲ್ಲ, Q ನು S ಗಿಂತ ದೊಡ್ಡವನು ಆದರೆ P ಮತ್ತು R ಗಿಂತ ದೊಡ್ಡವನಲ್ಲ, P ಯು Q ಗಿಂತ ಶ್ರೀಮಂತ ಆದರೆ S ಗಿಂತ ಶ್ರೀಮಂತನಲ್ಲ. ಈಗ ಈ ನಾಲ್ಕು ಜನರನ್ನು ವಯಸ್ಸು ಮತ್ತು ಶ್ರೀಮಂತಿಕೆಯ ಅನುಗುಣವಾಗಿ ಇಳಿಕೆ ಕ್ರಮದಲ್ಲಿ ಬರೆಯಿರಿ.

- (a) PQRS, RPSQ
- (b) PRQS, RSPQ
- (c) PRQS, RSQP
- (d) PRSQ, RSPQ

35. ಎರಡು ರೈಲುಗಳು ನವದೆಹಲಿಯಿಂದ ಒಂದೇ ಸಮಯದಲ್ಲಿ ಹೊರಡುತ್ತವೆ. ಒಂದು ರೈಲು ಉತ್ತರದಿಕ್ಕಿನಲ್ಲಿ ಗಂಟೆಗೆ 60 ಕಿ.ಮೀ. ವೇಗದಲ್ಲಿ ಸಂಚರಿಸುತ್ತದೆ ಮತ್ತೊಂದು ರೈಲು ದಕ್ಷಿಣ ದಿಕ್ಕಿನಲ್ಲಿ ಗಂಟೆಗೆ 40 ಕಿ.ಮೀ. ವೇಗದಲ್ಲಿ ಸಂಚರಿಸುತ್ತದೆ. ಹಾಗಾದರೆ ಎಷ್ಟು ಗಂಟೆಗಳ ನಂತರ ಎರಡು ರೈಲು ಪರಸ್ಪರ 150 ಕಿ.ಮೀ. ದೂರದಲ್ಲಿರುತ್ತವೆ ?

- (a) $\frac{3}{2}$
- (b) $\frac{4}{3}$
- (c) $\frac{3}{4}$
- (d) $\frac{15}{2}$

36. ಕೆಳಗೆ ಕೊಟ್ಟಿರುವ ಯಾವುದರಲ್ಲಿ, ಶಬ್ದದ ವೇಗವು ಹೆಚ್ಚಿರುತ್ತದೆ. ?

- (a) 0 °C ನ ಗಾಳಿಯಲ್ಲಿ
- (b) 100 °C ನ ಗಾಳಿಯಲ್ಲಿ
- (c) ನೀರಿನಲ್ಲಿ
- (d) ಮರದಲ್ಲಿ

37. ಸ್ವಾಮಿಯ ಏಕೈಕ ಮಗಳು ರಾಣಿ. ರಾಧಾಳು ಸ್ವಾಮಿಯ ಮೊಮ್ಮಗಳು, ರವಿ ರಾಧಾಳ ಮಾವ. ಹಾಗಾದರೆ ಸ್ವಾಮಿ ಮತ್ತು ರವಿಗಿರುವ ಸಂಬಂಧವೇನು ?

- (a) ತಂದೆ-ಮಗ
- (b) ಅಣ್ಣ-ತಮ್ಮ
- (c) ತಾತ-ಮೊಮ್ಮಗ
- (d) ಯಾವುದೂ ಅಲ್ಲ

38. ಟಿ.ವಿ. ಗೆ ಬಳಸುವ ರಿಮೋಟ್ ಕೆಳಗೆ ನಮೂದಿಸಿರುವ ಯಾವುದರ ಮೇಲೆ ಅವಲಂಬಿತವಾಗಿದೆ ?

- (a) ಬೆಳಕಿನ ಅಲೆಗಳು
- (b) ಶಬ್ದದ ಅಲೆಗಳು
- (c) ಮೈಕ್ರೋ ಅಲೆಗಳು
- (d) ರೇಡಿಯೋ ಅಲೆಗಳು

39. 'ಕೈಗಾರಿಕೀಕರಣ ಇಲ್ಲವೇ ವಿನಾಶ' ಈ ಹೇಳಿಕೆಯನ್ನು ನೀಡಿದವರು

- (a) ಎಂ.ಕೆ. ಗಾಂಧಿ
- (b) ದಾದಾಭಾಯಿ ನವರೋಜಿ
- (c) ಸರ್. ಎಂ. ವಿಶ್ವೇಶ್ವರಯ್ಯ
- (d) ಎಂ.ಜಿ. ರಾನಡೆ

34. P, Q, R and S are four men. P is the oldest but not the poorest, R is the richest but not the oldest. Q is older than S but not older than P and R. P is richer than Q but not richer than S. The four men can be ordered (descending) in respect of age and richness respectively as

- (a) PQRS, RPSQ
- (b) PRQS, RSPQ
- (c) PRQS, RSQP
- (d) PRSQ, RSPQ

35. Two trains start to travel at a time from New Delhi. One travels towards North at 60 kmph and other travels towards South at 40 kmph. After how many hours will the trains be 150 km apart ?

- (a) $\frac{3}{2}$ (b) $\frac{4}{3}$
- (c) $\frac{3}{4}$ (d) $\frac{15}{2}$

36. In which one among the following, the speed of sound is maximum ?

- (a) Air at 0 °C
- (b) Air at 100 °C
- (c) Water
- (d) Wood

37. Rani is one and only one daughter of Swamy. Radha is grand-daughter of Swamy. Ravi is Radha's father-in-law, then how do you relate Swamy and Ravi ?

- (a) Father – Son
- (b) Elder Brother – Younger Brother
- (c) Grandfather – Grandson
- (d) None of these

38. Which of the following is used by T.V. remote control units to operate a T.V. set ?

- (a) Light waves
- (b) Sound waves
- (c) Microwaves
- (d) Radio waves

39. 'Industrialize or Perish' this statement given by :

- (a) M.K. Gandhi
- (b) Dadabhai Naoroji
- (c) Sir M. Vishveshwarayya
- (d) M.G. Ranade

40. ಬೃಹತ್ ಪ್ರಮಾಣದ ನೀರಾವರಿ ಯೋಜನೆ ಎಂದರೆ

- (a) ಯಾವ ಯೋಜನೆಯು 15000 ಕ್ಕಿಂತ ಅಧಿಕ ಹೆಕ್ಟೇರ್ ಭೂಪ್ರದೇಶಕ್ಕೆ ಸಾಗುವಳಿ ನೀರು ಒದಗಿಸುವುದೋ ಆ ಯೋಜನೆ.
- (b) ಯಾವ ಯೋಜನೆಯು 5000 ಕ್ಕಿಂತ ಅಧಿಕ ಹೆಕ್ಟೇರ್ ಭೂಪ್ರದೇಶಕ್ಕೆ ಸಾಗುವಳಿ ನೀರು ಒದಗಿಸುವುದೋ ಆ ಯೋಜನೆ.
- (c) ಯಾವ ಯೋಜನೆಯು 20000 ಕ್ಕಿಂತ ಅಧಿಕ ಹೆಕ್ಟೇರ್ ಭೂಪ್ರದೇಶಕ್ಕೆ ಸಾಗುವಳಿ ನೀರು ಒದಗಿಸುವುದೋ ಆ ಯೋಜನೆ.
- (d) ಯಾವ ಯೋಜನೆಯು 10000 ಕ್ಕಿಂತ ಅಧಿಕ ಹೆಕ್ಟೇರ್ ಭೂಪ್ರದೇಶಕ್ಕೆ ಸಾಗುವಳಿ ನೀರು ಒದಗಿಸುವುದೋ ಆ ಯೋಜನೆ.

41. ಕೈಗಾರಿಕೆಗಳ 'ವಿಸ್ತೃತ ಬಂಧನ' ಸೌಕರ್ಯಗಳೆಂದರೆ

- (a) ಅಂತರ್ಜಾಲ ಸೌಕರ್ಯಗಳು
- (b) ಮಿಶ್ರ ಉತ್ಪನ್ನಕ್ಕೆ ಅವಕಾಶಗಳು
- (c) ಆತ್ಮಾಧುನಿಕ ತಾಂತ್ರಿಕ ಉತ್ಪಾದನೆ
- (d) ವೈಫೈ ವಿಧಾನ

42. ಈ ಕೆಳಗಿನವುಗಳಲ್ಲಿ ಯಾವ ಪದ್ಧತಿಯು ಪರಿಮಾಣಾತ್ಮಕವಾದ ಪತ್ತು ನಿಯಂತ್ರಣವಲ್ಲ ?

- (a) ಮುಕ್ತ ಮಾರುಕಟ್ಟೆ ಕಾರ್ಯಾಚರಣೆಗಳು
- (b) ನಗದು ಮೀಸಲು ಪ್ರಮಾಣ
- (c) ಬ್ಯಾಂಕ್ ದರದ ನೀತಿ
- (d) ಭಾರತೀಯ ರಿಸರ್ವ್ ಬ್ಯಾಂಕಿನಿಂದ ವಾಣಿಜ್ಯ ಬ್ಯಾಂಕುಗಳಿಗೆ ನಿರ್ದೇಶನ ನೀಡುವುದು

43. ಈ ಕೆಳಗಿನವುಗಳನ್ನು ಸರಿಯಾಗಿ ಹೊಂದಿಸಿ :

- | | |
|---|--------------------------|
| A. ಭಾರತದ ರಾಜಕೀಯ ಅರ್ಥ ವ್ಯವಸ್ಥೆಯ ಮೇಲೆ ಪ್ರಬಂಧಗಳು | 1. ಡಾ. ಬಿ.ಆರ್. ಅಂಬೇಡ್ಕರ್ |
| B. ಪಾಕಿಸ್ತಾನ ಅಥವಾ ಭಾರತದ ವಿಭಜನೆ | 2. ಮಹಾದೇವ ಗೋವಿಂದ ರಾನಡೆ |
| C. ಭಾರತದ ಆರ್ಥಿಕ ಇತಿಹಾಸ | 3. ದಾದಾಭಾಯಿ ನವರೋಜಿ |
| D. ಬಡತನ ಹಾಗೂ ಭಾರತ ದಲ್ಲಿ ಬ್ರಿಟೀಷ್ ಆಡಳಿತ | 4. ರಮೇಶ್ ಚಂದ್ರ ದತ್ತ |

Codes :

- | | A | B | C | D |
|-----|---|---|---|---|
| (a) | 2 | 1 | 4 | 3 |
| (b) | 4 | 3 | 1 | 2 |
| (c) | 2 | 4 | 4 | 1 |
| (d) | 3 | 1 | 2 | 4 |

44. ಈ ಕೆಳಗಿನ ಯಾವ ರಾಷ್ಟ್ರವು ಸಾರ್ಕೊ ಸಮೂಹದ ಸದಸ್ಯ ದೇಶವಾಗಿರುವುದಿಲ್ಲ ?

- (a) ನೇಪಾಳ
- (b) ಬಾಂಗ್ಲಾದೇಶ
- (c) ಅಫ್ಘಾನಿಸ್ತಾನ
- (d) ಮಲೇಷಿಯಾ

40. The major irrigation project means

- (a) which has a cultivable command area of more than 15000 hectares.
- (b) which has a cultivable command area of more than 5000 hectares.
- (c) which has a cultivable command area of more than 20000 hectares.
- (d) which has a cultivable command area of more than 10000 hectares.

41. Industrial 'Broad-Banding' facilities mean

- (a) Internet facilities
- (b) Opportunities to product-mix
- (c) High tech production
- (d) Wi-Fi system

42. Which of the following method is not considered as 'quantitative credit control' ?

- (a) Open Market Operations
- (b) Cash Reserve Ratio
- (c) Bank Rate Policy
- (d) Sending Directions to Commercial Banks by R.B.I.

43. Match the following correctly :

- | | |
|---------------------------------------|--------------------------|
| A. Essays on Indian Political Economy | 1. Dr. B.R. Ambedkar |
| B. Pakistan or Partition of India | 2. Mahadev Govind Ranade |
| C. Economic History of India | 3. Dadabhai Naoroji |
| D. Poverty and British Rule in India | 4. Ramesh Chandra Dutt |

Codes :

- | | A | B | C | D |
|-----|---|---|---|---|
| (a) | 2 | 1 | 4 | 3 |
| (b) | 4 | 3 | 1 | 2 |
| (c) | 2 | 4 | 4 | 1 |
| (d) | 3 | 1 | 2 | 4 |

44. Which of the following country is not a member nation of SAARC ?

- (a) Nepal
- (b) Bangladesh
- (c) Afghanistan
- (d) Malaysia

45. ಕೆಳಗಿನ ಯಾದಿ I ಹಾಗೂ ಯಾದಿ II ರಲ್ಲಿರುವ ಸರಿಯಾದ ಹೊಂದಾಣಿಕೆಯನ್ನು ಗುರುತಿಸಿ.

ಯಾದಿ I	ಯಾದಿ II
(ಕಬ್ಬಿಣ ಉಕ್ಕು ಕೈಗಾರಿಕೆ)	(ರಾಜ್ಯ)

- | | |
|------------------|-----------------|
| A. ವಿ.ಐ.ಎಸ್.ಎಲ್. | 1. ಪಶ್ಚಿಮ ಬಂಗಾಲ |
| B. ದುರ್ಗಾಪುರ | 2. ತಮಿಳುನಾಡು |
| C. ರೂರೈಲಾ | 3. ಕರ್ನಾಟಕ |
| D. ಸೇಲಂ | 4. ಓರಿಸ್ಸಾ |

ಸಂಕೇತಗಳು :

	A	B	C	D
(a)	3	1	4	2
(b)	1	2	4	3
(c)	2	1	3	4
(d)	4	2	3	1

46. ಜಾಗತೀಕರಣ ಎಂದರೆ

ಸಂಕೇತಗಳು :

- (a) ವಸ್ತುಗಳ ಮುಕ್ತ ಚಲನೆ
 (b) ಸೇವೆಗಳ ಮುಕ್ತ ಚಲನೆ
 (c) ಬಂಡವಾಳದ ಮುಕ್ತ ಚಲನೆ
 (d) ಮೇಲಿನ ಎಲ್ಲವೂ ಸಹ

47. ನಾಗಪುರ ಯೋಜನೆಯು _____ ಯೋಜನೆಯಾಗಿದೆ.

- (a) ಬಂದರುಗಳ ಅಭಿವೃದ್ಧಿ ಯೋಜನೆ
 (b) ವಿಮಾನ ನಿಲ್ದಾಣ ಅಭಿವೃದ್ಧಿ ಯೋಜನೆ
 (c) ರೈಲು ಸಾರಿಗೆ ಅಭಿವೃದ್ಧಿ ಯೋಜನೆ
 (d) ರಸ್ತೆ ಅಭಿವೃದ್ಧಿ ಯೋಜನೆ

48. ಈ ಕೆಳಗಿನ ಹೇಳಿಕೆಗಳಲ್ಲಿ ಯಾವುದು R.B.I. ಬಗ್ಗೆ ಸತ್ಯವಲ್ಲ ?

ಸಂಕೇತಗಳು :

- (a) ರಿಜರ್ವ್ ಬ್ಯಾಂಕು ಎಲ್ಲ ಮೌಲ್ಯದ ನೋಟು ಮತ್ತು ನಾಣ್ಯಗಳನ್ನು ಮುದ್ರಿಸಿ ಚಲಾವಣೆಯಲ್ಲಿ ತರುತ್ತದೆ.
 (b) ರಿಜರ್ವ್ ಬ್ಯಾಂಕು ಹಣಕಾಸಿನ ನೀತಿಯನ್ನು ರೂಪಿಸುತ್ತದೆ.
 (c) ರಿಜರ್ವ್ ಬ್ಯಾಂಕು ಪತ್ತನ್ನು ನಿಯಂತ್ರಿಸುತ್ತದೆ.
 (d) ರಿಜರ್ವ್ ಬ್ಯಾಂಕು ತೀರುವೆ ಮನೆ (ಸಂದಾಯ) ಕಾರ್ಯ ಮಾಡುತ್ತದೆ.

49. ಈ ಕೆಳಗೆ ಸೂಚಿಸಿದ ನಕ್ಷತ್ರಗಳು ಭೂಮಿಯಿಂದ ಇರುವ ದೂರಗಳ ಕ್ರಮಾನುಗತಿಯಲ್ಲಿರುವುದನ್ನು ಕೆಳಗೆ ತೋರಿಸಿದ ಸಂಕೇತಗಳಲ್ಲಿ ಸರಿಯಾದುದನ್ನು ಆರಿಸಿ.

1. ಸೂರ್ಯ
2. ಆಲ್ಫಾ-ಸೆಂಚೂರಿ
3. ಸಿರಿಯಸ್
4. ಪ್ರಾಕ್ಸಿಮಾ ಸೆಂಚೂರಿ

ಕೆಳಗೆ ಕೊಟ್ಟ ಆಯ್ಕೆಗಳನ್ನು ಉಪಯೋಗಿಸಿ ಸರಿಯಾದ ಉತ್ತರವನ್ನು ಸೂಚಿಸಿ.

- (a) 1, 3, 2, 4
 (b) 1, 3, 4, 2
 (c) 1, 4, 2, 3
 (d) 1, 2, 4, 3

45. Match List – I with List – II and select the correct answer using the code given below the lists :

List – I	List – II
(Iron and Steel Industry)	(State)

A. V.I.S.L.	1. West Bengal
B. Durgapur	2. Tamil Nadu
C. Raurkela	3. Karnataka
D. Salem	4. Odisha

Codes :

	A	B	C	D
(a)	3	1	4	2
(b)	1	2	4	3
(c)	2	1	3	4
(d)	4	2	3	1

46. Globalisation implies

- (a) Free movement of goods
- (b) Free movement of services
- (c) Free movement of capital
- (d) All of the above

47. Nagpur plan is a _____.

Select correct answer.

- (a) Ports Development Plan
- (b) Airports Development Plan
- (c) Railway Development Plan
- (d) Road Development Plan

48. Which one of the following statements is not true about R.B.I. ?

Codes :

- (a) R.B.I. issues currency notes and coins of all denominations.
- (b) R.B.I. formulates monetary policy.
- (c) R.B.I. controls credit.
- (d) R.B.I. is a bank of clearance.

49. What is the correct sequence of occurrence of the following stars in order of their distance separation from earth ?

- 1. Sun
- 2. Alpha-centauri
- 3. Sirius
- 4. Proxima centauri

Select the correct answer using the code given below :

- (a) 1, 3, 2, 4
- (b) 1, 3, 4, 2
- (c) 1, 4, 2, 3
- (d) 1, 2, 4, 3

50. ಗಂಗಾ ನದಿಯು ಪಶ್ಚಿಮ ಹಿಮಾಲಯದಿಂದ ಬಂಗಾಳಕೊಲ್ಲಿಗೆ ಹರಿಯುವಾಗ ಈ ಕೆಳಗೆ ಕೊಟ್ಟ ಯಾವ ಸ್ಥಳಗಳನ್ನು ಹಾದು ಹೋಗುತ್ತದೆ ?

- (a) ಹರಿದ್ವಾರ್, ವಾರಣಾಸಿ, ಅಲಹಾಬಾದ್, ಬಹರಮ್‌ಪುರ
 (b) ಹರಿದ್ವಾರ್, ಬಹರಮ್‌ಪುರ, ವಾರಣಾಸಿ, ಅಲಹಾಬಾದ್
 (c) ಹರಿದ್ವಾರ್, ಅಲಹಾಬಾದ್, ವಾರಣಾಸಿ, ಬಹರಮ್‌ಪುರ
 (d) ಹರಿದ್ವಾರ್, ಅಲಹಾಬಾದ್, ಬಹರಮ್‌ಪುರ, ವಾರಣಾಸಿ

51. ಭಾರತ ಸರ್ಕಾರದಿಂದ ವಿಜ್ಞಾನ ಮತ್ತು ತಂತ್ರಜ್ಞಾನ ಮಂತ್ರಾಲಯವು ಈ ಕೆಳಗಿನ ಯಾವ ಇಲಾಖೆಗಳನ್ನು ಒಳಗೊಂಡಿದೆ.

1. ವಿಜ್ಞಾನ ಮತ್ತು ತಂತ್ರಜ್ಞಾನ ಇಲಾಖೆ, ವಿಜ್ಞಾನ ಮತ್ತು ಕೈಗಾರಿಕಾ ಸಂಶೋಧನಾ ಇಲಾಖೆ
 2. ಜೈವಿಕ ತಂತ್ರಜ್ಞಾನ ಇಲಾಖೆ
 3. ವಿಜ್ಞಾನ ಮತ್ತು ತಂತ್ರಜ್ಞಾನ ಇಲಾಖೆ, ಪರಿಸರ ವಿಜ್ಞಾನ ಇಲಾಖೆ
 4. ಜೈವಿಕ ತಂತ್ರಜ್ಞಾನ ಇಲಾಖೆ, ರಕ್ಷಣಾ ಸಂಶೋಧನಾ ಮತ್ತು ಉತ್ಪಾದನ ಇಲಾಖೆ

ಸರಿಯಾದ ಉತ್ತರಗಳನ್ನು ಸಂಕೇತಗಳಿಂದ ಆಯ್ಕೆ ಮಾಡಿ.

- (a) 1 ಮಾತ್ರ
 (b) 1 ಮತ್ತು 2 ಮಾತ್ರ
 (c) 1 ಮತ್ತು 4 ಮಾತ್ರ
 (d) ಮೇಲಿನ ಎಲ್ಲವೂ

52. ಕೆಳಗಿನ ಜೋಡಿಗಳನ್ನು ಪರಿಶೀಲಿಸಿ ಸರಿಯಾದ ಜೋಡಿಯ ಸಂಕೇತವನ್ನು ಆಯ್ಕೆ ಮಾಡಿ.

ಮೂಲವಸ್ತು	ಖನಿಜಗಳು
1. ಕಬ್ಬಿಣ	: ಕ್ಯಾಪರೈಟ್
2. ಕ್ಯಾಲ್ಸಿಯಂ	: ಸುಣ್ಣದ ಕಲ್ಲು
3. ತಾಮ್ರ	: ಹೇಮಟೈಟ್
4. ಸೀಸ	: ಗೆಲಿನಾ

ಮೇಲಿನವುಗಳಲ್ಲಿ ಯಾವುದು ಸರಿ ಜೋಡಿಯಾಗಿದೆ ?

(a) 1 ಮತ್ತು 2 (b) 2 ಮತ್ತು 3
 (c) 3 ಮತ್ತು 4 (d) 2 ಮತ್ತು 4

53. ಈ ಕೆಳಕಂಡವುಗಳಲ್ಲಿ ಯಾವುದು ಪ್ರಾಗೈತಿಹಾಸಿಕ ಅವಧಿಗೆ ಸಂಬಂಧಿಸಿದಂತೆ ಸರಿಯಾದ ಅನುಕ್ರಮದಲ್ಲಿದೆ ?

1. ನವಶಿಲಾಯುಗದ ಅವಧಿ
 2. ಪ್ರಾಚೀನ ಶಿಲಾಯುಗದ ಅವಧಿ
 3. ಮಧ್ಯ ಶಿಲಾಯುಗದ ಅವಧಿ
 ಸಂಕೇತ :

- (a) 3 2 1
 (b) 1 2 3
 (c) 2 1 3
 (d) 2 3 1

54. ತಪ್ಪು ಜೋಡಿಯನ್ನು ಕಂಡು ಹಿಡಿಯಿರಿ :

ರಾಜ್ಯ	ಜಾನಪದ ನೃತ್ಯ / ಡ್ರಾಮಾ
(a) ಮಣಿಪುರ	: ಮಹಾರಾಸ
(b) ಗುಜರಾತ್	: ರಸೀಲಾ
(c) ಉತ್ತರ ಪ್ರದೇಶ	: ಕಜರಿ
(d) ಮಹಾರಾಷ್ಟ್ರ	: ತ್ರಿಪ್ಪಾನಿ

50. Which one of the following places is in correct sequence of the flow of "Ganges River" from Western Himalayas to Bay of Bengal ?

- (a) Haridwar, Varanasi, Allahabad, Baharampur
- (b) Haridwar, Baharampur, Varanasi, Allahabad
- (c) Haridwar, Allahabad, Varanasi, Baharampur
- (d) Haridwar, Allahabad, Baharampur, Varanasi

51. The Government of India Ministry of Science and Technology includes

- 1. Department of Science and Technology, Department of Science and Industrial Research
- 2. Department of Biotechnology
- 3. Department of Science and Technology, Department of Environmental Science
- 4. Department of Biotechnology, Department of Defense Research and Production

Select the correct answer using the codes given below.

- (a) 1 only
- (b) 1 and 2 only
- (c) 1 and 4 only
- (d) All of the above

52. Consider the following pairs :

Elements	Minerals
1. Iron	: Cuprite
2. Calcium	: Limestone
3. Copper	: Haematite
4. Lead	: Galena

Which of the above pairs are correctly matched ?

- (a) 1 and 2
- (b) 2 and 3
- (c) 3 and 4
- (d) 2 and 4

53. Which one of the following is the correct sequence of prehistoric period ?

- 1. Neolithic period
- 2. Paleolithic period
- 3. Mesolithic period

Codes :

- (a) 3 2 1
- (b) 1 2 3
- (c) 2 1 3
- (d) 2 3 1

54. Find the incorrect match :

State	Folk Dance / Drama
(a) Manipur	: Maha Rasa
(b) Gujarat	: Raslila
(c) Uttar Pradesh	: Kajri
(d) Maharashtra	: Tippani

55. ಭಾರತದ ಸಂವಿಧಾನದಲ್ಲಿ ಮೂಲಭೂತ ಹಕ್ಕುಗಳನ್ನು ಈ ಕೆಳಕಂಡ ಯಾವ ತಿದ್ದುಪಡಿಯಲ್ಲಿ ಪರಿಚಯಿಸಲಾಯಿತು ?

- (a) 44 ನೇಯ ತಿದ್ದುಪಡಿ
- (b) 42 ನೇಯ ತಿದ್ದುಪಡಿ
- (c) 40 ನೇಯ ತಿದ್ದುಪಡಿ
- (d) 43 ನೇಯ ತಿದ್ದುಪಡಿ

56. ಸಂವಿಧಾನದ ಭಾಗ-II ಯಾವುದರ ಬಗ್ಗೆ ಹೇಳುತ್ತದೆ ?

- (a) ಮೂಲಭೂತ ಹಕ್ಕುಗಳು
- (b) ನಾಗರಿಕತ್ವ
- (c) ಮೂಲಭೂತ ಕರ್ತವ್ಯಗಳು
- (d) ಕೇಂದ್ರ-ರಾಜ್ಯ ಸಂಬಂಧಗಳು

57. ಪ್ರತಿಷ್ಠಿತ ರಾಮನ್ ಮ್ಯಾಗ್ನೇಸೀ ಪ್ರಶಸ್ತಿಯನ್ನು ಪಡೆದ ಮೊದಲ ಭಾರತೀಯನ ಹೆಸರು

- (a) ವಿನೋಬಾ ಭಾವೆ
- (b) ಬಾಬಾ ಆಮ್ಜೆ
- (c) ಸುಂದರಲಾಲ್ ಬಹುಗುಣ
- (d) ಎಂ.ಎಸ್. ಸ್ವಾಮಿನಾಥನ್

58. ಭಾರತದ ಯಾವ ರಾಜ್ಯ ಪಾಕಿಸ್ತಾನದ ಜೊತೆ ಗಡಿಭಾಗವನ್ನು ಹಂಚಿಕೊಳ್ಳುವುದಿಲ್ಲ ?

- (a) ಪಂಜಾಬ್
- (b) ಗುಜರಾತ್
- (c) ರಾಜಸ್ಥಾನ
- (d) ಹಿಮಾಚಲ ಪ್ರದೇಶ

59. ಹುಲಿಗಳು ಕೆಳಗಿನ ಯಾವ ಜೀವಗೋಳದಲ್ಲಿ ಕಂಡು ಬರುತ್ತವೆ ?

- (a) ಥಾರ್ ಮರುಭೂಮಿಯ ಜೀವಗೋಳ
- (b) ನೀಲಗಿರಿ ಜೀವಗೋಳ
- (c) ನಮ್ ಧಾಪಾ ಜೀವಗೋಳ
- (d) ಸುಂದರಬನ್ಸ್ ಜೀವಗೋಳ

60. 'ಚಿಪ್ಕೊ-ಚಳುವಳಿ' ಗುರಿ ಏನು ?

- (a) ಮಾನವ ಹಕ್ಕುಗಳು
- (b) ಅರಣ್ಯ ಸಂರಕ್ಷಣೆ
- (c) ಕೃಷಿ ಕ್ಷೇತ್ರದ ವಿಸ್ತರಣೆ
- (d) ರಾಜಕೀಯ ಹಕ್ಕುಗಳು

61. ಈ ಕೆಳಗಿನ ಯಾವ ಲೋಹವು ಉತ್ತಮ ವಿದ್ಯುತ್ ವಾಹಕವಾಗಿದೆ ?

- (a) ತಾಮ್ರ
- (b) ಸತು
- (c) ಕ್ಯಾಲ್ಸಿಯಂ
- (d) ಬೆಳ್ಳಿ

62. _____ ಕೆಳಕಂಡ _____ ಮಾನೋಮರ್‌ನ ಪಾಲಿಮರ್‌ಸೇಶನ್ನಿನಿಂದ _____ ಟೆಫ್ಲೋನ್‌ನ್ನು (PTEE) ತಯಾರಿಸುತ್ತಾರೆ.

- (a) ಇಥಿಲೀನ್
- (b) ವಿನ್ಯೆಲ್ ಕ್ಲೋರೈಡ್
- (c) ಟೆಟ್ರಾಫ್ಲೋರೊ ಇಥಿಲೀನ್
- (d) ಕ್ಲೋರೊಪ್ರೀನ್

63. ನ್ಯೂಟ್ರಾನನ್ನು ಕಂಡು ಹಿಡಿದವರು

- (a) ಆಸ್ಟಿನ್
- (b) ರುದರ್ ಫೋರ್ಡ್
- (c) ಛಾಡ್ ವೀಕ್
- (d) ಐನ್‌ಸ್ಟೀನ್

55. Fundamental Duties were introduced into the Indian Constitution by the
- (a) 44th Amendment
 - (b) 42nd Amendment
 - (c) 40th Amendment
 - (d) 43rd Amendment
56. Part-II of the Constitution of India deals with
- (a) Fundamental Rights
 - (b) Citizenship
 - (c) Fundamental Duties
 - (d) Centre-State Relations
57. Name the first Indian winner of the Prestigious 'Ramon Magsaysay' Award.
- (a) Vinoba Bhave
 - (b) Baba Amte
 - (c) Sunderlal Bahuguna
 - (d) M.S. Swaminathan
58. Which State does not share a border with Pakistan ?
- (a) Punjab
 - (b) Gujarat
 - (c) Rajasthan
 - (d) Himachal Pradesh
59. Tigers are found in which of the following biosphere reserve ?
- (a) Thar desert biosphere reserve
 - (b) Nilgiri biosphere reserve
 - (c) Namdhapa biosphere reserve
 - (d) Sunderbans biosphere reserve
60. What is the aim of the 'Chipko Movement' ?
- (a) Human Rights
 - (b) Forest Conservation
 - (c) Agricultural Expansion
 - (d) Political Rights
61. Which of the following metal is good conductor of electricity ?
- (a) Copper
 - (b) Zinc
 - (c) Calcium
 - (d) Silver
62. Teflon (PTEE) is prepared by the polymerisation of Monomer
- (a) Ethylene
 - (b) Vinyl chloride
 - (c) Tetra fluoroethylene
 - (d) Chloroprene
63. Neutron is discovered by
- (a) Austen
 - (b) Rutherford
 - (c) Chadwick
 - (d) Einstein

64. ಲೆಡ್ ಪೆನ್ಸಿಲ್‌ನಲ್ಲಿ ಇರುವ ವಸ್ತು ಯಾವುದು ?

- (a) PbS (b) Pb
(c) CaC₂ (d) ಗ್ರಾಫೈಟ್

65. ವಿಶ್ವ ಓಝಾನ್ ಪದರ ದಿನಾಚರಣೆಯ ದಿನವು _____.

- (a) ಜೂನ್-5 (b) ಸೆಪ್ಟೆಂಬರ್-16
(c) ಮಾರ್ಚ್-22 (d) ಏಪ್ರಿಲ್-22

66. ನವೀಕರಿಸುವ ಶಕ್ತಿಯ ಮೂಲಗಳು

- (a) ಸೌರಶಕ್ತಿ ಮತ್ತು ಪವನ ಶಕ್ತಿ
(b) ಪವನಶಕ್ತಿ ಮತ್ತು ಸಮುದ್ರ ಅಲೆಗಳು
(c) ಸೌರಶಕ್ತಿ ಮತ್ತು ಸಮುದ್ರ ಅಲೆಗಳು
(d) ಈ ಮೇಲಿನ ಎಲ್ಲವೂ

67. ಕೆಳಗಿನ ಜೊತೆಯಾಗಿರುವ ಶಬ್ದಗಳನ್ನು ಗಮನಿಸಿ :

1. ರನಥಂಬೋರ್ - ಕರ್ನಾಟಕ ರಾಷ್ಟ್ರೀಯ ಉದ್ಯಾನ
2. ಕನ್ಯಾ ರಾಷ್ಟ್ರೀಯ ಉದ್ಯಾನ - ಮಧ್ಯ ಪ್ರದೇಶ ಉದ್ಯಾನ
3. ಕೋರ್ಟ್ - ಉತ್ತರಾಖಂಡ ರಾಷ್ಟ್ರೀಯ ಉದ್ಯಾನ
ಇವುಗಳಲ್ಲಿ ಯಾವುದು ಸರಿಯಾದ ಹೊಂದಾಣಿಕೆಯಾಗಿದೆ ?

- (a) 1 ಮಾತ್ರ
(b) 2 ಮತ್ತು 3 ಮಾತ್ರ
(c) 1 ಮತ್ತು 2 ಮಾತ್ರ
(d) ಯಾವುದೂ ಇಲ್ಲ

68. ಮಿಡಿಗಳ ಜೀವನಚಕ್ರದಲ್ಲಿ ಈ ಕೆಳಗಿನ ಯಾವ ಅನುಕ್ರಮಣಿಕೆ ಕಾಣಬಹುದು ?

- (a) ಮೊಟ್ಟೆ → ಕಂಬಳಿ ಹುಳ → ಕೋಶಾವಸ್ಥೆ → ಪ್ರೌಢಾವಸ್ಥೆ
(b) ಮೊಟ್ಟೆ → 4 ಹಂತದ ಲಾರ್ವಾ ಇನ್ ಸ್ಟಾರ್ → ಕೋಶಾವಸ್ಥೆ → ಪ್ರೌಢಾವಸ್ಥೆ
(c) ಮೊಟ್ಟೆ → ಅಪ್ಸರೆ ಕೀಟ (ನಿಂಫ್) → ಪ್ರೌಢಾವಸ್ಥೆ
(d) ಮೊಟ್ಟೆ → ನೋಪ್ಲಿಯಸ್ → ಪ್ರೊಟೋಜೂಯಿಯ → ಮೈಸಿಸ್ → ಪ್ರೌಢಾವಸ್ಥೆ

69. ಪಟ್ಟಿ I ರಲ್ಲಿ ಕೊಟ್ಟಿರುವ ಅಂಗಗಳನ್ನು ಮತ್ತು ಪಟ್ಟಿ II ರಲ್ಲಿ ಕೊಟ್ಟಿರುವ ಅವುಗಳ ಭಾಗಗಳನ್ನು ಹೊಂದಿಸಿ.

ಪಟ್ಟಿ I (ಅಂಗಗಳು)	ಪಟ್ಟಿ II (ಅಂಗಗಳ ಭಾಗಗಳು)
A. ಮೇದೋ ಜ್ವೀರಕ ಗ್ರಂಥಿ	1. ಸಿನುಸಾಯಿಡ್ಸ್
B. ಮೂತ್ರ ಜನಕಾಂಗ	2. ಹೃದಯಸ್ನಾಯು
C. ಹೃದಯ	3. ಐಲಿಟ್ಸ್ ಒಫ್ ಲ್ಯಾಂಗರ್ ಹ್ಯಾನ್ಸ್
D. ಯಕೃತ್ತು	4. ಪಿರಮಿಡ್

ಸಂಕೇತಗಳು :

	A	B	C	D
(a)	4	2	1	3
(b)	1	3	2	4
(c)	2	4	3	1
(d)	3	4	2	1

64. Lead pencil contains
 (a) PbS (b) Pb
 (c) CaC₂ (d) Graphite
65. World Ozone Layer Day is celebrated on
 (a) 5th June
 (b) 16th Sept.
 (c) 22nd March
 (d) 22nd April
66. The renewable sources of energy are
 (a) Solar and Wind
 (b) Wind and Tidal
 (c) Solar and Tidal
 (d) All of these
67. Consider the following pairs :
 1. Ranthambhore – Karnataka National Park
 2. Kanha – Madhya Pradesh National Park
 3. Corbett – Uttarakhand National Park
 Which of the above pairs is/are correctly matched ?
 (a) 1 only
 (b) 2 and 3 only
 (c) 1 and 2 only
 (d) None

68. Which of the following sequence is seen in grasshopper life cycle ?
 (a) Egg → Caterpillar → Pupa → Adult
 (b) Egg → 4 larval instars → Pupa → Adult
 (c) Egg → Nymph → Adult
 (d) Egg → Nauplius → Protozoa → Mysis → Adult
69. Match List – I with List – II and select the correct answer using the code given below.

List – I		List – II	
(Organs)		(Organ Parts)	
A. Pancreas		1. Sinusoids	
B. Kidney		2. Myocardium	
C. Heart		3. Islets of Langerhans	
D. Liver		4. Pyramid	
	A B C D		
(a)	4 2 1 3		
(b)	1 3 2 4		
(c)	2 4 3 1		
(d)	3 4 2 1		

70. ಹೇಳಿಕೆ (A) : ಒಂದು ವಸ್ತುವನ್ನು ಪ್ರತಿಫಲಿಸಿದ ಶಬ್ದದ ಮುಖಾಂತರ ಗುರುತಿಸುವುದನ್ನು ಪ್ರತಿಧ್ವನಿ ಸ್ಥಾನ ನಿರ್ಣಯ ಎನ್ನುತ್ತಾರೆ. ಹೆಚ್ಚಿನ ಬಾವಲಿಗಳಲ್ಲಿ ಆಸಾಧಾರಣವಾದ ಇಂತಹ ವ್ಯವಸ್ಥೆಯನ್ನು ಕಾಣಬಹುದು.

ಕಾರಣ (R) : ಬಾವಲಿಗಳು ಇಖೋಲೋಕೇಶನನ್ನು ವಿವಿಧ ಪರಿಸರಗಳಲ್ಲಿ ತಮ್ಮ ಆಹಾರ ಹುಡುಕುವ ಸಲುವಾಗಿ ಸರಿಯಾದ ದಾರಿಯಲ್ಲಿ ಹಾರಲು ಇದನ್ನು ಉಪಯೋಗಿಸುತ್ತವೆ.

ಸರಿಯಾದ ಉತ್ತರವನ್ನು ಕೆಳಗೆ ಕೊಟ್ಟ ಸಂಕೇತಗಳಿಂದ ಆಯ್ಕೆ ಮಾಡಿ.

- (a) (A) ಮತ್ತು (R) ಎರಡೂ ಸತ್ಯ ಮತ್ತು (A) ಗೆ (R) ಸರಿಯಾದ ವಿವರಣೆ.
- (b) (A) ಮತ್ತು (R) ಎರಡೂ ಸತ್ಯ ಮತ್ತು (A) ಗೆ (R) ಸರಿಯಾದ ವಿವರಣೆಯಿಲ್ಲ.
- (c) (A) ಸತ್ಯವಾಗಿದೆ, ಆದರೆ (R) ಸುಳ್ಳು
- (d) (A) ಸುಳ್ಳು, ಆದರೆ (R) ಸತ್ಯ

71. 2014 ರ ಲೋಕಸಭಾ ಚುನಾವಣೆಗಳಲ್ಲಿ ನೋಂದಾವಣೆಗೊಂಡ ರಾಜಕೀಯ ಪಕ್ಷಗಳ ಸಂಖ್ಯೆಯು, 1951-52 ರಲ್ಲಿ ನಡೆದ ಮೊದಲ ಲೋಕಸಭಾ ಚುನಾವಣೆಗಳಲ್ಲಿನ ನೋಂದಾಯಿತ ರಾಜಕೀಯ ಪಕ್ಷಗಳ ಸಂಖ್ಯೆಗಿಂತ _____ ಪಟ್ಟು ಸಂಖ್ಯೆಗೆ ಹತ್ತಿರವಾಗಿತ್ತು. ಖಾಲಿ ಜಾಗವನ್ನು ಸರಿಯಾದ ಉತ್ತರದಿಂದ ತುಂಬಿಸಿ.

- (a) 40
- (b) 30
- (c) 20
- (d) 10

72. 1962 ರಲ್ಲಿ ಸ್ಥಾಪನೆಯಾದ ಭಾರತದ ಮೊದಲ ಬೃಹತ್ ಜಲ ಸ್ಥಾವರ ಎಲ್ಲಿದೆ ?
 (a) ಥಲಚೇರ್ (b) ಟ್ಯುಟಿಕೋರಿನ್
 (c) ಬರೋಡಾ (d) ಹಜಿರಾ

73. ಮಾಂಟ್ರಿಯಾಲ್ ಪ್ರೋಟೋಕಾಲ್ ಇದಕ್ಕೆ ಸಂಬಂಧಿಸಿದೆ.

- (a) ಓಜೋನ್ ಸವಕಳಿ
- (b) ಅಣ್ವಸ್ತ್ರಗಳ ನಿಷೇಧ
- (c) ಜಾಗತಿಕ ತಾಪಮಾನವನ್ನು ಕಡಿಮೆ ಮಾಡುವುದು
- (d) ಹವಾಮಾನ ಬದಲಾವಣೆ

74. ಸಿನಾಗಾಗ್, ಇದು ಯಾವ ಸಮುದಾಯದವರ ಧಾರ್ಮಿಕ ಕ್ಷೇತ್ರವಾಗಿದೆ.

- (a) ಪಾರ್ಸಿ (b) ಹಿಂದೂಗಳು
- (c) ಕ್ರೈಸ್ತರು (d) ಯಹೂದಿಗಳು

75. ಸಂಸತ್ ಸದಸ್ಯರ ಅನರ್ಹತೆ ಕುರಿತಾದ ತೀರ್ಮಾನ ಕೈಗೊಳ್ಳುವ ಅಧಿಕಾರ ಈ ಕೆಳಗಿನ ಯಾರಿಗಿದೆ ?

- (a) ಭಾರತದ ಪ್ರಧಾನಮಂತ್ರಿಗಳು
- (b) ಭಾರತದ ರಾಷ್ಟ್ರಪತಿಗಳು
- (c) ಭಾರತದ ಮುಖ್ಯ ನ್ಯಾಯಮೂರ್ತಿಗಳು
- (d) ಚುನಾವಣಾ ಆಯೋಗದೊಂದಿಗೆ ಸಮಾಲೋಚಿಸಿ ಭಾರತದ ರಾಷ್ಟ್ರಪತಿಗಳು

76. ಕೇಂದ್ರ ಸರ್ಕಾರವು 2014 ರಲ್ಲಿ 'ಜಲ ಮಾರ್ಗ ವಿಕಾಸ' ಯೋಜನೆಯನ್ನು ಗಂಗಾನದಿಗಾಗಿ ಘೋಷಿಸಿದೆ. ಈ ಯೋಜನೆಯು ಈ ಕೆಳಕಂಡ ಯಾವ ಸ್ಥಳಗಳನ್ನು ಸೇರಿಸುತ್ತದೆ ?

- (a) ಅಲಹಾಬಾದ್ ಮತ್ತು ಹಲ್ದಿಯಾ
- (b) ಅಲಹಾಬಾದ್ ಮತ್ತು ವಾರಣಾಸಿ
- (c) ಕಾನ್ಪುರ್ ಮತ್ತು ಅಲಹಾಬಾದ್
- (d) ಹಲ್ದಿಯಾ ಮತ್ತು ವಾರಣಾಸಿ

70. Assertion (A) : Detection of an object by means of reflected sound is called echolocation. Most bat species have developed remarkable echolocation system.

Reason (R) : Bats use the echolocation for navigation and foraging in various environments.

Choose the correct answer from the codes given below.

- (a) Both (A) and (R) are true and (R) is correct explanation of (A).
- (b) Both (A) and (R) are true, but (R) is not the correct explanation of (A).
- (c) (A) is true, but (R) is false.
- (d) (A) is false, but (R) is true.

71. The number of registered political parties in the Lok Sabha Elections 2014 was nearly _____ times the number of registered parties during the first Lok Sabha Elections in 1951-52. Fill up the blank with the right answer.

- (a) 40 (b) 30
- (c) 20 (d) 10

72. India's first heavy water plant was set-up in 1962 at

- (a) Thalcher (b) Tuticorin
- (c) Baroda (d) Hazira

73. Montreal Protocol is concerned with

- (a) Ozone depletion
- (b) Prohibition of Nuclear weapons
- (c) Reduce Global Warming
- (d) Climate changes

74. Synagogue, a place of worship is commonly associated with

- (a) Parsis (b) Hindus
- (c) Christians (d) Jews

75. Any disqualification of the Indian Member of Parliament (MP) will be decided by

- (a) Prime Minister of India
- (b) President of India
- (c) The Chief Justice of India
- (d) President of India in consultation with the Election Commission.

76. The Union Government has announced the setting up of 'Jal Marg Vikas' Project 2014 on River Ganga to link which of the following cities ?

- (a) Allahabad and Haldia
- (b) Allahabad and Varanasi
- (c) Kanpur and Allahabad
- (d) Haldia and Varanasi

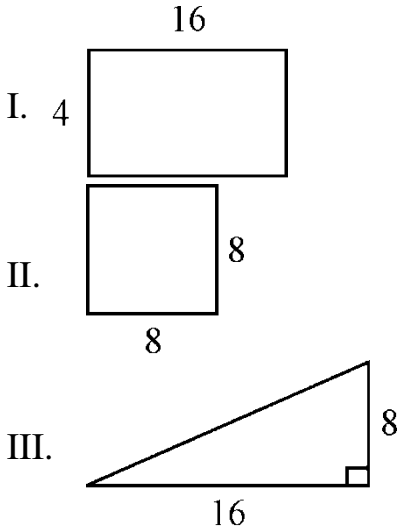
77. 36 ಪುರುಷರು ಒಂದು ಕೆಲಸವನ್ನು 25 ಗಂಟೆಗಳಲ್ಲಿ ಮಾಡಿದರೆ, ಅದೇ ಕೆಲಸವನ್ನು 15 ಪುರುಷರು ಎಷ್ಟು ಗಂಟೆಗಳಲ್ಲಿ ಮಾಡುವರು ?

- (a) 60 ಗಂಟೆಗಳು (b) 20 ಗಂಟೆಗಳು
(c) 45 ಗಂಟೆಗಳು (d) 65 ಗಂಟೆಗಳು

78. 2, 7, 6 ಮತ್ತು x ನ ಸರಾಸರಿ 5 ಮತ್ತು 18, 1, 6, x ಮತ್ತು y ನ ಸರಾಸರಿ 10, ಆಗ y ನ ಬೆಲೆ

- (a) 10 (b) 20
(c) 30 (d) 25

79. ಈ ಮುಂದಿನ ಚಿತ್ರಗಳನ್ನು ಅವಲೋಕಿಸಿ :



I, II ಮತ್ತು III ನೇ ಚಿತ್ರಗಳಿಂದ ಈ ಮುಂದಿನ ಯಾವ ತೀರ್ಮಾನಕ್ಕೆ ಬರಬಹುದು

- (a) ಮೂರು ಚಿತ್ರಗಳ ವಿಸ್ತೀರ್ಣ ಬೇರೆಬೇರೆ.
(b) ಮೂರೂ ಚಿತ್ರಗಳ ವಿಸ್ತೀರ್ಣ ಒಂದೇ.
(c) ಮೂರೂ ಚಿತ್ರಗಳ ಪರಿಧಿ ಒಂದೇ.
(d) I ಮತ್ತು II ನೇ ಚಿತ್ರಗಳ ಪರಿಧಿ ಒಂದೇ ಆಗಿದೆ.

80. ಈ ಮುಂದಿನದನ್ನು ಅವಲೋಕಿಸಿ.

1. ಅರುಣ್, ದಿಶಾ, ಕುಮಾರ್, ಮತ್ತು ಭವ್ಯ 2010 ರಲ್ಲಿ ಅನುಕ್ರಮವಾಗಿ A, B, C, D ಸ್ಥಾನಗಳಲ್ಲಿ ನೇಮಕಾತಿ ಹೊಂದಿದರು.
2. 2012, ಅವರುಗಳು ವರ್ಗಾವಣೆ ಗೊಂಡರು. ಅರುಣ್ ಮತ್ತು ಕುಮಾರ್ ತಮ್ಮ ತಮ್ಮ ಸ್ಥಾನಗಳನ್ನು ಅದಲು ಬದಲು ಮಾಡಿಕೊಂಡರು. ಹಾಗೆಯೇ, ದಿಶಾ ಮತ್ತು ಭವ್ಯ ಕೂಡ ತಮ್ಮ ಸ್ಥಾನಗಳನ್ನು ಅದಲು ಬದಲು ಮಾಡಿಕೊಂಡರು.
3. ಪುನಃ 2013 ರಲ್ಲಿ, ಅವರುಗಳು ವರ್ಗಾವಣೆ ಹೊಂದಿದರು. ಹೇಗೆಂದರೆ ಅರುಣ್ ಮತ್ತು ಭವ್ಯ ತಮ್ಮ ಸ್ಥಾನಗಳನ್ನು ಅದಲು ಬದಲು ಮಾಡಿಕೊಂಡರು ಮತ್ತು ದಿಶಾ ಹಾಗೂ ಕುಮಾರ್ ಕೂಡ ತಮ್ಮ ಸ್ಥಾನಗಳನ್ನು ಬದಲಿಸಿಕೊಂಡರು.

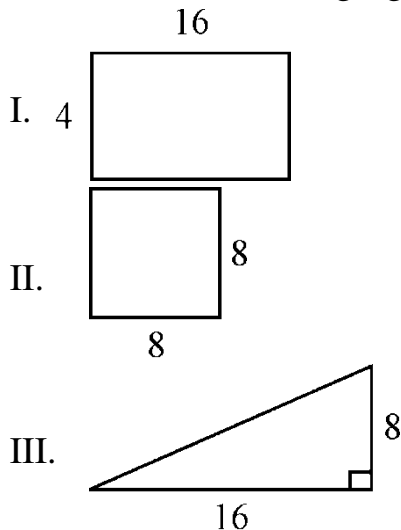
ಹಾಗಾದರೆ ನಾಲ್ಕು ಮಂದಿಯು ಎಲ್ಲಾ ನಾಲ್ಕು ಸ್ಥಾನಗಳಲ್ಲಿ ನೇಮಕ ಹೊಂದುವಂತೆ ಮಾಡಬೇಕಾದ ವರ್ಗಾವಣೆಯ ಮುಂದಿನ ಹಂತವೇನು ?

- (a) ಅರುಣ್ ಮತ್ತು ದಿಶಾರ ಸ್ಥಾನಗಳ ಅದಲು ಬದಲು, ಹಾಗೆಯೇ ಕುಮಾರ್ ಮತ್ತು ಭವ್ಯರ ಸ್ಥಾನಗಳ ಅದಲು ಬದಲು.
- (b) ಅರುಣ್ ಮತ್ತು ಕುಮಾರ್‌ರ ಸ್ಥಾನಗಳ ಅದಲು ಬದಲು, ಹಾಗೆಯೇ ದಿಶಾ ಮತ್ತು ಭವ್ಯರ ಸ್ಥಾನಗಳ ಅದಲು ಬದಲು.
- (c) ಅರುಣ್ ಮತ್ತು ಭವ್ಯರ ಸ್ಥಾನಗಳ ಅದಲು ಬದಲು ಹಾಗೆಯೇ ದಿಶಾ ಮತ್ತು ಕುಮಾರ್‌ರ ಸ್ಥಾನಗಳ ಅದಲು ಬದಲು.
- (d) ಅದು ಸಾಧ್ಯವಿಲ್ಲ

77. If 36 men can do a piece of work in 25 hrs, in how many hours will 15 men do it ?
- (a) 60 hrs (b) 20 hrs
(c) 45 hrs (d) 65 hrs

78. The average of 2, 7, 6 and x is 5 and the average of 18, 1, 6, x and y is 10, then the value of y is
- (a) 10 (b) 20
(c) 30 (d) 25

79. Consider the following figures :



Which of the following conclusions can be drawn from the figures I, II & III ?

- (a) The areas of three figures are all different.
(b) The areas of three figures are equal.
(c) The perimeters of all three figures are same.
(d) The perimeters of figures I and II are same.

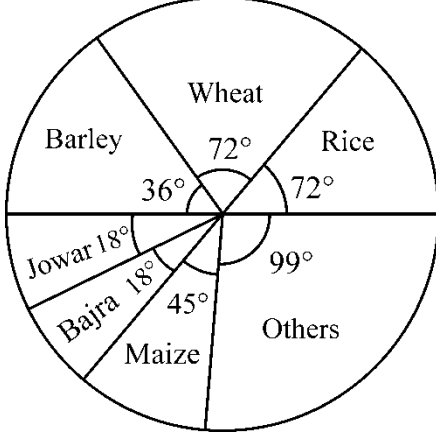
80. Consider the following :

1. Arun, Disha, Kumar and Bhavya were appointed at the places A, B, C, D respectively in 2010.
2. In 2012, they were transferred. Arun and Kumar interchanged places. Disha and Bhavya were also interchanged places.
3. Again in the year 2013, they were transferred such that Arun and Bhavya were interchanged places, also Disha and Kumar interchanged places.

What should be the next round of transfers, so that all the four persons could have been posted at all the four places ?

- (a) Interchange places of Arun & Disha, also interchange places of Kumar and Bhavya.
(b) Interchange places of Arun and Kumar, also interchange Disha and Bhavya.
(c) Interchange places of Arun and Bhavya, also interchange places of Disha and Kumar.
(d) It is not possible.

81. ವಿವಿಧ ಆಹಾರ ಬೆಳೆಗಳ ಅಡಿಯ ಪ್ರದೇಶಗಳ (in acres) ಹಂಚಿಕೆಯನ್ನು ಪೈಕೋಷ್ಠಕದ ಮೂಲಕ ನೀಡಲಾಗಿದೆ. ಆಹಾರ ಬೆಳೆಗಳಡಿ ಬೆಳೆಗಳ ಯಾವ ಸಂಯೋಜನೆ ಒಟ್ಟು ಕ್ಷೇತ್ರದ 50% ಕ್ಕೆ ತನ್ನ ಕೊಡುಗೆ ನೀಡುತ್ತದೆ ?

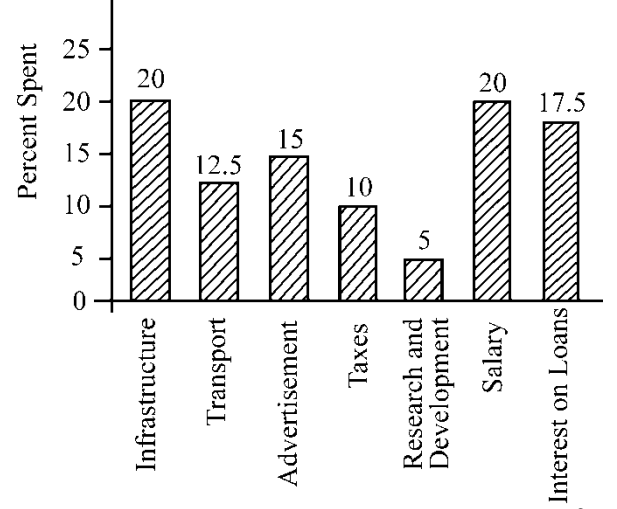


- (a) ಗೋದಿ, ಬಾರ್ಲಿ, ಜೋಳ
 (b) ಭತ್ತ, ಗೋದಿ, ಜೋಳ
 (c) ಬಾಜ್ರ, ಮೆಕ್ಕೆಜೋಳ, ಭತ್ತ
 (d) ಭತ್ತ, ಗೋದಿ, ಜೋಳ, ಬಾಜ್ರ

82. ಒಬ್ಬ ವ್ಯಕ್ತಿ ತನ್ನ ಆದಾಯದ ಶೇ.35 ನ್ನು ಆಹಾರಕ್ಕೆ ವಿನಿಯೋಗಿಸುತ್ತಾನೆ ಮತ್ತು ತನ್ನ ಆದಾಯದ ಶೇ. 25ನ್ನು ಮಕ್ಕಳ ವಿದ್ಯಾಭ್ಯಾಸಕ್ಕೆ ವಿನಿಯೋಗಿಸುತ್ತಾನೆ ಮತ್ತು ಉಳಿದ ಆದಾಯದ ಶೇ. 80ನ್ನು ಮನೆ ಬಾಡಿಗೆಗೆ ವಿನಿಯೋಗಿಸುತ್ತಾನೆ. ಹಾಗಾದರೆ, ಅವನ ಬಳಿ ಉಳಿಯುವ ಆದಾಯದ ಶೇಕಡ ಎಷ್ಟು ?

- (a) 10% (b) 12%
 (c) 5% (d) 8%

83. ಈ ಮುಂದಿನ ಬಾರ್ ಗ್ರಾಫ್‌ನಲ್ಲಿ ಒಂದು ಕಂಪನಿಯ ಒಟ್ಟು ವೆಚ್ಚಗಳ ಶೇಕಡವಾರು ಹಂಚಿಕೆಯನ್ನು ನೀಡಲಾಗಿದೆ.



ಮೂಲಭೂತ ಸೌಲಭ್ಯಗಳು ಮತ್ತು ಸಾರಿಗೆ ಮೇಲಿನ ಒಟ್ಟು ವೆಚ್ಚ, ತೆರಿಗೆಗಳು ಮತ್ತು ಸಾಲಗಳ ಮೇಲಿನ ಬಡ್ಡಿಗಳ ಮೇಲಿನ ಒಟ್ಟು ವೆಚ್ಚದ ಅನುಪಾತವೇನು ?

- (a) 12 : 14 (b) 13 : 11
 (c) 14 : 11 (d) 5 : 7

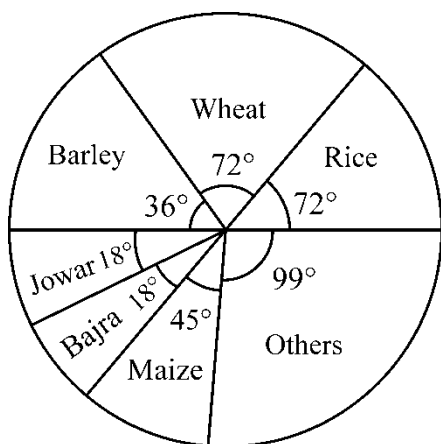
84. ಈ ಕೆಳಗಿನವುಗಳಲ್ಲಿ ವನ್ಯ ಜೀವಿ ಸಂರಕ್ಷಣೆಯ “ಇನ್‌ಸಿಟು” ವಿಧಾನ ಯಾವುದು ?

- (a) ರಾಷ್ಟ್ರೀಯ ಉದ್ಯಾನ
 (b) ಪ್ರಾಣಿ ಶಾಸ್ತ್ರೀಯ ಉದ್ಯಾನ
 (c) ಸಸ್ಯೋದ್ಯಾನ
 (d) ಜೀವಿ ವೈವಿಧ್ಯ ಉದ್ಯಾನ

85. ನಿದ್ರಾರೋಗವನ್ನು ಈ ಕೆಳಕಂಡ ಏಕಾಣುಜೀವಿಯು ಉಂಟು ಮಾಡುತ್ತದೆ.

- (a) ಬ್ಯಾಲನ್ ಟೇಡಿಯಂ
 (b) ಟ್ರಿಪನೋಸೋಮಾ
 (c) ಪ್ಲಾಸ್ಮೋಡಿಯಂ
 (d) ಎಂಟಮೀಬಾ

81. Distribution of areas (in acres) under various food crops are given by Pie-chart. Which combination of the crops contribute to 50% of the total area under the food crops ?

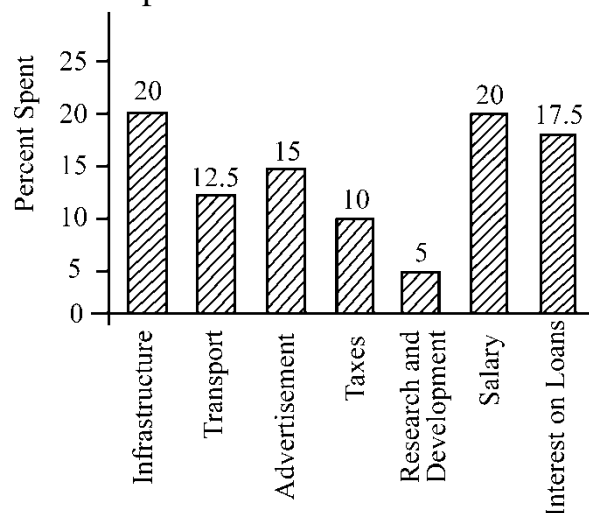


- (a) Wheat, Barley, Jowar
- (b) Rice, Wheat, Jowar
- (c) Bajra, Maize, Rice
- (d) Rice, Wheat, Jowar, Bajra

82. A man spends 35% of his income on food and 25% of his income on children's education and 80% of the remaining on house rent. What percent of his income he is left with ?

- (a) 10%
- (b) 12%
- (c) 5%
- (d) 8%

83. Percentage distribution of total expenditures of a company is given in the following Bar Graph :



What is the ratio of the total expenditure on infrastructure and transport to the total expenditure on taxes and interest on loans ?

- (a) 12 : 14
- (b) 13 : 11
- (c) 14 : 11
- (d) 5 : 7

84. Which one of the following is an "in situ" method of wild life conservation ?

- (a) National Park
- (b) Zoological Garden
- (c) Botanical Garden
- (d) Biodiversity Park

85. The disease sleeping sickness is caused by

- (a) Balantidium
- (b) Trypanosoma
- (c) Plasmodium
- (d) Entamoeba

86. ಶರ್ಕರಪಿಷ್ಟಾದಿಗಳ ಆಹಾರದಿಂದ ದೂರವಿಟ್ಟರೂ ಮಧುಮೇಹ ರೋಗಿಯು ಮೂತ್ರದಲ್ಲಿ ಗ್ಲೂಕೋಸ್ ವಿಸರ್ಜಿಸುತ್ತಾನೆ. ಇದು ಯಾಕೆಂದರೆ

- (a) ಎಡಿಪೋಸ್ ಅಂಗಾಂಶದಲ್ಲಿ ಕೊಬ್ಬು ವಿಚ್ಛಿನ್ನಕಾರಕ ಚಯಾಪಚಯ ಕ್ರಿಯೆಗೊಳಪಟ್ಟು ಗ್ಲೂಕೋಸ್ ಉತ್ಪತ್ತಿ ಮಾಡುತ್ತದೆ.
- (b) ಅಮಿನೊ ಆಮ್ಲಗಳು ಮೂತ್ರಜನಕಾಂಗದಲ್ಲಿ ವಿಚ್ಛಿನ್ನಕಾರಕ ಚಯಾಪಚಯ ಕ್ರಿಯೆಗೊಳಪಟ್ಟು ಗ್ಲೂಕೋಸ್ ಉತ್ಪತ್ತಿ ಮಾಡುತ್ತವೆ.
- (c) ಪಿತ್ತಜನಕಾಂಗವು ಅಮಿನೊ ಆಮ್ಲಗಳನ್ನು ರಕ್ತಕ್ಕೆ ಬಿಡುಗಡೆಗೊಳಿಸುತ್ತದೆ.
- (d) ಮಾಂಸಖಂಡಗಳಿಂದ ಗ್ಲೈಕೋಜನ್ ರಕ್ತಕ್ಕೆ ಬಿಡುಗಡೆಯಾಗುತ್ತದೆ.

87. ಕೊಲ್ಲೇಜನ್ ಉತ್ಪತ್ತಿಯಾಗಲು ಯಾವ ವಿಟಾಮಿನ್ ಸಹಾಯಕಾರಿ ?

- (a) ವಿಟಾಮಿನ್ E (b) ವಿಟಾಮಿನ್ A
- (c) ವಿಟಾಮಿನ್ K (d) ವಿಟಾಮಿನ್ C

88. ಸ್ಕ್ವಿಮಾಟ (ಪತ್ರ ರಂಧ್ರಗಳು) ಯಾವುದಕ್ಕೆ ಸಹಾಯ ಮಾಡುತ್ತವೆ

- (a) ಗಾಳಿಯ ವಿನಿಮಯ
- (b) ಲಿಪಿಡ್ಸ್ ವಿನಿಮಯ
- (c) ನೀರಿನ ವಿನಿಮಯ
- (d) ಪ್ರೋಟೀನ್ ವಿನಿಮಯ

89. ಕಲ್ಲು ಹೂವುಗಳು ಯಾವ ಯಾವ ಜೀವಿಗಳಿಂದ ಕೂಡಿ ಆಗಿರುತ್ತವೆ

- (a) ಬ್ರೂಯೋಫೈಟ್ಸ್ ಮತ್ತು ಜೀಮ್ನೋಸ್ಟರ್ಮ್ಸ್
- (b) ಆಲ್ಗೆ ಮತ್ತು ಫಂಗೈ
- (c) ಜೀಮ್ನೋಸ್ಟರ್ಮ್ಸ್ ಮತ್ತು ಆಂಜಿಯೋಸ್ಟರ್ಮ್ಸ್
- (d) ಫಂಗೈ ಮತ್ತು ಬ್ರೂಯೋಫೈಟ್ಸ್

90. ಸದ್ಯದಲ್ಲಿನ ಬಂಗಾರದ ಬೆಲೆ ಇಳಿಕೆಗೆ ಕಾರಣವೆಂದರೆ

- A. ಡಾಲರಿನ ಬಲಿಷ್ಠತೆ
- B. ಭಾರತದ ಗ್ರಾಮೀಣ ಜನತೆಯ ಬಂಗಾರದ ಅತಿಯಾದ ಬೇಡಿಕೆ
- C. ಇರಾನ್ ಮತ್ತು ಜಾಗತಿಕ 6 ಬಲಾಢ್ಯ ರಾಷ್ಟ್ರಗಳ ಪರಮಾಣು ಒಪ್ಪಂದ
- D. ಚೀನಾದ ಒಟ್ಟು ಬಂಗಾರದ ಪಾಲಿನಲ್ಲಿನ ಇಳಿಕೆ ಕೋಡ್ :

- (a) A, B ಮತ್ತು C
- (b) A, C ಮತ್ತು D
- (c) B, C ಮತ್ತು D
- (d) A, B ಮತ್ತು D

86. A patient of diabetes mellitus excretes glucose in urine even when he is kept in a carbohydrates free diet. It is because

- (a) Fats are catabolised in adipose tissues to form glucose.
- (b) Amino acids are catabolised in kidney to form glucose.
- (c) Amino acids are discharged in blood stream from liver.
- (d) Glycogen from muscles is released in blood stream.

87. Which of the following vitamins is needed for the formation of collagen ?

- (a) Vitamin E (b) Vitamin A
- (c) Vitamin K (d) Vitamin C

88. Stomata helps in

- (a) exchange of gases
- (b) exchange of lipids
- (c) exchange of water
- (d) exchange of proteins

89. Lichens are organisms formed by the association of

- (a) Bryophytes and Gymnosperms
- (b) Algae and Fungi
- (c) Gymnosperms and Angiosperms
- (d) Fungi and Bryophytes

90. A fall in the gold prices recently, occurred on account of

- A. A strong dollar.
- B. A huge demand for gold from the rural population in India.
- C. The nuclear deal signed by Iran and 6 world powers.
- D. China's share of total gold reserves are falling.

Codes :

- (a) A, B and C
- (b) A, C and D
- (c) B, C and D
- (d) A, B and D

91. 400 ಮಿಲಿಯನ್ ಡಾಲರ್ ನೀಡುವ ಕರೆನ್ಸಿ ಸ್ವಾಪ್ ಒಪ್ಪಂದಕ್ಕೆ ಭಾರತದ ರಿಜರ್ವ್ ಬ್ಯಾಂಕ್ ಮತ್ತು ಶ್ರೀಲಂಕಾದ ಕೇಂದ್ರ ಬ್ಯಾಂಕ್ ಪರಸ್ಪರ ಸಹಿ ಮಾಡಿರುವುದರಿಂದ
- A. ಸಾರ್ಕ ರಾಷ್ಟ್ರಗಳ ಅಲ್ಪಕಾಲಾವಧಿ ನಗದು ಪತನ ನಿವಾರಣೆಗೆ ಹೆಚ್ಚುವರಿ ನಿಧಿಯನ್ನಾಗಿ ಉಪಯೋಗಿಸಲು ಬರುತ್ತದೆ.
- B. ಸಾರ್ಕ ರಾಷ್ಟ್ರಗಳ ಸಂದಾಯ ಬಾಕಿ ಪತನ ನಿವಾರಣೆಗೆ ಬೇಕಾಗುವ ಹೆಚ್ಚು ಪರಿನಿಧಿ
- C. ಹಣದ ವೇಗದ ಏರಿಳಿತ
- D. ಭಾರತ ಮತ್ತು ಶ್ರೀಲಂಕಾ ರಾಷ್ಟ್ರಗಳ ದ್ವಿಪಕ್ಷೀಯ ಒಪ್ಪಂದದ ದೌರ್ಬಲ್ಯತೆ ಕೋಡ್ :
- (a) A, B ಮತ್ತು C (b) B, C ಮತ್ತು D
(c) A, B ಮತ್ತು D (d) A, C ಮತ್ತು D

92. ಮೇ 2015 ರಲ್ಲಿ ಭಾರತದ ವ್ಯಾಪಾರ ಕೊರತೆ 10.4 ದಶಲಕ್ಷ U.S. ಡಾಲರಿಗೆ ಇಳಿಯಲು
- A. ವರ್ಷದಿಂದ ವರ್ಷಕ್ಕೆ ಆಯತ ಮತ್ತು ನಿಯಾತ ಮೌಲ್ಯಾಧರಿತಗಳ ತುಲನಾತ್ಮಕ ಇಳಿಕೆಯಿಂದ
- B. ವರ್ಷದಿಂದ ವರ್ಷಕ್ಕೆ ನಿಯಾತಕ್ಕಿಂತ ಆಮದು ಆಧಾರಿತ ವ್ಯಾಪಾರದಲ್ಲಿ ಗಣನೀಯವಾದ ತುಲನಾತ್ಮಕ ಇಳಿಕೆಯಿಂದ
- C. ಆಮದುಗಿಂತ ರಫ್ತು ವರ್ಷದಿಂದ ವರ್ಷಕ್ಕೆ ತುಲನಾತ್ಮಕ ಇಳಿಕೆಯಿಂದ
- D. ಪ್ರಮುಖವಾಗಿ ಚೀನಾ ದೇಶಕ್ಕೆ ರಫ್ತಿನಲ್ಲಿನ ಇಳಿಕೆ ಮತ್ತು ಎಣ್ಣೆ ಹಾಗೂ ಬಂಗಾರದ ಆಮದುವಾಗಿವೆ.
- ಕೋಡ್ :
- (a) A, B ಮತ್ತು C (b) B, C ಮತ್ತು D
(c) A, C ಮತ್ತು D (d) A, B ಮತ್ತು D

93. 2014 ರ ಜಿ.ಎಸ್.ಟಿ ಬಿಲ್ಲು ಕೆಳಗಿನ ಯಾವುದನ್ನೊಳಗೊಂಡಿದೆ.
- A. ಅದು ಜಿ.ಎಸ್.ಟಿ. ಪರಿಷತ್ತಿನ ಸಂವಿಧಾನದ 279-A ವಿಧಿಯನ್ನು ಸೇರಿಸಿರುವುದಿಲ್ಲ.
- B. ಅಂತರಾಜ್ಯಗಳ ನಡುವಿನ ಸರಕುಗಳ ಪೂರೈಕೆ ಮೇಲೆ ಶೇಕಡ ಒಂದಕ್ಕಿಂತ ಹೆಚ್ಚು ತೆರಿಗೆಯ ವಿಧಿಸುವಂತಿಲ್ಲವೆನ್ನುವ ಪ್ರಸ್ತಾಪನೆ ಮತ್ತು ಕೇಂದ್ರ ಎರಡು ವರ್ಷದ ಅವಧಿಗೆ ಸಂಗ್ರಹಿಸಿದ್ದನ್ನು ರಾಜ್ಯಗಳಿಗೆ ಕೊಟ್ಟುಬಿಡುವುದು.
- C. ಅದು ಕೇಂದ್ರದ ಪರೋಕ್ಷ ತೆರಿಗೆ, ಲೇವಿ ಮತ್ತು ಕೇಂದ್ರದ ಮಾರಾಟ ತೆರಿಗೆ, ರಾಜ್ಯದ ಮೌಲ್ಯ ವೃದ್ಧಿ ತೆರಿಗೆ ಮತ್ತು ಮಾರಾಟ ತೆರಿಗೆಗಳ ಸಮ್ಮಿಲನವಾಗಿದೆ.
- D. ಅದು ಮಾನವ ಉಪಭೋಗದ ಮಾದಕ ಪಾನೀಯ ಹೊರತುಪಡಿಸಿ ಎಲ್ಲಾ ಸರಕು ಸೇವೆಗಳನ್ನೊಳಗೊಂಡಿದೆ.
- ಕೋಡ್ :
- (a) A, B ಮತ್ತು C (b) B, C ಮತ್ತು D
(c) A, C ಮತ್ತು D (d) A, B ಮತ್ತು D
94. ಹಣದ ಅಥವಾ ಠೇವಣಿಯಲ್ಲಿ ಇಳಿಕೆ ಯಾದರೆ ಬ್ಯಾಂಕ್ ದರ
- A. ಹೆಚ್ಚಾಗುತ್ತದೆ
- B. ಕಡಿಮೆಯಾಗುತ್ತದೆ
- C. ಸ್ಥಿರವಾಗಿರುತ್ತದೆ
- D. ಮೇಲಿನ ಯಾವುದೂ ಆಗಿರುವುದಿಲ್ಲ
- ಕೋಡ್ :
- (a) A, B, C ಮತ್ತು D ಸರಿಯಾಗಿದೆ
(b) A ಮತ್ತು B ಸರಿಯಾಗಿದೆ
(c) A ಮಾತ್ರ ಸರಿಯಾಗಿದೆ
(d) A, B ಮತ್ತು C ಸರಿಯಾಗಿದೆ

91. The Currency Swap Agreement signed between the RBI and the Central Bank of Sri Lanka for \$ 400 million provided

- A. Additional funding for the SAARC countries to meet short term liquidity crisis.
- B. Additional funding for the SAARC countries to meet balance of payments crisis.
- C. Curtailing of currency volatility.
- D. A weak bilateral relation between India and Sri Lanka.

Codes :

- (a) A, B and C (b) B, C and D
- (c) A, B and D (d) A, C and D

92. India's trade deficit in May 2015 declined to 10.4 billion US \$ due to

- A. A decline in both export value and import value based on year on year comparisons.
- B. A greater decline in imports than exports based on year on year comparisons.
- C. A larger decline in exports than imports based on year on year comparisons.
- D. A fall in exports to China and a fall in oil and gold imports mainly.

Codes :

- (a) A, B and C (b) B, C and D
- (c) A, C and D (d) A, B and D

93. Which of the following is not a highlight of the GST Bill, 2014 ?

- A. It does not provide for constitution of a Goods and Services Tax (GST) Council by inserting Article 279-A in the Constitution.
- B. It proposes an additional tax on supply of goods, not exceeding one percent, in the course of Inter-State trade will be levied and collected by the Union for a period of two years and apportioned to the States.
- C. It subsumes all the Central Indirect Taxes, levies and Central Sales Tax and State Value Added Tax and Sales Tax.
- D. It covers all goods and services except alcoholic liquor for human consumption for the levy of GST.

Codes :

- (a) A, B & C (b) B, C & D
- (c) A, C & D (d) A, B & D

94. If Currency / Deposit decreases, then Bank rate

- A. Increases
- B. Decreases
- C. Remains constant
- D. None of the above

Codes :

- (a) A, B, C and D are correct.
- (b) A & B are correct.
- (c) Only A is correct.
- (d) A, B & C are correct.

95. ಸದ್ಯದ ಅವಧಿಯಲ್ಲಿ ಶೇಕಡ 100 ರಷ್ಟು ಎಫ್.ಡಿ.ಐ ವಲಯಗಳೆಂದರೆ
- ಟೆಲಿಕಾಂ ವಲಯ
 - ರಕ್ಷಣಾ ವಲಯ
 - ಏಕ ಚಿಹ್ನೆಯ ಕಿರುಕುಳ ವ್ಯಾಪಾರ ವಲಯ
 - ಮೆಡಿಕಲ್ ಅಂಶಗಳ ವಲಯ
- ಕೋಡ್ಸ್ :
- D, A ಮತ್ತು C (b) A, C ಮತ್ತು D
 - C, A ಮತ್ತು B (d) B, D ಮತ್ತು C
96. ಬಹು ಅಂಶಗಳ ಬಡತನ ಸೂಚಕದಲ್ಲಿ ಹೊಸಸೂಚಕವನ್ನು ಒಳಗೊಂಡಿದೆ.
- ಜಾಗತಿಕ ಮಾನವ ವರದಿ
 - ಮಾನವ ಅಭಿವೃದ್ಧಿ ವರದಿ
 - ಜಾಗತಿಕ ಅಭಿವೃದ್ಧಿ ವರದಿ
 - ಭಾರತದ ಮಾನವ ಅಭಿವೃದ್ಧಿ ವರದಿ
- ಕೋಡ್ಸ್ :
- A, B, C ಮತ್ತು D ಗಳು ಸರಿ.
 - A ಮತ್ತು B ಸರಿ.
 - A, B ಮತ್ತು C ಸರಿ.
 - A ಮಾತ್ರ ಸರಿ
97. 2013-14 ರಲ್ಲಿ ಭಾರತದ 3 ರಾಜ್ಯಗಳು ಅತೀ ಹೆಚ್ಚು ಒಟ್ಟು ಆಂತರಕ ಉತ್ಪನ್ನವನ್ನು ಹೊಂದಿದ ರಾಜ್ಯಗಳು
- ದೆಹಲಿ B. ಚಂಡೀಗಡ
 - ಪುದುಚೇರಿ D. ಮೇಘಾಲಯ
- ಕೋಡ್ಸ್ :
- C, D ಮತ್ತು B (b) A, C ಮತ್ತು D
 - D, A ಮತ್ತು C (d) C, A ಮತ್ತು B

98. 2014-15 ರಲ್ಲಿ ಕೆಳಗಿನ ಯಾವ ವಲಯಗಳು ಭಾರತದಲ್ಲಿ ದ್ವಿ-ಸಂಖ್ಯೆ ಪ್ರಗತಿಯನ್ನು ಹೊಂದಿದ್ದವು ?
- ಅಭಿಯಂತರ ವಲಯ
 - ರಫ್ತು ವಲಯ (ಸರ್ವಿಸ್ ಸೆಕ್ಟರ್)
 - ಮೆಡಿಕಲ್ ಟೂರಿಜಂ (ಫರ್ಮಾಸ್ಯೂಟಿಕಲ್ ಸೆಕ್ಟರ್)
 - ಸಾರ್ವಜನಿಕವಲಯದ ಬ್ಯಾಂಕುಗಳು
- ಕೋಡ್ಸ್ :
- D, A ಮತ್ತು C (b) C, D ಮತ್ತು B
 - A, D ಮತ್ತು B (d) C, A ಮತ್ತು B
99. ರಿಸರ್ವ್ ಬ್ಯಾಂಕಿನಿಂದ ಜುಲೈ 2015 ನಲ್ಲಿ ಹಣಕಾಸಿಗೆ ಸಂಬಂಧಿಸಿದ ಆಕ್ಶನ್ ಪ್ಲಾನ್ (Action Plan) ರಚಿಸುವುದಕ್ಕಾಗಿ ನಿಯಮಿತವಾದ ಮಂಡಳಿ ಕೆಳಗಿನ ಮಂಡಳಿಯಲ್ಲಿ (Committee) ಯಾವುದು ?
- ರಂಗರಾಜನ್ ಕಮೀಟಿ
 - ಕೆಲ್ಕರ್ ಕಮೀಟಿ
 - ದೀಪಕ್ ಮೊಹಂತಿ ಕಮೀಟಿ
 - ಆರ್. ಗಾಂಧಿ ಕಮೀಟಿ
- ಕೋಡ್ಸ್ :
- C ಮಾತ್ರ (b) A ಮತ್ತು D ಮಾತ್ರ
 - D, A ಮತ್ತು B (d) D ಮಾತ್ರ
100. ಸರ್ಕಾರದ ಆಡಳಿತಾತ್ಮಕ ಬೆಲೆಯಲ್ಲಿನ ಹೆಚ್ಚಳದಿಂದ
- ವೆಚ್ಚದೊತ್ತಡ ಅತಿಪ್ರಸರಣ
 - ಬೇಡಿಕೆ ಹೆಚ್ಚಳದ ಅತಿಪ್ರಸರಣ
 - A ಮತ್ತು B ಎರಡೂ
 - ಮೇಲಿನ ಯಾವುದೂ ಅಲ್ಲ
- ಕೋಡ್ಸ್ :
- A, B, C ಮತ್ತು D ಸರಿ.
 - A, B ಮತ್ತು C ಸರಿ.
 - A ಮಾತ್ರ ಸರಿ.
 - A ಮತ್ತು B ಸರಿ.

95. The sectors that can have 100% FDI in India currently are

- A. The Telecom Sector
- B. Defence Sector
- C. Single Brand Retail
- D. Medical Devices

Codes :

- (a) D, A and C (b) A, C and D
- (c) C, A and B (d) B, D and C

96. Multi Dimensional Poverty Index is a new index to be included in

- A. World Human Report
- B. Human Development Report
- C. World Development Report
- D. India's Human Development Report

Codes :

- (a) A, B, C and D are correct.
- (b) A and B are correct.
- (c) A, B and C are correct.
- (d) Only A is correct.

97. The top 3 Indian States in order, with the highest Gross State Domestic Product growth, at constant prices, in 2013-14 are

- A. Delhi B. Chandigarh
- C. Puducherry D. Meghalaya

Codes :

- (a) C, D and B (b) A, C and D
- (c) D, A and C (d) C, A and B

98. Double digit growth was witnessed in which of the following sectors in India in 2014-15 ?

- A. Engineering Exports
- B. Services Sector
- C. Pharmaceuticals Sector
- D. Public Sector Banks

Codes :

- (a) D, A & C (b) C, D & B
- (c) A, D & B (d) C, A & B

99. The Committee constituted by the RBI, in July 2015, to frame the Action Plan on Financial Inclusion, is

- A. The Rangarajan Committee
- B. The Kelkar Committee
- C. The Deepak Mohanty Committee
- D. The R. Gandhi Committee

Codes :

- (a) Only C
- (b) Only A and D
- (c) D, A and B
- (d) Only D

100. Government's increase in Administered Prices will lead to

- A. Cost push inflation
- B. Demand pull inflation
- C. Both A and B
- D. None of the above

Codes :

- (a) A, B, C & D are correct.
- (b) A, B & C are correct.
- (c) Only A is correct.
- (d) A & B are correct.

ಚಿತ್ರ ಬರಹಕ್ಕಾಗಿ ಸ್ಥಳ
SPACE FOR ROUGH WORK

ಚಿತ್ರ ಬರಹಕ್ಕಾಗಿ ಸ್ಥಳ
SPACE FOR ROUGH WORK

ಈ ಪ್ರಶ್ನೆಪುಸ್ತಿಕೆಯನ್ನು ತೆರೆಯುವಂತೆ ನಿಮಗೆ ತಿಳಿಸುವವರೆಗೂ ಇದನ್ನು ತೆರೆಯಕೂಡದು.

ವರ್ಷನ್ ಕೋಡ್

A

ವಿಷಯ ಸಂಕೇತ : **38**

ಪ್ರಶ್ನೆಪುಸ್ತಿಕೆ
ಸಾಮಾನ್ಯ ಅಧ್ಯಯನ

ಗರಿಷ್ಠ ಸಮಯ : 1½ ಗಂಟೆಗಳು

ಗರಿಷ್ಠ ಅಂಕಗಳು : 200

ಸೂಚನೆಗಳು

1. ಪರೀಕ್ಷೆ ಪ್ರಾರಂಭಗೊಂಡ ತಕ್ಷಣವೇ ಓ.ಎಂ.ಆರ್. ಉತ್ತರ ಹಾಳೆಯಲ್ಲಿ ಪ್ರಶ್ನೆ ಪತ್ರಿಕೆ ಶ್ರೇಣಿಯನ್ನು ಗುರುತು ಮಾಡುವ ಮೊದಲು, ಈ ಪ್ರಶ್ನೆ ಪುಸ್ತಿಕೆಯಲ್ಲಿ ಮುದ್ರಿತವಾಗದ ಅಥವಾ ಹರಿದಿರುವ ಅಥವಾ ಯಾವುದೇ ಪುಟ ಇಲ್ಲದಿರುವ ಅಥವಾ ಮುದ್ರಿತವಾಗದ ಪ್ರಶ್ನೆಗಳು ಇತ್ಯಾದಿ ಒಳಗೊಂಡಿಲ್ಲವೆಂಬುದನ್ನು ನೀವು ಪರೀಕ್ಷಿಸತಕ್ಕದ್ದು. ಮೇಲಿನ ಯಾವುದೇ ದೋಷ ಕಂಡುಬಂದಲ್ಲಿ ಅದನ್ನು ಹಿಂತಿರುಗಿಸಿ ಲಭ್ಯವಿರುವ ಶ್ರೇಣಿಯ ಪರಿಪೂರ್ಣವಾದ ಬೇರೆ ಪ್ರಶ್ನೆ ಪುಸ್ತಿಕೆಯನ್ನು ಪಡೆಯತಕ್ಕದ್ದು.
2. ಅಭ್ಯರ್ಥಿಯು ಪ್ರಶ್ನೆ ಪುಸ್ತಿಕೆಯ ವರ್ಷನ್ ಕೋಡ್ **A, B, C** ಅಥವಾ **D**, ಅನ್ನು ಮತ್ತು ನೋಂದಣಿ ಸಂಖ್ಯೆಯನ್ನು **OMR** ಉತ್ತರ ಪತ್ರಿಕೆಯಲ್ಲಿ ಅದಕ್ಕಾಗಿ ಒದಗಿಸಲಾಗಿರುವ ಸ್ಥಳದಲ್ಲಿ ಬರೆದು ಸಂಕೇತ (ಎನ್ ಕೋಡ್) ಗೊಳಿಸಬೇಕು. ಹಾಗೂ ನಿಗದಿತ ಸ್ಥಳದಲ್ಲಿ ತಾವು ಮತ್ತು ಸಂವೀಕ್ಷಕರು ಸಹಿ ಮಾಡಿರುವುದನ್ನು ಖಚಿತ ಪಡಿಸಿಕೊಳ್ಳಬೇಕು. ಓ.ಎಂ.ಆರ್. ಹಾಳೆಯಲ್ಲಿ ತಿಳಿಸಿರುವ ಯಾವುದೇ ಮಾಹಿತಿಯನ್ನು ಭರ್ತಿ ಮಾಡುವುದು/ಎನ್ ಕೋಡ್ ಮಾಡುವುದು ಅಭ್ಯರ್ಥಿಗಳ ಜವಾಬ್ದಾರಿಯಾಗಿರುತ್ತದೆ. ಒಂದು ವೇಳೆ ಭರ್ತಿ ಮಾಡದಿದ್ದಲ್ಲಿ/ತಪ್ಪಿದ್ದಲ್ಲಿ ಅಂತಹ ಓ.ಎಂ.ಆರ್. ಉತ್ತರ ಹಾಳೆಯನ್ನು ತಿರಸ್ಕರಿಸಲಾಗುವುದು.
3. ಪಕ್ಕದಲ್ಲಿ ಒದಗಿಸಿರುವ ಚೌಕದಲ್ಲೇ ನಿಮ್ಮ ನೋಂದಣಿ ಸಂಖ್ಯೆಯನ್ನು ನಮೂದಿಸಬೇಕು. ಪ್ರಶ್ನೆ ಪುಸ್ತಿಕೆಯಲ್ಲಿ ಬೇರೆ ಏನನ್ನೂ ಬರೆಯಬಾರದು.
4. ಈ ಪ್ರಶ್ನೆ ಪುಸ್ತಿಕೆ **100** ಪ್ರಶ್ನೆಗಳನ್ನು ಒಳಗೊಂಡಿರುತ್ತದೆ. ಪ್ರತಿಯೊಂದು ಪ್ರಶ್ನೆಯು **4** ಉತ್ತರಗಳನ್ನು ಒಳಗೊಂಡಿರುತ್ತದೆ. ನೀವು ಉತ್ತರ ಪತ್ರಿಕೆಯಲ್ಲಿ ಗುರುತು ಮಾಡಬೇಕೆಂದಿನಿಸುವ ಉತ್ತರವನ್ನು ಆಯ್ಕೆ ಮಾಡಿಕೊಳ್ಳಿ. ಒಂದು ವೇಳೆ ಅಲ್ಲಿ ಒಂದಕ್ಕಿಂತ ಹೆಚ್ಚು ಸರಿಯಾದ ಉತ್ತರಗಳಿವೆಯೆಂದು ನೀವು ಭಾವಿಸಿದರೆ ಅತ್ಯುತ್ತಮವೆನಿಸುವ ಉತ್ತರಕ್ಕೆ ಗುರುತು ಮಾಡಿ. ಏನೇ ಆದರೂ ಪ್ರತಿ ಪ್ರಶ್ನೆಗೆ ನೀವು ಕೇವಲ ಒಂದು ಉತ್ತರವನ್ನು ಮಾತ್ರ ಆಯ್ಕೆ ಮಾಡಬೇಕು.
5. ಎಲ್ಲಾ ಉತ್ತರಗಳನ್ನು ನಿಮಗೆ ಒದಗಿಸಲಾಗಿರುವ ಪ್ರತ್ಯೇಕ ಉತ್ತರ ಪತ್ರಿಕೆಯಲ್ಲಿ (OMR Sheet) ಕೇವಲ ಕಪ್ಪು ಅಥವಾ ನೀಲಿ ಶಾಯಿಯ ಬಾಲ್‌ಪಾಯಿಂಟ್ ಪೆನ್ನಿನಲ್ಲಿ ಮಾತ್ರ ಗುರುತು ಮಾಡಬೇಕು. ಉತ್ತರ ಪತ್ರಿಕೆ ಹಾಳೆಯಲ್ಲಿನ ಸೂಚನೆಗಳನ್ನು ಗಮನಿಸುವುದು.
6. ಎಲ್ಲಾ ಪ್ರಶ್ನೆಗಳಿಗೆ ಸಮಾನ ಅಂಕಗಳು. ಎಲ್ಲಾ ಪ್ರಶ್ನೆಗಳಿಗೂ ಉತ್ತರಿಸಿರಿ.
7. ಚಿತ್ತು ಕೆಲಸಕ್ಕಾಗಿ ಹಾಳೆಗಳನ್ನು ಪ್ರಶ್ನೆ ಪುಸ್ತಿಕೆಯ ಕೊನೆಯಲ್ಲಿ ಸೇರಿಸಲಾಗಿದೆ. ಪ್ರಶ್ನೆಪುಸ್ತಿಕೆಯ ಇನ್ನುಳಿದ ಯಾವ ಭಾಗದಲ್ಲಿಯೂ ನೀವು ಯಾವ ರೀತಿಯ ಗುರುತನ್ನು ಮಾಡತಕ್ಕದ್ದಲ್ಲ.
8. ಪರೀಕ್ಷೆಯ ಮುಕ್ತಾಯವನ್ನು ಸೂಚಿಸುವ ಅಂತಿಮ ಗಂಟೆ ಬಾರಿಸಿದ ತಕ್ಷಣವೇ ಉತ್ತರ ಪತ್ರಿಕೆಯ ಹಾಳೆಯಲ್ಲಿ ಇನ್ನಾವುದೇ ಗುರುತುಮಾಡುವುದನ್ನು ನಿಲ್ಲಿಸಬೇಕು. ಸಂವೀಕ್ಷಕರು ಬಂದು ನಿಮ್ಮಲ್ಲಿರುವ ಉತ್ತರ ಪತ್ರಿಕೆಯ ಹಾಳೆಯನ್ನು ತಮ್ಮ ವಶಕ್ಕೆ ತೆಗೆದುಕೊಂಡು ಲೆಕ್ಕಕ್ಕೆ ತೆಗೆದುಕೊಳ್ಳುವವರೆಗೂ ನಿಮ್ಮ ನಿಮ್ಮ ಆಸನದಲ್ಲಿಯೇ ಕುಳಿತಿರತಕ್ಕದ್ದು.
9. ಪ್ರಶ್ನೆಗಳು ಕನ್ನಡ ಮತ್ತು ಆಂಗ್ಲ ಭಾಷೆಯಲ್ಲಿರುತ್ತವೆ. ಕನ್ನಡ ಪ್ರಶ್ನೆಗಳಲ್ಲಿ ಸಂದೇಹ ಉಂಟಾದರೆ, ದಯವಿಟ್ಟು ಆಂಗ್ಲ ಭಾಷೆಯ ಪ್ರಶ್ನೆಗಳನ್ನು ಗಮನಿಸುವುದು. ಪ್ರಶ್ನೆ ಪತ್ರಿಕೆಯ ಪ್ರಶ್ನೆಗಳಲ್ಲಿ ಯಾವುದೇ ಗೊಂದಲಗಳಿದ್ದರೂ ಆಂಗ್ಲಭಾಷೆಯ ಪ್ರಶ್ನೆಗಳೇ ಅಂತಿಮವಾಗಿರುತ್ತವೆ.

ಯಾವುದೇ ರೀತಿಯ ಮೊಬೈಲ್ ಫೋನ್, ಕ್ಯಾಲ್ ಕ್ಯಾಲೇಟರ್ ಮತ್ತು ಇತರೆ ರೀತಿಯ ಎಲೆಕ್ಟ್ರಾನಿಕ್/ಕಮ್ಯುನಿಕೇಷನ್ ಸಾಧನಗಳು ಇತ್ಯಾದಿಗಳನ್ನು ಪರೀಕ್ಷಾ ಕೇಂದ್ರದ ಆವರಣದೊಳಗೆ ತರುವುದನ್ನು ನಿಷೇಧಿಸಿದೆ.

38-A

Note : English version of the instructions is printed on the front cover of this booklet.