


ವಿಷಯ ಸಂಕೇತ : 252

ಪ್ರಶ್ನೆ ಪುಸ್ತಿಕೆ ಶ್ರೇಣಿ

ಪ್ರಶ್ನೆ ಪುಸ್ತಿಕೆ  
ಸಾಮಾನ್ಯ ಅಧ್ಯಯನ  
(ಪತ್ರಿಕೆ I)



ಸಮಯ : 1  $\frac{1}{2}$  ಗಂಟೆಗಳು

ಗರಿಷ್ಠ ಅಂಕಗಳು : 200

### ಸೂಚನೆಗಳು

1. ಪರೀಕ್ಷೆ ಪ್ರಾರಂಭಗೊಂಡ ತಕ್ಷಣವೇ ಒ.ಎಂ.ಆರ್. ಉತ್ತರಹಾಳೆಯಲ್ಲಿ ಪ್ರಶ್ನೆ ಪುಸ್ತಿಕೆ ಶ್ರೇಣಿಯನ್ನು ಗುರುತು ಮಾಡುವ ಮೊದಲು, ಈ ಪ್ರಶ್ನೆ ಪುಸ್ತಿಕೆಯಲ್ಲಿ ಮುದ್ರಿತವಾಗದ ಅಥವಾ ಹರಿದಿರುವ ಅಥವಾ ಯಾವುದೇ ಪುಟ ಇಲ್ಲದಿರುವ ಅಥವಾ ಮುದ್ರಿತವಾಗದ ಪ್ರಶ್ನೆಗಳು ಇತ್ಯಾದಿ ಒಳಗೊಂಡಿಲ್ಲವೆಂಬುದನ್ನು ನೀವು ಪರೀಕ್ಷಿಸತಕ್ಕದ್ದು. ಮೇಲಿನ ಯಾವುದೇ ದೋಷ ಕಂಡುಬಂದಲ್ಲಿ ಅದನ್ನು ಹಿಂತಿರುಗಿಸಿ ಲಭ್ಯವಿರುವ ಶ್ರೇಣಿಯ ಪರಿಪೂರ್ಣವಾದ ಬೇರೆ ಪ್ರಶ್ನೆ ಪುಸ್ತಿಕೆಯನ್ನು ಪಡೆಯತಕ್ಕದ್ದು.
2. ಅಭ್ಯರ್ಥಿಯು ಪ್ರಶ್ನೆ ಪುಸ್ತಿಕೆಯ ಶ್ರೇಣಿ A, B, C ಅಥವಾ D ಅನ್ನು ವಿಷಯ ಸಂಕೇತ ಮತ್ತು ನೋಂದಣಿ ಸಂಖ್ಯೆಯನ್ನು OMR ಉತ್ತರ ಪತ್ರಿಕೆಯಲ್ಲಿ ಅದಕ್ಕಾಗಿ ಒದಗಿಸಲಾಗಿರುವ ಸ್ಥಳದಲ್ಲಿ ಬರೆದು ಸಂಕೇತ (ಎನ್ ಕೋಡ್) ಗೊಳಿಸಬೇಕು. ಹಾಗೂ ನಿಗದಿತ ಸ್ಥಳದಲ್ಲಿ ತಾವು ಮತ್ತು ಸಂವೀಕ್ಷಕರು ಸಹಿ ಮಾಡಿರುವುದನ್ನು ಖಚಿತ ಪಡಿಸಿಕೊಳ್ಳಬೇಕು. ಒ.ಎಂ.ಆರ್. ಹಾಳೆಯಲ್ಲಿ ತಿಳಿಸಿರುವ ಯಾವುದೇ ಮಾಹಿತಿಯನ್ನು ಭರ್ತಿ ಮಾಡುವುದು/ಎನ್ ಕೋಡ್ ಮಾಡುವುದು ಅಭ್ಯರ್ಥಿಗಳ ಜವಾಬ್ದಾರಿಯಾಗಿರುತ್ತದೆ. ಒಂದು ವೇಳೆ ಭರ್ತಿ ಮಾಡದಿದ್ದಲ್ಲಿ/ತಪ್ಪಿದಲ್ಲಿ ಅಂತಹ ಒ.ಎಂ.ಆರ್. ಉತ್ತರ ಹಾಳೆಯನ್ನು ತಿರಸ್ಕರಿಸಲಾಗುವುದು.
3. ಪಕ್ಕದಲ್ಲಿ ಒದಗಿಸಿರುವ ಚೌಕದಲ್ಲೇ ನಿಮ್ಮ ನೋಂದಣಿ ಸಂಖ್ಯೆಯನ್ನು ನಮೂದಿಸಬೇಕು. ಪ್ರಶ್ನೆ ಪುಸ್ತಿಕೆಯಲ್ಲಿ ಬೇರೆ ಏನನ್ನೂ ಬರೆಯಬಾರದು.
4. ಈ ಪ್ರಶ್ನೆ ಪುಸ್ತಿಕೆ 100 ಪ್ರಶ್ನೆಗಳನ್ನು ಒಳಗೊಂಡಿರುತ್ತದೆ. ಪ್ರತಿಯೊಂದು ಪ್ರಶ್ನೆಯು 4 ಪ್ರತಿಕ್ರಿಯೆಗಳನ್ನು (ಉತ್ತರಗಳನ್ನು) ಒಳಗೊಂಡಿರುತ್ತದೆ. ನೀವು ಉತ್ತರ ಹಾಳೆಯಲ್ಲಿ ಗುರುತು ಮಾಡಬೇಕೆನಿಸುವ ಉತ್ತರವನ್ನು ಆಯ್ಕೆ ಮಾಡಿಕೊಳ್ಳಿ. ಒಂದು ವೇಳೆ ಅಲ್ಲಿ ಒಂದಕ್ಕಿಂತ ಹೆಚ್ಚು ಸರಿಯಾದ ಉತ್ತರಗಳವೆಯೆಂದು ನೀವು ಭಾವಿಸಿದರೆ ನಿಮಗೆ ಅತ್ಯುತ್ತಮವೆನಿಸುವ ಉತ್ತರಕ್ಕೆ ಗುರುತು ಮಾಡಿ. ಏನೇ ಅದರೂ ಪ್ರತಿ ಪ್ರಶ್ನೆಗೆ ನೀವು ಕೇವಲ ಒಂದು ಉತ್ತರವನ್ನು ಮಾತ್ರ ಆಯ್ಕೆ ಮಾಡಬೇಕು.
5. ಎಲ್ಲಾ ಉತ್ತರಗಳನ್ನು ನಿಮಗೆ ಒದಗಿಸಲಾಗಿರುವ ಪ್ರತ್ಯೇಕ ಉತ್ತರ ಹಾಳೆಯ ಮೇಲೆ ಕೇವಲ ಕಪ್ಪು ಅಥವಾ ನೀಲಿ ಶಾಯಿಯ ಬಾಲ್ ಪಾಯಿಂಟ್ ಪೆನ್ನಿನಲ್ಲಿ ಮಾತ್ರ ಗುರುತು ಮಾಡಬೇಕು. ಒ.ಎಂ.ಆರ್. ಉತ್ತರ ಪತ್ರಿಕೆ ಹಾಳೆಯಲ್ಲಿನ ವಿವರವಾದ ಸೂಚನೆಗಳನ್ನು ಗಮನಿಸುವುದು.
6. ಎಲ್ಲಾ ಪ್ರಶ್ನೆಗಳಿಗೆ ಸಮಾನ ಅಂಕಗಳು. ಎಲ್ಲಾ ಪ್ರಶ್ನೆಗಳಿಗೆ ಉತ್ತರಿಸಿ. ಪ್ರತಿ ತಪ್ಪು ಉತ್ತರಕ್ಕೆ ಪ್ರಶ್ನೆಗೆ ನಿಗದಿಪಡಿಸಿದ ಅಂಕಗಳ  $\frac{1}{4}$  (0.25) ರಷ್ಟು ಅಂಕಗಳನ್ನು ಕಳೆಯಲಾಗುವುದು.
7. ಚಿತ್ತು ಕೆಲಸಕ್ಕಾಗಿ ಹಾಳೆಗಳನ್ನು ಪ್ರಶ್ನೆ ಪುಸ್ತಿಕೆಯ ಕೊನೆಯಲ್ಲಿ ಸೇರಿಸಲಾಗಿದೆ. ಪ್ರಶ್ನೆ ಪುಸ್ತಿಕೆಯ ಇನ್ನೊಂದು ಯಾವ ಭಾಗದಲ್ಲಿಯೂ ನೀವು ಯಾವ ರೀತಿಯ ಗುರುತನ್ನು ಮಾಡತಕ್ಕದ್ದಲ್ಲ.
8. ಪರೀಕ್ಷೆಯ ಮುಕ್ತಾಯವನ್ನು ಸೂಚಿಸುವ ಅಂತಿಮ ಗಂಟೆ ಬಾರಿಸಿದ ತಕ್ಷಣವೇ ಉತ್ತರ ಪತ್ರಿಕೆ ಹಾಳೆಯಲ್ಲಿ ಇನ್ನಾವುದೇ ಗುರುತು ಮಾಡುವುದನ್ನು ನಿಲ್ಲಿಸಬೇಕು. ಸಂವೀಕ್ಷಕರು ಒಂದು ನಿಮಿತ್ತಿರುವ ಉತ್ತರ ಹಾಳೆಯನ್ನು ತಮ್ಮ ವಶಕ್ಕೆ ಪಡೆದುಕೊಂಡು ಲೆಕ್ಕಕ್ಕೆ ತೆಗೆದುಕೊಳ್ಳುವವರೆಗೂ ನಿಮ್ಮ ನಿಮ್ಮ ಆಸನದಲ್ಲಿಯೇ ಕುಳಿತಿರತಕ್ಕದ್ದು.
9. ಪ್ರಶ್ನೆಗಳು ಕನ್ನಡ ಮತ್ತು ಆಂಗ್ಲ ಭಾಷೆಯಲ್ಲಿರುತ್ತವೆ. ಕನ್ನಡ ಪ್ರಶ್ನೆಗಳಲ್ಲಿ ಸಂದೇಹ ಉಂಟಾದರೆ, ದಯವಿಟ್ಟು ಆಂಗ್ಲ ಭಾಷೆಯ ಪ್ರಶ್ನೆಗಳನ್ನು ಗಮನಿಸುವುದು. ಪ್ರಶ್ನೆ ಪತ್ರಿಕೆಯ ಪ್ರಶ್ನೆಗಳಲ್ಲಿ ಯಾವುದೇ ಗೊಂದಲಗಳಿದ್ದರೂ ಆಂಗ್ಲಭಾಷೆಯ ಪ್ರಶ್ನೆಗಳೇ ಅಂತಿಮವಾಗಿರುತ್ತದೆ.

ನೋಂದಣಿ ಸಂಖ್ಯೆ

ಯಾವುದೇ ರೀತಿಯ ಮೊಬೈಲ್ ಫೋನ್, ಕ್ಯಾಲ್ ಕ್ಯಾಲೇಟರ್ ಮತ್ತು ಇತರೆ ರೀತಿಯ ಎಲೆಕ್ಟ್ರಾನಿಕ್/ಕಮ್ಯೂನಿಕೇಷನ್ ಸಾಧನಗಳು ಇತ್ಯಾದಿಗಳನ್ನು ಪರೀಕ್ಷಾ ಕೇಂದ್ರದ ಆವರಣದೊಳಗೆ ತರುವುದನ್ನು ನಿಷೇಧಿಸಿದೆ.

**Note : English version of the instructions is printed on the back cover of this booklet.**

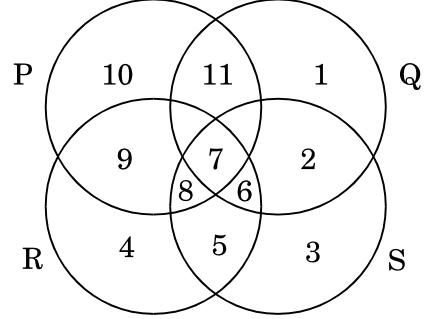
1. ಎರಡು ರೈಲುಗಾಡಿಗಳಲ್ಲಿ ಒಂದು ಪ್ಯಾಸೆಂಜರ್ ಮತ್ತು ಇನ್ನೊಂದು ಸರಕು ಸಾಗಣೆ ರೈಲಾಗಿದ್ದು ಇವು ಬೆಂಗಳೂರನ್ನು ಬಿಟ್ಟು ದೆಹಲಿಗೆ ಹೊರಟವು. ಪ್ಯಾಸೆಂಜರ್ ರೈಲು ಗಂಟೆಗೆ ಸರಾಸರಿ 40 ಕಿ.ಮೀ./ಘಂ. ವೇಗದಲ್ಲಿ ಸರಕು ಸಾಗಣೆ ರೈಲು ಹೊರಟ 2 ಗಂಟೆಗಳ ನಂತರ ಹೊರಟಿತು. 6 ಗಂಟೆಗಳ ಪ್ರಯಾಣದ ನಂತರ ಸರಕು ಸಾಗಣೆ ರೈಲನ್ನು ಪ್ಯಾಸೆಂಜರ್ ರೈಲು ಹಿಂದಿಕ್ಕಿತು. ಹೀಗಿದ್ದಲ್ಲಿ ಸರಕು ಸಾಗಣೆ ರೈಲಿನ ಸರಾಸರಿ ವೇಗವು

- (1) ಗಂಟೆಗೆ 60 ಕಿ.ಮೀ.
- (2) ಗಂಟೆಗೆ 40 ಕಿ.ಮೀ.
- (3) ಗಂಟೆಗೆ 30 ಕಿ.ಮೀ.
- (4) ಗಂಟೆಗೆ 20 ಕಿ.ಮೀ.

2. ಒಂದು ನಿರ್ದಿಷ್ಟ ಸಂಕೇತ ಭಾಷೆಯಲ್ಲಿ 'ಪಿಟ್ ಬೀ ಪೀ' ಎಂದರೆ 'ಗುಲಾಬಿಗಳು ನೀಲಿಯಾಗಿವೆ', 'ಪೀ ಸಿಕ್ ಹೀ ಬೀ' ಎಂದರೆ 'ಕೆಂಪು ಹೂಗಳು ಗುಲಾಬಿಗಳಾಗಿವೆ ಮತ್ತು 'ಪೀ ಮಿಟ್ ಹೀ' ಎಂದರೆ 'ಹೂಗಳು ತರಕಾರಿಗಳಾಗಿವೆ', ಆ ಸಂಕೇತ ಭಾಷೆಯಲ್ಲಿ 'ತರಕಾರಿಗಳು ಕೆಂಪು ಗುಲಾಬಿಗಳಾಗಿವೆ' ಎಂದು ಹೇಗೆ ಬರೆಯಬಹುದು ?

- (1) ಮಿಟ್ ಸಿಕ್ ಬೀ ಹೀ
- (2) ಮಿಟ್ ಪೀ ಪಿಟ್ ಬೀ
- (3) ಪಿಟ್ ಹೀ ಸಿಕ್ ಬೀ
- (4) ಮೀಟ್ ಪೀ ಸಿಕ್ ಬೀ

3. ಮೇಲಿನ ಚಿತ್ರದಲ್ಲಿ P ವೃತ್ತವು ಕಷ್ಟಪಟ್ಟು ಕೆಲಸ ಮಾಡುವ ಜನರನ್ನು ಪ್ರತಿನಿಧಿಸುತ್ತದೆ, Q ವೃತ್ತವು ಬುದ್ಧಿವಂತ ಜನರನ್ನು, R ವೃತ್ತವು ಸತ್ಯವಂತ ಜನರನ್ನು ಮತ್ತು S ವೃತ್ತವು ಪ್ರಾಮಾಣಿಕ ಜನರನ್ನು ಪ್ರತಿನಿಧಿಸುತ್ತದೆ. ಯಾವ ವಲಯವು ಬುದ್ಧಿವಂತರನ್ನು, ಪ್ರಾಮಾಣಿಕ ಮತ್ತು ಸತ್ಯವಂತರನ್ನು, ಆದರೆ ಕಷ್ಟಪಡುವವರನ್ನು ಹೊರತುಪಡಿಸಿ ಪ್ರತಿನಿಧಿಸುತ್ತದೆ ?



- (1) 8
- (2) 7
- (3) 11
- (4) 6

4. A ಮತ್ತು B ಎಂಬ ಇಬ್ಬರು ವ್ಯಕ್ತಿಗಳ ಆದಾಯಗಳ ಅನುಪಾತವು 9 : 7 ಮತ್ತು ಅವರ ವೆಚ್ಚಗಳ ಅನುಪಾತವು 4 : 3. ಇವರಲ್ಲಿ ಪ್ರತಿಯೊಬ್ಬರೂ ತಿಂಗಳಿಗೆ 200 ರೂ.ಗಳನ್ನು ಉಳಿಸಿದಲ್ಲಿ, ಆಗ A ಮತ್ತು B ಗಳ ಮಾಸಿಕ ಆದಾಯವು ರೂ.ಗಳಲ್ಲಿ ಕ್ರಮವಾಗಿ

- (1) 2000, 1600
- (2) 1900, 1500
- (3) 1800, 1400
- (4) 1700, 1300

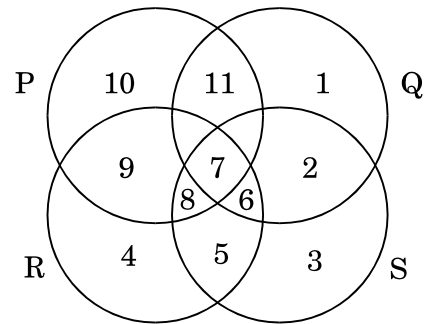
1. A passenger train and a freight train left Bengaluru for Delhi. But the passenger train left 2 hours after the freight train with an average speed of 40 km/hr. After travelling for 6 hours the passenger train overtakes the freight train. Then the average speed of the freight train was

- (1) 60 km/hr
- (2) 40 km/hr
- (3) 30 km/hr
- (4) 20 km/hr

2. In a certain code language “pit bee pee” means “roses are blue”, “pee sik hee bee” means “red flowers are roses” and “pee mit hee” means “flowers are vegetables”. How is “vegetables are red roses” written in that code ?

- (1) mit sik bee hee
- (2) mit pee pit bee
- (3) pit hee sik bee
- (4) mit pee sik bee

3. In the given figure, circle P represents hardworking people, circle Q represents intelligent people, circle R represents truthful people and circle S represents honest people. Which region represents the people who are intelligent, honest and truthful but not hardworking ?



- (1) 8
- (2) 7
- (3) 11
- (4) 6

4. The ratio of incomes of two persons A and B is 9 : 7 and the ratio of their expenditures is 4 : 3. If each of them saves ₹ 200 per month, then the monthly income (in ₹) of A and B respectively are

- (1) 2000, 1600
- (2) 1900, 1500
- (3) 1800, 1400
- (4) 1700, 1300

5. ಒಂದು ನಗರದಲ್ಲಿನ ಟ್ಯಾಕ್ಸಿ ಬಾಡಿಗೆಯು ನಿಗದಿ ಪಡಿಸಿದ ಬಾಡಿಗೆಯಾಗಿದ್ದು, ಇದರೊಡನೆ ಪ್ರಯಾಣಿಸಿದ ದೂರದ ಚಾರ್ಜ್‌ನ್ನು ಒಳಗೊಳ್ಳುತ್ತದೆ. 10 ಕಿ.ಮೀ. ಪ್ರಯಾಣಕ್ಕೆ ಪಾವತಿಸಬೇಕಾದ ದರ ರೂ. 75 ಮತ್ತು 15 ಕಿ.ಮೀ. ಪ್ರಯಾಣಕ್ಕೆ ₹ 110 ಆಗಿದೆ. ಹಾಗಿದ್ದಲ್ಲಿ ಒಬ್ಬ ವ್ಯಕ್ತಿಯು 25 ಕಿ.ಮೀ. ದೂರದ ಪ್ರಯಾಣಕ್ಕೆ ಪಾವತಿಸಬೇಕಾದ ಮೊತ್ತವೆಷ್ಟು?

- (1) ₹ 160
- (2) ₹ 180
- (3) ₹ 210
- (4) ₹ 240

6. ಒಂದು ಹೆದ್ದಾರಿಯಲ್ಲಿ A ಮತ್ತು B ಎಂಬ ಬಿಂದುಗಳು ಪರಸ್ಪರ 90 ಕಿ.ಮೀ. ಅಂತರದಲ್ಲಿವೆ, X ಎಂಬ ಕಾರು A ಯಿಂದ ಮತ್ತು ಇನ್ನೊಂದು Y ಎಂಬ ಕಾರು B ಯಿಂದಲೂ ಒಂದೇ ಸಮಯಕ್ಕೆ ಹೊರಡುತ್ತವೆ. ಇವರಡೂ ಒಂದೇ ದಿಕ್ಕಿನಲ್ಲಿ ಹೊರಟಲ್ಲಿ 9 ಘಂಟೆಗಳಲ್ಲಿ ಅವು ಸಂಧಿಸುತ್ತವೆ ಮತ್ತು ಇವು ವಿರುದ್ಧ ದಿಕ್ಕಿನಲ್ಲಿ ಹೊರಟಲ್ಲಿ 9/7 ಘಂಟೆಗಳಲ್ಲಿ ಸಂಧಿಸುತ್ತವೆ, ಹಾಗಿದ್ದಲ್ಲಿ X ಮತ್ತು Y ಎಂಬ ಕಾರುಗಳ ವೇಗಗಳು ಕ್ರಮವಾಗಿ (ಕಿ.ಮೀ. /ಘಂಟೆಗಳು)

- (1) 30, 40
- (2) 40, 50
- (3) 50, 40
- (4) 40, 30

7. ಎರಡು ಅಂಕಗಳ ಸಂಖ್ಯೆಯು ಅವೆರಡರ ಮೊತ್ತದ ನಾಲ್ಕು ಪಟ್ಟನ್ನು, 3 ರಿಂದ ಮೀರುತ್ತದೆ. ಆ ಸಂಖ್ಯೆಯನ್ನು 18 ರಿಂದ ಹೆಚ್ಚಿಸಿದಲ್ಲಿ, ಈ ಸಂಖ್ಯೆಗಳನ್ನು ಅದಲು ಬದಲು ಮಾಡಿದಾಗ ಬರುವ ಫಲಿತಾಂಶಕ್ಕೆ ಸಮನಾಗಿರುತ್ತದೆ. ಆ ಸಂಖ್ಯೆಯನ್ನು ಕಂಡು ಹಿಡಿಯಿರಿ

- (1) 35
- (2) 57
- (3) 49
- (4) 42

8. ಮೊದಲನೆ ದ್ರಾಕ್ಷಿ ಗೊಂಚಲು ಎರಡನೆ ಗೊಂಚಲಿನಲ್ಲಿದ್ದಷ್ಟೇ ದ್ರಾಕ್ಷಿಗಳನ್ನು ಹೊಂದಿದೆ. ಹೆಚ್ಚುವರಿಯಾಗಿ ಎರಡನೇ ಗೊಂಚಲಿನಲ್ಲಿರುವ 1/4 ರಷ್ಟು ಸಂಖ್ಯೆಯಷ್ಟು ಅಧಿಕ ದ್ರಾಕ್ಷಿಗಳುಳ್ಳದ್ದು. ಮೊದಲನೇ ಗೊಂಚಲಿನಲ್ಲಿರುವ ದ್ರಾಕ್ಷಿ ಸಂಖ್ಯೆಗಿಂತ ಎರಡನೇ ಗೊಂಚಲಿನಲ್ಲಿರುವ ದ್ರಾಕ್ಷಿಗಳ ಸಂಖ್ಯೆಗಳಲ್ಲಿ 3 ದ್ರಾಕ್ಷಿಗಳು ಕಡಿಮೆ ಇದ್ದಲ್ಲಿ, ಮೊದಲನೇ ಗೊಂಚಲಿನಲ್ಲಿರುವ ದ್ರಾಕ್ಷಿಗಳ ಸಂಖ್ಯೆಯು

- (1) 15
- (2) 12
- (3) 20
- (4) 25

5. The taxi charges in a city comprise of a fixed charge together with the charge for the distance covered. For a journey of 10 km the charge paid is ₹ 75 and for a journey of 15 km the charge paid is ₹ 110. Then the amount a person has to pay for travelling a distance of 25 km is

- (1) ₹ 160
- (2) ₹ 180
- (3) ₹ 210
- (4) ₹ 240

6. Points A and B are 90 km apart from each other on a highway. A car X starts from A and another car Y from B at the same time. If they go in the same direction they meet in 9 hours and if they go in opposite directions they meet in  $9/7$  hours. Then, the speeds of the cars X and Y, in km/hr, respectively are

- (1) 30, 40
- (2) 40, 50
- (3) 50, 40
- (4) 40, 30

7. A two-digit number exceeds four times the sum of its digits by 3. If the number is increased by 18, the result is the same as the number formed by interchanging the digits. Find the number.

- (1) 35
- (2) 57
- (3) 49
- (4) 42

8. The first bunch of grapes has as many grapes as in the second bunch in addition to  $\frac{1}{4}$ th of the number of grapes in the second bunch. If the second bunch has 3 grapes less than the number of grapes in the first bunch, then the number of grapes in the first bunch is

- (1) 15
- (2) 12
- (3) 20
- (4) 25

9. A ಮತ್ತು B ಎಂಬ ಎರಡು ಕೊಳಾಯಿಗಳು ಒಂದು ತೊಟ್ಟಿಯನ್ನು ಕ್ರಮವಾಗಿ 12 ನಿಮಿಷಗಳು ಮತ್ತು 15 ನಿಮಿಷಗಳಲ್ಲಿ ತುಂಬಿಸುತ್ತವೆ. ಏಕಕಾಲಕ್ಕೆ ಎರಡೂ ನಲ್ಲಿಗಳನ್ನು ತೆರೆದಿಡಲಾಗಿದೆ ಮತ್ತು 3 ನಿಮಿಷಗಳ ನಂತರ A ನಲ್ಲಿಯನ್ನು ನಿಲ್ಲಿಸಲಾಗಿದೆ. ಹಾಗಿದ್ದಲ್ಲಿ ಇದು ಟ್ಯಾಂಕನ್ನು ತುಂಬಿಸಲು B ನಲ್ಲಿಗಿಂತಲೂ ಎಷ್ಟು ಹೆಚ್ಚು ಸಮಯವನ್ನು ತೆಗೆದುಕೊಳ್ಳುತ್ತದೆ ?

- (1)  $8\frac{3}{4}$  ನಿಮಿಷಗಳು
- (2)  $8\frac{1}{4}$  ನಿಮಿಷಗಳು
- (3)  $7\frac{1}{2}$  ನಿಮಿಷಗಳು
- (4)  $7\frac{1}{4}$  ನಿಮಿಷಗಳು

10. P, Q, R, S, T ಮತ್ತು U ಎಂಬುವರು ಒಂದು ಕುಟುಂಬದ ಸದಸ್ಯರುಗಳು. ಈ ಕುಟುಂಬದಲ್ಲಿ 2 ವಿವಾಹಿತ ಜೋಡಿಗಳಿವೆ, Q ಎಂಬುವನು ಒಬ್ಬ ವ್ಯಾಪಾರಿ ಮತ್ತು T ಯ ತಂದೆ, U ನು R ನ ತಾತ ಮತ್ತು ಒಬ್ಬ ನಾಯಕ. S ವು T ಯ ಅಜ್ಜಿ ಮತ್ತು ಒಬ್ಬ ಗೃಹಿಣಿ R, P ನ ಮಗಳಾಗಿದ್ದಾರೆ, ಇಲ್ಲಿ ಒಬ್ಬ ನಾಯಕರು, ಒಬ್ಬ ಗೃಹಿಣಿ, ಒಬ್ಬ ಇಂಜಿನಿಯರ್ ಅಂತೆಯೇ ಮಹಿಳೆ ಮತ್ತು ಇಬ್ಬರು ವಿದ್ಯಾರ್ಥಿಗಳು ಕುಟುಂಬದಲ್ಲಿದ್ದಾರೆ, ಹೀಗಿದ್ದಲ್ಲಿ ಈ ಕೆಳಗಿನ ಹೇಳಿಕೆಗಳಲ್ಲಿ ಯಾವ ಹೇಳಿಕೆಯು ಸರಿಯಾಗಿದೆ ?

- (1) R ಒಬ್ಬ ಇಂಜಿನಿಯರ್ ಮತ್ತು US ಒಂದು ವಿವಾಹಿತ ಜೋಡಿ
- (2) T ಒಬ್ಬ ಇಂಜಿನಿಯರ್ ಮತ್ತು S ಒಬ್ಬ ಗೃಹಿಣಿ
- (3) P ಒಬ್ಬ ಇಂಜಿನಿಯರ್ ಮತ್ತು PQ ಒಂದು ವಿವಾಹಿತ ಜೋಡಿ
- (4) U ಒಬ್ಬ ನಾಯಕ ಮತ್ತು S ಒಬ್ಬ ಇಂಜಿನಿಯರ್

11. A ಯು ರೂ. 85,000 ಬಂಡವಾಳದೊಂದಿಗೆ ಒಂದು ವ್ಯವಹಾರವನ್ನು ಪ್ರಾರಂಭಿಸುತ್ತಾನೆ, ಸ್ವಲ್ಪ ಕಾಲದ ನಂತರ B ಯು ರೂ. 42,500 ಗಳೊಂದಿಗೆ ವ್ಯವಹಾರಕ್ಕೆ ಸೇರಿಕೊಳ್ಳುತ್ತಾನೆ ವರ್ಷದ ಅಂತ್ಯದಲ್ಲಿ ಲಾಭಾಂಶವನ್ನು 3 : 1 ರ ಅನುಪಾತದಲ್ಲಿ ಹಂಚಿಕೆಯಾಗಲು, B ಯು ಎಷ್ಟು ಅವಧಿಯಲ್ಲಿ ಸೇರಿರಬೇಕು ?

- (1) 5 ತಿಂಗಳು
- (2) 8 ತಿಂಗಳು
- (3) 9 ತಿಂಗಳು
- (4) 12 ತಿಂಗಳು

12. A, B, C, D, E ಮತ್ತು F ಎಂಬ 6 ನಗರಗಳಿವೆ, ಇವುಗಳಲ್ಲಿ ಪ್ರತಿಯೊಂದೂ ನಗರವೂ ಗಿರಿ ಧಾಮ ಅಥವಾ ಐತಿಹಾಸಿಕ ಸ್ಥಳ ಅಥವಾ ಕೈಗಾರಿಕಾ ನಗರವಾಗಲೀ ಆಗಿದೆ. A ಮತ್ತು C ಎಂಬುವುಗಳು ಗಿರಿ ಧಾಮಗಳಲ್ಲ, A, B, D ಮತ್ತು E ಎಂಬುವುದು ಐತಿಹಾಸಿಕ ಸ್ಥಳಗಳಲ್ಲ, D ಮತ್ತು F ಎಂಬುವುಗಳು ಕೈಗಾರಿಕಾನಗರಗಳಲ್ಲ, A ಮತ್ತು B ಎಂಬುವುಗಳು ಎರಡು ರೀತಿಯಲ್ಲಿ ಹೋಲುತ್ತಿಲ್ಲ, ಈ ಕೆಳಗಿನ ಹೇಳಿಕೆಗಳಲ್ಲಿ ಯಾವುದು ಸರಿಯಾಗಿದೆ ?

- (1) A ಯು ಕೈಗಾರಿಕಾ ನಗರ, B ಯು ಒಂದು ಗಿರಿಧಾಮವಾಗಿದೆ
- (2) C ಯು ಐತಿಹಾಸಿಕ ಸ್ಥಳವಲ್ಲ, D ಯು ಒಂದು ಗಿರಿಧಾಮವಲ್ಲ
- (3) E ಯು ಒಂದು ಗಿರಿಧಾಮ, F ವು ಕೈಗಾರಿಕಾ ನಗರ
- (4) B ಯು ಒಂದು ಗಿರಿಧಾಮ, D ಯು ಐತಿಹಾಸಿಕ ಸ್ಥಳ

9. Two taps A and B can fill a tank in 12 minutes and 15 minutes respectively. If both the taps are opened simultaneously and the tap A is closed after 3 minutes, then how much more time will it take to fill the tank by tap B ?

(1)  $8\frac{3}{4}$  minutes

(2)  $8\frac{1}{4}$  minutes

(3)  $7\frac{1}{2}$  minutes

(4)  $7\frac{1}{4}$  minutes

10. P, Q, R, S, T and U are members of a family. There are two married couples in the family. Q is a trader and is the father of T, U is the grandfather of R and is a leader, S is the grandmother of T and is a housewife, R is the daughter of P. There is one leader, one housewife, one engineer as well as female and two students in the family. Then, which one of the following statements is correct ?

(1) R is an engineer and US is a married couple.

(2) T is an engineer and S is a housewife.

(3) P is an engineer and PQ is a married couple.

(4) U is a leader and S is an engineer.

11. 'A' starts a business with a capital of ₹ 85,000. 'B' joins in the business with ₹ 42,500 after some time. For how much period does B join, if the profits at the end of the year are divided in the ratio of 3 : 1 ?

(1) 5 months

(2) 8 months

(3) 9 months

(4) 12 months

12. There are six cities — A, B, C, D, E and F. Each of them is either a hill station or a historical place or an industrial city. A and C are not hill stations, A, B, D and E are not historical places, D and F are not industrial cities, A and B are not alike in two ways. Which one of the following statements is correct ?

(1) A is an industrial city, B is a hill station.

(2) C is not a historical place, D is not a hill station.

(3) E is a hill station, F is an industrial city.

(4) B is a hill station, D is a historical place.

13. ಒಂದು ಇಂಟಿಲಿಜೆನ್ಸ್ ಏಜೆನ್ಸಿಯ 0, 1, 2 ... 9 ರಿಂದ ಆರಿಸಲ್ಪಟ್ಟ 2 ಭಿನ್ನ ಸಂಖ್ಯೆಗಳ ಸಂಕೇತವನ್ನು ರೂಪಿಸಿದ್ದು ಸಂಕೇತದ ಮೊದಲ ಅಂಕಿಯು ಸೊನ್ನೆಯಾಗಿಲ್ಲ ಸಂಕೇತವನ್ನು ಒಂದು ಚೀಟಿಯಲ್ಲಿ ಬರೆಯಲಾಗಿದ್ದು ಅದು ತಲೆಕೆಳಗಾದಾಗ ಗೊಂದಲವನ್ನು ಸೃಷ್ಟಿಸುವ ಸಂಭವವಿದೆ - ಉದಾ - ಸಂಕೇತ 91 ಎಂಬುದು 16 ಎಂಬುದಾಗಿ ಕಾಣುವುದು. ಈ ರೀತಿಯ ಗೊಂದಲ ಉಂಟಾಗದಿರಲು ಎಷ್ಟು ಸಂಖ್ಯೆಯ ಸಂಕೇತಗಳಿರಬೇಕು ?
- (1) 80  
(2) 78  
(3) 71  
(4) 69

14. 30 ಮರಗಳನ್ನು ಒಂದು ಸರಳ ರೇಖೆಯಲ್ಲಿ 5 ಮೀ. ಗಳ ಅಂತರವಿರುವಂತೆ ನೆಡಲಾಗಿದೆ ಇವುಗಳಿಗೆ ನೀರನ್ನಣಿಸಲು, ತೋಟಗಾರನು ಪ್ರತಿಯೊಂದು ಮರಕ್ಕೂ ಬಾವಿಯಿಂದ ಪ್ರತ್ಯೇಕವಾಗಿ ನೀರು ತಂದು ಹಾಕಲು, ರೇಖೆಯಲ್ಲಿನ ಮರಗಳೊಡನಿರುವ ಮೊದಲ ಮರ ಬಾವಿಯಿಂದ 10 ಮೀ. ನ ಅಂತರದಲ್ಲಿದೆ. ಮೊದಲ ಮರದಿಂದ ಆರಂಭಗೊಂಡು ಕ್ರಮವಾಗಿ ಎಲ್ಲಾ ಮರಗಳಿಗೂ ನೀರು ಹಾಕಲು ಅವನು ಎಷ್ಟು ದೂರ ನಡೆಯಬೇಕಾಗುವುದು ? ಅವನು ಬಾವಿಯಿಂದ ನಡಿಗೆ ಪ್ರಾರಂಭಿಸುತ್ತಾನೆಂದು ಭಾವಿಸಿ.
- (1) 4785 ಮೀ. ಳು  
(2) 4795 ಮೀ. ಳು  
(3) 4800 ಮೀ. ಳು  
(4) ಮೇಲಿನ ಯಾವುದೂ ಅಲ್ಲ

15. P ಮತ್ತು Q ಎಂಬ ಎರಡು ಕಟ್ಟಡಗಳಿವೆ. P ನಿಂದ Q ಗೆ 15 ವ್ಯಕ್ತಿಗಳನ್ನು ಕಳುಹಿಸಿದಲ್ಲಿ ಪ್ರತಿಯೊಂದು ಕಟ್ಟಡದಲ್ಲಿರುವ ವ್ಯಕ್ತಿಗಳ ಸಂಖ್ಯೆಯೂ ಸಮವಾಗಿದೆ, Q ನಿಂದ P ಗೆ 20 ವ್ಯಕ್ತಿಗಳನ್ನು ಕಳುಹಿಸಿದಲ್ಲಿ ಆಗ P ಯಲ್ಲಿರುವ ವ್ಯಕ್ತಿಗಳ ಸಂಖ್ಯೆಯು Q ನಲ್ಲಿರುವ ವ್ಯಕ್ತಿಗಳ ಸಂಖ್ಯೆಗಿಂತ ಎರಡರಷ್ಟಾಗುತ್ತದೆ. P ಕಟ್ಟಡ ದಲ್ಲಿರುವ ವ್ಯಕ್ತಿಗಳ ಸಂಖ್ಯೆ ಎಷ್ಟು?
- (1) 80  
(2) 140  
(3) 120  
(4) 90

16. ಈ ಕೆಳಗೆ ನಾಲ್ಕು ತೀರ್ಮಾನಗಳನ್ನು ಹೊಂದಿರುವ 2 ಹೇಳಿಕೆಗಳಿವೆ.
- ಹೇಳಿಕೆ 1 : ಕೆಲವು ಹಸಿರುಗಳು ನೀಲಿಯಾಗಿದೆ.  
ಹೇಳಿಕೆ 2 : ಯಾವ ನೀಲಿಯೂ ಬಿಳಿಯಾಗಿಲ್ಲ.
- ತೀರ್ಮಾನಗಳು :
- A. ಕೆಲವು ನೀಲಿಗಳು ಹಸಿರಾಗಿವೆ.  
B. ಕೆಲವು ಬಿಳಿಗಳು ಹಸಿರಾಗಿವೆ.  
C. ಕೆಲವು ಹಸಿರುಗಳು ಬಿಳಿಯಾಗಿಲ್ಲ.  
D. ಎಲ್ಲಾ ಬಿಳಿಗಳೂ ಹಸಿರಾಗಿವೆ.
- ಕೆಳಗಿನ ಯಾವ ತೀರ್ಮಾನಗಳು ನ್ಯಾಯಯುತವಾಗಿ ಹೇಳಿಕೆಗಳನ್ನು ಅನುಸರಿಸುತ್ತವೆ ?
- (1) A ಯು ಮಾತ್ರ ಅನುಸರಿಸುತ್ತದೆ  
(2) B ಮತ್ತು C ಗಳು ಮಾತ್ರ ಅನುಸರಿಸುತ್ತವೆ  
(3) A ಮತ್ತು C ಗಳು ಮಾತ್ರ ಅನುಸರಿಸುತ್ತವೆ  
(4) ಯಾವುದೂ ಅಲ್ಲ



13. An intelligence agency forms a code of two distinct digits selected from 0, 1, 2, ..., 9 such that the first digit of the code is non-zero. The code, handwritten on a slip can potentially create confusion when read upside down, for example, the code 91 may appear as 16. How many codes are there for which no such confusion arises ?

- (1) 80
- (2) 78
- (3) 71
- (4) 69

14. 30 trees are planted in a straight line at intervals of 5 metres. To water them, the gardener needs to bring water for each tree, separately from a well, which is 10 metres from the first tree in line with the trees. How far will he have to walk in order to water all the trees beginning with the first tree ? Assume that he starts from the well.

- (1) 4785 metres
- (2) 4795 metres
- (3) 4800 metres
- (4) None of these

15. There are two buildings P and Q. If 15 persons are sent from P to Q, then the number of persons in each building is the same. If 20 persons are sent from Q to P, then the number of persons in P is double the number of persons in Q. How many persons are there in building P ?

- (1) 80
- (2) 140
- (3) 120
- (4) 90

16. Given below are two statements followed by four conclusions :

*Statement I :*

Some green are blue.

*Statement II :*

No blue is white.

*Conclusions :*

- A. Some blue are green.
- B. Some white are green.
- C. Some green are not white.
- D. All white are green.

Which of the conclusions logically follows from the statements ?

- (1) Only A follows
- (2) Only B and C follow
- (3) Only A and C follow
- (4) None follows

17. ಒಂದು ಛಾಯಾಚಿತ್ರದಲ್ಲಿನ ಮನುಷ್ಯನತ್ತ ಬೆರಳು ಮಾಡುತ್ತಾ, ಮಹಿಳೆಯೊಬ್ಬರು ಹೇಳಿದರು “ಅವನ ಅಣ್ಣಂದಿರ ತಂದೆಯು, ನನ್ನ ಅಜ್ಜನ ಒಬ್ಬನೇ ಮಗನಾಗಿದ್ದಾನೆ”, ಛಾಯಾಚಿತ್ರದಲ್ಲಿನ ವ್ಯಕ್ತಿಗೆ ಮಹಿಳೆಯು ಹೇಗೆ ಸಂಬಂಧಿಸಿದ್ದಾಳೆ ?

- (1) ತಾಯಿ
- (2) ಚಿಕ್ಕಮ್ಮ
- (3) ಸೋದರಿ
- (4) ಮಗಳು

18. ಭಾರತದ ಕೆಳಗಿನ ಯಾವ ಪ್ರದೇಶಗಳಲ್ಲಿ “ಭಾರತೀಯ ಮಹಾ ಕೊಂಬು ಕೊಕ್ಕಿನ ಹಕ್ಕಿ”ಯನ್ನು ಅದರ ನೈಸರ್ಗಿಕ ಆವಾಸ ಸ್ಥಾನದಲ್ಲಿ ಕಾಣಬಹುದಾಗಿದೆ ?

- (1) ಭಾರತದ ವಾಯುವ್ಯದ ಮರಳು ಮರಳುಗಾಡುಗಳು
- (2) ಜಮ್ಮು ಮತ್ತು ಕಾಶ್ಮೀರದ ಎತ್ತರದ ಹಿಮಾಲಯಗಳು
- (3) ಪಶ್ಚಿಮ ಗುಜರಾತ್‌ನ ಉಪ್ಪು ಜವುಗುಗಳು
- (4) ಪಶ್ಚಿಮ ಘಟ್ಟಗಳು

19. ಈ ಕೆಳಗಿನ ಯಾವ ಸಂದರ್ಭದಲ್ಲಿ ಕೆಲವೊಮ್ಮೆ ನೀವು ಆಂಬರ್ ಪೆಟ್ಟಿಗೆ (ಹಳದಿಕ್ರಿತ್ತಳೆ ಪೆಟ್ಟಿಗೆ) ನೀಲಿ ಪೆಟ್ಟಿಗೆ, ಹಸಿರು ಪೆಟ್ಟಿಗೆ ಎಂಬ ಪದಗಳನ್ನು ಸುದ್ದಿಯಲ್ಲಿ ಕೇಳುವಿರಿ ?

- (1) WTO ವಿಚಾರಗಳು
- (2) (ಸಾರ್ಕ್) SAARC ವಿಚಾರಗಳು
- (3) UNFCCC ವಿಚಾರಗಳು
- (4) ಮುಕ್ತ ವ್ಯಾಪಾರ ಒಪ್ಪಂದದ (FTA) ಮೇಲಿನ ಭಾರತ – EU ಸಂಧಾನಗಳು

20. ‘ರಾಷ್ಟ್ರೀಯ ಗರಿಮಾ ಅಭಿಯಾನ್’ ಈ ಕೆಳಗಿನವುಗಳಲ್ಲಿ ಯಾವುದನ್ನು ಕುರಿತಾದ ರಾಷ್ಟ್ರೀಯ ಚಳುವಳಿ ?

- (1) ಗೃಹರಹಿತರಿಗೆ ಮತ್ತು ಪರಿತ್ಯಕ್ತ ವ್ಯಕ್ತಿಗಳಿಗೆ ಪುನರ್ವಸತಿ ಮತ್ತು ಸೂಕ್ತ ಜೀವನಾಧಾರ ಆಕರಗಳನ್ನೊದಗಿಸುವುದು.
- (2) ವೇಶ್ಯೆಯರನ್ನು ಅವರ ಪದ್ಧತಿಗಳಿಂದ ಬಿಡುಗಡೆ ಮಾಡುವುದು ಮತ್ತು ಅವರ ಜೀವನಾಧಾರಕ್ಕೆ ಪರ್ಯಾಯ ವ್ಯವಸ್ಥೆಯನ್ನು ಒದಗಿಸುವುದು.
- (3) ಕೈಯಿಂದ ಶುಚಿ ಮಾಡುವ ಅಭ್ಯಾಸವನ್ನು (ಜಾಡಮಾಲಿಗಳು) ಹೋಗಲಾಡಿಸುವುದು ಮತ್ತು ಇವರಿಗೆ ಪುನರ್ವಸತಿಯನ್ನೊದಗಿಸುವುದು.
- (4) ಬಾಂಡೆಡ್ (ಜೀತ) ಕೂಲಿಗಾರರನ್ನು ಅವರ ಗುಲಾಮಗಿರಿಯಿಂದ ಬಿಡುಗಡೆ ಮಾಡುವುದು ಮತ್ತು ಅವರಿಗೆ ಪುನರ್ವಸತಿಯನ್ನೊದಗಿಸುವುದು.

21. ಸುದ್ದಿಯಲ್ಲಿ ಆಗಿಂದಾಗ್ಗೆ ಭಾರತವು ವ್ಯವಹಾರ ವಹಿವಾಟಿನಲ್ಲಿ ಸುಲಭವಾಗಿ ಸ್ಥಾನ ಗಳಿಸುತ್ತಿರುವುದನ್ನು ಕಾಣುತ್ತಿದ್ದೇವೆ. ಈ ಕೆಳಗಿನ ಯಾವ ಸಂಸ್ಥೆಯು ಈ ಸ್ಥಾನವನ್ನು ಘೋಷಿಸಿದೆ ?

- (1) ಆರ್ಥಿಕ ಸಹಕಾರ ಮತ್ತು ಅಭಿವೃದ್ಧಿಗಳ ಸಂಸ್ಥೆ (OECD)
- (2) ವಿಶ್ವ ಆರ್ಥಿಕ ಫೋರಂ
- (3) ವಿಶ್ವ ಬ್ಯಾಂಕು
- (4) ವಿಶ್ವವ್ಯಾಪಾರ ಸಂಸ್ಥೆ

17. Pointing to a man in a photograph, a woman said, "His brother's father is the only son of my grandfather." How is the woman related to the man in the photograph ?
- (1) Mother
  - (2) Aunt
  - (3) Sister
  - (4) Daughter
18. In which of the following regions of India is one most likely to come across the "Great Indian Hornbill" in its natural habitat ?
- (1) Sand deserts of North-West India
  - (2) Higher Himalayas of Jammu and Kashmir
  - (3) Salt marshes of Western Gujarat
  - (4) Western Ghats
19. In the context of which of the following do you sometimes find the terms amber box, blue box, green box in the news ?
- (1) WTO affairs
  - (2) SAARC affairs
  - (3) UNFCCC affairs
  - (4) India – EU negotiations on Free Trade Agreement (FTA)
20. "Rashtriya Garima Abhiyaan" is a national campaign for which of the following ?
- (1) To rehabilitate the homeless and destitute persons and provide them with suitable source of livelihood.
  - (2) To release the sex workers from their practice and provide them with alternative sources of livelihood.
  - (3) To eradicate the practice of manual scavenging and rehabilitate the manual scavengers.
  - (4) To release the bonded labourers from their bondage and rehabilitate them.
21. India's ranking in Ease of Doing Business is often seen in the news. Which of the following organization declares that ranking ?
- (1) Organisation of Economic Cooperation and Development (OECD)
  - (2) World Economic Forum
  - (3) World Bank
  - (4) World Trade Organisation (WTO)

22. ಈ ಕೆಳಗಿನವುಗಳಲ್ಲಿ ಯಾವುದು / ವು ಹನಿ ನೀರಾವರಿ ಪದ್ಧತಿಯ ಅನುಕೂಲಗಳಾಗಿವೆ ?

- A. ಕಳೆಗಳ ತಗ್ಗಿಕೆ
- B. ಮಣ್ಣಿನ ಲವಣಾಂಶ ತಗ್ಗಿಕೆ
- C. ಮಣ್ಣಿನ ಸವಕಳಿಯ ತಗ್ಗಿಕೆ

ಕೆಳಗೆ ನೀಡಿರುವ ಆಯ್ಕೆಗಳಲ್ಲಿ ಸರಿಯಾದ ಉತ್ತರಕ್ಕಾಗಿ ಸಂಕೇತಗಳನ್ನು ಆರಿಸಿ :

- (1) A ಮತ್ತು B ಮಾತ್ರ
- (2) C ಮಾತ್ರ
- (3) A ಮತ್ತು C ಮಾತ್ರ
- (4) ಮೇಲಿನ ಯಾವುದೂ ಅಲ್ಲ (A, B, C)

23. ಬಿಟ್‌ಕಾಯಿನ್ಸ್ ನ್ನು ಕುರಿತಂತೆ ಕೆಲವೊಮ್ಮೆ ನೀವು ಸುದ್ದಿಯನ್ನು ನೋಡಿರುತ್ತೀರಿ. ಈ ಕೆಳಗಿನವುಗಳಲ್ಲಿ ಯಾವ ಹೇಳಿಕೆಯು ಸರಿ ?

- A. ದೇಶಗಳ ಸೆಂಟ್ರಲ್ ಬ್ಯಾಂಕ್‌ಗಳು ಬಿಟ್ ಕಾಯಿನ್‌ಗಳ ಜಾಡನ್ನು ಹಿಡಿದವು
- B. ಯಾರುಬೇಕಾದರೂ ಬಿಟ್‌ಕಾಯಿನ್ ವಿಳಾಸದೊಂದಿಗೆ ಕಳುಹಿಸಬಹುದು ಮತ್ತು ಬಿಟ್‌ಕಾಯಿನ್ ವಿಳಾಸದೊಂದಿಗೆ ಎಲ್ಲಿಂದಲಾದರೂ ಬಿಟ್ ಕಾಯಿನ್‌ಗಳನ್ನು ಸ್ವೀಕರಿಸಬಹುದು
- C. ಮತ್ತೊಬ್ಬರ ಗುರ್ತು ತಿಳಿಯದೆಯೇ ಎರಡೂ ಕಡೆಯ ವ್ಯಕ್ತಿಗಳಿಂದ ಆನ್‌ಲೈನ್ ಪಾವತಿಗಳನ್ನು ಮಾಡಬಹುದು

ಕೆಳಗೆ ಕೊಟ್ಟಿರುವ ಆಯ್ಕೆಗಳಿಂದ ಸರಿಯಾದ ಉತ್ತರಕ್ಕಾಗಿ ಸಂಕೇತಗಳನ್ನಾರಿಸಿ :

- (1) A ಮತ್ತು B ಮಾತ್ರ
- (2) B ಮತ್ತು C ಮಾತ್ರ
- (3) C ಮಾತ್ರ
- (4) A, B ಮತ್ತು C

24. ಭಾರತದಲ್ಲಿ ದೊರೆತ ಒಂದು ವಿಧದ ಒಂಟಿಯ ತಳಿ 'ಖರಾಯ್ ಒಂಟೆ' ಯ ವೈಶಿಷ್ಟ್ಯವೇನು ?

- A. ಸಮುದ್ರದ ನೀರಿನಲ್ಲಿ 3 ಕಿ.ಮೀ. ವರೆಗೂ ಈಜುವ ಸಾಮರ್ಥ್ಯವನ್ನು ಅದು ಹೊಂದಿದೆ.
- B. ಮ್ಯಾಂಗ್ರೋವ್ಸ್ ಗಳಲ್ಲಿ ಮೇಯುವುದರಿಂದ ಇವು ಬದುಕುಳಿದಿವೆ.
- C. ಇದು ವನ್ಯಜೀವಿಯಾಗಿ ಬದುಕುವುದು ಮತ್ತು ಇದು ಸಾಕುಪ್ರಾಣಿಯಾಗಲಾರದು.

ಈ ಮೇಲಿನ ಹೇಳಿಕೆಗಳಲ್ಲಿ ಯಾವುದು /ವು ಸರಿ ? ಸರಿಯಾದ ಉತ್ತರಕ್ಕಾಗಿ ಸಂಕೇತಗಳನ್ನಾರಿಸಿ :

- (1) A ಮತ್ತು B ಮಾತ್ರ
- (2) C ಮಾತ್ರ
- (3) A ಮತ್ತು C ಮಾತ್ರ
- (4) A, B ಮತ್ತು C

25. ಕೆಳಗಿನ ಹೇಳಿಕೆಗಳನ್ನು ಪರಿಗಣಿಸಿ :

- A. ಯಾವುದೇ ವ್ಯಕ್ತಿಯು ಪಂಚಾಯತ್‌ನ ಸದಸ್ಯನಾಗಲು ನಿಗದಿಪಡಿಸಲಾಗಿರುವ ಕನಿಷ್ಠ ವಯಸ್ಸು 25 ವರ್ಷಗಳು.
- B. ಅವಧಿಪೂರ್ವದಲ್ಲಿ ವಿಸರ್ಜಿತವಾದ ಪಂಚಾಯತ್, ಉಳಿದ ಶೇಷ ಅವಧಿಗೆ ಮಾತ್ರ ಪುನರ್ ನಿಯೋಜಿತವಾಗಬಹುದು.

ಈ ಮೇಲಿನ ಹೇಳಿಕೆಗಳಲ್ಲಿ ಯಾವುದು /ವು ಸರಿ ?

ನೀಡಿರುವ ಆಯ್ಕೆಗಳಲ್ಲಿ ಸರಿಯಾದ ಉತ್ತರಕ್ಕಾಗಿ ಸಂಕೇತವನ್ನಾರಿಸಿ :

- (1) A ಮಾತ್ರ
- (2) B ಮಾತ್ರ
- (3) A ಮತ್ತು B ಎರಡೂ
- (4) A ಆಗಲೀ B ಆಗಲೀ ಅಲ್ಲ

**22.** Which of the following is/are the advantage/s of practising drip irrigation ?

- A. Reduction in weeds
- B. Reduction in soil salinity
- C. Reduction in soil erosion

Select the code for the correct answer from the options given below :

- (1) Only A and B
- (2) Only C
- (3) Only A and C
- (4) None of the above (A, B, C) is an advantage of practising drip irrigation

**23.** With reference to the bitcoins sometimes seen and in the news, which of the following statements is/are correct ?

- A. Bitcoins are tracked by Central Banks of the countries.
- B. Anyone with bitcoin address can send and receive bitcoins from anywhere else with bitcoin address.
- C. Online payments can be sent without either side knowing the identity of the other.

Select the code for the correct answer from the options given below :

- (1) Only A and B
- (2) Only B and C
- (3) Only C
- (4) A, B and C

**24.** What is/are unique about “Kharai Camel”, a breed found in India ?

- A. It is capable of swimming up to 3 kilometres into the sea.
- B. It survives by grazing on mangroves.
- C. It lives in the wild and cannot be domesticated.

Which of the above statements is/are correct ?

Select the code for the correct answer from the options given below :

- (1) Only A and B
- (2) Only C
- (3) Only A and C
- (4) A, B and C

**25.** Consider the following statements :

- A. The minimum age prescribed for any person to be a member of a Panchayat is 25 years.
- B. A Panchayat reconstituted after premature dissolution continues only for the remainder period.

Which of the statements given above is/are correct ?

Select the code for the correct answer from the options given below :

- (1) Only A
- (2) Only B
- (3) Both A and B
- (4) Neither A nor B

26. “ಅಟಲ್ ನಿವೃತ್ತಿವೇತನದ ಯೋಜನೆ” ಕುರಿತಂತೆ ಕೆಳಗಿನ ಯಾವ ಹೇಳಿಕೆಯು / ಗಳು ಸರಿಯಾಗಿವೆ ?

- A. ಇದು ಒಂದು ಅಸಂಘಟಿತ ವಲಯದ ಕಾರ್ಮಿಕರನ್ನು ಮುಖ್ಯವಾಗಿ ಗಮನದಲ್ಲಿರಿಸಿಕೊಂಡ ಕನಿಷ್ಠ ಖಾತರಿಯ ನಿವೃತ್ತಿ ವೇತನ ಸ್ಕೀಂ ಆಗಿದೆ.
- B. ಈ ಯೋಜನೆಗೆ ಒಂದು ಕುಟುಂಬದಲ್ಲಿ ಒಬ್ಬರು ಸದಸ್ಯರು ಮಾತ್ರ ಸೇರಬಹುದು.
- C. ವಂತಿಗೇದಾರರ ಮರಣಾನಂತರ ಅವರ ಪತಿ / ಪತ್ನಿಗೆ ಅದೇ ಮೊತ್ತದ ನಿವೃತ್ತಿವೇತನದ ಖಾತ್ರಿಯಿದೆ.

ನೀಡಿರುವ ಆಯ್ಕೆಗಳಲ್ಲಿ ಸರಿಯಾದ ಉತ್ತರಕ್ಕಾಗಿ ಸಂಕೇತಗಳನ್ನಾರಿಸಿ :

- (1) A ಮಾತ್ರ
- (2) B ಮಾತ್ರ
- (3) A ಮತ್ತು B ಎರಡೂ
- (4) A ಆಗಲೀ B ಆಗಲೀ ಅಲ್ಲ

27. ಈ ಕೆಳಗಿನ ಹೇಳಿಕೆಗಳಲ್ಲಿ ಯಾವುದು ಹಣ ಮಸೂದೆಗೆ ಸಂಬಂಧಿಸಿದಂತೆ ಸರಿಯಾಗಿದೆ ?

- (1) ಇದನ್ನು ರಾಜ್ಯ ಸಭೆಯಲ್ಲಿ ಮಂಡಿಸಲಾಗುವುದಿಲ್ಲ.
- (2) ಒಂದು ಮಸೂದೆಯು ಹಣಕಾಸಿನ ಮಸೂದೆಯೇ ಅಥವಾ ಇಲ್ಲವೇ ಎಂಬ ಪ್ರಶ್ನೆಯು ಉದ್ಭವಿಸಿದ ಸಂದರ್ಭದಲ್ಲಿ ಲೋಕ ಸಭೆಯ ಅಧ್ಯಕ್ಷರ ತೀರ್ಮಾನವೇ ಅಂತಿಮ.
- (3) ಒಂದು ಹಣಕಾಸಿನ ಮಸೂದೆಯ ಪೂರ್ಣ ಸ್ತಂಭನೆಯ ಸಂದರ್ಭದಲ್ಲಿ ರಾಷ್ಟ್ರಪತಿಗಳು ಸಂಸತ್ತಿನ ಜಂಟಿ ಅಧಿವೇಶನವನ್ನು ಕರೆಯ ಬಹುದಾಗಿದೆ.
- (4) ರಾಷ್ಟ್ರಾಧ್ಯಕ್ಷರ ಶಿಫಾರಸ್ಸನ್ನು ಹೊರತುಪಡಿಸಿ ಒಂದು ಹಣಕಾಸಿನ ಮಸೂದೆಯನ್ನು ಮಂಡಿಸಲಾಗಿದೆ.

28. ಮುಖ್ಯ ಮಂತ್ರಿಯ ಮರಣ ಅಥವಾ ರಾಜೀನಾಮೆಯ ಸಂದರ್ಭದಲ್ಲಿ ಏನು ಘಟಿಸುತ್ತದೆ ?

- (1) ಮಂತ್ರಿ ಮಂಡಲದ ಅತ್ಯಂತ ಹಿರಿಯ ಸದಸ್ಯರು ಮುಖ್ಯ ಮಂತ್ರಿ ಯಾಗಿ ಅಧಿಕಾರವನ್ನು ವಹಿಸಿಕೊಳ್ಳುತ್ತಾರೆ.
- (2) ಉಚ್ಚ ನ್ಯಾಯಾಲಯದ ಮುಖ್ಯ ನ್ಯಾಯಾಧೀಶರು ಮುಖ್ಯ ಮಂತ್ರಿಯ ಕೆಲಸಗಳನ್ನು ವಹಿಸಿಕೊಳ್ಳುತ್ತಾರೆ.
- (3) ಮಂತ್ರಿಮಂಡಲವು ತನ್ನಂತಾನೇ ವಿಸರ್ಜನೆಗೊಳ್ಳುತ್ತದೆ.
- (4) ರಾಜ್ಯಪಾಲರು ತತ್ಕ್ಷಣವೇ ನೂತನ ಮುಖ್ಯ ಮಂತ್ರಿಯನ್ನು ಆಯ್ಕೆ ಮಾಡುತ್ತಾರೆ.

29. ಭಾರತೀಯರನ್ನು “ಸಿಟ್ಟಿನ ಪ್ರಕೃತಿಯವರು, ಆದರೆ ಪ್ರಾಮಾಣಿಕರು ” ಎಂಬುದಾಗಿ ವರ್ಣಿಸಿರುವವರು ಯಾರು ?

- (1) ಹ್ಯೂಯೆನ್ ತ್ಸಾಂಗ್
- (2) ಫಾಹಿಯಾನ್
- (3) ಮೆಗಾಸ್ತನೀಸ್
- (4) ನಿಕಿಟಿನ್

30. ‘ಜೀವನದ ಸರಿಯಾದ ಸಮಯ’ ಈ ಕಟ್ಟು ರೇಖೆಯು (ಟ್ಯಾಗ್‌ಲೈನ್) ಯಾವ ಪ್ರಸಿದ್ಧ ಗಡಿಯಾರ ಕಂಪನಿಯದು ?

- (1) ಒಮೇಗಾ
- (2) ರ್ಯಾಡೊ
- (3) ರೋಲೆಕ್ಸ್
- (4) ಎಂಪೋರಿಯೋ ಆರ್ಮಾನಿ

26. Regarding "Atal Pension Yojana", which of the following statements is/are correct ?

- A. It is a minimum guaranteed pension scheme mainly targeted at unorganized sector workers.
- B. Only one member of a family can join the scheme.
- C. Same amount of pension is guaranteed for the spouse for life after subscriber's death.

Select the code for the correct answer from the options given below :

- (1) Only A
- (2) Only B
- (3) Both A and B
- (4) Neither A nor B

27. Which one of the following statements related to a Money Bill is **not** correct ?

- (1) It cannot be introduced in the Rajya Sabha.
- (2) If any question arises whether a bill is a money bill or not, the decision of the Lok Sabha Speaker is final.
- (3) In case of a deadlock over a Money Bill, the President can summon a joint sitting of the Parliament.
- (4) A Money Bill cannot be introduced except on the recommendation of the President.

28. In the event of the death or resignation of a Chief Minister what happens ?

- (1) The seniormost member of the Council of Ministers takes over as the Chief Minister.
- (2) The Chief Justice of the High Court assumes the duties of a Chief Minister.
- (3) The Council of Ministers automatically stands dissolved.
- (4) The Governor immediately appoints a new Chief Minister.

29. Who described Indians as "hot tempered but honest" ?

- (1) Hiuen Tsang
- (2) Fa Hien
- (3) Megasthenes
- (4) Nikitin

30. 'The right time for life' is the tagline of which famous watch company ?

- (1) Omega
- (2) Rado
- (3) Rolex
- (4) Emporio Armani

31. 1833 ರಲ್ಲಿ ಲಂಡನ್‌ನ ಸಣ್ಣ ಅಂಗಡಿಯೊಂದರಿಂದ ವಿಕೋರಿಯನ್ ನಿಸರ್ಗ ಇತಿಹಾಸ ಉತ್ಸಾಹಕಾರರಿಗೆ ಸಮುದ್ರದ ಚಿಪ್ಪುಗಳನ್ನು ಮಾರುವ ಮೂಲಕ ಯಾವ ತೈಲಕಂಪನಿಯ ಸ್ಥಾಪನೆಯಾಯಿತು ?

- (1) ಗಾರ್ಡ್‌ಪ್ರಾಂ
- (2) ಎಕ್ಸೋನ್‌ಮೊಬಲ್
- (3) ಹಾಲಿಬರ್ಟನ್
- (4) ರಾಯಲ್ ಡಚ್

32. ಭಾರತದಲ್ಲಿ ಪ್ರಥಮ ಬಾರಿಗೆ ರಾಷ್ಟ್ರಾಧ್ಯಕ್ಷರು 352 ನೇ ಅನುಚ್ಛೇದದ ಪ್ರಕಾರ ತುರ್ತುಪರಿಸ್ಥಿತಿಯ ಘೋಷಣೆಯನ್ನು ಮಾಡಿದ್ದು

- (1) 1952
- (2) 1962
- (3) 1965
- (4) 1971

33. ಒಬ್ಬ ವ್ಯಕ್ತಿಯು - 2.0 ಡೈಆಪ್ಟರ್ ಸಾಮರ್ಥ್ಯದ ಕನ್ನಡಗಳನ್ನು ಧರಿಸುತ್ತಾನೆ ಇವನು ಯಾವ ರೀತಿಯ ಮಸೂರವನ್ನು ಧರಿಸಿದ್ದಾನೆ ಮತ್ತು ಯಾವ ರೀತಿಯ ಕಣ್ಣಿನ ಸಂದರ್ಭದಲ್ಲಿ ಉಪಯೋಗಿಸುತ್ತಾನೆ ?

- (1) ಸಮೀಪ ದೃಷ್ಟಿದೋಷದ ಕಾರಣದಿಂದ ದಿಗ್ಭ್ರಮೆ ಮಸೂರಗಳು
- (2) ದೂರ ದೃಷ್ಟಿದೋಷದ ಕಾರಣದಿಂದ ದಿಗ್ಭ್ರಮೆ ಮಸೂರಗಳು
- (3) ಸಮೀಪ ದೃಷ್ಟಿದೋಷದ ಕಾರಣದಿಂದ ಅಭಿಗಾಮಿ ಮಸೂರಗಳು
- (4) ದೂರ ದೃಷ್ಟಿದೋಷದ ಕಾರಣದಿಂದ ಅಭಿಗಾಮಿ ಮಸೂರಗಳು

34. ಸರ್ವೋಚ್ಚ ನ್ಯಾಯಾಲಯದ ಸಲಹೆಯೆಂದರೆ

- (1) ರಾಷ್ಟ್ರಾಧ್ಯಕ್ಷರ ಮೇಲಿನ ನಿರ್ಬಂಧ
- (2) ರಾಷ್ಟ್ರಾಧ್ಯಕ್ಷರ ಮೇಲಿನ ಅನಿರ್ಬಂಧ
- (3) ರಾಷ್ಟ್ರಾಧ್ಯಕ್ಷರ ಮೇಲಿನ ನಿರ್ಬಂಧ - ಒಂದು ವೇಳೆ ಅದು ಸರ್ವಾನುಮತದಿಂದ ಬೆಂಬಲಿತವಾಗಿದ್ದಲ್ಲಿ
- (4) ನಿರ್ದಿಷ್ಟ ಸಂದರ್ಭಗಳಲ್ಲಿ ನಿರ್ಬಂಧವು ಮತ್ತು ಇತರ ಪ್ರಕರಣಗಳಲ್ಲಿ ನಿರ್ಬಂಧವಲ್ಲದ

35. ಒಂದು ರಾಜ್ಯದ ಮುಖ್ಯ ಮಂತ್ರಿಯನ್ನು ತೆಗೆದು ಹಾಕಬಹುದು. ಹೀಗಿದ್ದಾಗ

- A. ವಿಧಾನ ಮಂಡಲದಿಂದ ಅವಿಶ್ವಾಸ ನಿರ್ಣಯವು ಮಂಡಿತವಾಗಿದ್ದಲ್ಲಿ
- B. ವಿಧಾನ ಮಂಡಲಿಯ ಎರಡೂ ಸದನಗಳಿಂದ ಅವಿಶ್ವಾಸ ನಿರ್ಣಯವು ಮಂಡಿತವಾಗಿದ್ದಲ್ಲಿ
- C. ವಿಧಾನ ಪರಿಷತ್ತಿನ ಸದಸ್ಯರಲ್ಲಿ 2/3 ನೇ ಭಾಗದ ಸದಸ್ಯರಿಂದ ನಡವಳಿಯ ಜಾರಿಯಾಗಿದ್ದಲ್ಲಿ
- D. ರಾಜ್ಯದಲ್ಲಿನ ಸಾಂವಿಧಾನಿಕ ಆಡಳಿತ ವ್ಯವಸ್ಥೆಯು ವಿಫಲವಾಗಿದೆಯೆಂದು ಕಂಡು ಬಂದಾಗ ರಾಜ್ಯಪಾಲರ ಅಭಿಪ್ರಾಯದ ಮೇರೆಗೆ.

ಮೇಲಿನ ಹೇಳಿಕೆಗಳಲ್ಲಿ ಯಾವುದು /ವು ಸರಿ ?

ಸರಿಯಾದ ಉತ್ತರಕ್ಕಾಗಿ ಸಂಕೇತಗಳನ್ನಾರಿಸಿ :

- (1) A ಮತ್ತು B ಮಾತ್ರ
- (2) B ಮತ್ತು C ಮಾತ್ರ
- (3) A, B ಮತ್ತು D ಮಾತ್ರ
- (4) A ಮತ್ತು D ಮಾತ್ರ



**31.** Which oil company's foundation was laid by selling sea shells to Victorian natural history enthusiasts, from a small shop in London in 1833 ?

- (1) Gazprom
- (2) ExxonMobil
- (3) Haliburton
- (4) Royal Dutch

**32.** The President made a proclamation of Emergency under Article 352, for the first time, in India in

- (1) 1952
- (2) 1962
- (3) 1965
- (4) 1971

**33.** A person wears spectacles of power – 2.0 Diopter. What kind of lens is he wearing and due to which eye condition ?

- (1) Diverging lens because of short-sightedness
- (2) Diverging lens because of long-sightedness
- (3) Converging lens because of short-sightedness
- (4) Converging lens because of long-sightedness

**34.** The advice of the Supreme Court is

- (1) binding on the President.
- (2) non-binding on the President.
- (3) binding on the President if it is tendered unanimously.
- (4) binding in certain cases and non-binding in other cases.

**35.** The Chief Minister of a State can be removed, if

- A. a no-confidence motion is passed by the legislative assembly.
- B. a no-confidence motion is passed by both the houses of the state legislature.
- C. a resolution is passed by two-thirds of the members of the legislative council.
- D. in the opinion of a Governor, there is a breakdown of constitutional machinery in the state.

Which of the above statements are correct ?

Select the code for the correct answer from the options given below :

- (1) Only A and B
- (2) Only B and C
- (3) Only A, B and D
- (4) Only A and D

36. ರಾಜ್ಯಸಭೆಯ ವಿಶೇಷ ಅಧಿಕಾರಗಳಲ್ಲಿ ಈ ಕೆಳಗಿನ ಯಾವುದನ್ನು ತಪ್ಪಾಗಿ ಪಟ್ಟಿ ಮಾಡಲಾಗಿದೆ ?

- (1) ಭಾರತದ ಉಪಾಧ್ಯಕ್ಷರನ್ನು ತೆಗೆದುಹಾಕುವ ನಡವಳಿಯು ರಾಜ್ಯ ಸಭೆಯಿಂದ ಮಾತ್ರ ಆರಂಭವಾಗಬೇಕು.
- (2) ನೂತನ ಅಖಿಲ ಭಾರತೀಯ ಸೇವೆಗಳ ಸೃಷ್ಟಿಯ ನಡವಳಿಯು ರಾಜ್ಯ ಸಭೆಯಿಂದ ಮಾತ್ರ ಆರಂಭವಾಗಬೇಕು.
- (3) ರಾಜ್ಯ ಪಟ್ಟಿಯಲ್ಲಿನ ಯಾವುದೇ ವಿಷಯದ ಮೇಲಿನ ಕಾನೂನುಗಳು ರಾಜ್ಯ ಸಭೆಯಿಂದ ಮಾತ್ರ ಆಗಬೇಕು ಇದು ರಾಷ್ಟ್ರೀಯ ಹಿತಾಸಕ್ತಿಗನುಗುಣವಾಗಿದ್ದು, ಅಗತ್ಯವಾಗಿದೆ ಎಂದು ಕಂಡುಬಂದಿದ್ದರೆ
- (4) ಮೇಲಿನ ಯಾವುದೂ ಅಲ್ಲ

37. ಈ ಕೆಳಗಿನವುಗಳಲ್ಲಿ ಯಾವುದು 'ಧರ್ಮದರ್ಶಿತ್ವ' ದ ಮೇಲಿನ ಕಲ್ಪನೆ ಕುರಿತಂತೆ ಸುಳ್ಳಾಗಿದೆ ?

- (1) ಇದು ಗಾಂಧೀಜಿಯವರಿಂದ ರೂಪುಗೊಂಡಿರುವುದು
- (2) ಇದು ಶ್ರೀಮಂತರು ಅವರ ಪರವಾಗಿ ಸವಲತ್ತುಗಳನ್ನು ಮತ್ತು ಅವರಿಗಾಗಿ ಕಡಿಮೆ ಸವಲತ್ತಿನವರ ಸೇವೆಗಳನ್ನು ಹೊಂದುತ್ತಾರೆ
- (3) ಇದು ವ್ಯವಹಾರ (ಬಿಸಿನೆಸ್) ವರ್ಗವನ್ನು ರಾಷ್ಟ್ರವಾದಿಗಳನ್ನಾಗಿಸಲು ಅನುಮತಿಸುತ್ತದೆ ಮತ್ತು ದುಡಿಯುವ ವರ್ಗದ ರಾಜನೀತಿಗೆ ವಿರುದ್ಧವಾಗಿದೆ
- (4) ಇದು ಭಾರತೀಯ ರಾಷ್ಟ್ರೀಯ ಕಾಂಗ್ರೆಸ್‌ನ ಅಧಿಕೃತ ಸ್ಥಿತಿಯಾಗಿದೆ

38. ಕಾರ್ಮಿಕರ ಗೋಜಿಗೆ ಹೋಗುವುದಿಲ್ಲವೆಂದು ಹೇಳಿದವರಾರು ? ಕಾರ್ಖಾನೆ ಕಾರ್ಮಿಕವರ್ಗವನ್ನು ರಾಜಕೀಯವಾಗಿ ಉಪಯೋಗಿಸಿ ಕೊಳ್ಳುವುದು ಅಪಾಯಕಾರಿಯೆಂದು ಅಹಮದಾಬಾದ್ ಬಟ್ಟೆ ಗಿರಣಿಗಳ ಕಾರ್ಮಿಕ ನೀತಿಗಳಿಂದ ಹೊರಬಂದ ಮತ್ತು ಆತನ ಹಾಗೂ ರಾಷ್ಟ್ರೀಯ ಮಿಲ್ ಮಾಲೀಕರ ನಡುವೆ ನಡೆದ ಒಪ್ಪಂದದ ಮೇಲೆ ಮುಷ್ಕರವನ್ನು ಒಡೆಯಲು ನಿರಾಕರಿಸಿದವರು

- (1) ಲಾಲಾ ಲಜಪತ್ ರಾಯ್
- (2) ಸರ್ದಾರ್ ವಲ್ಲಭಭಾಯಿ ಪಟೇಲ್
- (3) ಮೋಹನ್ ದಾಸ್ ಕರಮಚಂದ ಗಾಂಧಿ
- (4) ವಿಪಿನ್ ಚಂದ್ರ ಪಾಲ್

39. (ಕಮ್ಯೂನಲ್) ಕೋಮು ಪ್ರಶಸ್ತಿ ಕುರಿತಂತೆ ಕೆಳಗಿನ ಯಾವುದು ಸುಳ್ಳು ?

- A. ಅಂಬೇಡ್ಕರ್ ಅದರೊಂದಿಗೆ ಸಂತೋಷದಿಂದಿದ್ದರು.
- B. ಇದು ಹಿಂದೂ-ಮುಸ್ಲಿಂ ಒಮ್ಮತವನ್ನು ಕುರಿತದ್ದು.
- C. ಇದು 1919 ರಲ್ಲಿ ಪ್ರಕಟವಾಯಿತು.
- D. ಗಾಂಧೀಜಿಯವರು ಇದರ ವಿರುದ್ಧ ಉಪವಾಸವನ್ನು ಆರಂಭಿಸಿದರು.

ಸರಿಯಾದ ಉತ್ತರಕ್ಕಾಗಿ, ಕೊಟ್ಟಿರುವ ಆಯ್ಕೆಗಳಿಂದ ಸಂಕೇತಗಳನ್ನಾರಿಸಿ :

- (1) A ಮತ್ತು B ಮಾತ್ರ
- (2) B ಮತ್ತು C ಮಾತ್ರ
- (3) A ಮತ್ತು D ಮಾತ್ರ
- (4) A, B, C ಮತ್ತು D

**36.** Which one of the following has been wrongly listed among the special powers of the Rajya Sabha ?

- (1) Resolution for the removal of the Vice President of India can be initiated only in the Rajya Sabha.
- (2) Resolution for the creation of new All India Services can be initiated only in the Rajya Sabha.
- (3) Laws on any subject of State List can originate only in the Rajya Sabha, if it is satisfied that it is necessary to do so in the national interest.
- (4) None of the above

**37.** Which of the following is *false* about the idea of “trusteeship” ?

- (1) It was formulated by Gandhiji.
- (2) It held that the wealthy had their privileges on behalf of and for the services of the underprivileged.
- (3) It allowed the business class to become nationalist and yet stand against working class politics.
- (4) It was the official position of the Indian National Congress.

**38.** Who said we must not tamper with the labourers. It is dangerous to make political use of the factory proletariat, and left the labour politics of the textile mills of Ahmedabad, and refused to break the strike on the terms agreed between him and the nationalist mill owners ?

- (1) Lala Lajpat Rai
- (2) Sardar Vallabhbhai Patel
- (3) Mohandas Karamchand Gandhi
- (4) Vipin Chandra Pal

**39.** Which of the following was *false* about the Communal Award ?

- A. Ambedkar was happy with it.
- B. It was a Hindu-Muslim accord.
- C. It was announced in 1919.
- D. Gandhiji started a fast against it.

Select the code for the correct answer from the options given below :

- (1) Only A and B
- (2) Only B and C
- (3) Only A and D
- (4) A, B, C and D

40. ರಾಷ್ಟ್ರೀಯ ಚಳುವಳಿಯ ಗತಿಯು ವಿವಿಧ ಜನರು ವಿವಿಧ ರೀತಿಯಲ್ಲಿ ತೊಡಗುವುದನ್ನು ಕಂಡಿತು. ಈ ಕೆಳಗೆ ಕೆಲವು ತೊಡಗುವಿಕೆಗಳನ್ನು ನೀಡಲಾಗಿದೆ.

- A. ಮೊಹಮ್ಮದ್ ಅಲಿಯದರಿಂದ ಖುದೈ ಖಿದ್ಮತ್‌ಗಾರ್
- B. ಸುಭಾಷ್ ಚಂದ್ರ ಬೋಸ್ ರಿಂದ ಚಿತ್ತಗಾಂಗ್ ಧಾಳಿ
- C. ಖಾನ್ ಅಬ್ದುಲ್ ಗಫಾರ್ ಖಾನ್‌ರ ನಾಯಕತ್ವದಲ್ಲಿ ಖಿಲಾಫತ್ ಚಳುವಳಿ
- D. ಸೂರ್ಯ ಸೇನ್‌ರಿಂದ ಭಾರತೀಯ ರಾಷ್ಟ್ರೀಯ ಸೈನ್ಯದ ಉದಯ.

ಮೇಲಿನವುಗಳಲ್ಲಿ ಯಾವುದು ಸರಿ ?

ಸರಿಯಾದ ಉತ್ತರಕ್ಕಾಗಿ, ನೀಡಿರುವ ಆಯ್ಕೆಗಳಿಂದ ಸಂಕೇತಗಳನ್ನಾಹಿಸಿ :

- (1) B ಮತ್ತು C ಮಾತ್ರ
- (2) A ಮಾತ್ರ
- (3) A ಮತ್ತು C ಮಾತ್ರ
- (4) ಮೇಲಿನ ಯಾವುದೂ ಅಲ್ಲ

41. 15 ನೇ ಮತ್ತು 16 ನೇ ಶತಮಾನಗಳ ಅವಧಿಯಲ್ಲಿ ಕೆಲವು ವಿದೇಶೀಯರು ಭಾರತಕ್ಕೆ ಭೇಟಿಯಿತ್ತುದನ್ನು ಸಂಕ್ಷಿಪ್ತವಾಗಿ ಈ ಕೆಳಗೆ ಪರಿಚಯಿಸಲಾಗಿದೆ.

- A. I ನೇ ದೇವರಾಯನ ಅಳ್ವಿಕೆಯ ಅವಧಿಯಲ್ಲಿ ವಿಜಯನಗರ ಸಾಮ್ರಾಜ್ಯಕ್ಕೆ ಭೇಟಿಯಿತ್ತ ಇಟಾಲಿಯನ್ - ನಿಕೊಲೊ ಕೊಂಟಿ
- B. II ನೇ ದೇವರಾಯನ ಅಳ್ವಿಕೆಯ ಅವಧಿಯಲ್ಲಿ ವಿಜಯನಗರ ಸಾಮ್ರಾಜ್ಯಕ್ಕೆ ಭೇಟಿಯಿತ್ತ ಒಬ್ಬ ಪರ್ಷಿಯನ್ ರಾಯಭಾರಿ - ಅಬ್ದುರ ರಜಾಕ್
- C. ಕೃಷ್ಣದೇವರಾಯನ ಅಳ್ವಿಕೆಯ ಅವಧಿಯಲ್ಲಿ ವಿಜಯನಗರ ಸಾಮ್ರಾಜ್ಯಕ್ಕೆ ಭೇಟಿಯಿತ್ತ ಒಬ್ಬ ಪೋರ್ಚುಗೀಸ್ ವ್ಯಾಪಾರಿ - ಬಾರ್ಬೋಸಾ
- D. ಅಚ್ಯುತ ದೇವರಾಯನ ಅಳ್ವಿಕೆಯ ಅವಧಿಯಲ್ಲಿ ವಿಜಯನಗರ ಸಾಮ್ರಾಜ್ಯಕ್ಕೆ ಭೇಟಿಯಿತ್ತ ಒಬ್ಬ ಪೋರ್ಚುಗೀಸ್ ಕುದುರೆ ವ್ಯಾಪಾರಿ ಮತ್ತು "ದಿ ಫರ್‌ಗಾಟನ್ ಎಂಪೈರ್" ಎಂದು ವಿವರಣೆ ನೀಡಿದವ - ಫರ್ನಾವೊ ನ್ಯೂನಿಜ್

ಮೇಲಿನ ಜೋಡಿಗಳಲ್ಲಿ ಯಾವುದು ಸರಿಯಾಗಿದೆ ?

ನೀಡಿರುವ ಆಯ್ಕೆಗಳಲ್ಲಿ ಸರಿಯಾದ ಉತ್ತರಕ್ಕಾಗಿ ಸಂಕೇತಗಳನ್ನಾಹಿಸಿ :

- (1) A ಮಾತ್ರ
- (2) A ಮತ್ತು C ಮಾತ್ರ
- (3) B ಮತ್ತು D ಮಾತ್ರ
- (4) A, B, C ಮತ್ತು D

40. The course of the National Movement saw different people taking different initiatives. A few such initiatives are given below :

- A. Khudai Khidmatgar by Mohammad Ali
- B. Chittagong Raid by Subhash Chandra Bose
- C. Khilafat Movement led by Khan Abdul Ghaffar Khan
- D. Raising of Indian National Army by Surya Sen

Which of the above is/are correct ?

Select the code for the correct answer from the options given below :

- (1) Only B and C
- (2) Only A
- (3) Only A and C
- (4) None of the above

41. Some foreigners to visit India during the course of the 15<sup>th</sup> and early 16<sup>th</sup> centuries have been briefly introduced here :

- A. An Italian who visited Vijaynagar empire during the reign of Devaraya I – Nicolo Conti
- B. A Persian ambassador who visited Vijaynagar empire during the reign of Devaraya II – Abdur Razzaq
- C. A Portuguese traveller who visited Vijaynagar empire during the reign of Krishnadevaraya – Barbosa
- D. A Portuguese horse dealer who visited Vijaynagar empire during the reign of Achyuta Deva Raya and wrote an account “The Forgotten Empire” – Fernao Nuniz

Which of the above pairs is/are correct ?  
Select the code for the correct answer from the options given below :

- (1) Only A
- (2) Only A and C
- (3) Only B and D
- (4) A, B, C and D

42. ಮೊಘಲರು ನಡೆಸಿದ ಕೆಲವು ಮುಖ್ಯ ಯುದ್ಧಗಳೆಂದರೆ

- A. ಹುಮಾಯೂನನ ನಾಯಕತ್ವದಲ್ಲಿ ಚೌಸಾ ಯುದ್ಧ
- B. ಬಾಬರನ ನಾಯಕತ್ವದಲ್ಲಿ ಕಣ್ಣು ಯುದ್ಧ
- C. ಅಕ್ಬರನಿಂದ 2 ನೇ ಪಾನಿಪಟ್ ಯುದ್ಧ
- D. ಜಹಾಂಗೀರನ ನಾಯಕತ್ವದಲ್ಲಿ ಮೇವಾರದ ಅಮರ್ ಸಿಂಗ್ ವಿರುದ್ಧ

ಮೇಲಿನವುಗಳಲ್ಲಿ ಯಾವುದು ಸರಿ ?

ನೀಡಿರುವ ಆಯ್ಕೆಗಳಲ್ಲಿ ಸರಿಯಾದ ಉತ್ತರಕ್ಕಾಗಿ ಸಂಕೇತಗಳನ್ನಾರಿಸಿ :

- (1) A ಮಾತ್ರ
- (2) B ಮಾತ್ರ
- (3) C ಮಾತ್ರ
- (4) A, B, C ಮತ್ತು D

43. ಕೆಳಗಿನ ಸಂಸ್ಥೆಗಳನ್ನು ಪರಿಗಣಿಸಿ :

- A. ಇಂಟರ್‌ನ್ಯಾಷನಲ್ ಬ್ಯಾಂಕ್ ಫಾರ್ ರಿಕನ್‌ಸ್ಟ್ರಕ್ಷನ್ ಅಂಡ್ ಡೆವಲಪ್‌ಮೆಂಟ್ (IBRD)
- B. ಇಂಟರ್‌ನ್ಯಾಷನಲ್ ಫೈನಾನ್ಸ್ ಕಾರ್ಪೊರೇಷನ್ (IFC)
- C. ಇಂಟರ್‌ನ್ಯಾಷನಲ್ ಫಂಡ್ ಫಾರ್ ಅಗ್ರಿಕಲ್ಚರಲ್ ಡೆವಲಪ್‌ಮೆಂಟ್ (IFAD)
- D. ಇಂಟರ್‌ನ್ಯಾಷನಲ್ ಮಾನಿಟರಿ ಫಂಡ್ (IMF)

ಈ ಮೇಲಿನವುಗಳಲ್ಲಿ ಯಾವ ಸಂಸ್ಥೆಗಳು ವಿಶ್ವಸಂಸ್ಥೆಯವು ?

- (1) A, B, C ಮತ್ತು D
- (2) A, B ಮತ್ತು C ಮಾತ್ರ
- (3) B ಮತ್ತು C ಮಾತ್ರ
- (4) C ಮತ್ತು D ಮಾತ್ರ

44. ಕೆಳಗಿನ ದೇಶಗಳನ್ನು ಪರಿಗಣಿಸಿ :

- A. ಚೀನಾ
- B. ಫ್ರಾನ್ಸ್
- C. ಭಾರತ
- D. ಇಸ್ರೇಲ್
- E. ಪಾಕಿಸ್ತಾನ್

ನ್ಯೂಕ್ಲಿಯರ್ ಪ್ರಸರಣದ ನಿಶ್ಚಯಕರಣ ಒಪ್ಪಂದ (NPT) ಎಂದು ಹೆಸರಾಗಿರುವ ನ್ಯೂಕ್ಲಿಯರ್ ಅಸ್ತ್ರಗಳನ್ನು ಕುರಿತಾದ ಒಪ್ಪಂದದಲ್ಲಿ ಮೇಲಿನ ಯಾವವು ಅಣ್ವಸ್ತ್ರನಾಡುಗಳೆಂದು ಗುರ್ತಿಸಲ್ಪಟ್ಟಿವೆ ? ನೀಡಿರುವ ಆಯ್ಕೆಗಳಲ್ಲಿ ಸರಿಯಾದ ಉತ್ತರಕ್ಕಾಗಿ ಸಂಕೇತಗಳನ್ನಾರಿಸಿ :

- (1) A ಮತ್ತು B ಮಾತ್ರ
- (2) A, C, D ಮತ್ತು E ಮಾತ್ರ
- (3) A, D ಮತ್ತು E ಮಾತ್ರ
- (4) A, B, C, D ಮತ್ತು E

45. ಇತ್ತೀಚೆಗೆ, ಮಾಸ್ಕೋ ಮರಳು ಕಲೆಯ ಚಾಂಪಿಯನ್‌ಶಿಪ್‌ನ 10 ನೇ ಆವೃತ್ತಿಯಲ್ಲಿ ಚಿನ್ನವನ್ನು ಗಳಿಸಿದವರು ಯಾರು ?

- (1) ಮಾನಸ್ ಕುಮಾರ್ ಸಾಹೂ
- (2) ಕ್ರೇನಿಯಾ ಸಿಮೋನೋವಾ
- (3) ನಿತೀಶ್ ಭಾಟಿ
- (4) ಸುದರ್ಶನ್ ಪಟ್ನಾಯಕ್

42. Some of the important battles that the Mughals fought were :

- A. Battle of Chausa led by Humayun
- B. Battle of Khanwa led by Babar
- C. Second Battle of Panipat by Akbar
- D. Against Amar Singh of Mewar led by Jehangir

Which of the above is/are correct ?

Select the code for the correct answer from the options given below :

- (1) Only A
- (2) Only B
- (3) Only C
- (4) A, B, C and D

43. Consider the following organizations :

- A. International Bank for Reconstruction and Development (IBRD)
- B. International Finance Corporation (IFC)
- C. International Fund for Agricultural Development (IFAD)
- D. International Monetary Fund (IMF)

Which of the above agencies are of United Nations ?

- (1) A, B, C and D
- (2) Only A, B and C
- (3) Only B and C
- (4) Only C and D

44. Consider the following countries :

- A. China
- B. France
- C. India
- D. Israel
- E. Pakistan

Which among the above are nuclear weapon states as recognized by the treaty on the non-proliferation of nuclear weapons commonly known as Nuclear Non-Proliferation Treaty (NPT) ?

Select the code for the correct answer from the options given below :

- (1) Only A and B
- (2) Only A, C, D and E
- (3) Only A, D and E
- (4) A, B, C, D and E

45. Who has won the Gold at the tenth edition of the Moscow Sand Art Championship recently ?

- (1) Manas Kumar Sahoo
- (2) Kreniya Simonova
- (3) Nitish Bhati
- (4) Sudarshan Pattnaik

46. ಜಲಪಾತದ ತಳದಲ್ಲಿರುವ ನೀರಿನ ತಾಪವು ಮೇಲ್ಭಾಗದ ನೀರಿನ ತಾಪಕ್ಕಿಂತ ಅಧಿಕವಾಗಿರುತ್ತದೆ. ಏಕೆಂದರೆ

- (1) ತಳಭಾಗದ ನೀರು ಅಧಿಕ ಪ್ರಚ್ಛನ್ನ ಶಕ್ತಿಯನ್ನು ಹೊಂದಿರುತ್ತದೆ.
- (2) ತಳಭಾಗದ ಮೇಲ್ಮೈಯು ಶಾಖವನ್ನೊದಗಿಸುತ್ತದೆ.
- (3) ಬೀಳುತ್ತಿರುವ ನೀರಿನ ಚಲನಶಕ್ತಿಯು ಶಾಖವಾಗಿ ಪರಿವರ್ತಿತವಾಗುತ್ತದೆ.
- (4) ಬೀಳುತ್ತಿರುವ ನೀರು ಸುತ್ತಲಿನ ವಾತಾವರಣದಿಂದ ಶಾಖವನ್ನು ಹೀರಿಕೊಳ್ಳುತ್ತದೆ.

47. ಪಟ್ಟಿ I ರಲ್ಲಿರುವ ಆಟಗಾರರನ್ನು ಪಟ್ಟಿ II ರಲ್ಲಿರುವ ಅವರಿಗೆ ಸಂಬಂಧಿಸಿರುವ ಕ್ರೀಡೆಯೊಂದಿಗೆ ಹೊಂದಿಸಿರಿ :

ಪಟ್ಟಿ I (ಆಟಗಾರರು)	ಪಟ್ಟಿ II (ಅವರಿಗೆ ಸಂಬಂಧಿಸಿರುವ ಕ್ರೀಡೆಗಳು)
----------------------	--

- |                             |                    |
|-----------------------------|--------------------|
| A. ಸೋಮ್‌ದೇವ್<br>ದೇವ್‌ವರ್ಮನ್ | I. ಶೂಟಿಂಗ್         |
| B. ಗಗನ್ ನಾರಂಗ್              | II. ಲಾನ್ ಟೆನಿಸ್    |
| C. ಅನಿತಾ ಸೂದ್               | III. ಬ್ಯಾಡ್‌ಮಿಂಟನ್ |
| D. ಸೈನಾ ನೆಹ್ರವಾಲ್           | IV. ಈಜು            |

ಸಂಕೇತಗಳ ಸಹಾಯದಿಂದ ಸರಿ ಉತ್ತರಗಳನ್ನು ಆರಿಸಿ :

	A	B	C	D
(1)	I	II	III	IV
(2)	II	I	III	IV
(3)	II	I	IV	III
(4)	I	II	IV	III

48. ಕೆಳಗಿನವರಲ್ಲಿ ಯಾರು “ಜನಸಂಖ್ಯಾಶಾಸ್ತ್ರದ ಪಿತಾಮಹ” ಎಂದು ಕರೆಸಿಕೊಂಡವರಾಗಿದ್ದಾರೆ ?

- (1) ವಿಲಿಯಂ ಪ್ಯಾಟಿ
- (2) ಎಡ್ಮಂಡ್ ಹ್ಯಾಲಿ
- (3) ಥಾಮಸ್ ಆರ್. ಮಾಲ್ಥಸ್
- (4) ಜಾನ್ ಗ್ರಾಂಟ್

49. ಈ ಕೆಳಗಿನವುಗಳಲ್ಲಿ ಯಾವುದು ಭಾರತದಲ್ಲಿ ಕಟ್ಟಲಾಗಿರುವ ಇಸ್ಲಾಮಿಕ್ ಕಟ್ಟಡಗಳ ಅಲಂಕರಣದ ಅಂಶಗಳಾಗಿಲ್ಲ?

- (1) ಕ್ಯಾಲಿಗ್ರಫಿ (ಸುಂದರ ಲಿಪಿಗಾರಿಕೆ)
- (2) ಜೀವಿಯ ಚಿತ್ರಣ (ಕೆತ್ತನೆ)
- (3) ಜ್ಯಾಮಿತ್ರಿ (ರೇಖಾಗಣಿತ)
- (4) ಪರ್ಣ ಸಮೂಹ

50. ವಿಜಯನಗರ ಸಾಮ್ರಾಜ್ಯದ ಬಗ್ಗೆ ಅತಿ ಪ್ರಶಂಸನೀಯ ವಿವರಣೆಯನ್ನು ಬಿಟ್ಟು ಹೋಗಿರುವ ಇಟಾಲಿಯನ್ ಪ್ರವಾಸಿ ಯಾರು ?

- (1) ಬಾರ್ಬೋಸಾ
- (2) ಮಾರ್ಕೊ ಪೋಲೋ
- (3) ನಿಕೊಲೊ ಕೊಂಟಿ
- (4) ಟೋಂ ಪೈರ್ಸ್



46. The temperature of the water at the bottom of the waterfall is higher than that at the top because

- (1) water at the bottom has greater potential energy.
- (2) the surface at the bottom provides heat.
- (3) kinetic energy of falling water is converted into heat.
- (4) falling water absorbs heat from the surroundings.

47. Match the players (List I) with the games they are associated (List II) :

*List I*  
(Players)

*List II*  
(Games they  
are associated)

- |                        |                 |
|------------------------|-----------------|
| A. Somdev<br>Devvarman | I. Shooting     |
| B. Gagan Narang        | II. Lawn Tennis |
| C. Anita Sood          | III. Badminton  |
| D. Saina Nehwal        | IV. Swimming    |

Select the code for the correct answer from the options given below :

- |     | <b>A</b> | <b>B</b> | <b>C</b> | <b>D</b> |
|-----|----------|----------|----------|----------|
| (1) | I        | II       | III      | IV       |
| (2) | II       | I        | III      | IV       |
| (3) | II       | I        | IV       | III      |
| (4) | I        | II       | IV       | III      |

48. Who among the following is recognized as “Father of Demography” ?

- (1) William Petty
- (2) Edmund Halley
- (3) Thomas R. Malthus
- (4) John Graunt

49. In the Islamic buildings that were built in India, the elements of decoration did **not** include which of the following ?

- (1) Calligraphy
- (2) Depiction of living being
- (3) Geometry
- (4) Foliage

50. The Italian traveller who left a very praiseworthy account of the Vijaynagar empire was

- (1) Barbosa
- (2) Marco Polo
- (3) Nicolo Conti
- (4) Tome Pires

51. ಐಹೋಳೆ, ಬಾದಾಮಿ ಮತ್ತು ಎಲ್ಲೋರಾದ ಬಂಡೆ ನಿರ್ಮಿತ ಗುಹೆಗಳ ಕ್ಷೇತ್ರಗಳಲ್ಲಿನ ಸಾಮಾನ್ಯ ಲಕ್ಷಣವನ್ನು ಗುರ್ತಿಸಿ

- (1) ಒಂದೇ ಸಾಮಾನ್ಯ ರಾಜಮನೆತನದಿಂದ ಕಲಾ ಚಟುವಟಿಕೆಯು ಪೋಷಿಸಲ್ಪಟ್ಟಿದೆ.
- (2) ಬಂಡೆ ನಿರ್ಮಿತ ಗುಹೆಗಳು ಸದೃಶ ರಚನಾ ಯೋಜನೆಗಳನ್ನು ಹೊಂದಿವೆ.
- (3) ಬಂಡೆ ನಿರ್ಮಿತ ಗುಹೆಗಳು ಯಾವುದೇ ಒಂದು ಶ್ರದ್ಧಾನಂಬಿಕೆಯೊಡನೆ ಸಂಬಂಧ ಹೊಂದಿಲ್ಲ.
- (4) ಬಂಡೆ ನಿರ್ಮಿತ ಗುಹೆಗಳು ಸಹಜಗಾತ್ರದ (ಜೀವಂತ ಪ್ರಮಾಣದ) ಶಿಲಾಕೃತಿಗಳಿಂದ ಅಲಂಕೃತವಾಗಿವೆ.

52. ಗಾಂಧೀಜಿಯವರ ಬಗ್ಗೆ ಕೆಳಗಿನ ವೀಕ್ಷಣೆಯನ್ನು ಮಾಡಿದವರಾರು ?

“ಭೂಮಿಯ ಮೇಲೆ ಎಂದೂ ಇಂಥಾ ಒಬ್ಬ ಜೀವಂತ ವ್ಯಕ್ತಿ ಇದ್ದರೆಂಬುದನ್ನು ಗಣನೆಗೆ ಬಾರದಂತೆ ನಂಬಲು ತಲೆಮಾರು ದಾಟಬೇಕು.”

- (1) ಜವಾಹರ್‌ಲಾಲ್ ನೆಹರೂ
- (2) ಲಾರ್ಡ್ ಮೌಂಟ್‌ಬ್ಯಾಟನ್
- (3) ಸಿ.ಎಫ್. ಅಂಡ್ರ್ಯೂಸ್
- (4) ಪ್ರೊ. ಐನ್‌ಸ್ಟೈನ್

53. ವೈದ್ಯರು ಎಲ್ಲಿ ರಹಿತರು (ಔಷಧಿಗಳು ಗಡಿರಹಿತವಾದವು) ಎಂಬ ಸುದ್ದಿಯು ಆಗಾಗ ಇಲ್ಲಿ ಕೇಳಿಬರುತ್ತದೆ

- (1) ವಿಶ್ವ ಆರೋಗ್ಯ ಸಂಸ್ಥೆಯ (WHO) ಒಂದು ಭಾಗ
- (2) ಸರ್ಕಾರದ್ದಲ್ಲದ ಅಂತರರಾಷ್ಟ್ರೀಯ ಸಂಸ್ಥೆ
- (3) ಯುರೋಪಿಯನ್ ಒಕ್ಕೂಟದಿಂದ ಪ್ರಾಯೋಜಿತವಾದ ಒಂದು ಅಂತರ್ ಸರ್ಕಾರಿ ಸಂಸ್ಥೆ
- (4) ಯುನೈಟೆಡ್ ಸ್ಟೇಟ್‌ನ ಒಂದು ವಿಶೇಷ ಸಂಸ್ಥೆ

54. ಸ್ವದೇಶಿ ಮತ್ತು ಬಹಿಷ್ಕಾರ ಎಂಬ ಹೋರಾಟದ ವಿಧಾನಗಳನ್ನು ಮೊದಲಿಗೆ ಅಳವಡಿಸಿಕೊಂಡ ಅವಧಿಯು

- (1) ಬಂಗಾಳ ವಿಭಜನೆಯ ವಿರುದ್ಧವಾದ ಚಳುವಳಿ
- (2) ಹೊಂ ರೂಲ್ ಚಳುವಳಿ
- (3) ಅಸಹಕಾರ ಚಳುವಳಿ
- (4) ಭಾರತಕ್ಕೆ ಸೈಮನ್ ಆಯೋಗದ ಭೇಟಿ

55. ಸತ್ಯ ಶೋಧಕ ಸಮಾಜವು ರೂಪುಗೊಂಡಿದ್ದು

- (1) ಬಿಹಾರ್‌ನಲ್ಲಿಯ ಉದ್ಧಾರಕ್ಕಾಗಿ ನಡೆದ ಚಳುವಳಿ
- (2) ಗುಜರಾತ್‌ನಲ್ಲಿ ದೇವಾಲಯ ಪ್ರವೇಶಕ್ಕಾಗಿ ನಡೆದ ಚಳುವಳಿ
- (3) ಮಹಾರಾಷ್ಟ್ರದಲ್ಲಿ ಜಾತಿ ವಿರುದ್ಧದ ಚಳುವಳಿ
- (4) ಪಂಜಾಬ್‌ನಲ್ಲಿನ ರೈತ ಚಳುವಳಿ

**51.** Identify the feature which is common to the rock-cut cave sites of Aihole, Badami and Ellora.

- (1) An art activity was patronized by a common dynasty.
- (2) The rock-cut caves have identical plans.
- (3) The rock-cut caves are not associated with any single faith.
- (4) The rock-cut caves are embellished with life-size sculptures.

**52.** Who made the following observation about Gandhiji ?

“Generations to come, it may be, will scarcely believe that such a one as this ever in flesh and blood walked upon this earth.”

- (1) Jawaharlal Nehru
- (2) Lord Mountbatten
- (3) C.F. Andrews
- (4) Prof. Einstein

**53.** Doctors without borders (Médecins Sans Frontières) often in the news is

- (1) A division of World Health Organisation (WHO)
- (2) A non-Governmental International Organisation
- (3) An inter-governmental agency sponsored by European Union
- (4) A specialized agency of the United States

**54.** The Swadeshi and Boycott Movements were adopted as methods of struggle for the first time during the

- (1) Agitation against the Partition of Bengal
- (2) Home Rule Movement
- (3) Non-Cooperation Movement
- (4) Visit of the Simon Commission to India

**55.** Satya Shodhak Samaj organised

- (1) A movement for upliftment in Bihar
- (2) A temple entry movement in Gujarat
- (3) An anti-caste movement in Maharashtra
- (4) A peasant movement in Punjab

56. ಕೆಳಗಿನ ಹೇಳಿಕೆಗಳನ್ನು ಪರಿಗಣಿಸಿ :

- A. ಹೊಸ ಅಭಿವೃದ್ಧಿ ಬ್ಯಾಂಕು APEC ಯಿಂದ ಸ್ಥಾಪನೆಯಾಯಿತು.
- B. ಹೊಸ ಅಭಿವೃದ್ಧಿ ಬ್ಯಾಂಕಿನ ಕೇಂದ್ರ ಸ್ಥಾನವು ಶಾಂಘೈನಲ್ಲಿದೆ.

ಮೇಲಿನ ಹೇಳಿಕೆಗಳಲ್ಲಿ ಯಾವುದು / ವು ಸರಿಯಾಗಿದೆ.

ನೀಡಿರುವ ಆಯ್ಕೆಗಳಿಂದ ಸರಿಯಾದ ಉತ್ತರಕ್ಕಾಗಿ ಸಂಕೇತಗಳನ್ನಾರಿಸಿ :

- (1) A ಮಾತ್ರ
- (2) B ಮಾತ್ರ
- (3) A ಮತ್ತು B ಎರಡೂ
- (4) A ಆಗಲೀ ಅಥವಾ B ಆಗಲೀ ಅಲ್ಲ

57. ಭಾರತ ಕೆಳಗಿನ ಯಾವ ಪ್ರದೇಶಗಳಲ್ಲಿ ಶೇಲ್ ಅನಿಲ ಸಂಪನ್ಮೂಲಗಳು ದೊರೆತಿವೆ ?

- A. ಕ್ಯಾಂಬೆ ತಾಣ (ಬೇಸಿನ್ )
- B. ಕಾವೇರಿ ತಾಣ (ಬೇಸಿನ್)
- C. ಕೃಷ್ಣಾ-ಗೋದಾವರಿ ತಾಣ (ಬೇಸಿನ್)

ಕೊಟ್ಟಿರುವ ಆಯ್ಕೆಗಳಲ್ಲಿ ಸರಿಯಾದ ಉತ್ತರಕ್ಕಾಗಿ ಸಂಕೇತಗಳನ್ನಾರಿಸಿ :

- (1) A ಮತ್ತು B ಮಾತ್ರ
- (2) C ಮಾತ್ರ
- (3) B ಮತ್ತು C ಮಾತ್ರ
- (4) A, B ಮತ್ತು C

58. “ಆಧಾರ ಸವಕಳಿ” ಮತ್ತು “ಲಾಭ ವರ್ಗಾವಣೆ” ಎಂಬ ಪದಗಳನ್ನು ಆಗಾಗ್ಗೆ ಸುದ್ದಿಸಮಾಚಾರದಲ್ಲಿ ಕಾಣುವಿರಿ. ಈ ಕೆಳಗಿನ ಯಾವ ಸಂದರ್ಭದಲ್ಲಿ ಈ ಪದಗಳು ಬಳಕೆಯಾಗುತ್ತವೆ ?

- (1) ಸಮೃದ್ಧಿ ಸಂಪನ್ಮೂಲ ಹೊಂದಿದ ಆದರೆ ಹಿಂದುಳಿದ ಪ್ರದೇಶಗಳಲ್ಲಿ ಬಹುರಾಷ್ಟ್ರೀಯ ಕಂಪನಿಗಳಿಂದ ನಡೆಯುವ ಗಣಿ ಕಾರ್ಯಾಚರಣೆ
- (2) ಬಹುರಾಷ್ಟ್ರೀಯ ಕಂಪನಿಗಳಿಂದಾಗುವ ತೆರಿಗೆ ತಪ್ಪಿಸುವಿಕೆಯ ನಿಯಂತ್ರಣ
- (3) ಬಹುರಾಷ್ಟ್ರೀಯ ಕಂಪನಿಗಳಿಂದಾಗುವ ಒಂದು ದೇಶದ ಅನುವಂಶೀಯ ಸಂಪನ್ಮೂಲಗಳ ಶೋಷಣೆ
- (4) ಯೋಜನೆ ಮತ್ತು ಇವುಗಳ ಅನುಷ್ಠಾನದಲ್ಲಿನ ಪರಿಸರಾತ್ಮಕ ವೆಚ್ಚಗಳಲ್ಲಿನ ಸುಸಂಘಟನೆಯಲ್ಲಿನ ಕೊರತೆ

59. “ಗಾಡ್ಗಿಲ್ ಸಮಿತಿ ವರದಿ” ಮತ್ತು “ಕಸ್ತೂರಿರಂಗನ್ ಸಮಿತಿ ವರದಿ” ಯ ಬಗ್ಗೆ ಆಗಾಗ್ಗೆ ನಾವು ಈ ಕೆಳಗಿನ ಯಾವುದಕ್ಕೆ ಸಂಬಂಧಿಸಿದಂತೆ ಕಾಣುತ್ತೇವೆ ?

- (1) ಸಾಂವಿಧಾನಿಕ ಸುಧಾರಣೆಗಳು
- (2) ಗಂಗಾ ಕ್ರಿಯಾ ಯೋಜನೆ
- (3) ನದಿಗಳ ಜೋಡಣೆ
- (4) ಪಶ್ಚಿಮ ಘಟ್ಟಗಳ ಸಂರಕ್ಷಣೆ

60. ಫಾದರ್ ಪಕ್ಷದ ಕೇಂದ್ರಸ್ಥಾನವು ಇಲ್ಲಿದೆ

- (1) ಮಾಸ್ಕೋ
- (2) ಬರ್ಲಿನ್
- (3) ಸ್ಯಾನ್ ಫ್ರಾನ್ಸಿಸ್ಕೋ
- (4) ಕರಾಚಿ

- 56.** Consider the following statements :
- A. New Development Bank has been set up by APEC.
  - B. The headquarters of New Development Bank is in Shanghai.

Which of the statements given above is/are correct ?

Select the code for the correct answer from the options given below :

- (1) Only A
- (2) Only B
- (3) Both A and B
- (4) Neither A nor B

- 57.** In which of the following regions of India are shale gas resources found ?

- A. Cambay Basin
- B. Cauvery Basin
- C. Krishna-Godavari Basin

Select the code for the correct answer from the options given below :

- (1) Only A and B
- (2) Only C
- (3) Only B and C
- (4) A, B and C

- 58.** The terms “Base Erosion” and “Profit Shifting” are sometimes seen in the news. These terms are used in the context of which of the following ?

- (1) Mining operation by multinational companies in resource rich but backward areas
- (2) Curbing of the tax evasion by multinational companies
- (3) Exploitation of genetic resources of a country by multinational companies
- (4) Lack of coordination of environmental costs in the planning and implementation of projects

- 59.** “Gadgil Committee Report” and “Kasturirangan Committee Report”, sometimes seen in the news, are related to which of the following ?

- (1) Constitutional Reforms
- (2) Ganga Action Plan
- (3) Linking of rivers
- (4) Protection of Western Ghats

- 60.** The headquarters of the Ghadar party was at

- (1) Moscow
- (2) Berlin
- (3) San Francisco
- (4) Karachi

61. ಗಾಂಧೀಜಿಯವರಿಂದ ಸ್ಥಾಪಿತವಾದ ಸಾಬರ್‌ಮತಿ ಆಶ್ರಮದ ಬಗ್ಗೆ ಕೆಳಗಿನ ಯಾವ ಹೇಳಿಕೆಗಳು ಅಸತ್ಯವಾಗಿವೆ ?

- (1) ಇದು ಆಧ್ಯಾತ್ಮಿಕತೆಯ ಅನ್ವೇಷಿಕತೆಯ ಸ್ಥಳ
- (2) ಇದು ಸಾಮಾಜಿಕ ಸೇವೆಯಲ್ಲಿ ತರಬೇತಿಯನ್ನು ನೀಡುವುದು
- (3) ಇಲ್ಲಿರುವ ಜನಗಳಿಗೆ ಅಹಿಂಸೆ ಮತ್ತು ಸತ್ಯಾಗ್ರಹಗಳು ಮಾತ್ರವೇ ಅನುಮತಿಸಲಾದ ತತ್ವಸಿದ್ಧಾಂತ
- (4) ಇದು ಗ್ರಾಮೀಣ ಏಳಿಗೆ, ಮೂಲಭೂತ ಶಿಕ್ಷಣಗಳ ಬಗ್ಗೆ ತರಬೇತಿ ನೀಡುವುದು

62. ವಿಭಜನೆಯ ಬಗ್ಗೆ ದೀರ್ಘ ಪರಿಣಾಮವನ್ನು ಕುರಿತಂತೆ ಕೆಳಗಿನ ಯಾವ ಹೇಳಿಕೆಗಳು ಸರಿಯಲ್ಲ ?

- (1) ಸಹ್ಯವಲ್ಲದ ರೀತಿಯ ಗಡಿಗಳು, ಭೂ ಯಥಾರ್ಥತೆಯ ಬಗ್ಗೆ ಅಗೌರವವನ್ನು ತೋರಿದ, ಸ್ಥಳೀಯವಾಗಿ ಅಲ್ಲಿ ವಾಸಿಸುವ ಜನರ ದೈನಂದಿನ ಜೀವನವು ವಾಸ್ತವವಾಗಿ ಅಡ್ಡಿಪಡಿಸಲ್ಪಟ್ಟಿರುವುದು.
- (2) ವಿಭಜನೆಯು ಎಲ್ಲಾ ಕೋಮುವಾದಿ ಸಂಘರ್ಷಗಳಿಗೂ ಪ್ರಶಸ್ತವಾದ ಪರಿಹಾರವಾಗಿದೆ.
- (3) ಎಲ್ಲೆಗಳನ್ನು ಗುರ್ತಿಸುವ ಈ ಪ್ರಕ್ರಿಯೆಯಿಂದ, ಚಲನವಲನಗಳ ಮೇಲೆ ನಿರ್ಬಂಧ ಮತ್ತು ಸ್ಥಳ ವಿಭಜನಾ ನಂತರ ನಿರಾಶ್ರಿತರ ಪುನರ್ವಸತಿ ನೀತಿಗಳು, ಎರಡೂ ರಾಜ್ಯಗಳ ನಾಗರಿಕರು ಮತ್ತು ಸ್ಥಳೀಕರಿಗೆ ಅವರ ವರ್ಗಗಳನ್ನು ಸೃಷ್ಟಿಸುತ್ತವೆ.
- (4) ಮೇಲಿನ ಎಲ್ಲವೂ

63. ಭಾರತ ಮತ್ತು ಪಾಕಿಸ್ತಾನಗಳ ನಡುವಣ ಗಡಿಯ ಎಲ್ಲೆಯನ್ನು ಗುರ್ತಿಸಿದವರಾರು ?

- (1) ಲಾರ್ಡ್ ಮೌಂಟ್‌ಬ್ಯಾಟನ್
- (2) ಸರ್ ಸಿರಿಲ್ ರ್ಯಾಡ್‌ಕ್ಲಿಫ್
- (3) ಸರ್ ಸ್ವಾಭೋರ್ಡ್ ಕ್ರಿಪ್ಸ್
- (4) ಲಾರೆನ್ಸ್

64. ಪ್ರಾರಂಭದಲ್ಲಿ ಗಾಂಧಿಯವರ ಸಹವರ್ತಿಯಾಗಿದ್ದ ಕಾಂಗ್ರೆಸ್‌ನ್ನು ತ್ಯಜಿಸಿದ, ಗಾಂಧೀಜಿಯವರೊಂದಿಗೆ ಒಡಕುಂಟಾಗಿ ಮತ್ತು ತೀವ್ರಗಾಮಿ ಸಾಮಾಜಿಕ ಚಳುವಳಿಯಾದ 'ಸ್ವ ಗೌರವ ಚಳುವಳಿ' ಯನ್ನು ಪ್ರಾರಂಭ ಮಾಡಿದರು. ಈ ಉಲ್ಲೇಖನವು ಇವರನ್ನು ಕುರಿತಾಗಿ

- (1) ಭತ್ತಪತಿ ಮಹಾರಾಜ್
- (2) ಇ.ವಿ.ಆರ್. ನಾಯ್ಡ್
- (3) ಪಿ. ತ್ಯಾಗರಾಜ ಚೆಟ್ಟಿ
- (4) ಜ್ಯೋತಿರಾವ್ ಗೋವಿಂದರಾವ್ ಪುಲೆ

65. ಈ ಕೆಳಗಿನವುಗಳಲ್ಲಿ ಯಾವುದು ಭಾರತದ ಸಂಸತ್ತಿನ ಹಣಕಾಸಿನ ಸಮಿತಿಗಳಲ್ಲೊಂದಾಗಿದೆ ?

- A. ಸಾರ್ವಜನಿಕ ಲೆಕ್ಕ ಸಮಿತಿ
- B. ಅಂದಾಜು ಸಮಿತಿ
- C. ಸಾರ್ವಜನಿಕ ಉದ್ಯಮಗಳ ಸಮಿತಿ

ಕೆಳಗೆ ಕೊಟ್ಟಿರುವ ಆಯ್ಕೆಗಳಲ್ಲಿ ಸರಿಯಾದ ಉತ್ತರಕ್ಕಾಗಿ ಸಂಕೇತಗಳನ್ನಾರಿಸಿ :

- (1) A ಮಾತ್ರ
- (2) A ಮತ್ತು B ಮಾತ್ರ
- (3) B ಮತ್ತು C ಮಾತ್ರ
- (4) A, B ಮತ್ತು C

61. Which of the following is *untrue* about the Sabarmati Ashram established by Gandhiji ?

- (1) It was only a place for spiritual seeking.
- (2) It offered training in social service.
- (3) Ahimsa and Satyagraha were the only acceptable creed for people here.
- (4) It also offered training in rural upliftment, elementary education, etc.

62. Which of these statements is *false* regarding the long term impact of partition ?

- (1) The hastily drawn borders, which paid scant regard to ground realities, actually disrupted everyday life of the people residing there.
- (2) Partition has been an apt solution to all the communal strife.
- (3) By this process of demarcating borders, setting restrictions on mobility and also in the post-partition refugee rehabilitation policies, both the states were creating its classes of citizens and aliens.
- (4) All of the above

63. The boundary between India and Pakistan was demarcated by

- (1) Lord Mountbatten
- (2) Sir Cyril Radcliffe
- (3) Sir Stafford Cripps
- (4) Lawrence

64. Initially an associate of Gandhi, he left the Congress, broke off with Gandhi and launched a radical social movement called the "Self Respect Movement". The reference here is to

- (1) Chhatrapati Maharaj
- (2) EVR Naicker
- (3) P. Tyagraja Chetti
- (4) Jyotirao Govindrao Phule

65. Which of the following are the financial committees of the Parliament in India ?

- A. Public Accounts Committee
- B. Estimates Committee
- C. Committee on Public Undertakings

Select the code for the correct answer from the options given below :

- (1) A only
- (2) A and B only
- (3) B and C only
- (4) A, B and C

66. ಈ ಕೆಳಗಿನ ಯಾವ ಲೋಕ ಸಭೆಯು 5 ವರ್ಷಗಳ ಅವಧಿಗಿಂತಲೂ ಹೆಚ್ಚಿನ ಕಾಲಾವಧಿ ಇದ್ದವು ?

- (1) 4 ನೇ ಲೋಕಸಭೆ
- (2) 5 ನೇ ಲೋಕಸಭೆ
- (3) 6 ನೇ ಲೋಕಸಭೆ
- (4) 8 ನೇ ಲೋಕಸಭೆ

67. ಡಿಫೆಕ್ಷನ್ ಕಾನೂನಿನ ಅಡಿಯಲ್ಲಿ ಲೋಕ ಸಭೆಯ ಸದಸ್ಯರನ್ನು ಅನರ್ಹರೆಂದು ಈ ಕೆಳಗಿನವರಲ್ಲಿ ಯಾರು ಅಂತಿಮವಾಗಿ ನಿರ್ಧರಿಸುವರು ?

- (1) ಸಭಾಧ್ಯಕ್ಷರು
- (2) ಚುನಾವಣಾ ಆಯೋಗ
- (3) ಸರ್ವೋಚ್ಚ ನ್ಯಾಯಾಲಯ
- (4) ರಾಷ್ಟ್ರಪತಿಗಳು

68. ಕೇಂದ್ರ ಮಂತ್ರಿಮಂಡಲದ ತೀರ್ಮಾನದ ಲಿಖಿತ ಸ್ವೀಕೃತಿಯನ್ನು ಅಧರಿಸಿ ರಾಷ್ಟ್ರಪತಿಗಳು ಈ ಕೆಳಗಿನ ಯಾವ ರೀತಿಯ ತುರ್ತುಪರಿಸ್ಥಿತಿಯ ಘೋಷಣೆಗಳನ್ನು ಮಾಡಬಹುದಾಗಿದೆ ?

- (1) ಯುದ್ಧ, ಬಾಹ್ಯ ಆಕ್ರಮಣ ಅಥವಾ ಸಶಸ್ತ್ರ ದಂಗೆಯಿಂದಾಗ ತುರ್ತು ಪರಿಸ್ಥಿತಿ
- (2) ಒಂದು ರಾಜ್ಯದ ಸಾಂವಿಧಾನಿಕ ಸುವ್ಯವಸ್ಥೆಯ ವೈಫಲ್ಯದಿಂದಂಟಾದ ತುರ್ತು ಪರಿಸ್ಥಿತಿ
- (3) ಭಾರತದ ಅಥವಾ ದೇಶದ ಯಾವುದೇ ಭಾಗದಲ್ಲಾದ ಹಣಕಾಸಿನ ಸ್ಥಿರತೆಯ ಭಂಗ ಅಥವಾ ಸಾಲದಿಂದಂಟಾದ ತುರ್ತು ಪರಿಸ್ಥಿತಿ
- (4) ಮೇಲಿನ ಎಲ್ಲಾ ತುರ್ತು ಪರಿಸ್ಥಿತಿಗಳು

69. ಉಪರಾಷ್ಟ್ರಪತಿಗಳ ಮರು-ಚುನಾವಣೆಗೆ ಸಂಬಂಧಿಸಿದಂತೆ

- (1) ಸಂವಿಧಾನವು ನಿರುಪಾಧಿಕವಾಗಿ ಮೌನವಾಗಿದೆ
- (2) ಸಂವಿಧಾನವು ಒಂದು ಸ್ಪಷ್ಟ ನಿರ್ಬಂಧವನ್ನು ವಿಧಿಸಿದೆ
- (3) ಒಂದೇ ಒಂದು ಬಾರಿ ಮಾತ್ರ ಮರುಚುನಾವಣೆ ನಡೆಸಲು ಸಂವಿಧಾನವು ಸಮ್ಮತಿಸಿದೆ
- (4) ಗರಿಷ್ಠ ಎರಡು ಅವಧಿಗಳಿಗೆ ಸಂವಿಧಾನವು ಮರು ಚುನಾವಣೆಯನ್ನು ನಡೆಸಲು ಸಮ್ಮತಿಸಿದೆ

70. ಈ ಕೆಳಗಿನ ಹೇಳಿಕೆಗಳನ್ನು ಪರಿಗಣಿಸಿ :

- A. ಒಂದು ಕೊಳದ ನೀರು ಅದಿರುವುದಕ್ಕಿಂತಲೂ ಕಡಿಮೆ ಆಳವುಳ್ಳಂತೆ ಕಾಣುತ್ತದೆ.
- B. ನೀರಿನಿಂದ ಗಾಳಿಗೆ ಹಾದು ಹೋಗುವಾಗ ಸಾಮಾನ್ಯವಾಗಿ ಬೆಳಕು ಬಾಗುತ್ತದೆ.

ಈ ಮೇಲಿನ ಹೇಳಿಕೆಗಳಲ್ಲಿ ಯಾವುದು /ವು ಸರಿ ? ನೀಡಿರುವ ಆಯ್ಕೆಗಳಲ್ಲಿ ಸರಿಯಾದ ಉತ್ತರಕ್ಕಾಗಿ ಸಂಕೇತವನ್ನಾರಿಸಿ :

- (1) A ಮಾತ್ರ
- (2) B ಮಾತ್ರ
- (3) A ಮತ್ತು B ಗಳೆರಡೂ
- (4) A ಆಗಲೀ B ಆಗಲೀ ಅಲ್ಲ

71. ಒಂದು ಮುಚ್ಚಿದ ಕೋಣೆಯಲ್ಲಿನ ಕಿಟಕಿಯಲ್ಲಿನ 1 ಸಣ್ಣ ರಂಧ್ರವು ಹೊರಗಿನ ಕಟ್ಟಡದ ಆಕೃತಿಯ ತಲೆಕೆಳಗಾದ ಪ್ರತಿಬಿಂಬವನ್ನು ಕೊಠಡಿಯ ಎದುರು ಗೋಡೆಯ ಮೇಲೆ ಉಂಟು ಮಾಡುತ್ತದೆ. ಇದು ಘಟಿಸಲು ಕಾರಣವೆಂದರೆ

- (1) ಬೆಳಕಿನ ಕಿರಣಗಳು ಸಣ್ಣ ರಂಧ್ರವನ್ನು ಪ್ರವೇಶಿಸುವಾಗ ಪಾರ್ಶ್ವ ವಿಪರ್ಯಯವನ್ನು ಹೊಂದುತ್ತದೆ
- (2) ಬೆಳಕಿನ ರೇಖೀಯ ಪ್ರಸರಣ
- (3) ರಂಧ್ರವು ಪೀನಮಸೂರವಾಗಿ ವರ್ತಿಸುವುದು
- (4) ರಂಧ್ರವು ಪಟ್ಟಕವಾಗಿ ವರ್ತಿಸುವುದು



**66.** Which of the following Lok Sabhas enjoyed a term of more than five years ?

- (1) Fourth Lok Sabha
- (2) Fifth Lok Sabha
- (3) Sixth Lok Sabha
- (4) Eighth Lok Sabha

**67.** The final decision whether a member of the Lok Sabha has incurred disqualification under the Defection Law rests with which of the following ?

- (1) The Speaker
- (2) The Election Commission
- (3) The Supreme Court
- (4) The President

**68.** Which one of the following emergencies can be declared by the President only on receipt in writing of the decision of the Union Cabinet ?

- (1) Emergency due to war, external aggression or armed rebellion
- (2) Emergency due to breakdown of the constitutional machinery in a state
- (3) Emergency due to threat to financial stability or credit of India or any part of the territory thereof
- (4) All the above emergencies

**69.** With regard to the re-election of the Vice President,

- (1) the Constitution is absolutely silent
- (2) the Constitution places a clear ban
- (3) the Constitution permits re-election only once
- (4) the Constitution permits re-election only for a maximum of two terms.

**70.** Consider the following statements :

- A. A pool of water looks shallower than it actually is.
- B. Light bends towards the normal while travelling from water to air.

Which of the statements given above is/are correct ?

Select the code for the correct answer from the options given below:

- (1) A only
- (2) B only
- (3) Both A and B
- (4) Neither A nor B

**71.** A small hole in the window of a closed room forms an inverted image of an outside building on the opposite wall of the room. This happens because

- (1) the rays of the light suffer lateral inversion on entering the hole
- (2) of the rectilinear propagation of light.
- (3) the hole acts as a convex lens
- (4) the hole acts as a prism

72. ಈ ಕೆಳಗಿನವುಗಳಲ್ಲಿ ಯಾವುದು ಲೇಸರ್‌ನ ಹಲವು ಅನ್ವಯಗಳಲ್ಲೊಂದಾಗಿದೆ ?

- A. ಹೊಲೋಗ್ರಫಿ
- B. ವೈದ್ಯಕೀಯ ಸೋನೋಗ್ರಫಿ
- C. ಶಸ್ತ್ರ ಚಿಕಿತ್ಸೆ
- D. ನಿಯಂತ್ರಿತ ಉಷ್ಣಬೈಜಿಕ ಕ್ರಿಯೆ

ನೀಡಿರುವ ಆಯ್ಕೆಗಳಲ್ಲಿ ಸರಿಯಾದ ಉತ್ತರಕ್ಕಾಗಿ ಸಂಕೇತವನ್ನಾರಿಸಿ :

- (1) A, B, C ಮತ್ತು D
- (2) A, C ಮತ್ತು D ಮಾತ್ರ
- (3) A ಮತ್ತು C ಮಾತ್ರ
- (4) A, B ಮತ್ತು C ಮಾತ್ರ

73. ಕೆಳಗಿನ ಹೇಳಿಕೆಗಳನ್ನು ಪರಿಗಣಿಸಿ :

- A. ಮರವು ವಿದ್ಯುಚ್ಛಕ್ತಿಯ ಕೆಟ್ಟವಾಹಕವಾಗಿದೆ.
- B. ಮರವು ಹೆಚ್ಚು ಮುಕ್ತ ಎಲೆಕ್ಟ್ರಾನುಗಳನ್ನು ಹೊಂದಿದೆ.

ಈ ಮೇಲಿನ ಹೇಳಿಕೆಗಳಲ್ಲಿ ಯಾವುದು /ವು ಸರಿ ?

ಕೊಟ್ಟಿರುವ ಆಯ್ಕೆಗಳಲ್ಲಿ ಸರಿಯಾದ ಉತ್ತರಕ್ಕಾಗಿ ಸಂಕೇತವನ್ನಾರಿಸಿ :

- (1) A ಮಾತ್ರ
- (2) B ಮಾತ್ರ
- (3) A ಮತ್ತು B ಎರಡೂ
- (4) A ಆಗಲೀ ಅಥವಾ B ಆಗಲೀ ಅಲ್ಲ

74. 2017 ರ ದ್ವಿಪಕ್ಷೀಯ ಕಡಲತೀರದ ಕಸರತ್ತಾದ "SIMBEX-17" ಭಾರತ ಮತ್ತು ಬೇರೆ ಯಾವ ದೇಶಗಳ ನಡುವೆ ನಡೆಯಿತು ?

- (1) ಜಪಾನ್
- (2) ಮಲೇಶಿಯಾ
- (3) ಸಿಂಗಾಪುರ್
- (4) ದಕ್ಷಿಣ ಆಫ್ರಿಕಾ

75. ಸಚಿವರಾದ ಅನಿಲ್ ಮಾಧವ್ ದವೇ ರ ನಿಧನರಾದ ಪ್ರಯುಕ್ತ ಯಾವ ಕೇಂದ್ರ ಸಚಿವರಿಗೆ ಪರಿಸರ, ಅರಣ್ಯ ಮತ್ತು ಹವಾಮಾನ ಬದಲಾವಣೆ (MoEFCC) ಗಳ ಖಾತೆಯ ಅಧಿಕ ಪ್ರಭಾರವನ್ನು ನೀಡಲಾಯಿತು ?

- (1) ರವಿ ಶಂಕರ್ ಪ್ರಸಾದ್
- (2) ಹರ್ಷ ವರ್ಧನ್
- (3) ಜಿ.ಪಿ. ನಡ್ಡಾ
- (4) ಅನಂತ ಕುಮಾರ್

76. 2017 ರ ನವೀಕರಿಸಲಾಗುವ ಶಕ್ತಿ ದೇಶ ಆಕರ್ಷಣೀಯ ಸೂಚ್ಯಂಕ (RECAI) ವು ಎನ್‌ಫ್ಲ್ಯೂ ಮತ್ತು ಯೆಂಗ್ ರಿಂದ (EY) ಬಿಡುಗಡೆಯಾಗಿದ್ದು ಯಾವ ದೇಶವು ಉನ್ನತ ಸ್ಥಾನವನ್ನು ಗಳಿಸಿದೆ ?

- (1) ಚೀನಾ
- (2) ಭಾರತ
- (3) ಜರ್ಮನಿ
- (4) ಆಸ್ಟ್ರೇಲಿಯಾ

**72.** Which of the following are among the many applications of Lasers ?

- A. Holography
- B. Medical Sonography
- C. Surgery
- D. Controlled thermonuclear reaction

Select the code for the correct answer from the options given below :

- (1) A, B, C and D
- (2) A, C and D only
- (3) A and C only
- (4) A, B and C only

**73.** Consider the following statements :

- A. Wood is a bad conductor of electricity.
- B. Wood has a large number of free electrons.

Which of the statements given above is/are correct ?

Select the code for the correct answer from the options given below :

- (1) A only
- (2) B only
- (3) Both A and B
- (4) Neither A nor B

**74.** The 2017 bilateral maritime exercise "SIMBEX-17" took place between India and which other country ?

- (1) Japan
- (2) Malaysia
- (3) Singapore
- (4) South Africa

**75.** Which Union Minister has been given the additional charge of the Ministry of Environment, Forests and Climate Change (MoEFCC) following the death of minister Mr Anil Madhav Dave ?

- (1) Ravi Shankar Prasad
- (2) Harsh Vardhan
- (3) JP Nadda
- (4) Ananth Kumar

**76.** Which country has topped the 2017 Renewable Energy Country Attractiveness Index (RECAI) recently released by Ernst and Young (EY) ?

- (1) China
- (2) India
- (3) Germany
- (4) Australia

77. ಕ್ರಿಸ್ ಕಾರ್ನಲ್ ಎಂಬ ಪ್ರಖ್ಯಾತ ಗಾಯಕ ಇತ್ತೀಚೆಗೆ ಅಗಲಿದರು ಇವರು ಯಾವ ದೇಶದವರು ?
- (1) ಜರ್ಮನಿ
  - (2) ಫ್ರಾನ್ಸ್
  - (3) ಜಪಾನ್
  - (4) ಯುನೈಟೆಡ್ ಸ್ಟೇಟ್ಸ್
78. ಇತ್ತೀಚೆಗೆ ರೈಲ್ವೆ ಇಲಾಖೆಯಿಂದ ಬಿಡುಗಡೆಯಾದ ವರದಿಯ ಮೇರೆಗೆ ಈ ಕೆಳಗಿನವುಗಳಲ್ಲಿ ಯಾವುದು A1 ಪ್ರವರ್ಗದ ಅತ್ಯಂತ ಶುಭ್ರ ರೈಲ್ವೆ ನಿಲ್ದಾಣವೆಂದು ನಿರ್ಣಯಿಸಲ್ಪಟ್ಟಿದೆ ?
- (1) ವಿಶಾಖಪಟ್ಟಣಂ
  - (2) ಜಮ್ಮು ತಾವಿ
  - (3) ಸಿಕಂದರಾಬಾದ್
  - (4) ಆನಂದ್ ವಿಹಾರ್ ಟರ್ಮಿನಲ್
79. ಫೋರ್ಬ್ಸ್ ನ 2017 ರ ಜಾಗತಿಕ ಕ್ರೀಡಾ ಪಟ್ಟಿಯಲ್ಲಿ ಹೆಸರು ಗಳಿಸಿರುವ ಭಾರತೀಯ ವ್ಯಕ್ತಿ ಯಾರು ?
- (1) ಸನ್ನಿ ವರ್ಕಿ
  - (2) ಮುಕೇಶ್ ಅಂಬಾನಿ
  - (3) ರಾಹುಲ್ ಭಾಟಿಯಾ
  - (4) ಸೈರಸ್ ಪೂನಾವಾಲಾ
80. 2017 ರ ಮೇ 17 ರಂದು ಆಚರಿಸಲ್ಪಟ್ಟ 2017 ವಿಶ್ವ ದೂರ ಸಂಪರ್ಕ ಮತ್ತು ಮಾಹಿತಿ ಸಂಘಟನಾ ದಿನ (WTISD) ದ ಮುಖ್ಯ ತಿರುಳೇನು ?
- (1) ದೊಡ್ಡ ಪರಿಣಾಮಕ್ಕಾಗಿ ದೊಡ್ಡ ಮಾಹಿತಿ
  - (2) ಸಾಮಾಜಿಕ ಪರಿಣಾಮಕ್ಕಾಗಿ ಉದ್ಯಮಶೀಲತೆ
  - (3) ಡಿಜಿಟಲ್ ವರ್ಗೀಕರಣದ ತಗ್ಗಿಕೆ
  - (4) ಸಮಾಜ ಕಲ್ಯಾಣಕ್ಕಾಗಿ ಡಿಜಿಟಲ್ ಶಿಕ್ಷಣವನ್ನು ವೃದ್ಧಿಸುವುದು

81. ಜೇವಿಯರ್ ವಾಲ್ಡೆಜ್ ಎಂಬ ಪ್ರಖ್ಯಾತ ಪತ್ರಿಕೋದ್ಯಮಿಯು ಅಗಲಿದರು ಇವರು ಯಾವ ದೇಶದವರು ?
- (1) ಮೆಕ್ಸಿಕೋ
  - (2) ಬೊಲಿವಿಯಾ
  - (3) ನಾರು
  - (4) ಟ್ರಿನಿಡಾಡ್ ಮತ್ತು ಟೊಬಾಗೊ

82. ಪಟ್ಟಿ I ರಲ್ಲಿನ ಜಾನಪದ ನೃತ್ಯಗಳನ್ನು ಪಟ್ಟಿ II ರಲ್ಲಿನ ಅವಕ್ಕೆ ಸಂಬಂಧಿಸಿರುವ ರಾಜ್ಯಗಳೊಂದಿಗೆ ಹೊಂದಿಸಿರಿ :

ಪಟ್ಟಿ I (ಜಾನಪದ ನೃತ್ಯಗಳು)	ಪಟ್ಟಿ II (ರಾಜ್ಯಗಳು)
A. ಧಾಮನ್	I. ಮಣಿಪುರ್
B. ನಾಟ್ ರಸ್	II. ಪಂಜಾಬ್
C. ರೌಫ್	III. ಮಿಜೋರಾಂ
D. ಖನಾತಮ್	IV. ಜಮ್ಮು ಮತ್ತು ಕಾಶ್ಮೀರ

ಸಂಕೇತಗಳ ಸಹಾಯದಿಂದ ಸರಿ ಉತ್ತರಗಳನ್ನು ಆರಿಸಿ :

	A	B	C	D
(1)	I	II	III	IV
(2)	II	I	IV	III
(3)	III	II	IV	I
(4)	III	IV	I	II

77. Chris Cornell, the renowned singer passed away recently. He hailed from which country ?

- (1) Germany
- (2) France
- (3) Japan
- (4) United States

78. Which of the following has been adjudged as the cleanest railway station in category A1, as per recently released report by the Ministry of Railways ?

- (1) Vishakhapatnam
- (2) Jammu Tawi
- (3) Secunderabad
- (4) Anand Vihar Terminal

79. Which Indian personality has been named in the Forbes' 2017 Global Game Changers list ?

- (1) Sunny Varkey
- (2) Mukesh Ambani
- (3) Rahul Bhatia
- (4) Cyrus Poonawalla

80. What was the theme of 2017 World Telecommunication and Information Society Day (WTISD) that was observed on May 17<sup>th</sup>, 2017 ?

- (1) Big data for big impact
- (2) Entrepreneurship for social impact
- (3) Reduce digital divide
- (4) Promote digital education for social welfare

81. Javier Valdez, the renowned journalist has passed away. He hailed from which country ?

- (1) Mexico
- (2) Bolivia
- (3) Nauru
- (4) Trinidad and Tobago

82. Match the folk dances (List I) and the states they are associated with (List II) :

<i>List I</i> (Folk Dances)	<i>List II</i> (States)
A. Dhaman	I. Manipur
B. Nat Rash	II. Punjab
C. Rauf	III. Mizoram
D. Khanatam	IV. Jammu and Kashmir

Select the code for the correct answer from the options given below :

	<b>A</b>	<b>B</b>	<b>C</b>	<b>D</b>
(1)	I	II	III	IV
(2)	II	I	IV	III
(3)	III	II	IV	I
(4)	III	IV	I	II

83. ಪಟ್ಟಿ I ರಲ್ಲಿನ ಲೇಖಕರೊಂದಿಗೆ ಪಟ್ಟಿ II ರಲ್ಲಿರುವ ಅವರ ಕೃತಿ ಗಳೊಂದಿಗೆ ಹೊಂದಿಸಿ :

ಪಟ್ಟಿ I (ಲೇಖಕರು)	ಪಟ್ಟಿ II (ಕೃತಿಗಳು)
---------------------	-----------------------

- |             |                      |
|-------------|----------------------|
| A. ಸೋಮದೇವ   | I. ಮಾಳವಿಕಾಗ್ನಿಮಿತ್ರಂ |
| B. ಕಾಳಿದಾಸ್ | II. ಕಥಾಸರಿತ್ಸಾಗರ     |
| C. ಭಾಸ      | III. ಚಾರುಪಂಚಾಸಿಕ     |
| D. ಬಿಲ್ಹಣ   | IV. ಸ್ವಪ್ನವಾಸವದತ್ತ   |

ಸಂಕೇತಗಳ ಸಹಾಯದಿಂದ ಸರಿ ಉತ್ತರಗಳನ್ನು ಆರಿಸಿ :

	A	B	C	D
(1)	II	I	IV	III
(2)	III	IV	I	II
(3)	II	IV	I	III
(4)	III	I	IV	II

84. ಟಿಬೆಟ್‌ನ ಮೂಲದ ನದಿಯು ಪೂರ್ವದೆಡೆಗೆ ಹರಿಯುತ್ತಿದೆ. ಗಣನೀಯ ದೂರದ ನಂತರ ದಕ್ಷಿಣದೆಡೆಗೆ ಸಾಗುತ್ತದೆ ಮತ್ತು ಒಂದು ಕಮರಿಯ ಮೂಲಕ ಹರಿಯುತ್ತದೆ ಮತ್ತು ಪಶ್ಚಿಮದೆಡೆಗೆ ಚಲಿಸುತ್ತದೆ ನಂತರ ಪುನಃ ದಕ್ಷಿಣದೆಡೆಗೆ ಸಾಗುತ್ತದೆ ಹಾಗೂ ಅಂತಿಮವಾಗಿ ಸಾಗರವನ್ನು ತಲುಪುತ್ತದೆ. ಆ ನದಿಯ ಹೆಸರೇನು ?

- (1) ಇಂಡಸ್
- (2) ಗಂಗಾ
- (3) ಬ್ರಹ್ಮಪುತ್ರಾ
- (4) ಮೆಕಾಂಗ್

85. ಸ್ಟೆಯಿನ್‌ಲೆಸ್ ಸ್ಟೀಲ್‌ನ (ಕಲೆರಹಿತ ಉಕ್ಕು) ಉತ್ಪಾದನೆಯಲ್ಲಿ ಕೆಳಗಿನ ಯಾವ ವಸ್ತುಗಳನ್ನು ಉಪಯೋಗಿಸಲಾಗುತ್ತದೆ ?

- A. ಕ್ರೋಮಿಯಂ
- B. ಕಬ್ಬಿಣ
- C. ತಾಮ್ರ
- D. ಸ್ಟೀಲ್ (ಉಕ್ಕು)

ನೀಡಿರುವ ಆಯ್ಕೆಗಳಿಂದ ಸರಿಯಾದ ಉತ್ತರಕ್ಕಾಗಿ ಸಂಕೇತಗಳನ್ನಾರಿಸಿ :

- (1) A ಮತ್ತು D ಮಾತ್ರ
- (2) A, B, C ಮತ್ತು D
- (3) B, C ಮತ್ತು D ಮಾತ್ರ
- (4) A, B ಮತ್ತು D ಮಾತ್ರ

86. ಪಟ್ಟಿ I ರಲ್ಲಿನ ಪರ್ವತಗಳ ಬಗೆಗಳೊಡನೆ ಪಟ್ಟಿ II ರಲ್ಲಿರುವ ಅವುಗಳು ಪ್ರದರ್ಶಿಸುವ ಲಕ್ಷಣಗಳೊಂದಿಗೆ ಹೊಂದಿಸಿರಿ :

ಪಟ್ಟಿ I (ಪರ್ವತದ ಬಗೆಗಳು)	ಪಟ್ಟಿ II (ಲಕ್ಷಣಗಳು)
-------------------------------	------------------------

- |                     |                            |
|---------------------|----------------------------|
| A. ಮಡಿಕೆ ಪರ್ವತ      | I. ಮೇಲೆತ್ತರಕ್ಕೇರಿಸಿದ ಪರ್ವತ |
| B. ಕಪ್ಪು ಪರ್ವತ      | II. ಸ್ತರ ದೋಷ               |
| C. ಜ್ವಾಲಾಮುಖಿ ಪರ್ವತ | III. ಸಂಚಯಿತ ಪರ್ವತ          |
| D. ಶೇಷ ಪರ್ವತ        | IV. ದಖ್ಖನ್ ಪ್ರಸ್ಥಭೂಮಿ      |

ಸಂಕೇತಗಳ ಸಹಾಯದಿಂದ ಸರಿ ಉತ್ತರಗಳನ್ನು ಆರಿಸಿ :

	A	B	C	D
(1)	I	II	III	IV
(2)	I	III	II	IV
(3)	III	II	I	IV
(4)	IV	III	I	II

83. Match the authors (List I) with their works (List II) :

<i>List I</i> (Authors)	<i>List II</i> (Works)
A. Somadeva	I. Malavikagnimitram
B. Kalidasa	II. Kathasaritsagara
C. Bhasa	III. Charupanchasika
D. Bilhana	IV. Swapnavasavadatta

Select the code for the correct answer from the options given below :

	<b>A</b>	<b>B</b>	<b>C</b>	<b>D</b>
(1)	II	I	IV	III
(2)	III	IV	I	II
(3)	II	IV	I	III
(4)	III	I	IV	II

84. A river is originating from Tibet, moving towards east. After a reasonable distance it moves towards south and flows through a gorge and then moves towards west, then again moves towards south and finally drains into a sea. What is the name of the river ?

- (1) Indus
- (2) Ganga
- (3) Brahmaputra
- (4) Mekong

85. Which of the following substances are used in the manufacturing of stainless steel ?

- A. Chromium
- B. Iron
- C. Copper
- D. Steel

Select the code for the correct answer from the options given below :

- (1) A and D only
- (2) A, B, C and D
- (3) B, C and D only
- (4) A, B and D only

86. Match the types of mountain (List I) with the features they exhibit (List II) :

<i>List I</i> (Types of Mountain)	<i>List II</i> (Features)
A. Fold Mountain	I. Mountain of elevation
B. Block Mountain	II. Faulting
C. Volcanic Mountain	III. Mountain of accumulation
D. Residual Mountain	IV. Deccan Plateau

Select the code for the correct answer from the options given below :

	<b>A</b>	<b>B</b>	<b>C</b>	<b>D</b>
(1)	I	II	III	IV
(2)	I	III	II	IV
(3)	III	II	I	IV
(4)	IV	III	I	II

87. ಕೆಳಗಿನ ಜೋಡಿಗಳಲ್ಲಿ ಯಾವುದು ಸರಿಯಾಗಿ ಹೊಂದಿಕೆ ಯಾಗಿಲ್ಲ?

ನಗರ ನದಿ

- (1) ಬರ್ಲಿನ್ : ರೈನ್  
 (2) ಲಂಡನ್ : ಥೇಮ್ಸ್  
 (3) ನ್ಯೂಯಾರ್ಕ್ : ಹಡ್ಸನ್  
 (4) ವಿಯೆನ್ನಾ : ಡ್ಯಾನುಬ್

88. ಪಟ್ಟಿ I ರಲ್ಲಿರುವ ಖನಿಜಗಳನ್ನು ಪಟ್ಟಿ II ರಲ್ಲಿನ ಅವು ವಿಶ್ವದಲ್ಲಿ ಉತ್ಪಾದನೆ ಯಾಗುವ ಸ್ಥಳಗಳೊಂದಿಗೆ ಹೊಂದಿಸಿರಿ :

ಪಟ್ಟಿ I (ಖನಿಜಗಳು) ಪಟ್ಟಿ II (ವಿಶ್ವದಲ್ಲಿ ಅವು ಉತ್ಪಾದನೆಯಾಗುವ ಸ್ಥಳಗಳು)

- A. ಕಬ್ಬಿಣದ ಅದಿರು I. ಅರ್ಕನ್ಸಾಸ್  
 B. ತಾಮ್ರ II. ಕ್ಯೂಬಾ  
 C. ಅಲ್ಯೂಮಿನಿಯಂ III. ಖಜಕ್ ಸ್ತಾನ್  
 D. ನಿಕೆಲ್ IV. ಕ್ರಿವೊಯ್ ರೋಗ್

ಸಂಕೇತಗಳ ಸಹಾಯದಿಂದ ಸರಿ ಉತ್ತರಗಳನ್ನು ಆರಿಸಿ :

- |     | A  | B   | C  | D   |
|-----|----|-----|----|-----|
| (1) | I  | II  | IV | III |
| (2) | I  | III | IV | II  |
| (3) | IV | II  | I  | III |
| (4) | IV | III | I  | II  |

89. ಪಟ್ಟಿ I ರಲ್ಲಿನ ಉಪನಾಮಗಳೊಂದಿಗೆ ಪಟ್ಟಿ II ರಲ್ಲಿನ ಅವುಗಳು ವಿಖ್ಯಾತವಾಗಿರುವ ಸ್ಥಳಗಳನ್ನು ಹೊಂದಿಸಿ :

ಪಟ್ಟಿ I (ಉಪನಾಮಗಳು) ಪಟ್ಟಿ II (ಸ್ಥಳಗಳು)

- A. ಸಿಟಿ ಬೈ ದಿ ಬೇ I. ಲ್ಹಾಸಾ  
 B. ಫೋರ್ಬಿಡನ್ ಸಿಟಿ II. ಐರ್ಲೆಂಡ್  
 C. ಎಮೆರಾಲ್ಡ್ ಐಲ್ಡ್ III. ಬೆಲ್ಜಿಯಂ  
 D. ಕಾಕ್‌ಪಿಟ್ ಆಫ್ IV. ಸ್ಯಾನ್ ಫ್ರಾನ್ಸಿಸ್ಕೋ ಯುರೋಪ್

ಸಂಕೇತಗಳ ಸಹಾಯದಿಂದ ಸರಿ ಉತ್ತರಗಳನ್ನು ಆರಿಸಿ :

- |     | A   | B  | C   | D   |
|-----|-----|----|-----|-----|
| (1) | I   | II | III | IV  |
| (2) | II  | I  | III | IV  |
| (3) | III | II | IV  | I   |
| (4) | IV  | I  | II  | III |

90. ಯಾವ ಆಫ್ರಿಕನ್ ದೇಶವು ಮೂಲತಃ ಉತ್ತರ ರೈಟ್‌ಡೀಸಿಯಾ ಎಂದು ತಿಳಿಯಲಾಗಿತ್ತು ?

- (1) ನಮೀಬಿಯಾ  
 (2) ತಾಂಜಾನಿಯಾ  
 (3) ರುಂಡಾಂಡಿಯಾ  
 (4) ಝಿಂಬಾಬ್ವೆ



87. Which one of the following pairs is **not** correctly matched ?

	<i>City</i>	:	<i>River</i>
(1)	Berlin	:	Rhine
(2)	London	:	Thames
(3)	New York	:	Hudson
(4)	Vienna	:	Danube

88. Match the minerals (List I) with their producing areas in the World (List II) :

	<i>List I</i> (Minerals)		<i>List II</i> (Producing Areas in the World)
A.	Iron Ore	I.	Arkansas
B.	Copper	II.	Cuba
C.	Aluminium	III.	Kazakhstan
D.	Nickel	IV.	Krivoy Rog

Select the code for the correct answer from the options given below :

	<b>A</b>	<b>B</b>	<b>C</b>	<b>D</b>
(1)	I	II	IV	III
(2)	I	III	IV	II
(3)	IV	II	I	III
(4)	IV	III	I	II

89. Match the nicknames (List I) with the places for which they are known (List II) :

	<i>List I</i> (Nicknames)		<i>List II</i> (Places)
A.	City by the Bay	I.	Lhasa
B.	Forbidden City	II.	Ireland
C.	Emerald Isle	III.	Belgium
D.	Cockpit of Europe	IV.	San Francisco

Select the code for the correct answer from the options given below :

	<b>A</b>	<b>B</b>	<b>C</b>	<b>D</b>
(1)	I	II	III	IV
(2)	II	I	III	IV
(3)	III	II	IV	I
(4)	IV	I	II	III

90. Which African country was originally known as Northern Rhodesia ?

- (1) Namibia
- (2) Tanzania
- (3) Zambia
- (4) Zimbabwe

91. ಕೆಳಗಿನ ಜೋಡಿಗಳನ್ನು ಪರಿಗಣಿಸಿ :

ಬೆಟ್ಟಗಳು ಪ್ರದೇಶ

- A. ಎಲಕ್ಟ್ರಿಕ್ ಬೆಟ್ಟಗಳು I. ಕೋರಮಂಡಲ್ ತೀರ  
B. ಕೈಮರ್ ಬೆಟ್ಟಗಳು II. ಕೊಂಕಣ್ ತೀರ  
C. ಮಹಾದೇವ ಬೆಟ್ಟಗಳು III. ಮಧ್ಯ ಭಾರತ  
D. ಮಿರ್ ಬೆಟ್ಟಗಳು IV. ಈಶಾನ್ಯ ಭಾರತ

ಈ ಮೇಲಿನ ಹೇಳಿಕೆಗಳಲ್ಲಿ ಯಾವುದು /ವು ಸರಿ ?

ನೀಡಿರುವ ಆಯ್ಕೆಗಳಲ್ಲಿ ಸರಿಯಾದ ಉತ್ತರಕ್ಕಾಗಿ ಸಂಕೇತವನ್ನಾರಿಸಿ :

- (1) A ಮತ್ತು B ಮಾತ್ರ  
(2) B ಮತ್ತು C ಮಾತ್ರ  
(3) C ಮತ್ತು D ಮಾತ್ರ  
(4) A ಮತ್ತು D ಮಾತ್ರ

92. ಕೆಳಗಿನ ಭಾರತದ ರಾಜ್ಯಗಳನ್ನು ಪರಿಗಣಿಸಿ :

- A. ಛತ್ತೀಸ್‌ಘಡ್  
B. ತೆಲಂಗಾಣ  
C. ಆಂಧ್ರ ಪ್ರದೇಶ್  
D. ಉತ್ತರಾಖಂಡ್  
E. ತಮಿಳು ನಾಡು

ಮೇಲೆ ನೀಡಿರುವ ರಾಜ್ಯಗಳಲ್ಲಿ ಭೌಗೋಳಿಕ ದೃಷ್ಟಿಯಿಂದ ಕ್ರಮವಾಗಿ ದೊಡ್ಡದಾದ ಮತ್ತು ಕಿರಿಯದಾದವುಗಳು ಯಾವುವು ?

ನೀಡಿರುವ ಆಯ್ಕೆಗಳಿಂದ ಸರಿಯಾದ ಉತ್ತರಕ್ಕಾಗಿ ಸಂಕೇತಗಳನ್ನಾರಿಸಿ :

- (1) C ಮತ್ತು D  
(2) C ಮತ್ತು B  
(3) A ಮತ್ತು D  
(4) B ಮತ್ತು E

93. ಕೆಳಗೆ ಕೊಟ್ಟಿರುವ, ಉತ್ತರದಿಂದ ದಕ್ಷಿಣದೆಡೆಗೆ ಹರಿಯುವ ಇಂಡಸ್ ನದಿಯ ಉಪನದಿಗಳನ್ನು ಜೋಡಿಸಿ :

- A. ಚೀನಾಬ್  
B. ಜೇಲಂ  
C. ರಾವಿ  
D. ಸಟ್ಲೆಜ್

ನೀಡಿರುವ ಆಯ್ಕೆಗಳಿಂದ ಸರಿಯಾದ ಉತ್ತರಕ್ಕಾಗಿ ಸಂಕೇತಗಳನ್ನಾರಿಸಿ :

- (1) D, C, A, B  
(2) B, C, A, D  
(3) A, B, C, D  
(4) B, A, C, D

94. ಅವೈಜ್ಞಾನಿಕ ಕಲ್ಪನೆಗಳ ಗಣಿ ಮತ್ತು ಈ ಪ್ರದೇಶದಲ್ಲಿನ ಸಾಗಣೆಯ ಬಗ್ಗೆ ರಾಷ್ಟ್ರೀಯ ಹಸಿರು ಮಂಡಳಿಯು ನಿಷೇಧವನ್ನು ವಿಧಿಸಿದ ನಂತರ ಈ ಚಟುವಟಿಕೆಯಲ್ಲಿ ತೊಡಗಿನ ಹಲವರು ತಮ್ಮ ಜೀವನೋಪಾಯಕ್ಕಾಗಿ ಅರಿಶಿನದ ಉದ್ಯಮದಲ್ಲಿ ತೊಡಗಿದರು. ಈ ಹೇಳಿಕೆಯು ಸಂಬಂಧಿಸಿರುವ ಪ್ರದೇಶವು

- (1) ಜೈಂಟಿಯಾ ಬೆಟ್ಟಗಳು, ಮೇಘಾಲಯ  
(2) ಕೋರಿಯಾ, ಛತ್ತೀಸ್‌ಘಡ್  
(3) ಅಂಗುಲ್, ಒರಿಸ್ಸಾ  
(4) ಬರ್ಧಮಾನ್, ಪಶ್ಚಿಮ ಬಂಗಾಳ

95. ಈ ಕೆಳಗಿನವುಗಳಲ್ಲಿನ ಯಾವ ದರದನ್ವಯ ಕೇಂದ್ರ ಬ್ಯಾಂಕ್‌ನಲ್ಲಿ ಹಣವನ್ನಿಡಲಾಗುವುದು ?

- (1) ರೆಪೋ ದರ  
(2) ಬ್ಯಾಂಕ್ ದರ  
(3) ಮೂಲದ (prime) ಸಾಲ ನೀಡುವ ದರ  
(4) ವಿಪರ್ಯಯ ರೆಪೋ ದರ

91. Consider the following pairs :

<i>Hills</i>	<i>Region</i>
A. Cardamom Hills	I. Coromandel Coast
B. Kaimur Hills	II. Konkan Coast
C. Mahadeo Hills	III. Central India
D. Mikir Hills	IV. North-East India

Which of the above pairs are correctly matched ?

Select the code for the correct answer from the options given below :

- (1) A and B only
- (2) B and C only
- (3) C and D only
- (4) A and D only

92. Consider the following Indian States :

- A. Chhattisgarh
- B. Telangana
- C. Andhra Pradesh
- D. Uttarakhand
- E. Tamil Nadu

Which of the above given states are the largest and the smallest respectively in terms of geographical area ?

Select the code for the correct answer from the options given below :

- (1) C and D
- (2) C and B
- (3) A and D
- (4) B and E

93. Arrange the following tributaries of river Indus from North to South :

- A. Chenab
- B. Jhelum
- C. Ravi
- D. Sutlej

Select the code for the correct answer from the options given below :

- (1) D, C, A, B
- (2) B, C, A, D
- (3) A, B, C, D
- (4) B, A, C, D

94. After a ban on unscientific coal mining and transportation of coal in this region by National Green Tribunal, many of those engaged in the activity have switched to turmeric farming for their livelihood. The region referred above is :

- (1) Jaintia Hills, Meghalaya
- (2) Koriya, Chhattisgarh
- (3) Angul, Orissa
- (4) Bardhaman, West Bengal

95. Which one of the following is a rate at which banks park their money at the Central Bank ?

- (1) Repo Rate
- (2) Bank Rate
- (3) Prime Lending Rate
- (4) Reverse Repo Rate

96. RBI ಶಾಸನೋಕ್ತ ದ್ರವ್ಯತಾ ದರವನ್ನು 50 ಅಂಶಗಳ ಆಧಾರಿತವಾಗಿ ಕುಗ್ಗಿಸಿದಾಗ ಕೆಳಗಿನವುಗಳಲ್ಲಿ ಸಂಭವಿಸುವ ಘಟನೆ ಯಾವುದು ?

- (1) ಭಾರತೀಯ GDP ಬೆಳವಣಿಗೆ ದರವು ತೀವ್ರವಾಗಿ ಏರುವುದು
- (2) ವಿದೇಶೀ ಸಾಂಸ್ಥಿಕ ಹೂಡಿಕೆದಾರರು ನಮ್ಮ ದೇಶಕ್ಕೆ ಹೆಚ್ಚಿನ ಬಂಡವಾಳವನ್ನು ತರುವರು
- (3) ಷೆಡ್ಯೂಲ್ಡ್ ವಾಣಿಜ್ಯ ಬ್ಯಾಂಕುಗಳು ಅವುಗಳ ಸಾಲ ನೀಡಿಕೆಯ ದರವನ್ನು ಕತ್ತರಿಸುತ್ತವೆ
- (4) ಬ್ಯಾಂಕಿಂಗ್ ಪದ್ಧತಿಯಲ್ಲಿನ ದ್ರವ್ಯತೆಯನ್ನು ತೀಕ್ಷ್ಣವಾಗಿ ಕಡಿಮೆ ಮಾಡುತ್ತವೆ

97. ಪಟ್ಟಿ I ರಲ್ಲಿನ ಪಂಚ ವಾರ್ಷಿಕ ಯೋಜನೆಯನ್ನು ಪಟ್ಟಿ II ರಲ್ಲಿನ ಅವುಗಳ ಗುರಿಗಳೊಂದಿಗೆ ಹೊಂದಿಸಿ :

ಪಟ್ಟಿ I (ಪಂಚ ವಾರ್ಷಿಕ ಯೋಜನೆ)	ಪಟ್ಟಿ II (ಗುರಿ)
A. ಮೊದಲನೇ ಯೋಜನೆ	I. ಸಾಮಾಜಿಕ ನ್ಯಾಯದೊಂದಿಗೆ ಬೆಳವಣಿಗೆ
B. ಮೂರನೇ ಯೋಜನೆ	II. ಸಮರ್ಥನೀಯತೆ ಒಳಗೊಂಡ ಬೆಳವಣಿಗೆ
C. ಐದನೇ ಯೋಜನೆ	III. ಸ್ವಾವಲಂಬಿತ ಮತ್ತು ಸ್ವಉತ್ಪಾದನಾ ಆರ್ಥಿಕತೆ
D. ಹನ್ನೆರಡನೇ ಯೋಜನೆ	IV. ಕೃಷಿ, ನೀರಾವರಿ ಮತ್ತು ವಿದ್ಯುತ್ ಯೋಜನೆಗಳು

ಸಂಕೇತಗಳ ಸಹಾಯದಿಂದ ಸರಿ ಉತ್ತರಗಳನ್ನು ಆರಿಸಿ :

	A	B	C	D
(1)	II	IV	III	I
(2)	II	III	IV	I
(3)	IV	III	I	II
(4)	I	III	II	IV

98. ಈ ಕೆಳಗಿನವುಗಳಲ್ಲಿ ಯಾವ ಸಮಿತಿಗಳು ಭಾರತದ ಸಣ್ಣ ಪ್ರಮಾಣದ ಉದ್ಯಮಗಳ ಪದಾರ್ಥಗಳ (items) ಮೀಸಲಾತಿಯ ಪದ್ಧತಿಯನ್ನು ಶಿಫಾರಸ್ ಮಾಡಿದವು ?

- (1) ಅಬಿಡ್ ಹುಸೇನ್ ಸಮಿತಿ
- (2) ನರಸಿಂಹನ್ ಸಮಿತಿ
- (3) ನಾಯಕ್ ಸಮಿತಿ
- (4) ರಾಕೇಶ್ ಮೋಹನ್ ಸಮಿತಿ

99. ಕೆಳಗಿನ ಸ್ತಂಭಗಳನ್ನು ಪರಿಗಣಿಸಿ :

- A. ದೇಶೀಯ ಬೆಂಬಲ
- B. ಮಾರುಕಟ್ಟೆ ಪ್ರವೇಶ್ಯ
- C. ರಫ್ತು ಸಬ್ಸಿಡಿಗಳು

ಈ ಮೇಲಿನ ಸ್ತಂಭಗಳಲ್ಲಿ ಯಾವವು WTO ನ ಕೃಷಿ ಒಪ್ಪಂದದಲ್ಲಿ ಸೇರಿವೆ ?

- (1) B ಮಾತ್ರ
- (2) A ಮತ್ತು C ಮಾತ್ರ
- (3) B ಮತ್ತು C ಮಾತ್ರ
- (4) A, B ಮತ್ತು C

100. ಕೆಳಗಿನ ಯಾವ ಪಂಥಗಳಲ್ಲಿ ಬಿಂದುಸಾರನು ಒಲವುಳ್ಳವನಾಗಿದ್ದನು ?

- (1) ಬೌದ್ಧ ಮತ
- (2) ಜೈನ ಮತ
- (3) ಅಜೀವಿಕಾಗಳು
- (4) ಶೈವ ಮತ

**96.** When the RBI reduces statutory liquidity ratio by 50 basis points, then which of the following is likely to happen ?

- (1) India's GDP growth rate increases rapidly
- (2) Foreign Institutional Investors may bring more capital to our country
- (3) Scheduled commercial banks may cut their lending rates
- (4) It may drastically reduce the liquidity in the banking system

**97.** Match the Five Year Plans (List I) with their objectives (List II) :

<i>List I</i>	<i>List II</i>
<i>(Five Year Plans)</i>	<i>(Objectives)</i>

- |                 |  |
|-----------------|--|
| A. First Plan   | I. Growth with Social Justice                  |
| B. Third Plan   | II. Sustainable Inclusive Growth               |
| C. Fifth Plan   | III. Self-reliant and Self-generating economy  |
| D. Twelfth Plan | IV. Agriculture, Irrigation and Power projects |

Select the code for the correct answer from the options given below :

- |     | <b>A</b> | <b>B</b> | <b>C</b> | <b>D</b> |
|-----|----------|----------|----------|----------|
| (1) | II       | IV       | III      | I        |
| (2) | II       | III      | IV       | I        |
| (3) | IV       | III      | I        | II       |
| (4) | I        | III      | II       | IV       |

**98.** Which one of the following committees recommended the abolition of the reservation of items of small scale industries in India ?

- (1) Abid Hussain Committee
- (2) Narasimhan Committee
- (3) Nayak Committee
- (4) Rakesh Mohan Committee

**99.** Consider the following pillars :

- A. Domestic Support
- B. Market Access
- C. Export Subsidies

Which of the pillars given above is/are included in the Agreement on Agriculture of the WTO ?

- (1) B only
- (2) A and C only
- (3) B and C only
- (4) A, B and C

**100.** With which of the following sects did Bindusara have an inclination ?

- (1) Buddhism
- (2) Jainism
- (3) Ajivikas
- (4) Saivism

# SPACE FOR ROUGH WORK

# SPACE FOR ROUGH WORK

**SUBJECT CODE : 252**

Question Booklet Series

**A**

**QUESTION BOOKLET  
GENERAL STUDIES  
(PAPER I)**

Time Allowed :  $1 \frac{1}{2}$  Hours

Maximum Marks : 200

**INSTRUCTIONS**

1. Immediately after the commencement of the Examination, before writing the Question Booklet Series in the OMR sheet, you should check that this Question Booklet does NOT have any unprinted or torn or missing pages or questions etc. If so, get it replaced by a complete 'Question Booklet' of the available series.
2. **Write and encode clearly the Question Booklet Series A, B, C or D, Subject Code and Register Number in the appropriate space provided for that purpose in the OMR Answer Sheet. Also ensure that candidate's signature and Invigilator's signature columns are properly filled in. Please note that it is candidate's responsibility to fill in and encode these particulars and any omission/discrepancy will render the OMR Answer Sheet liable for Rejection.**
3. You have to enter your Register Number in the Question Booklet in the box provided alongside.  
DO NOT write anything else on the Question Booklet.
4. This Question Booklet contains **100** questions. Each question contains **four** responses (answers). Select the response which you want to mark on the Answer Sheet. In case you feel that there is more than one correct response, mark the response which you consider the most appropriate. In any case, choose **ONLY ONE RESPONSE** for each question.
5. All the responses should be marked **ONLY** on the separate Answer Sheet provided and **ONLY** in Black or Blue Ball Point Pen. See detailed instructions in the OMR Answer Sheet.
6. All questions carry equal marks. **Attempt all questions.** Every question for which wrong answer has been given by the candidate,  $\frac{1}{4}^{\text{th}}$  (0.25) of the marks assigned for that question will be deducted.
7. Sheets for rough work are appended in the Question Booklet at the end. You should not make any marking on any other part of the Question Booklet.
8. Immediately after the final bell indicating the conclusion of the examination, stop making any further markings in the Answer Sheet. Be seated till the Answer Sheets are collected and accounted for by the Invigilator.
9. **Questions are printed both in Kannada and English. If any confusion arises in the Kannada Version, please refer to the English Version of the questions. Please note that in case of any confusion the English Version of the Question Booklet is final.**

**Register Number**

**Use of Mobile Phones, Calculators and other Electronic/Communication gadgets of any kind is prohibited inside the Examination venue.**

ಗಮನಿಸಿ: ಸೂಚನೆಗಳ ಕನ್ನಡ ಆವೃತ್ತಿಯು ಈ ಪ್ರಶ್ನೆ ಪುಸ್ತಿಕೆಯ ಮುಂಭಾಗದಲ್ಲಿ ಮುದ್ರಿಸಲ್ಪಟ್ಟಿದೆ.