


2018



ಪ್ರಶ್ನೆಪತ್ರಿಕೆ ಶ್ರೇಣಿ

ಪ್ರಶ್ನೆ ಪುಸ್ತಿಕೆ

ಸಾಮಾನ್ಯ ಪತ್ರಿಕೆ (ಪತ್ರಿಕೆ I)



ಸಮಯ : 1 ½ ಗಂಟೆಗಳು

ವಿಷಯ ಸಂಕೇತ : 306

ಗರಿಷ್ಠ ಅಂಕಗಳು : 200

ಸೂಚನೆಗಳು

1. ಪರೀಕ್ಷೆ ಪ್ರಾರಂಭವಾದ ಕೂಡಲೇ ನಿಮ್ಮ ಪ್ರಶ್ನೆಪತ್ರಿಕೆಯಲ್ಲಿ ಅಮುದ್ರಿತ ಅಥವಾ ಹರಿದಿರುವ ಅಥವಾ ಬಿಟ್ಟು ಹೋಗಿರುವ ಪುಟಗಳು ಅಥವಾ ಪ್ರಶ್ನೆಗಳು ಇತ್ಯಾದಿಗಳು ಕಂಡುಬಂದಲ್ಲಿ ನಿಮ್ಮ ಒ.ಎಂ.ಆರ್. ಉತ್ತರ ಹಾಳೆಯಲ್ಲಿ ಮುದ್ರಿತವಾಗಿರುವ ಅದೇ ಶ್ರೇಣಿಯ ಪೂರ್ಣ ಪ್ರಶ್ನೆ ಪತ್ರಿಕೆ ಯೊಂದಿಗೆ ಬದಲಾಯಿಸಿ ಕೊಳ್ಳತಕ್ಕದ್ದು.
 2. ಅಭ್ಯರ್ಥಿಯು ಪ್ರಶ್ನೆ ಪತ್ರಿಕೆಯ ಶ್ರೇಣಿಯು, ತಮ್ಮ ಒ.ಎಂ.ಆರ್. ಉತ್ತರ ಹಾಳೆಯಲ್ಲಿ ಮುದ್ರಿತವಾಗಿರುವ ಅದೇ ಪ್ರಶ್ನೆಪತ್ರಿಕೆಯ ಶ್ರೇಣಿಯಾಗಿರುವುದೇ ಎಂಬುದನ್ನು ಖಚಿತಪಡಿಸಿಕೊಳ್ಳಬೇಕು. ವ್ಯತ್ಯಾಸಗಳು ಕಂಡುಬಂದಲ್ಲಿ, ಸಂವೀಕ್ಷಕರ ಗಮನಕ್ಕೆ ತರುವುದು ಮತ್ತು ಪ್ರಶ್ನೆಪತ್ರಿಕೆಯ ಶ್ರೇಣಿಯು ತಮಗೆ ಹೊಂದುವ (ಅದೇ) ಪ್ರಶ್ನೆಪತ್ರಿಕೆಯಾದ ಮತ್ತು ಒ.ಎಂ.ಆರ್. ಉತ್ತರ ಹಾಳೆಯಲ್ಲಿ ಮುದ್ರಿತವಾಗಿರುವ ಶ್ರೇಣಿಯ ಪ್ರಶ್ನೆಪತ್ರಿಕೆಯನ್ನೇ ಪಡೆಯತಕ್ಕದ್ದು.
 3. ಪಕ್ಕದಲ್ಲಿ ಒದಗಿಸಿರುವ ಪ್ರಶ್ನೆಪತ್ರಿಕೆಯ ಚೌಕದಲ್ಲೇ ನಿಮ್ಮ ನೋಂದಣಿ ಸಂಖ್ಯೆಯನ್ನು ನಮೂದಿಸಬೇಕು. ಪ್ರಶ್ನೆ ಪುಸ್ತಿಕೆಯಲ್ಲಿ ಬೇರೆ ಏನನ್ನೂ ಬರೆಯಬಾರದು.
- | ನೋಂದಣಿ ಸಂಖ್ಯೆ | | | | | |
|---------------|--|--|--|--|--|
| | | | | | |
4. ಈ ಪ್ರಶ್ನೆ ಪುಸ್ತಿಕೆ 100 ಪ್ರಶ್ನೆಗಳನ್ನು ಒಳಗೊಂಡಿರುತ್ತದೆ. ಪ್ರತಿಯೊಂದು ಪ್ರಶ್ನೆಯು 4 ಪ್ರತಿಕ್ರಿಯೆಗಳನ್ನು (ಉತ್ತರಗಳನ್ನು) ಒಳಗೊಂಡಿರುತ್ತದೆ. ನೀವು ಉತ್ತರ ಹಾಳೆಯಲ್ಲಿ ಗುರುತು ಮಾಡಬೇಕೆನಿಸುವ ಉತ್ತರವನ್ನು ಆಯ್ಕೆ ಮಾಡಿಕೊಳ್ಳಿ. ಒಂದು ವೇಳೆ ಅಲ್ಲಿ ಒಂದಕ್ಕಿಂತ ಹೆಚ್ಚು ಸರಿಯಾದ ಉತ್ತರಗಳಿವೆಯೆಂದು ನೀವು ಭಾವಿಸಿದರೆ ನಿಮಗೆ ಅತ್ಯುತ್ತಮವೆನಿಸುವ ಉತ್ತರಕ್ಕೆ ಗುರುತು ಮಾಡಿ. ಏನೇ ಆದರೂ ಪ್ರತಿ ಪ್ರಶ್ನೆಗೆ ನೀವು ಕೇವಲ ಒಂದು ಉತ್ತರವನ್ನು ಮಾತ್ರ ಆಯ್ಕೆ ಮಾಡಬೇಕು.
 5. ಎಲ್ಲಾ ಉತ್ತರಗಳನ್ನು ನಿಮಗೆ ಒದಗಿಸಲಾಗಿರುವ ಪ್ರತ್ಯೇಕ ಒ.ಎಂ.ಆರ್. ಉತ್ತರ ಹಾಳೆಯ ಮೇಲೆ ಕೇವಲ ಕಪ್ಪು ಅಥವಾ ನೀಲಿ ಶಾಯಿಯ ಬಾಲ್ ಪಾಯಿಂಟ್ ಪೆನ್‌ನಲ್ಲಿ ಮಾತ್ರ ಗುರುತು ಮಾಡಬೇಕು. ಒ.ಎಂ.ಆರ್. ಉತ್ತರ ಪತ್ರಿಕೆ ಹಾಳೆಯಲ್ಲಿನ ವಿವರವಾದ ಸೂಚನೆಗಳನ್ನು ಗಮನಿಸುವುದು.
 6. ಎಲ್ಲಾ ಪ್ರಶ್ನೆಗಳಿಗೆ ಸಮಾನ ಅಂಕಗಳು. ಎಲ್ಲಾ ಪ್ರಶ್ನೆಗಳಿಗೆ ಉತ್ತರಿಸಿರಿ. ಪ್ರತಿ ತಪ್ಪು ಉತ್ತರಕ್ಕೆ ಪ್ರಶ್ನೆಗೆ ನಿಗದಿಪಡಿಸಿದ ಅಂಕಗಳ ¼ (0.25) ರಷ್ಟು ಅಂಕಗಳನ್ನು ಕಳೆಯಲಾಗುವುದು.
 7. ಚಿತ್ತು ಕೆಲಸಕ್ಕಾಗಿ ಹಾಳೆಗಳನ್ನು ಪ್ರಶ್ನೆ ಪುಸ್ತಿಕೆಯ ಕೊನೆಯಲ್ಲಿ ಸೇರಿಸಲಾಗಿದೆ. ಪ್ರಶ್ನೆ ಪುಸ್ತಿಕೆಯ ಇನ್ನುಳಿದ ಯಾವ ಭಾಗದಲ್ಲಿಯೂ ನೀವು ಯಾವ ರೀತಿಯ ಗುರುತನ್ನು ಮಾಡತಕ್ಕದ್ದಲ್ಲ.
 8. ಪರೀಕ್ಷೆಯ ಮುಕ್ತಾಯವನ್ನು ಸೂಚಿಸುವ ಅಂತಿಮ ಗಂಟೆ ಬಾರಿಸಿದ ತಕ್ಷಣವೇ ಒ.ಎಂ.ಆರ್. ಉತ್ತರ ಪತ್ರಿಕೆ ಹಾಳೆಯಲ್ಲಿ ಇನ್ನಾವುದೇ ಗುರುತು ಮಾಡುವುದನ್ನು ನಿಲ್ಲಿಸಬೇಕು. ಸಂವೀಕ್ಷಕರು ಬಂದು ನಿಮ್ಮಲ್ಲಿರುವ ಒ.ಎಂ.ಆರ್. ಉತ್ತರ ಹಾಳೆಯನ್ನು ತಮ್ಮ ವಶಕ್ಕೆ ಪಡೆದುಕೊಂಡು ಲೆಕ್ಕಕ್ಕೆ ತೆಗೆದುಕೊಳ್ಳುವವರೆಗೂ ನಿಮ್ಮ ನಿಮ್ಮ ಆಸನದಲ್ಲಿಯೇ ಕುಳಿತಿರತಕ್ಕದ್ದು.
 9. ಪ್ರಶ್ನೆಗಳು ಕನ್ನಡ ಮತ್ತು ಆಂಗ್ಲ ಭಾಷೆಯಲ್ಲಿರುತ್ತವೆ. ಕನ್ನಡ ಪ್ರಶ್ನೆಗಳಲ್ಲಿ ಸಂದೇಹ ಉಂಟಾದರೆ, ದಯವಿಟ್ಟು ಆಂಗ್ಲ ಭಾಷೆಯ ಪ್ರಶ್ನೆಗಳನ್ನು ಗಮನಿಸುವುದು. ಪ್ರಶ್ನೆ ಪತ್ರಿಕೆಯ ಪ್ರಶ್ನೆಗಳಲ್ಲಿ ಯಾವುದೇ ಗೊಂದಲಗಳಿದ್ದರೂ ಆಂಗ್ಲಭಾಷೆಯ ಪ್ರಶ್ನೆಗಳೇ ಅಂತಿಮವಾಗಿರುತ್ತವೆ.

ಯಾವುದೇ ರೀತಿಯ ಮೊಬೈಲ್ ಫೋನ್, ಕ್ಯಾಲ್ ಕ್ಯುಲೇಟರ್ ಮತ್ತು ಇತರೆ ರೀತಿಯ ಎಲೆಕ್ಟ್ರಾನಿಕ್/ಕಮ್ಯೂನಿಕೇಷನ್ ಸಾಧನಗಳು ಇತ್ಯಾದಿಗಳನ್ನು ಪರೀಕ್ಷಾ ಕೇಂದ್ರದ ಆವರಣದೊಳಗೆ ತರುವುದನ್ನು ನಿಷೇಧಿಸಿದೆ.

Note : English version of the instructions is printed on the back cover of this booklet.

1. ನೀರಿನಲ್ಲಿನ ಅಧಿಕ ಕೋಲಿಫಾರಂ ಸೂಚಿಸುವುದು ಇದನ್ನು

- (1) ಮಾನವ ತ್ಯಾಜ್ಯದಿಂದಾದ ಕಲುಷಿತತೆ
- (2) ರಂಜಕ ಕಲುಷಿತತೆ
- (3) ತಗ್ಗಿದ (ಬಯಾಲಾಜಿಕಲ್ ಆಕ್ಸಿಜನ್ ಡಿಮಾಂಡ್) ಜೀವಶಾಸ್ತ್ರೀಯ ಆಮ್ಲಜನಕ ಬೇಡಿಕೆ
- (4) ಹೈಡ್ರೋ ಕಾರ್ಬನ್ ಕಲುಷಿತತೆ

2. ಒಂದು ಅಪರಾಧಿ ದೃಶ್ಯದಲ್ಲಿ ಉಳಿದುಕೊಂಡಿರುವ ಡಿ.ಎನ್.ಎ. ಸಾಕ್ಷ್ಯವನ್ನು ನಿರ್ದಿಷ್ಟ ವ್ಯಕ್ತಿಗಳನ್ನು ಗುರುತಿಸಲು ಬಳಸಲಾಗುತ್ತದೆ ಏಕೆಂದರೆ

- (1) ಒಬ್ಬ ವ್ಯಕ್ತಿಯಿಂದ ಮತ್ತೊಬ್ಬ ವ್ಯಕ್ತಿಗೆ ಡಿ.ಎನ್.ಎ. ದಲ್ಲಿನ ನ್ಯೂಕ್ಲಿಯೋಟೈಡ್‌ಗಳ ಶ್ರೇಣಿಯು ಬೇರೆಯಾಗುವುದು
- (2) ಒಬ್ಬ ವ್ಯಕ್ತಿಯಿಂದ ಮತ್ತೊಬ್ಬ ವ್ಯಕ್ತಿಗೆ ಅಮೈನೋ ಆಮ್ಲಗಳ ಅನನ್ಯ ಶ್ರೇಣಿಯು ಬೇರೆಯಾಗುವುದು
- (3) ಪ್ರತಿಯೊಂದು ಡಿ.ಎನ್.ಎ. ಅಣುವೂ ಸ್ವೀರಾಯಿಡ್‌ಗಳ ಮತ್ತು ಲಿಪಿಡ್‌ಗಳ ವಿಶಿಷ್ಟ / ಅನನ್ಯ ಸಂಗ್ರಹವನ್ನು ಉಳಿದಿದ್ದಾಗಿರುತ್ತದೆ
- (4) ಪ್ರತಿಯೊಬ್ಬ ವ್ಯಕ್ತಿಯೂ, ಬರಿಗಣ್ಣಿಗೆ ಕಾಣಬಹುದಾದ ವ್ಯತ್ಯಾಸಗಳನ್ನುಳ್ಳ ಅನನ್ಯ ಡಿ.ಎನ್.ಎ. ಅನ್ನು ಹೊಂದಿರುವುದು

3. ರಾಜ್ಯ ಪುನರ್ ರಚನೆ ಆಯೋಗವನ್ನು 1953 ರ ಡಿಸೆಂಬರ್‌ನಲ್ಲಿ ಆಗಿನ ಪ್ರಧಾನ ಮಂತ್ರಿಯಾಗಿದ್ದ ಪಂಡಿತ್ ಜವಹರ್‌ಲಾಲ್ ನೆಹರೂ ಅವರು ಭಾರತದ ರಾಜ್ಯಗಳ ಪುನರ್ ರಚನೆಯನ್ನು ಅಧಿಕೃತಗೊಳಿಸಲು ಕೈಗೊಂಡರು. ಈ ಆಯೋಗದ ಮುಖ್ಯಸ್ಥರಾಗಿದ್ದವರು ಯಾರು ?

- (1) ಫೆಜಲ್ ಅಲಿ
- (2) ಕೆ.ಎಮ್. ಪನಿಕರ್
- (3) ಹೆಚ್.ಎನ್. ಕುಂಜು
- (4) ಸರ್‌ದಾರ್ ವಲ್ಲಭಭಾಯಿ ಪಟೇಲ್

4. ಪಟ್ಟಿ I (ಪಂಗಡಗಳು) ಮತ್ತು ಪಟ್ಟಿ II (ಪ್ರದೇಶಗಳು) ಗಳನ್ನು ಹೊಂದಿಸಿ :

ಪಟ್ಟಿ I (ಪಂಗಡಗಳು)	ಪಟ್ಟಿ II (ಪ್ರದೇಶ)
A. ಭಿಲ್	I. ತೆರಾಯ್
B. ಧಾರು	II. ನೀಲ್‌ಗಿರಿ
C. ಗೊಂಡ್	III. ಬಸ್ತಾರ್
D. ತೋಡಾ	IV. ಮಾಳ್ವ
	V. ಚೋಟಾನಾಗುರ್

ಸಂಕೇತಗಳ ಸಹಾಯದಿಂದ ಸರಿ ಉತ್ತರಗಳನ್ನು ಆರಿಸಿ :

	A	B	C	D
(1)	I	II	III	IV
(2)	V	IV	III	II
(3)	IV	I	III	II
(4)	V	IV	II	I

5. ಈ ಕೆಳಗಿನ ಹೇಳಿಕೆಗಳನ್ನು ಪರಿಗಣಿಸಿ :

- A. ಮಣ್ಣು ಘನ, ದ್ರವ ಮತ್ತು ಅನಿಲಗಳನ್ನು ಒಳಗೊಂಡಿರುತ್ತದೆ.
- B. ಮಣ್ಣು ಸಾವಯವ ಮತ್ತು ಅಸಾವಯವ ವಸ್ತುಗಳನ್ನು ಒಳಗೊಂಡಿರುತ್ತದೆ.
- C. ಮಣ್ಣು ಅಧಿಕ ಮಟ್ಟದ ಆಮ್ಲಜನಕವನ್ನು ಹೊಂದಿದೆ / ಉಳಿದಿದ್ದಿದೆ.

ಈ ಮೇಲಿನ ಹೇಳಿಕೆಗಳಲ್ಲಿ ಯಾವುದು /ವು ಸರಿ ?

ನೀಡಿರುವ ಆಯ್ಕೆಗಳಲ್ಲಿ ಸರಿಯಾದ ಉತ್ತರಕ್ಕಾಗಿ ಸಂಕೇತವನ್ನಾರಿಸಿ :

- (1) A, B ಮತ್ತು C
- (2) B ಮತ್ತು C ಮಾತ್ರ
- (3) A ಮತ್ತು C ಮಾತ್ರ
- (4) A ಮತ್ತು B ಮಾತ್ರ

1. Higher coliform counts in water indicates
- (1) Contamination by human wastes
 - (2) Phosphorus contamination
 - (3) Decreased biological oxygen demand
 - (4) Hydrocarbon contamination

2. DNA evidence left at a crime scene can be used to identify specific individuals because

- (1) The sequence of nucleotides in a DNA differs from person to person
- (2) Unique sequence of amino acids differs from person to person
- (3) Each DNA molecule contains a unique collection of steroids and lipids
- (4) Each person has unique DNA with differences that are visible to the naked eye

3. States Reorganisation Commission was appointed in December 1953 by the then Prime Minister Pt. Jawaharlal Nehru with mandate to reorganise the Indian states. Who was the head of the Commission ?

- (1) Fazal Ali
- (2) K.M. Panikkar
- (3) H.N. Kunzru
- (4) Sardar Vallabhbhai Patel

4. Match List I (Tribes) with List II (Regions) :

<i>List I</i> (Tribe)	<i>List II</i> (Region)
A. Bhil	I. Terai
B. Tharu	II. Niligiri
C. Gond	III. Bastar
D. Toda	IV. Malwa
	V. Chotanagpur

Select the code for the correct answer from the options given below :

	A	B	C	D
(1)	I	II	III	IV
(2)	V	IV	III	II
(3)	IV	I	III	II
(4)	V	IV	II	I

5. Consider the following statements :

- A. Soils consist of solids, liquids and gases.
- B. Soils consist of organic and inorganic matter.
- C. Soils have/contain high level of oxygen.

Which of the above statements is/are correct ?

Select the code for the correct answer from the options given below :

- (1) A, B and C
- (2) B and C only
- (3) A and C only
- (4) A and B only

6. ಈ ಹೇಳಿಕೆಗಳನ್ನು ಪರಿಗಣಿಸಿ :
- ಶಿಂಷಾವು ಕಾವೇರಿಯ ಎಡ ಭಾಗದ ಉಪನದಿ.
 - ಕಬಿನಿಯು ಕಾವೇರಿಯ ಬಲ ಭಾಗದ ಉಪನದಿ.
 - ತುಂಗಭದ್ರಾವು ಕೃಷ್ಣಾದ ಬಲ ಭಾಗದ ಉಪನದಿ.

ಈ ಮೇಲಿನ ಹೇಳಿಕೆಗಳಲ್ಲಿ ಯಾವುದು /ವು ಸರಿ ?

ನೀಡಿರುವ ಆಯ್ಕೆಗಳಲ್ಲಿ ಸರಿಯಾದ ಉತ್ತರಕ್ಕಾಗಿ ಸಂಕೇತವನ್ನಾರಿಸಿ :

- (1) A ಮಾತ್ರ
- (2) A ಮತ್ತು B ಮಾತ್ರ
- (3) A ಮತ್ತು C ಮಾತ್ರ
- (4) A, B ಮತ್ತು C ಮಾತ್ರ

7. ಕರ್ನಾಟಕದ ಹುಲಿಕಲ್ ಈ ಕೆಳಗಿನ ಯಾವುದಕ್ಕೆ ಖ್ಯಾತವಾಗಿದೆ ?

- ಗಣಿಗಾರಿಕೆ
- ಆತ್ಯಧಿಕ ಮಳೆಬೀಳುವಿಕೆಯಲ್ಲಿ ಆಗುಂಬೆಯ ನಂತರದ (ಮುಂದಿನ) ಸ್ಥಾನ
- ನೂಕ್ಲಿಯರ್ (ಬೈಜಿಕ) ಶಕ್ತಿ ಸ್ಥಾವರ
- ಫರ್ಮಲ್ ಶಕ್ತಿ ಸ್ಥಾವರ

ಈ ಮೇಲಿನ ಹೇಳಿಕೆಗಳಲ್ಲಿ ಯಾವುದು /ವು ಸರಿ ?

ನೀಡಿರುವ ಆಯ್ಕೆಗಳಲ್ಲಿ ಸರಿಯಾದ ಉತ್ತರಕ್ಕಾಗಿ ಸಂಕೇತವನ್ನಾರಿಸಿ :

- (1) A, B ಮತ್ತು C ಮಾತ್ರ
- (2) A ಮಾತ್ರ
- (3) B ಮಾತ್ರ
- (4) ಮೇಲಿನ ಎಲ್ಲವೂ ಸರಿಯಾಗಿವೆ

8. ನಿರ್ದಿಷ್ಟವಾಗಿ ಒಂದು ಬಿಸಿ ಮರುಭೂಮಿಯಲ್ಲಿ ರೂಪುಗೊಂಡ ಒಂದು ಬೆಟ್ಟ ಅಥವಾ ಮರಳಿನ ಬದು (ದಿಬ್ಬ) ವು ಗಾಳಿಯ ಸವಕಳಿ ಮತ್ತು ಸಾಗಣೆಯಿಂದಂಟಾಗುವುದನ್ನು ಹೀಗೆನ್ನುವರು

- (1) ಇನ್ಸೆಲ್‌ಬೆರ್ಗ್
- (2) ಯರ್‌ಡಾಂಗ್
- (3) ಮರಳು ದಿಬ್ಬ
- (4) ಅಣಬೆ ಶಿಲೆ

9. ಸಮುದ್ರ ಗುಪ್ತನ ಸೈನಿಕ ದಿಗ್ವಿಜಯಗಳನ್ನು ವರ್ಣಿಸುವ ಶಾಸನ ಯಾವುದು ಮತ್ತು ಆ ಶಾಸನವನ್ನು ರಚಿಸಿದವನಾರು ?

- (1) ಅಲಹಾಬಾದ್ ಸ್ತಂಭ ಶಾಸನ ಮತ್ತು ಹರಿ ಸೇನ
- (2) ಅಲಹಾಬಾದ್ ಸ್ತಂಭ ಶಾಸನ ಮತ್ತು ಲಿಪಿಕಾರ ಚಪಾಡ
- (3) ಅಲಹಾಬಾದ್ ಸ್ತಂಭ ಶಾಸನ ಮತ್ತು ಮಂಗಳೇಶ
- (4) ರುಮ್ಮೆಂಡೈ ಸ್ತಂಭ ಶಾಸನ ಮತ್ತು ಕವಿ ರನ್ನ

10. ಭಾರತದ ಸಂವಿಧಾನದ ಈ ಒಂದು ಪಟ್ಟಿಯಲ್ಲಿ ಬಾಬು ಆಕೃತಿಯಾಗಿ ಜನಗಣತಿಯ ವಿಷಯವು ಇದೆ.

- (1) ಕೇಂದ್ರ ಪಟ್ಟಿ
- (2) ರಾಜ್ಯ ಪಟ್ಟಿ
- (3) ಸಮವರ್ತಿ ಪಟ್ಟಿ
- (4) ಶೇಷಾಧಿಕಾರಗಳು

11. ಈ ಕೆಳಗಿನ ಯಾವ ಒಂದು ಗುಂಪು ಟ್ರಿಪಲ್ (ತೈ) ತಲಾಕ್ ತೀರ್ಪಿನೊಂದಿಗೆ ಸಂಬಂಧಿಸಿದೆ ?

- (1) ಸರ್ವ ಶ್ರೀ ಉದಯ ಲಲಿತ್, ಅಬ್ದುಲ್ ನಜೀರ್, ರೋಹಿನ್‌ಟನ್ ನಾರಿಮನ್
- (2) ಸರ್ವ ಶ್ರೀ ಕುರಿಯನ್ ಜೋಸೆಫ್, ಅಬ್ದುಲ್ ನಜೀರ್, ಉದಯ ಲಲಿತ್
- (3) ಸರ್ವ ಶ್ರೀ ಜೆ.ಎಸ್. ಖೇಹರ್, ರೋಹಿನ್‌ಟನ್ ನಾರಿಮನ್, ಕುರಿಯನ್ ಜೋಸೆಫ್
- (4) ಶ್ರೀಮತಿ ಶಾಯರಾ ಬಾನು, ಶ್ರೀ ಉದಯ ಲಲಿತ್, ಶ್ರೀ ಅಬ್ದುಲ್ ನಜೀರ್

6. Consider the following statements :
- A. Shimsha is a left hand tributary of Kaveri.
 - B. Kabini is a right hand tributary of Kaveri.
 - C. Tungabhadra is a right hand tributary of Krishna.

Which of the above statements is/are correct ?

Select the code for the correct answer from the options given below :

- (1) A only
- (2) A and B only
- (3) A and C only
- (4) A, B and C

7. Hulikal of Karnataka is known for

- A. Mining
- B. Highest rainfall next only to Agumbe
- C. Nuclear Power Plant
- D. Thermal Power Plant

Which of the above is/are correct ?

Select the code for the correct answer from the options given below :

- (1) A, B and C only
- (2) A only
- (3) B only
- (4) All of the above

8. A hill or ridge of sand formed, particularly in a hot desert, by erosion and transportation by wind is called

- (1) Inselberg
- (2) Yardang
- (3) Sand dune
- (4) Mushroom rock

9. Which inscription describes the military expeditions of Samudragupta and who composed it ?

- (1) Allahabad pillar inscription, Harisena
- (2) Allahabad pillar inscription, Lipikara Chapada
- (3) Allahabad pillar inscription, Mangalesha
- (4) Rummendei pillar inscription, Kavi Ranna

10. Census as an item figures in one of these lists of the Indian Constitution.

- (1) Union List
- (2) State List
- (3) Concurrent List
- (4) Residuary Powers

11. Which one of these groups of people is related to the Triple Talaq verdict ?

- (1) Shri Uday Lalit, Shri Abdul Nazeer, Shri Rohinton Nariman
- (2) Shri Kurian Jospesh, Shri Abdul Nazeer, Shri Uday Lalit
- (3) Shri J.S. Khehar, Shri Rohinton Nariman, Shri Kurian Joseph
- (4) Shrimati Shayara Bano, Shri Uday Lalit, Shri Abdul Nazeer

12. ಈ ಕೆಳಗಿನ ಯಾವ ದೇಶದ ಸಮೂಹದಲ್ಲಿ ಬೇಸಿಗೆಯ ಕಾಲದಲ್ಲಿ ನಡುರಾತ್ರಿಯ ಸೂರ್ಯ ಗೋಚರಿಸುತ್ತಾನೆ ?

- (1) ನಾರ್ವೆ, ಸ್ವಿಡನ್, ಫಿನ್‌ಲಾಂಡ್, ರಷ್ಯಾ
- (2) ಬ್ರಿಟನ್, ಜರ್ಮನಿ, ಪೋಲೆಂಡ್, ಹಂಗರಿ
- (3) ಸ್ಪೈನ್, ಪೋರ್ಚುಗಲ್, ಫ್ರಾನ್ಸ್, ಇಟಲಿ
- (4) ಚೈನಾ, ಜಪಾನ್, ದಕ್ಷಿಣ ಕೊರಿಯಾ, ಮಲೇಶಿಯಾ

13. ಮೈತ್ರಿ ಮತ್ತು ಭಾರತಿ ಇವುಗಳು

- (1) ಭಾರತದಿಂದ ಉಡಾಯಿಸಲು ಉದ್ದೇಶಿಸಿರುವ ಹೊಸ ಉಪಗ್ರಹಗಳು
- (2) ಭಾರತದ ಪಶ್ಚಿಮ ಕರಾವಳಿಯಲ್ಲಿ ನಿರ್ಮಿತವಾಗಿರುವ ಹೊಸ ದ್ವೀಪಗಳು
- (3) ಅಂಟಾರ್ಟಿಕಾದಲ್ಲಿ ಭಾರತ ಸ್ಥಾಪಿಸಿರುವ ಸಂಶೋಧನಾ ಪ್ರಯೋಗಾಲಯಗಳು
- (4) ಭಾರತದಲ್ಲಿ ಖಾಸಗಿವಲಯದಲ್ಲಿ ಸ್ಥಾಪಿತವಾಗಿರುವ ನೂತನ ಪೆಟ್ರೋಲಿಯಂ ಸಂಸ್ಕರಣ ಕೇಂದ್ರಗಳು

14. ಪಟ್ಟಿ I ಮತ್ತು ಪಟ್ಟಿ II ಗಳನ್ನು ಹೊಂದಿಸಿರಿ :

ಪಟ್ಟಿ I ಪಟ್ಟಿ II

- | | |
|-----------------|----------------|
| A. ಕಲ್ಲಿದ್ದಲು | I. ಅಲ್ಯುಮಿನಿಯಂ |
| B. ಕಬ್ಬಿಣ ಅದಿರು | II. ಪೈರೋಲುಸೈಟ್ |
| C. ಬಾಕ್ಸೈಟ್ | III. ಹೆಮಟೈಟ್ |
| D. ಮ್ಯಾಂಗನೀಸ್ | IV. ಆಂತ್ರಸೈಟ್ |

ಸಂಕೇತಗಳ ಸಹಾಯದಿಂದ ಸರಿ ಉತ್ತರಗಳನ್ನು ಆರಿಸಿ :

	A	B	C	D
(1)	IV	II	III	I
(2)	III	IV	I	II
(3)	IV	III	I	II
(4)	III	II	IV	I

15. ಶುಕ್ರ ಗ್ರಹಕ್ಕೆ ಸಂಬಂಧಿಸಿದಂತೆ ಈ ಕೆಳಗಿನ ಹೇಳಿಕೆಗಳಲ್ಲಿ ಯಾವುದು/ವು ಸರಿ ?

- A. ಇದು ಭೂಮಿಯ ಅವಳಿ ಗ್ರಹವಾಗಿದೆ.
- B. ಇದಕ್ಕೆ ಎರಡು ಉಪಗ್ರಹಗಳಿವೆ.
- C. ಇದು ಬೆಳಗಿನ ಮತ್ತು ಸಂಜೆಯ ನಕ್ಷತ್ರ.
- D. ಇದು ಸೌರಮಂಡಲದಲ್ಲಿ ಅತಿ ಚಿಕ್ಕ ಗ್ರಹವಾಗಿದೆ. ನೀಡಿರುವ ಆಯ್ಕೆಗಳಲ್ಲಿ ಸರಿಯಾದ ಉತ್ತರಕ್ಕಾಗಿ ಸಂಕೇತವನ್ನಾರಿಸಿ :

- (1) A ಮತ್ತು C ಮಾತ್ರ
- (2) A, B ಮತ್ತು C ಮಾತ್ರ
- (3) A ಮಾತ್ರ
- (4) ಎಲ್ಲವೂ ಸರಿ

16. ಗ್ರೀನ್‌ವಿಚ್‌ನಲ್ಲಿ ಬೆಳಿಗ್ಗೆ 9:00 ಗಂಟೆಯಾಗಿದ್ದರೆ, 76° ಪೂರ್ವ ರೇಖಾಂಶದಲ್ಲಿ ನೆಲೆಯಾಗಿರುವ ಹಾಸನದಲ್ಲಿ ಸಮಯ ಎಷ್ಟಾಗಿರುತ್ತದೆ ?

- (1) 4:00 pm
- (2) 2:16 pm
- (3) 3:12 pm
- (4) 2:04 pm

17. ಈ ಕೆಳಗಿನ ಯಾವ ಕೃಷಿ ವಾಯುಗುಣ ಪ್ರದೇಶವನ್ನು ಕರ್ನಾಟಕದಲ್ಲಿನ 'ಬೆಳವಲನಾಡು' ಪ್ರದೇಶವೆಂದೂ ಕರೆಯಲಾಗುತ್ತದೆ ?

- (1) ಉತ್ತರದ ಸಂಕ್ರಮಣ/ಪರಿವರ್ತನೆಯ ಪ್ರದೇಶ
- (2) ಈಶಾನ್ಯ ಪ್ರದೇಶ
- (3) ದಕ್ಷಿಣದ ಶುಷ್ಕ ಪ್ರದೇಶ
- (4) ದಕ್ಷಿಣದ ಸಂಕ್ರಮಣ/ಪರಿವರ್ತನೆಯ ಪ್ರದೇಶ

12. During Summer Season, Midnight Sun appears in which of the following sets of the countries ?

- (1) Norway, Sweden, Finland, Russia
- (2) Britain, Germany, Poland, Hungary
- (3) Spain, Portugal, France, Italy
- (4) China, Japan, South Korea, Malaysia

13. Maitri and Bharati are the

- (1) Proposed new satellites to be launched from India
- (2) New islands formed along the west coast of India
- (3) Research laboratories of India established in Antarctica
- (4) New Petroleum Refineries in India established in the private sector

14. Match List I with List II :

List I

List II

- | | |
|--------------|----------------|
| A. Coal | I. Aluminium |
| B. Iron Ore | II. Pyrolusite |
| C. Bauxite | III. Hematite |
| D. Manganese | IV. Anthracite |

Select the code for the correct answer from the options given below :

- | | A | B | C | D |
|-----|----------|----------|----------|----------|
| (1) | IV | II | III | I |
| (2) | III | IV | I | II |
| (3) | IV | III | I | II |
| (4) | III | II | IV | I |

15. With reference to Venus, which of the following statement(s) is/are correct ?

- A. It is Earth's twin planet.
- B. It has two satellites.
- C. It is morning and evening star.
- D. It is the smallest planet in the solar system.

Select the code for the correct answer from the options given below :

- (1) A and C only
- (2) A, B and C only
- (3) A only
- (4) All are correct

16. When it is 9:00 am over Greenwich, what is the time at Hassan which is located on 76° East longitude ?

- (1) 4:00 pm
- (2) 2:16 pm
- (3) 3:12 pm
- (4) 2:04 pm

17. Which of the following Agro-climatic regions is also known as 'BelvalaNadu' region in Karnataka ?

- (1) The Northern Transitional Region
- (2) The North-Eastern Region
- (3) The Southern Dry Region
- (4) The Southern Transitional Region

18. ನಾಲ್ಕನೇ ಬೌದ್ಧ ಪರಿಷತ್ತು ಕಾನಿಷ್ಕನ ಆಳ್ವಿಕೆಯ ಅವಧಿಯಲ್ಲಿ ಕಾಶ್ಮೀರದಲ್ಲಿ ಜರುಗಿತು ಆಗ ಅದರ ಅಧ್ಯಕ್ಷ ಮತ್ತು ಉಪಾಧ್ಯಕ್ಷರಾಗಿದ್ದವರು ಯಾರು ?

- (1) ಮಹಾಕಶ್ಯಪ ಮತ್ತು ಆನಂದ
- (2) ಪಾರ್ಶ್ವ ಮತ್ತು ನಾಗಾರ್ಜುನ
- (3) ನಾಗಾರ್ಜುನ ಹಾಗೂ ಶೂದ್ರಕ
- (4) ವಸುಮಿತ್ರ ಹಾಗೂ ಅಶ್ವಘೋಷ

19. ಪಟ್ಟಿ I (ಯುದ್ಧಗಳು) ಮತ್ತು ಪಟ್ಟಿ II (ವರ್ಷಗಳು) ಗಳನ್ನು ಹೊಂದಿಸಿ :

ಪಟ್ಟಿ I (ಯುದ್ಧ)	ಪಟ್ಟಿ II (ವರ್ಷ)
--------------------	--------------------

- | | |
|---------------------------------|-------------------|
| A. ಪ್ರಥಮ ಪಾಣಿಪತ್ ಕದನ | I. ಕ್ರಿ.ಶ. 1761 |
| B. ತೃತೀಯ ಪಾಣಿಪತ್ ಕದನ | II. ಕ್ರಿ.ಶ. 1526 |
| C. ಪ್ರಥಮ ಅಂಗ್ಲೋ -
ಮರಾಠ ಯುದ್ಧ | III. ಕ್ರಿ.ಶ. 1565 |
| D. ತಾಳಿಕೋಟೆ ಯುದ್ಧ | IV. ಕ್ರಿ.ಶ. |

1775 - 82

ಸಂಕೇತಗಳ ಸಹಾಯದಿಂದ ಸರಿ ಉತ್ತರಗಳನ್ನು ಆರಿಸಿ :

	A	B	C	D
(1)	II	I	IV	III
(2)	I	II	III	IV
(3)	III	IV	II	I
(4)	IV	III	I	II

20. ಸಾರ್ವಜನಿಕ ಆಡಳಿತದಲ್ಲಿ ಮುಖ್ಯಕಾರ್ಯ ನಿರ್ವಾಹಕನ ಆಡಳಿತ ಕಾರ್ಯಗಳಿಗೆ ಸಂಬಂಧಿಸಿದ 'POSDCORB' ಎಂಬ ಪದವನ್ನು ಪರಿಚಯಿಸಿದವರಾರು ?

- (1) ಲೂಥರ್ ಗುಲಿಕ್
- (2) ವುಡ್ರೋ ವಿಲ್ಸನ್
- (3) ಫಿಫ್‌ನರ್
- (4) ಎಲ್.ಡಿ. ವೈಟ್

21. ಈ ಕೆಳಗಿನ ಯಾವ ಅಂಶವನ್ನು ಭಾರತದ ಸಂವಿಧಾನದಲ್ಲಿ ಉಲ್ಲೇಖಿಸಿಲ್ಲ ?

- A. ಮಂತ್ರಿ ಮಂಡಲ
- B. ಸಮೂಹ ಹೊಣೆಗಾರಿಕೆ
- C. ಸಚಿವರ ರಾಜೀನಾಮೆ
- D. ಉಪ-ಪ್ರಧಾನ ಮಂತ್ರಿಯ ಕಾರ್ಯಾಲಯ ನೀಡಿರುವ ಆಯ್ಕೆಗಳಲ್ಲಿ ಸರಿಯಾದ ಉತ್ತರಕ್ಕಾಗಿ ಸಂಕೇತವನ್ನಾರಿಸಿ :

- (1) A ಮತ್ತು B ಮಾತ್ರ
- (2) B ಮತ್ತು C ಮಾತ್ರ
- (3) C ಮತ್ತು D ಮಾತ್ರ
- (4) A ಮತ್ತು C ಮಾತ್ರ

22. ಇವರ ಶಿಫಾರಸ್ಸು ಮೇರೆಗೆ ಭಾರತದಲ್ಲಿ ಮೊದಲನೆ ಸಿವಿಲ್ ಸರ್ವಿಸ್ ಆಯೋಗ ಸ್ಥಾಪಿತವಾಯಿತು

- (1) ಐಚಿಸನ್ ಆಯೋಗ
- (2) ಲೀ ಆಯೋಗ
- (3) ಸೈಮನ್ ಕಮಿಷನ್
- (4) ಯೋಜನಾ ಆಯೋಗ

23. ಕೆಳಗಿನ ಯಾವ ದೇಶವು ನಾಗರಿಕ ಸೇವಾ ನೌಕರರಿಗೆ ಮುಷ್ಕರದ ಹಕ್ಕನ್ನು ಅನುಮತಿಸಿದೆ ?

- (1) ಯು.ಕೆ.
- (2) ಜರ್ಮನಿ
- (3) ಫ್ರಾನ್ಸ್
- (4) ಯು.ಎಸ್.ಎ.

18. Who among the following presided and vice-presided over the 4th Buddhist Council held during the reign of Kanishka at Kashmir ?

- (1) Mahakashyapa and Ananda
- (2) Parsva and Nagarjuna
- (3) Nagarjuna and Sudraka
- (4) Vasumitra and Asvaghosha

19. Match List I (Wars) with List II (Years) :

<i>List I</i> (War)	<i>List II</i> (Year)
A. The First Battle of Panipat	I. 1761 AD
B. The Third Battle of Panipat	II. 1526 AD
C. First Anglo-Maratha War	III. 1565 AD
D. Battle of Talikota	IV. 1775 – 82 AD

Select the code for the correct answer from the options given below :

	A	B	C	D
(1)	II	I	IV	III
(2)	I	II	III	IV
(3)	III	IV	II	I
(4)	IV	III	I	II

20. Who coined the term 'POSDCORB' which is related to the administrative functions of the chief executive in public administration ?

- (1) Luther Gullick
- (2) Woodrow Wilson
- (3) Pfiffner
- (4) L.D. White

21. Which of the following are **not** mentioned in the Constitution of India ?

- A. Council of Ministers
- B. Collective Responsibility
- C. Resignation of Ministers
- D. Office of Deputy Prime Minister

Select the code for the correct answer from the options given below :

- (1) A and B only
- (2) B and C only
- (3) C and D only
- (4) A and C only

22. The first Civil Service Commission in India was set up on the basis of the recommendations of

- (1) Aitchison Commission
- (2) Lee Commission
- (3) Simon Commission
- (4) Planning Commission

23. Which one of the following countries permits the right to strike to civil servants ?

- (1) UK
- (2) Germany
- (3) France
- (4) USA

24. ಶೂನ್ಯದಲ್ಲಿ ಬೆಳಕಿನ ವೇಗೋತ್ಕರ್ಷವು 3×10^8 m/s ವಕ್ರೀಭವನ ಸೂಚಕ $3/2$ ನ್ನುಳ್ಳ ಗಾಜಿನಲ್ಲಿನ ಬೆಳಕಿನ ವೇಗೋತ್ಕರ್ಷವು

- (1) 0.5×10^8 m/s
- (2) 2×10^{10} m/s
- (3) 2×10^8 m/s
- (4) 0.33×10^8 m/s

25. $^{235}\text{U}_{92}$ ಅಣುವಿನಲ್ಲಿನ ನ್ಯೂಟ್ರಾನುಗಳ ಸಂಖ್ಯೆಯು

- (1) 92
- (2) 235
- (3) 143
- (4) 327

26. ನಿರ್ದಿಷ್ಟ ಎತ್ತರದಲ್ಲಿ ಒಂದೇ ಸಮನಾದ ವೇಗೋತ್ಕರ್ಷದೊಂದಿಗೆ ಚಲಿಸುತ್ತಿರುವ ಒಂದು ಹೆಲಿಕಾಪ್ಟರ್‌ನಿಂದ ಬಿಡುಗಡೆಯಾದ ಆಹಾರದ ಪೊಟ್ಟಣದ ಪಥವನ್ನು ನೆಲದ ಮೇಲಿನ ವ್ಯಕ್ತಿಯೊಬ್ಬನಿಂದ ಗಮನಿಸಲಾಗುತ್ತಿದ್ದು ಇದು

- (1) ಒಂದು ಸರಳ ರೇಖೆ
- (2) ಒಂದು ಪರವಲಯ (ಪಾರಾಬೋಲ)
- (3) ಒಂದು ವೃತ್ತ
- (4) ಮೇಲಿನವು ಯಾವುದೂ ಅಲ್ಲ

27. ಈ ಕೆಳಗಿನವುಗಳಲ್ಲಿ ಯಾವುದು ಕರ್ನಾಟಕದಲ್ಲಿ ರಾಮ್ಸ್‌ರ್ ಒದ್ದೆ (ಜೌಗು) ಭೂ ಪ್ರದೇಶ ಎಂದು ಕರೆಸಿಕೊಳ್ಳಲು ಯೋಗ್ಯವಾಗಿದೆ ?

- (1) ಗುಡವಿ ಪಕ್ಷಿ ಧಾಮ
- (2) ಮಲ್ಯಾಡಿ ಜೌಗು ಭೂಮಿ
- (3) ರಂಗನ ತಿಟ್ಟು ಪಕ್ಷಿಧಾಮ
- (4) ಕೆ.ಜಿ. ಕೊಪ್ಪ ಜೌಗು ಭೂಮಿ

28. ಪಟ್ಟಿ I ಮತ್ತು ಪಟ್ಟಿ II ಗಳನ್ನು ಹೊಂದಿಸಿ :

ಪಟ್ಟಿ I

ಪಟ್ಟಿ II

- | | |
|----------------|-------------------------|
| A. ಪೈರಾನೊಮೀಟರ್ | I. ಸೌರಪ್ರಕಾಶ |
| B. ಸೈಕ್ರೋಮೀಟರ್ | II. ವಾಯು ಮಂಡಲದ ಆದ್ರ್ವತೆ |
| C. ಮಳೆಮಾಪಕ | III. ಮಳೆ ಒತ್ತರ |
| D. ಆನಿಮೋಮೀಟರ್ | IV. ಗಾಳಿಯ ದಿಕ್ಕು |

ಸಂಕೇತಗಳ ಸಹಾಯದಿಂದ ಸರಿ ಉತ್ತರಗಳನ್ನು ಆರಿಸಿ :

	A	B	C	D
(1)	II	I	IV	III
(2)	II	III	IV	I
(3)	IV	I	II	III
(4)	I	II	III	IV

29. ಕಣಮಾಲಿನ್ಯವನ್ನು ಕಣದ್ರವ್ಯ ಅಥವಾ ಪಿ.ಎಮ್. ಎಂದು ಹೇಳಲಾಗುವುದು ಇದು ಗಾಳಿಯ ಘನ ಮತ್ತು ದ್ರವ ತೇಲು ಕಣಗಳು. ಪಿ.ಎಮ್. 10 ವಿವರಣೆ ಪ್ರಕಾರ 10 ಮೈಕ್ರೋಮೀಟರ್ ಮತ್ತು ಅದಕ್ಕೂ ಕಡಿಮೆ ಗಾತ್ರದ ಕಣಗಳ ಉಚ್ಚಾಸ್ತದಿಂದ ನಗರವಾಸಿಗಳ ಆರೋಗ್ಯದ ಮೇಲೆ ಪರಿಣಾಮ ಉಂಟಾಗುವುದು. ಕರ್ನಾಟಕದ ಯಾವ ನಗರದಲ್ಲಿ ಪಿ.ಎಮ್. 10 ಮಟ್ಟದ ದಾಖಲಾತಿಯು ಅತ್ಯಧಿಕವಾಗಿದೆ ?

- (1) ತುಮಕೂರು
- (2) ದಾವಣಗೆರೆ
- (3) ಬೀದರ್
- (4) ಬೆಂಗಳೂರು

24. Velocity of light in vacuum is 3×10^8 m/s. Velocity of light in glass of refractive index $3/2$ is

- (1) 0.5×10^8 m/s
- (2) 2×10^{10} m/s
- (3) 2×10^8 m/s
- (4) 0.33×10^8 m/s

25. The number of neutrons in $^{235}\text{U}_{92}$ atom is

- (1) 92
- (2) 235
- (3) 143
- (4) 327

26. Path of the food packet released from a helicopter moving with uniform velocity at a certain height as observed by a person on the ground is a

- (1) Straight line
- (2) Parabola
- (3) Circle
- (4) None of the above

27. Which of the following has the potential to be recognized as Ramsar wetland site in Karnataka ?

- (1) Gudavi Bird Sanctuary
- (2) Malyadi Wetland
- (3) Ranganathittu Bird Sanctuary
- (4) K.G. Koppa Wetland

28. Match List I with List II :

List I

List II

- | | |
|-----------------|--------------------------|
| A. Pyranometer | I. Solar Irradiance |
| B. Psychrometer | II. Atmospheric Humidity |
| C. Rain gauge | III. Precipitation |
| D. Anemometer | IV. Wind Direction |

Select the code for the correct answer from the options given below :

- | | A | B | C | D |
|-----|----------|----------|----------|----------|
| (1) | II | I | IV | III |
| (2) | II | III | IV | I |
| (3) | IV | I | II | III |
| (4) | I | II | III | IV |

29. Particle pollution also known as particulate matter or PM is a mixture of solid and liquid deposits floating in the air. PM 10 describes inhalable particles with diameter generally 10 micrometers and smaller and affects the health of the residents of the city. Which city has recorded highest PM 10 level in Karnataka ?

- (1) Tumkur
- (2) Davanagere
- (3) Bidar
- (4) Bengaluru

30. ಕರ್ನಾಟಕದ ಪಾವಗಡದಲ್ಲಿ ನೆಲೆ ಯಾಗಿರುವ ವಿಶ್ವದ ಅತ್ಯಂತ ದೊಡ್ಡ ಸೌರ ಉದ್ಯಾನ (ಶಕ್ತಿ ಸ್ಥಳ) ವು ಉತ್ಪಾದಿಸುವ ವಿದ್ಯುತ್ ಸಾಮರ್ಥ್ಯ ಎಷ್ಟು?

- (1) 1,200 ಮೆಗಾವ್ಯಾಟ್‌ಗಳು
- (2) 2,800 ಮೆಗಾವ್ಯಾಟ್‌ಗಳು
- (3) 4,000 ಮೆಗಾವ್ಯಾಟ್‌ಗಳು
- (4) 2,000 ಮೆಗಾವ್ಯಾಟ್‌ಗಳು

31. ಕರ್ನಾಟಕ ರಾಜ್ಯ ಮಾಲಿನ್ಯ ನಿಯಂತ್ರಣ ಮಂಡಳಿಯ (KSPCB) ಸ್ಥಾಪನೆಯಾದ ವರ್ಷ

- (1) 1982
- (2) 1974
- (3) 1986
- (4) 1976

32. ಈ ಹೇಳಿಕೆಗಳ ವೈಕಿ ಹಸಿರು ಮನೆ ಅನಿಲ ಕುರಿತಂತೆ ಯಾವುದು ಸರಿಯಾಗಿದೆ ?

- A. ನೀರಾವಿಯು (ಭಾಷ್ಪ) ಒಂದು ಹಸಿರು ಮನೆ ಅನಿಲ.
- B. ಹಸಿರು ಮನೆ ಪರಿಣಾಮದ 2/3 ಭಾಗಕ್ಕೆ ಕಾರಣ ನೀರಾವಿ (ನೀರಿನ ಭಾಷ್ಪ).

ನೀಡಿರುವ ಆಯ್ಕೆಗಳಲ್ಲಿ ಸರಿಯಾದ ಉತ್ತರಕ್ಕಾಗಿ ಸಂಕೇತವನ್ನಾರಿಸಿ :

- (1) A ಮಾತ್ರ
- (2) B ಮಾತ್ರ
- (3) A ಆಗಲೀ ಅಥವಾ B ಆಗಲೀ ಅಲ್ಲ
- (4) A ಮತ್ತು B ಇವೆರಡೂ

33. ಕೆಳಗಿನ ಯಾವ ದೇಶವು ಕೊಲ್ಲಿ ರಾಷ್ಟ್ರಗಳ ಸಹಕಾರ ಮಂಡಳಿಯ (GCC) ಸದಸ್ಯನಾಗಿರುವುದಿಲ್ಲ?

- (1) ಓಮನ್
- (2) ಇರಾಕ್
- (3) ಕುವೈಟ್
- (4) ಸೌದಿ ಅರೇಬಿಯಾ

34. ಕೆಳಗಿನ ಹೇಳಿಕೆಗಳನ್ನು ಪರಿಗಣಿಸಿ :

A. ಸಾರಾಮತಿ ಶಿಖರವು ನಾಗಾಲ್ಯಾಂಡ್‌ನಲ್ಲಿದೆ.

B. ಮಿರ್ಕಿರ್ ಬೆಟ್ಟಗಳು ಅಸ್ಸಾಂನಲ್ಲಿದೆ.

ಮೇಲಿನ ಹೇಳಿಕೆಗಳಲ್ಲಿ ಯಾವುದು/ವು ಸರಿಯಾಗಿದೆ ? ನೀಡಿರುವ ಆಯ್ಕೆಗಳಲ್ಲಿ ಸರಿಯಾದ ಉತ್ತರಕ್ಕಾಗಿ ಸಂಕೇತವನ್ನಾರಿಸಿ :

- (1) A ಮಾತ್ರ
- (2) B ಮಾತ್ರ
- (3) A ಮತ್ತು B ಇವೆರಡೂ
- (4) A ಆಗಲೀ ಅಥವಾ B ಆಗಲೀ ಅಲ್ಲ

35. ಪಟ್ಟಿ I (ಏಜೆನ್ಸಿಗಳು) ಮತ್ತು ಪಟ್ಟಿ II (ಕೇಂದ್ರ ಕಾರ್ಯ ಸ್ಥಾನ) ವನ್ನು ಹೊಂದಿಸಿ ::

ಪಟ್ಟಿ I (ಏಜೆನ್ಸಿಗಳು)	ಪಟ್ಟಿ II (ಕೇಂದ್ರ ಕಾರ್ಯ ಸ್ಥಾನ)
A. ಎಫ್.ಎ.ಒ.	I. ಜಿನೀವಾ
B. ಐ.ಎಲ್.ಒ.	II. ನ್ಯೂಯಾರ್ಕ್
C. ಐ.ಎಫ್.ಸಿ.	III. ರೋಂ
D. ಯು.ಎನ್.ಡಿ.ಪಿ.	IV. ವಾಷಿಂಗ್ಟನ್ ಡಿ.ಸಿ.

ಸಂಕೇತಗಳ ಸಹಾಯದಿಂದ ಸರಿ ಉತ್ತರಗಳನ್ನು ಆರಿಸಿ :

	A	B	C	D
(1)	III	I	IV	II
(2)	III	I	II	IV
(3)	IV	III	II	I
(4)	II	III	IV	I

30. What is the electricity producing capacity of the world's biggest solar park (Shakti Sthala) located in Pavagada, Karnataka ?

- (1) 1,200 megawatts
- (2) 2,800 megawatts
- (3) 4,000 megawatts
- (4) 2,000 megawatts

31. The Karnataka State Pollution Control Board (KSPCB) was established in the year

- (1) 1982
- (2) 1974
- (3) 1986
- (4) 1976

32. Which one of the following is correct about greenhouse gases ?

- A. Water vapour is a greenhouse gas.
- B. Water vapour is responsible for two-third of the greenhouse effect.

Select the code for the correct answer from the options given below :

- (1) A only
- (2) B only
- (3) Neither A nor B
- (4) Both A and B

33. Which of the following countries is **not** a member of the Gulf Cooperation Council (GCC) ?

- (1) Oman
- (2) Iraq
- (3) Kuwait
- (4) Saudi Arabia

34. Consider the following :

- A. Saramati peak lies in Nagaland.
- B. Mikir hills lie in Assam.

Which of the above statements is/are correct ?

Select the code for the correct answer from the options given below :

- (1) A only
- (2) B only
- (3) Both A and B
- (4) Neither A nor B

35. Match List I (Agencies) with List II (Headquarters) :

<i>List I</i> (Agency)	<i>List II</i> (Headquarters)
A. FAO	I. Geneva
B. ILO	II. New York
C. IFC	III. Rome
D. UNDP	IV. Washington DC

Select the code for the correct answer from the options given below :

	A	B	C	D
(1)	III	I	IV	II
(2)	III	I	II	IV
(3)	IV	III	II	I
(4)	II	III	IV	I

36. ವಿಶ್ವ ವ್ಯಾಪಾರಿ ಸಂಘಟನೆ (WTO) ಕುರಿತಾದ ಕೆಳಗಿನ ಹೇಳಿಕೆಗಳನ್ನು ಪರಿಗಣಿಸಿ :

- A. ಅದರ ಕೇಂದ್ರ ಕಾರ್ಯಸ್ಥಾನವು ಸ್ವಿಟ್ಜರ್‌ಲ್ಯಾಂಡ್‌ನ ಜಿನೀವಾದಲ್ಲಿದೆ.
- B. ಅದು 1995 ರ ಜನವರಿ 1 ರಂದು ಸ್ಥಾಪನೆಯಾಯಿತು.
- C. ಅದು ಬಹು ಪಕ್ಷೀಯ ವ್ಯಾಪಾರೀ ಸಂಧಾನಗಳ ಉರುಗ್ವೆದುಂಡುಮೇಜಿನಿಂದ 1986 - 1994 ರ ನಡುವೆ ಸೃಷ್ಟಿಯಾಯಿತು.

ಈ ಮೇಲಿನ ಹೇಳಿಕೆಗಳಲ್ಲಿ ಯಾವುವು ಸರಿ ?

ನೀಡಿರುವ ಆಯ್ಕೆಗಳಲ್ಲಿ ಸರಿಯಾದ ಉತ್ತರಕ್ಕಾಗಿ ಸಂಕೇತವನ್ನಾರಿಸಿ :

- (1) A ಮತ್ತು B ಮಾತ್ರ
- (2) A ಮತ್ತು C ಮಾತ್ರ
- (3) B ಮತ್ತು C ಮಾತ್ರ
- (4) A, B ಮತ್ತು C

37. ಆಕರ ಮತ್ತು ಕೇಳುಗ ಇಬ್ಬರೂ ಒಂದೇ ದಿಕ್ಕಿನಲ್ಲಿ ಶಬ್ದದ ವೇಗದ ಅರ್ಧಕ್ಕೇ ಸಮನಾದ ವೇಗದೊಂದಿಗೆ ಚಲಿಸುತ್ತಿದ್ದಲ್ಲಿ ಶಬ್ದದ ಆವರ್ತಾಂಕದಲ್ಲಿನ ಬದಲಾವಣೆಯು

- (1) ಶೂನ್ಯ
- (2) ಶೇ. 25
- (3) ಶೇ. 50
- (4) ಶೇ. 75

38. ಬಾಹ್ಯಾಕಾಶದಲ್ಲಿನ ಉಪಗ್ರಹಗಳ ಕಕ್ಷಾ ಜೀವಿತ ಸಮಯವು ಇದರ ಮೇಲೆ ಅವಲಂಬಿಸಿದೆ

- (1) ಉಪಗ್ರಹದಲ್ಲಿ ಬಳಕೆಯಾದ ಸೋಲಾರ್ ಪ್ರಾನ್‌ಲ್‌ಗಳು (ಫಲಕಗಳು)
- (2) ಉಪಗ್ರಹದ ಘಟಕಗಳ ಶಕ್ತಿ ಸಾಮರ್ಥ್ಯ
- (3) ಉಪಗ್ರಹದಲ್ಲಿನ ಇಂಧನದ ಮೊತ್ತ
- (4) ಅದನ್ನಿಡಲಾದ ಕಕ್ಷೆ

39. ಕೆಳಗಿನ ವಸ್ತುಗಳನ್ನು ಪರಿಗಣಿಸಿ, ಗಾಜನ್ನು ನಿಕ್ಷಾರಿಸುವುದು ಅಥವಾ ಅದರ ಮೇಲೆ ಗೀಚನ್ನುಂಟು ಮಾಡುವುದು ಇದರಿಂದ

- A. ವಜ್ರ
- B. ಹೈಡ್ರೋಫ್ಲೋರಿಕ್ ಆಮ್ಲ
- C. ಆಕ್ಸಾಜೆನಿಯಾ
- D. ಕಾನ್‌ಸೆನ್‌ಟ್ರೇಟೆಡ್ ಸಲ್‌ಫ್ಯೂರಿಕ್ ಆಮ್ಲ

ಈ ಮೇಲಿನವುಗಳಲ್ಲಿ ಯಾವುದು ಸರಿ ? ನೀಡಿರುವ ಆಯ್ಕೆಗಳಲ್ಲಿ ಸರಿಯಾದ ಉತ್ತರಕ್ಕಾಗಿ ಸಂಕೇತವನ್ನಾರಿಸಿ :

- (1) A ಮತ್ತು D ಮಾತ್ರ
- (2) B ಮತ್ತು C ಮಾತ್ರ
- (3) A ಮತ್ತು B ಮಾತ್ರ
- (4) B ಮತ್ತು D ಮಾತ್ರ

40. ರೋಗಿಗಳಿಗೆ ಹೊಟ್ಟೆಯ ಕ್ಷ-ಕಿರಣ ಪರೀಕ್ಷೆಗೆ ಮುನ್ನ ಬೇರಿಯಂನ್ನು ಸೂಕ್ಷ್ಮ ರೀತಿಯಲ್ಲಿ ನೀಡುವುದು. ಏಕೆಂದರೆ

- (1) ಬೇರಿಯಂ, ಅದು ಕ್ಷ-ಕಿರಣಗಳಿಗೆ ಪಾರದರ್ಶಕತೆಯನ್ನು ಹೊಂದಿದ್ದು, ಹೊಟ್ಟೆಯ ಮೂಲಕ ಕ್ಷ-ಕಿರಣಗಳನ್ನು ಹಾದು ಹೋಗಲು ಬಿಡುವುದು
- (2) ಬೇರಿಯಂ ಕ್ಷ-ಕಿರಣಗಳನ್ನು ಉತ್ತಮವಾಗಿ ಹೀರಿಕೊಳ್ಳಬಲ್ಲದು ಮತ್ತು ಹೀಗಾಗಿ ಅದು ಚಿತ್ರದಲ್ಲಿ ಹೊಟ್ಟೆಯನ್ನು ಇತರೆ ಭಾಗಗಳಿಗಿಂತ ಸ್ಪಷ್ಟವಾಗಿ ಕಾಣುವಂತೆ ಮಾಡುವಲ್ಲಿ ನೆರವಾಗುವಂತೆ ಮಾಡುವುದು
- (3) ಬೇರಿಯಂ ಸಂಯುಕ್ತವು ಕ್ಷ-ಕಿರಣದ ಪರೀಕ್ಷೆಗೆ ಮುನ್ನ ಹೊಟ್ಟೆಯನ್ನು ಶುದ್ಧಗೊಳಿಸುವಲ್ಲಿ ನೆರವಾಗುವುದು
- (4) ಬೇರಿಯಂ ಉಪ್ಪು ಬಣ್ಣದಲ್ಲಿ ಬಿಳಿಯಾಗಿರುತ್ತದೆ ಮತ್ತು ಚಿತ್ರದಲ್ಲಿ ಇತರೆ ಪ್ರದೇಶಗಳಿಗಿಂತ ವಿರುದ್ಧವಾಗಿ ಹೊಟ್ಟೆಯನ್ನು ಸ್ಪಷ್ಟವಾಗಿ ಕಾಣುವಂತೆ ಮಾಡುವಲ್ಲಿ ನೆರವಾಗುವುದು

36. Consider the following statements about WTO :

- A. Its headquarters is located at Geneva, Switzerland.
- B. It was established on 1st January, 1995.
- C. It was created by Uruguay Round of multilateral trade negotiations spanning from 1986 to 1994.

Which of the above statements are correct ?

Select the code for the correct answer from the options given below :

- (1) A and B only
- (2) A and C only
- (3) B and C only
- (4) A, B and C

37. When the source and the listener move in the same direction with a speed equal to half of the speed of sound, the change in frequency of the sound is

- (1) Zero
- (2) 25%
- (3) 50%
- (4) 75%

38. Orbital lifetime of the satellite in space depends on

- (1) Solar panels used in the satellite
- (2) Strength of the components of the satellite
- (3) The amount of fuel in the satellite
- (4) The orbit it is placed in

39. Consider the following statements :

Glass can be etched or scratched by

- A. Diamond
- B. Hydrofluoric acid
- C. Aqua regia
- D. Concentrated Sulphuric acid

Which of the above are correct ?

Select the code for the correct answer from the options given below :

- (1) A and D only
- (2) B and C only
- (3) A and B only
- (4) B and D only

40. Barium in a suitable form is administered to patients before an X-ray examination of the stomach, because

- (1) Barium allows X-rays to pass through the stomach on account of its transparency to X-rays
- (2) Barium is a good absorber of X-rays and thus helps the stomach to appear clearly in contrast with other regions in the picture
- (3) Barium compound helps in cleaning the stomach before X-ray examination
- (4) Barium salts are white in colour and this helps the stomach to appear clear in contrast with other regions in the picture

41. ಪಟ್ಟಿ I (ಕ್ರಾಂತಿಗಳು) ನ್ನು ಮತ್ತು ಪಟ್ಟಿ II (ಕ್ಷೇತ್ರಗಳೊಡನೆ) ಗಳನ್ನು ಹೊಂದಿಸಿ :

ಪಟ್ಟಿ I (ಕ್ರಾಂತಿ)	ಪಟ್ಟಿ II (ಕ್ಷೇತ್ರ)
----------------------	-----------------------

- | | |
|-------------------|-------------------|
| A. ಶ್ವೇತ ಕ್ರಾಂತಿ | I. ಮೀನುಗಾರಿಕೆ |
| B. ನೀಲಿ ಕ್ರಾಂತಿ | II. ಹಣ್ಣುಗಳು |
| C. ಸುವರ್ಣ ಕ್ರಾಂತಿ | III. ಎಣ್ಣೆಕಾಳುಗಳು |
| D. ಹಳದಿ ಕ್ರಾಂತಿ | IV. ಹಾಲು |

ಸಂಕೇತಗಳ ಸಹಾಯದಿಂದ ಸರಿ ಉತ್ತರಗಳನ್ನು ಆರಿಸಿ :

- | | A | B | C | D |
|-----|-----|----|-----|-----|
| (1) | IV | II | I | III |
| (2) | IV | I | II | III |
| (3) | I | IV | III | II |
| (4) | III | IV | I | II |

42. ಪಟ್ಟಿ I (ವನ್ಯಜೀವಿ ಅಭಯಧಾಮ) ಮತ್ತು ಪಟ್ಟಿ II (ಸ್ಥಳ) ಗಳನ್ನು ಹೊಂದಿಸಿ :

ಪಟ್ಟಿ I (ವನ್ಯಜೀವಿ ಅಭಯಧಾಮ)	ಪಟ್ಟಿ II (ಸ್ಥಳ)
---------------------------------	--------------------

- | | |
|------------------------|----------------|
| A. ಘಾನಾ ಪಕ್ಷಿ ಧಾಮ | I. ನೆಲ್ಸೋರ್ |
| B. ಘಟಪ್ರಭಾ ಪಕ್ಷಿ ಧಾಮ | II. ಭರತಪುರ |
| C. ನೆಲಪಟ್ಟು ಪಕ್ಷಿ ಧಾಮ | III. ಬೆಳಗಾಂ |
| D. ನಲ್‌ಸರೋವರ ಪಕ್ಷಿ ಧಾಮ | IV. ಅಹ್ಮದಾಬಾದ್ |

ಸಂಕೇತಗಳ ಸಹಾಯದಿಂದ ಸರಿ ಉತ್ತರಗಳನ್ನು ಆರಿಸಿ :

- | | A | B | C | D |
|-----|-----|-----|----|----|
| (1) | II | III | IV | I |
| (2) | II | III | I | IV |
| (3) | III | II | I | IV |
| (4) | III | II | IV | I |

43. ABCDE ಎಂಬ ಐದು ಪುಸ್ತಕಗಳಿದೆ, ಇವುಗಳನ್ನು ಕೆಳಗಿನಂತಿಡಲಾಗಿದೆ :

- C ಪುಸ್ತಕವು D ಯ ಮೇಲಿದೆ.
- E ಪುಸ್ತಕವು A ಯ ಕೆಳಗಿದೆ.
- D ಪುಸ್ತಕವು A ಯ ಮೇಲಿದೆ.
- B ಪುಸ್ತಕವು E ಯ ಕೆಳಗಿದೆ.

ಈ ಕೆಳಗಿನ ಯಾವ ಪುಸ್ತಕವು ತಳದಲ್ಲಿದೆ ?

- (1) E
- (2) B
- (3) A
- (4) C

44. m ಮತ್ತು n ಗಳ ಮೌಲ್ಯವೇನು ?

- A. $3n + 2m = 18$
- B. $n - m = 2n - (n + m)$

ಪ್ರಶ್ನೆಗೆ ಉತ್ತರಿಸಲು ಮೇಲಿನ ಹೇಳಿಕೆಗಳಲ್ಲಿ ಯಾವುದು ಸಾಕಷ್ಟು ದತ್ತಾಂಶವನ್ನು ಹೊಂದಿದೆ ?

ಕೆಳಗೆ ನೀಡಿರುವ ಆಯ್ಕೆಗಳಿಂದ ಸರಿಯಾದ ಉತ್ತರಕ್ಕಾಗಿ ಸಂಕೇತವನ್ನಾರಿಸಿ :

- (1) ಪ್ರಶ್ನೆಗೆ ಉತ್ತರಿಸಲು ಕೇವಲ A ಹೇಳಿಕೆಯಲ್ಲಿನ ದತ್ತಾಂಶವೊಂದೇ ಸಾಕು.
- (2) ಹೇಳಿಕೆ B ನಲ್ಲಿರುವ ಮಾಹಿತಿಯೊಂದೇ ಪ್ರಶ್ನೆಗೆ ಉತ್ತರಿಸಲು ಸಾಕಾಗುತ್ತದೆ.
- (3) ಪ್ರಶ್ನೆಗಳಿಗೆ ಉತ್ತರಿಸಲು ಹೇಳಿಕೆಗಳಾದ A ಮತ್ತು B ಗಳೆರಡರಲ್ಲಿ ನೀಡಲಾದ ಒಟ್ಟು ಮಾಹಿತಿಯು ಸಾಕಾಗುವುದಿಲ್ಲ.
- (4) ಪ್ರಶ್ನೆಗಳಿಗೆ ಉತ್ತರಿಸಲು ಹೇಳಿಕೆಗಳಾದ A ಮತ್ತು B ಗಳೆರಡರಲ್ಲಿನ ಒಟ್ಟು ಮಾಹಿತಿಯು ಅವಶ್ಯಕವಾಗಿದೆ.

41. Match List I (Revolutions) with List II (Fields) :

<i>List I</i> (Revolutions)	<i>List II</i> (Fields)
A. White Revolution	I. Fisheries
B. Blue Revolution	II. Fruits
C. Golden Revolution	III. Oil seeds
D. Yellow Revolution	IV. Milk

Select the code for the correct answer from the options given below :

	A	B	C	D
(1)	IV	II	I	III
(2)	IV	I	II	III
(3)	I	IV	III	II
(4)	III	IV	I	II

42. Match List I (Wildlife Sancturaries) with List II (Places) :

<i>List I</i> (Wildlife Sanctuary)	<i>List II</i> (Place)
A. Ghana Bird Sanctuary	I. Nellore
B. Ghatprabha Bird Sanctuary	II. Bharatpur
C. Nelapattu Bird Sanctuary	III. Belgaum
D. Nalsarovar Bird Sanctuary	IV. Ahmedabad

Select the code for the correct answer from the options given below :

	A	B	C	D
(1)	II	III	IV	I
(2)	II	III	I	IV
(3)	III	II	I	IV
(4)	III	II	IV	I

43. There are five books ABCDE placed in the following way :

Book C is above D.
Book E is below A.
Book D is above A.
Book B is below E.

Which of the following books is at the bottom ?

- (1) E
(2) B
(3) A
(4) C

44. What is the value of m and n ?

- A. $3n + 2m = 18$
B. $n - m = 2n - (n + m)$

Which of the above statements contain sufficient data to answer the question ?

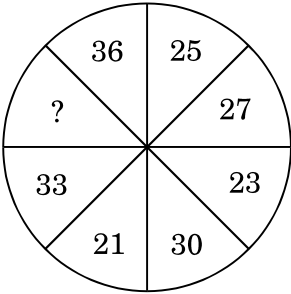
Select the code for the correct answer from the options given below :

- (1) The data in Statement A alone is sufficient to answer the question.
(2) The data in Statement B alone is sufficient to answer the question.
(3) The data given in both Statements A and B together is not sufficient to answer the question.
(4) The data in both Statements A and B together is necessary to answer the question.

45. ಮಿಥುನ್ ಅವನ ಅಂಗಡಿಯಿಂದ 10 ಮೀ ಪ್ರಯಾಣಿಸುತ್ತಾನೆ ಮತ್ತು ಎಡಕ್ಕೆ ತಿರುಗುತ್ತಾನೆ ನಂತರ ಕ್ರಾಸಿಂಗ್‌ನಿಂದ ಬಲಕ್ಕೆ ತಿರುಗುತ್ತಾನೆ ನಿರ್ದಿಷ್ಟ ದೂರವನ್ನು ಕ್ರಮಿಸಿದ ನಂತರ, ಎಡಕ್ಕೆ ತಿರುಗುತ್ತಾನೆ ಮತ್ತು ಸ್ವಲ್ಪ ದೂರದ ನಂತರ ಪುನಃ ಎಡಕ್ಕೆ ತಿರುಗುತ್ತಾನೆ. ಅಂತಿಮವಾಗಿ ಬಲಕ್ಕೆ ತಿರುಗುತ್ತಾನೆ. ಅಂತ್ಯ ಸ್ಥಿತಿಯಲ್ಲಿ ಅವನು ಉತ್ತರ ದಿಕ್ಕಿಗೆ ಮುಖ ಮಾಡಿದ್ದಾನೆ, ಹಾಗಿದ್ದಲ್ಲಿ ಆತನು ಅಂಗಡಿಯಿಂದ ಹೊರ ಬರುವಾಗ ಯಾವ ದಿಕ್ಕಿಗೆ ಮುಖ ಮಾಡಿದ್ದನು ?

- (1) ಪೂರ್ವ
- (2) ಪಶ್ಚಿಮ
- (3) ಉತ್ತರ
- (4) ದಕ್ಷಿಣ

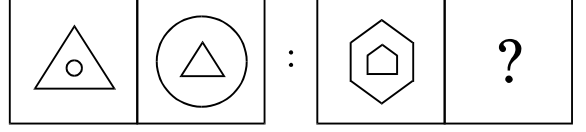
46. ಈ ಕೆಳಗಿನ ಚಿತ್ರದಲ್ಲಿನ ಬಿಟ್ಟು ಹೋಗಿರುವ ಸಂಖ್ಯೆಯನ್ನು ಹುಡುಕಿ :



- (1) 19
- (2) 22
- (3) 32
- (4) 38

47. ಈ ಕೆಳಗಿನ ಸಮಸ್ಯೆಯ ಚಿತ್ರದಲ್ಲಿ ಪ್ರಶ್ನಾರ್ಥಕ ಚಿಹ್ನೆಯುಳ್ಳ (?) ಸ್ಥಳಕ್ಕೆ ಹೊಂದಿಕೆಯಾಗಬಲ್ಲ ಸರಿ ಚಿತ್ರವನ್ನು ಉತ್ತರದ ಚಿತ್ರಗಳಿಂದ ಆರಿಸಿ.

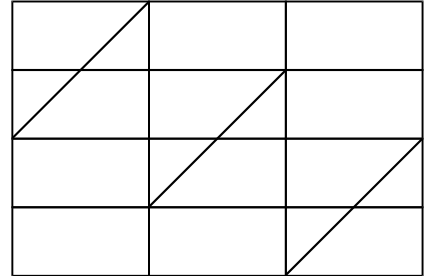
ಪ್ರಶ್ನೆ ಚಿತ್ರ :



ಸರಿಯಾದ ಆಯ್ಕೆಯನ್ನು ಆರಿಸಿ :

- (1)
- (2)
- (3)
- (4)

48. ಈ ಕೆಳಗಿನ ಚಿತ್ರದಲ್ಲಿ ಎಷ್ಟು ತ್ರಿಕೋನಗಳಿವೆ ?

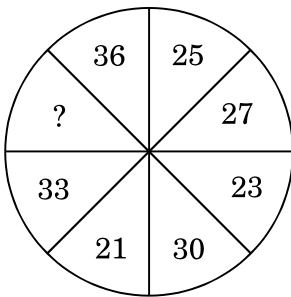


- (1) 10
- (2) 14
- (3) 12
- (4) 11

45. Mithun travels 10 m from his shop and then turns to left. After that he turns to right from the crossing. After moving certain yards, he turns to left and again turns to left after moving some distance. Finally he turns to right. If at final position he was facing North direction, then which direction he was facing while coming out of his shop ?

- (1) East
- (2) West
- (3) North
- (4) South

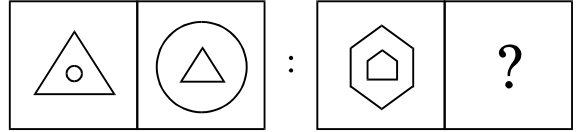
46. Find the missing number.



- (1) 19
- (2) 22
- (3) 32
- (4) 38

47. Find the correct figure from the answer figures that will replace the question mark (?) in the question figure.

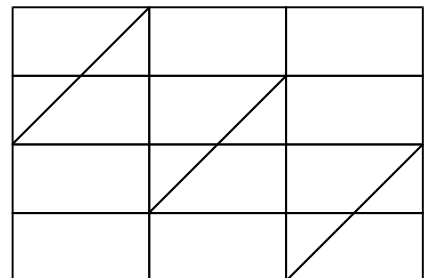
Question figure :



Select the correct option :

- (1)
- (2)
- (3)
- (4)

48. How many triangles are there in the following figure ?



- (1) 10
- (2) 14
- (3) 12
- (4) 11

49. ಈ ಕೆಳಗಿನ ಪ್ರಶ್ನೆಯಲ್ಲಿ, ಒಂದು ಹೇಳಿಕೆಯನ್ನು, A ಮತ್ತು B ಎಂಬ ಎರಡು ಊಹನೆಗಳು ಅನುಸರಿಸುತ್ತವೆ. ನೀವು ಹೇಳಿಕೆಯನ್ನು ಮತ್ತು ಅದನ್ನು ಅನುಸರಿಸುವ ಊಹನೆಗಳನ್ನು ಪರಿಗಣಿಸಬೇಕು ಮತ್ತು ಯಾವ ಊಹನೆಯು/ಗಳು ಹೇಳಿಕೆಯಲ್ಲಿ ಧ್ವನಿಸುತ್ತದೆ/ವೆ ಎಂಬುದನ್ನು ನಿರ್ಧರಿಸಿ.

ಹೇಳಿಕೆ : ಅರವಿಂದ್‌ನು ಜುಲೈನಲ್ಲಿ ಕೋಲ್ಕತ್ತಾಕ್ಕೆ ಕೈಗೊಳ್ಳಬೇಕಾದ ಪ್ರಯಾಣಕ್ಕಾಗಿ ಮೇ ತಿಂಗಳಿನಲ್ಲಿ ರೈಲು ಕಾಯ್ದಿರಿಸುವಿಕೆಯನ್ನು ಮಾಡಲು ತೀರ್ಮಾನಿಸಿದ್ದಾನೆ.

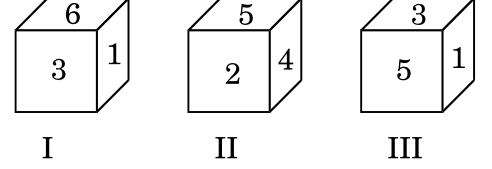
ಊಹನೆಗಳು :

- A. ರೈಲ್ವೆಯವರು ಕನಿಷ್ಠ ಎರಡು ತಿಂಗಳು ಮುಂಚಿತವಾಗಿಯೇ ಕಾಯ್ದಿರಿಸುವಿಕೆಯನ್ನು ಪ್ರಾರಂಭಿಸಿದ್ದಾರೆ.
- B. ಅಹಮದಾಬಾದ್‌ಗೆ ಒಂದಕ್ಕಿಂತಲೂ ಹೆಚ್ಚು ರೈಲುಗಳಿವೆ.
- C. ಸದಾ ಅಪೇಕ್ಷಿತ ದರ್ಜೆಯಲ್ಲಿ ಲಭ್ಯತೆಯು ಇರುತ್ತದೆ.

ನೀಡಿರುವ ಆಯ್ಕೆಗಳಲ್ಲಿ ಸರಿಯಾದ ಉತ್ತರಕ್ಕಾಗಿ ಸಂಕೇತವನ್ನಾರಿಸಿ :

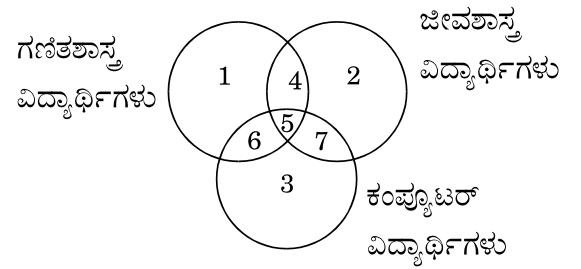
- (1) B ಮತ್ತು C ಊಹನೆಗಳು ಮಾತ್ರ ಧ್ವನಿಸುತ್ತವೆ
- (2) A ಊಹನೆ ಮಾತ್ರ ಧ್ವನಿಸುತ್ತದೆ
- (3) A ಮತ್ತು B ಊಹನೆಗಳು ಮಾತ್ರ ಧ್ವನಿಸುತ್ತವೆ
- (4) C ಊಹನೆ ಮಾತ್ರ ಧ್ವನಿಸುತ್ತದೆ

50. ನೀಡಿರುವ ಏಕ ದಾಳದ 3 ಸ್ಥಿತಿಗಳಲ್ಲಿ, 3 ರ ಸಂಖ್ಯೆಯನ್ನುಳ್ಳ ಮುಖಕ್ಕೆ ವಿರುದ್ಧವಾಗಿರುವ ಮುಖದಲ್ಲಿನ ಸಂಖ್ಯೆಯನ್ನು ಕಂಡು ಹಿಡಿಯಿರಿ.



- (1) 2
- (2) 4
- (3) 5
- (4) 6

51. ಜೀವಶಾಸ್ತ್ರ ಮತ್ತು ಕಂಪ್ಯೂಟರ್‌ನ್ನು ಅಭ್ಯಸಿಸುವ ಅದರೆ ಗಣಿತವನ್ನು ಅಭ್ಯಸಿಸದ ವಿದ್ಯಾರ್ಥಿಗಳನ್ನು ಪ್ರತಿನಿಧಿಸುವ ಪ್ರದೇಶವನ್ನು ಗುರುತಿಸಿ.



- (1) 6
- (2) 2
- (3) 7
- (4) 4

49. In the question, a statement is followed by two assumptions A and B. You have to consider the statement and the following assumptions and decide which of the assumptions is/are implicit in the statement.

Statement : Arvind decided to get his railway reservation done in the month of May for the journey he wants to undertake in July to Kolkata.

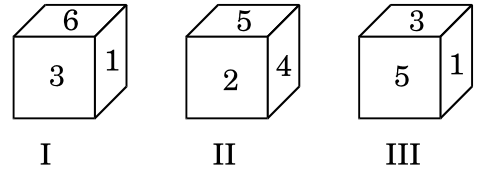
Assumptions :

- A. The railways open reservation at least two months in advance.
- B. There is more than one train to Ahmedabad.
- C. There will always be availability in the desired class.

Select the code for the correct answer from the options given below :

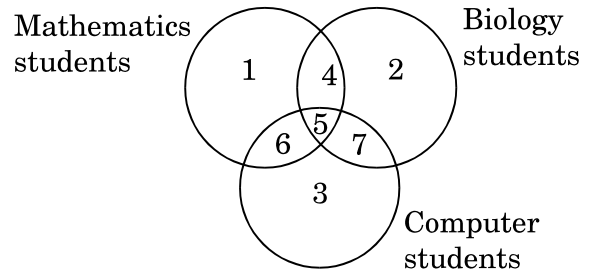
- (1) Only Assumptions B and C are implicit
- (2) Only Assumption A is implicit
- (3) Only Assumptions A and B are implicit
- (4) Only Assumption C is implicit

50. From the given 3 positions of a single dice, find the digit at the face opposite to the face having digit 3.



- (1) 2
- (2) 4
- (3) 5
- (4) 6

51. Identify the region that represents the students who study Biology and Computer but not Mathematics.



- (1) 6
- (2) 2
- (3) 7
- (4) 4

52. ಕೆಳಗಿನ ಹೇಳಿಕೆಗಳನ್ನು ಪರಿಗಣಿಸಿ :

- A. ರೇಸ್‌ನಲ್ಲಿ ವಿದ್ಯಾರ್ಥಿಗಳು ಮಾತ್ರ ಭಾಗವಹಿಸಬಹುದು.
- B. ರೇಸ್‌ನಲ್ಲಿ ಭಾಗವಹಿಸುವವರಲ್ಲಿ ಕೆಲವರು ಹುಡುಗಿಯರು.
- C. ರೇಸ್‌ನಲ್ಲಿ ಭಾಗವಹಿಸುವ ಎಲ್ಲಾ ಹುಡುಗಿಯರೂ ಕೋಚಿಂಗ್‌ಗೆ ಆಹ್ವಾನಿಸಲ್ಪಟ್ಟಿದ್ದಾರೆ.

ಮೇಲಿನ ಹೇಳಿಕೆಗಳ ಸಹಾಯದಿಂದ ಕೆಳಗಿನ ಯಾವ ತೀರ್ಮಾನವನ್ನು ಕೈಗೊಳ್ಳಬಹುದಾಗಿದೆ ?

- (1) ರೇಸ್‌ನಲ್ಲಿ ಭಾಗವಹಿಸುವವರೆಲ್ಲರನ್ನೂ ಕೋಚಿಂಗ್‌ಗೆ ಆಹ್ವಾನಿಸಲಾಗಿದೆ
- (2) ಎಲ್ಲಾ ವಿದ್ಯಾರ್ಥಿಗಳನ್ನು ಕೋಚಿಂಗ್‌ಗೆ ಆಹ್ವಾನಿಸಲಾಗಿದೆ
- (3) ರೇಸ್‌ನಲ್ಲಿ ಭಾಗವಹಿಸುವವರೆಲ್ಲರೂ ವಿದ್ಯಾರ್ಥಿಗಳು
- (4) ಮೇಲಿನ ಯಾವುದೂ ಅಲ್ಲ


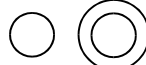
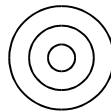
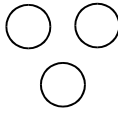
53. ಭದ್ರಾವತಿ ಸಮೀಪದ ಕೆಮ್ಮಣ್ಣುಗುಂಡಿ ಗಣಿಯಿಂದ ಅನುಕೂಲವನ್ನು ಪಡೆದಿರುವ ಕೈಗಾರಿಕೆಯು

- (1) ಟಾಟಾ ಕಬ್ಬಿಣ ಮತ್ತು ಉಕ್ಕು
- (2) ವಿಶ್ವೇಶ್ವರಯ್ಯ ಕಬ್ಬಿಣ ಮತ್ತು ಉಕ್ಕು
- (3) ಭಾರತೀಯ ಕಬ್ಬಿಣ ಮತ್ತು ಉಕ್ಕು ಕಂಪನಿ
- (4) ವಿಜಯನಗರ ಉಕ್ಕು ಸ್ಥಾವರ

54. ಈಗಿನ ವಿಶ್ವರಾಷ್ಟ್ರ ಸಂಸ್ಥೆಯ ಮಹಾಕಾರ್ಯದರ್ಶಿ ಆಂಟೋನಿಯೋ ಗೂಟ್ರಿಸ್ ಇವರು ಈ ಹಿಂದೆ ಯಾವ ದೇಶದ ಪ್ರಧಾನಿ ಆಗಿದ್ದರು ?

- (1) ಬ್ರೆಜಿಲ್
- (2) ಅರ್ಜೆಂಟೀನಾ
- (3) ಪೋರ್ಚುಗಲ್
- (4) ಬೆಲ್ಜಿಯಂ

55. ಈ ಕೆಳಗಿನ ವೆನ್ ನಕ್ಷೆಗಳಲ್ಲಿ ಯಾವುದು, ಮಹಿಳೆಯರು, ಪ್ರತಿಯರು ಮತ್ತು ತಾಯಂದಿರ ಸಂಬಂಧವನ್ನು ಸರಿಯಾಗಿ ಪ್ರತಿನಿಧಿಸುತ್ತದೆ ?

- (1) 
- (2) 
- (3) 
- (4) 

56. ಒಂದು ಕೆಲಸವನ್ನು 5 ದಿನಗಳಲ್ಲಿ A ಯು ಮಾಡಬಲ್ಲ B ಯು 6 ದಿನಗಳಲ್ಲಿ ಮಾಡಬಲ್ಲ ಇಬ್ಬರೂ ಒಟ್ಟಿಗೇ ಕೆಲಸ ಮಾಡಿದಲ್ಲಿ ಅವರು ಎಷ್ಟು ದಿನಗಳನ್ನು ತೆಗೆದುಕೊಳ್ಳುವರು ?

- (1) $2\frac{8}{10}$ ದಿನಗಳು
- (2) $2\frac{8}{7}$ ದಿನಗಳು
- (3) $2\frac{8}{11}$ ದಿನಗಳು
- (4) $2\frac{8}{13}$ ದಿನಗಳು

52. Consider the following statements :

- A. Only students can participate in the race.
- B. Some participants in the race are girls.
- C. All girls participating in the race are invited for coaching.

Which one of the following conclusions can be drawn from the above statements ?

- (1) All participants in the race are invited for coaching
- (2) All students are invited for coaching
- (3) All participants in the race are students
- (4) None of the above

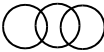
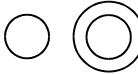
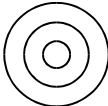
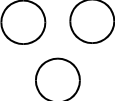
53. Industry which is benefitted by the Kemmanagundi mines near Bhadravathi is

- (1) Tata Iron and Steel
- (2) Visvesvaraya Iron and Steel
- (3) Indian Iron and Steel Company
- (4) Vijayanagar Steel Plant

54. The present Secretary-General of the UNO, Antonio Guterres was the former Prime Minister of which of the following countries ?

- (1) Brazil
- (2) Argentina
- (3) Portugal
- (4) Belgium

55. Which one of the following Venn diagrams correctly represents the relationship among Women, Daughters and Mothers ?

- (1) 
- (2) 
- (3) 
- (4) 

56. A can do a piece of work in 5 days. B can do it in 6 days. How long will they take if both of them work together ?

- (1) $2\frac{8}{10}$ days
- (2) $2\frac{8}{7}$ days
- (3) $2\frac{8}{11}$ days
- (4) $2\frac{8}{13}$ days

57. ಈ ಕೆಳಗಿನ ಸಮೀಕರಣವನ್ನು ಸರಿ ಮಾಡಲು ಯಾವ ಎರಡು ಚಿಹ್ನೆಗಳನ್ನು ಅದಲು ಬದಲುಗೊಳಿಸಬೇಕು ?

$$7 + 4 \times 8 - 16 \div 4 = 5$$

- (1) - ಮತ್ತು ÷
 (2) + ಮತ್ತು ×
 (3) + ಮತ್ತು ÷
 (4) + ಮತ್ತು -

58. ಒಬ್ಬ ರೈತನ ಮನೆಯಲ್ಲಿ ಕೋಳಿಗಳು ಮತ್ತು ಹಸುಗಳಿವೆ. ಒಟ್ಟು ಕೋಳಿಗಳು ಮತ್ತು ಹಸುಗಳ ಸಂಖ್ಯೆಯು 200. ಒಟ್ಟು ಕಾಲುಗಳನ್ನೆಣಿಸಿದಾಗ ಎಣಿಕೆಯು 580 ಆಗುತ್ತದೆ. ಹಾಗಿದ್ದಲ್ಲಿ ರೈತನ ಮನೆಯಲ್ಲಿರತಕ್ಕ ಹಸುಗಳ ಸಂಖ್ಯೆ ಎಷ್ಟು ?

- (1) 200
 (2) 110
 (3) 180
 (4) 90

59. ಒಂದು ರೈಲು 40 ಸೆಕೆಂಡುಗಳಲ್ಲಿ ಒಂದು ನಿಲ್ದಾಣ ಪ್ಲಾಟ್‌ಫಾರಂನ್ನು ಮತ್ತು 28 ಸೆಕೆಂಡುಗಳಲ್ಲಿ ಪ್ಲಾಟ್‌ಫಾರಂನ ಮೇಲೆ ನಿಂತಿರುವ ಮನುಷ್ಯನನ್ನು ಹಾದು ಹೋಗುತ್ತದೆ. ಆ ರೈಲಿನ ವೇಗವು 72 ಕಿ.ಮೀ. / ಘಂಟೆಗೆ ಇದ್ದಲ್ಲಿ ಪ್ಲಾಟ್‌ಫಾರಂನ ಉದ್ದವೆಷ್ಟು ?

- (1) 140 ಮೀ.ಗಳು
 (2) 400 ಮೀ.ಗಳು
 (3) 240 ಮೀ.ಗಳು
 (4) 120 ಮೀ.ಗಳು

60. ಪಟ್ಟಿ I (ಪುಸ್ತಕಗಳೊಂದಿಗೆ) ಮತ್ತು ಪಟ್ಟಿ II (ಲೇಖಕರು) ಗಳನ್ನು ಹೊಂದಿಸಿ :

ಪಟ್ಟಿ I
(ಪುಸ್ತಕಗಳು)

ಪಟ್ಟಿ II
(ಲೇಖಕರು)

- | | |
|-------------------|--------------|
| A. ಮೇಘದೂತ್ | I. ದಂಡಿ |
| B. ಕಿರಾತಾರ್ಜುನೀಯಂ | II. ಭಾರವಿ |
| C. ಕಾವ್ಯಾದರ್ಶ | III. ಕಾಳಿದಾಸ |
| D. ನೀತಿಶತಕಂ | IV. ಭರ್ತೃಹರಿ |

ಸಂಕೇತಗಳ ಸಹಾಯದಿಂದ ಸರಿ ಉತ್ತರಗಳನ್ನು ಆರಿಸಿ :

- | | A | B | C | D |
|-----|-----|----|-----|-----|
| (1) | II | I | IV | III |
| (2) | IV | II | III | I |
| (3) | III | II | IV | I |
| (4) | III | II | I | IV |

61. ಈ ಕೆಳಗಿನ ಯಾವ ಚಳುವಳಿಗಳಲ್ಲಿ ತನ್ನ ನಾಯಕತ್ವಕ್ಕಾಗಿ ವಲ್ಲಭಭಾಯಿ ಪಟೇಲರು ಸರ್ದಾರ್ ಎಂಬ ಬಿರುದನ್ನು ಗಳಿಸಿದರು ?

- (1) ಬಾರ್ಡೋಲಿ ಸತ್ಯಾಗ್ರಹ
 (2) ಚಂಪಾರಣ್ ಸತ್ಯಾಗ್ರಹ
 (3) ಖಿಲಾಫತ್ ಚಳುವಳಿ
 (4) ಕ್ವಿಟ್ ಇಂಡಿಯಾ ಚಳುವಳಿ

57. Which two signs are to be interchanged for making the following equation correct ?

$$7 + 4 \times 8 - 16 \div 4 = 5$$

- (1) – and \div
- (2) + and \times
- (3) + and \div
- (4) + and –

58. In a farmer's house there are hens and cows. The total number of hens and cows is 200. When total legs are counted, it comes to 580. What is the number of cows in his house ?

- (1) 200
- (2) 110
- (3) 180
- (4) 90

59. A train passes a station platform in 40 seconds and a man standing on the platform in 28 seconds. If the speed of the train is 72 km/hour, what is the length of the platform ?

- (1) 140 metres
- (2) 400 metres
- (3) 240 metres
- (4) 120 metres

60. Match List I (Books) with List II (Author) :

<i>List I</i> (Book)	<i>List II</i> (Author)
A. Meghadoot	I. Dandi
B. Kiratarjuniyam	II. Bharavi
C. Kvyadarsha	III. Kalidasa
D. Nitishatakam	IV. Bhartrihari

Select the code for the correct answer from the options given below :

	A	B	C	D
(1)	II	I	IV	III
(2)	IV	II	III	I
(3)	III	II	IV	I
(4)	III	II	I	IV

61. For his leadership, in which of the following movements, was Vallabhbai Patel bestowed the title of Sardar ?

- (1) Bardoli Satyagraha
- (2) Champaran Satyagraha
- (3) Khilafat Movement
- (4) Quit India Movement

62. ಖಿಲಾಫತ್ ಚಳುವಳಿಗೆ ಹಿಂದೂಗಳು ಮತ್ತು ಮುಸ್ಲಿಮರು ಇಬ್ಬರದೂ ಬೆಂಬಲ ದೊರೆಯಿತು ಮತ್ತು ಅದು ಗಾಂಧೀಜಿಯವರ ನಾಯಕತ್ವದಲ್ಲಿ ಮುನ್ನಡೆಯಲ್ಪಟ್ಟಿತು. ಇದರ ಹೊರತಾಗಿಯೂ ಚಳುವಳಿಯು ತೀವ್ರತೆಯನ್ನು ಕಳೆದುಕೊಂಡಿತು. ಏಕೆ ?

- (1) ಖಿಲಾಫತ್ ಅಧಿಕಾರವು ಟರ್ಕಿಯಲ್ಲಿಯೇ ಅಂತ್ಯಗೊಂಡಿದ್ದು ಮತ್ತು ಟರ್ಕಿಗೆ ಉತ್ತಮ (ನಿಬಂಧನೆ) ಪರಿಮಿತಿಗಳನ್ನು ನೀಡಲಾಯಿತು.
- (2) ಭಾರತೀಯ ರಾಷ್ಟ್ರೀಯ ಕಾಂಗ್ರೆಸ್‌ಗೆ ಮುಸ್ಲಿಂ ಲೀಗ್‌ನ ವಿರೋಧ.
- (3) ಬ್ರಿಟಿಷ್ ಸರ್ಕಾರದಿಂದ ಮುಸ್ಲಿಂರಿಗೆ ವಿಶೇಷ ರಿಯಾಯತಿಗಳು ನೀಡಲ್ಪಟ್ಟಿದ್ದು.
- (4) ಕಾಂಗ್ರೆಸ್ ಮತ್ತು ಮುಸ್ಲಿಂ ಲೀಗ್ ನಡುವಣ ಆಂತರಿಕ ಘರ್ಷಣೆಗಳು.

63. ಕೆಳಗಿನವುಗಳಲ್ಲಿ ಯಾವ ಜೀವಗೋಳವು ಅತಿ ಹೆಚ್ಚಿನ ಸಂಖ್ಯೆಯ ಏಷಿಯನ್ ಆನೆಗಳನ್ನು ಹೊಂದಿದೆ ?

- (1) ನೀಲಗಿರೀಸ್
- (2) ನಾಗರಹೊಳೆ
- (3) ಕುದುರೆಮುಖ
- (4) ಬನ್ನೇರುಘಟ್ಟ

64. ಇತ್ತೀಚೆಗೆ ಈ ಕೆಳಗಿನ ಯಾವ ದೇಶವು ಮೊದಲಿಗೆ ಸಾರ್ಕ್ ಕೃಷಿ ಸಹಕಾರ ವಹಿವಾಟು ಪೋರನ ಆತಿಥೇಯವಾಯಿತು ?

- (1) ನೇಪಾಲ್
- (2) ಆಫ್ಘಾನಿಸ್ತಾನ
- (3) ಶ್ರೀ ಲಂಕಾ
- (4) ಭಾರತ

65. ಈ ಕೆಳಗಿನ ಯಾವ ದಿನಾಂಕದಂದು ವನ್ಯಪಾಲಕರು ಗ್ರಹಗಳ ನೈಸರ್ಗಿಕ ಸಂಪತ್ತು ಮತ್ತು ಸಾಂಸ್ಕೃತಿಕ ಪರಂಪರೆಯನ್ನು ರಕ್ಷಿಸಲೋಸುಗ, ವಿಶ್ವ ವನ್ಯಪಾಲಕರ ದಿನವನ್ನು ಆಚರಿಸಲಾಗುತ್ತದೆ ?

- (1) 31 ನೇ ಜುಲೈ
- (2) 25 ನೇ ಆಗಸ್ಟ್
- (3) 20 ನೇ ಸೆಪ್ಟೆಂಬರ್
- (4) 15 ನೇ ಮಾರ್ಚ್

66. 2018 ರ ಅಂತರರಾಷ್ಟ್ರೀಯ ಬೌದ್ಧ ಸಭೆಯು 23 ರ ಆಗಸ್ಟ್‌ರಂದು ನವದೆಹಲಿಯಲ್ಲಿ ಗೌರವಾನ್ವಿತ ಭಾರತದ ರಾಷ್ಟ್ರಪತಿಯವರಿಂದ ಉದ್ಘಾಟನೆಗೊಂಡಿತು ಇದರಲ್ಲಿ ಸಹಭಾಗಿಯಾದ ದೇಶ ಈ ಕೆಳಗಿನವುಗಳಲ್ಲಿ ಯಾವುದು ?

- (1) ಜಪಾನ್
- (2) ದಕ್ಷಿಣ ಕೊರಿಯಾ
- (3) ಚೀನಾ
- (4) ಈ ಮೇಲಿನ ಎಲ್ಲವೂ

67. ಭಾರತದ ಅಂತರರಾಷ್ಟ್ರೀಯ ಆಮೆಸ್ಲಿ ಪ್ರಾರಂಭಿಸಿದ ಯಾವ ಆಂದೋಲನವು ಮಕ್ಕಳಲ್ಲಿ ಜಾಗೃತಿ ಮೂಡಿಸಿ, ಅವರು ಲೈಂಗಿಕ ದೌರ್ಜನ್ಯವನ್ನು ಗುರುತಿಸಲು ಮತ್ತು ಅರ್ಥ ಮಾಡಿಕೊಳ್ಳಲು ಹಾಗೂ ನಿರ್ಭಯವಾಗಿ ಇದನ್ನು ಕುರಿತು ಮತ್ತು ಮಾತನಾಡಲು ಮತ್ತು ಅದರ ಬಗ್ಗೆ ವರದಿ ಮಾಡಿಕೊಳ್ಳುವಂತೆ ಮಾಡಲು ನೆರವಾಯಿತು ?

- (1) ನಮ್ಮ ಸುರಕ್ಷೆ ನಮ್ಮ ಹಕ್ಕುಗಳು
- (2) ಮಗುವು ಮನುಷ್ಯನ ತಂದೆ
- (3) ಮಕ್ಕಳನ್ನು ಉಳಿಸು, ದೇಶವನ್ನು ಉಳಿಸು
- (4) ಭವಿಷ್ಯ ಭಾರತ

62. The Khilafat Movement received support from both Hindus and Muslims and it was led from the front by Gandhiji.

In spite of this, the movement lost momentum. Why ?

- (1) Office of Khalifa was abolished in Turkey itself and better terms offered to Turkey.
- (2) Muslim League's opposition to the Indian National Congress.
- (3) Special concessions given to the Muslims by the British Government.
- (4) Internal frictions between the Congress and the Muslim League.

63. Which of the following biospheres is the house of largest number of Asian elephants ?

- (1) Nilgiris
- (2) Nagarhole
- (3) Kudremukh
- (4) Bannerghatta

64. Which of the following countries hosted the first ever SAARC Agricultural Cooperative Business Forum recently ?

- (1) Nepal
- (2) Afghanistan
- (3) Sri Lanka
- (4) India

65. On which of the following dates is the World Rangers Day observed to celebrate the work rangers do to protect the planet's natural treasures and cultural heritage ?

- (1) 31st July
- (2) 25th August
- (3) 20th September
- (4) 15th March

66. Which of the following countries was the partner country for the 2018 International Buddhist Conclave (IBC) which was inaugurated by Hon'ble President in New Delhi on 23rd August ?

- (1) Japan
- (2) South Korea
- (3) China
- (4) All of the above

67. Which of the following campaigns has been launched by Amnesty International India to create awareness among children to help them understand and identify child sexual abuse and to speak up and report it without fear ?

- (1) Our Safety, Our Rights
- (2) Child is the Father of Man
- (3) Save the Children, Save the Country
- (4) Future India

68. ಒಂದು ಉದ್ದಿಮೆಯು 2018 ರ ಜುಲೈ 31 ರಂದು ಟಾಟಾ ಕನ್ಸಲ್ಟೆನ್ಸಿ ಸೇವೆಗಳ ಮುಂದಿದ್ದು, ಮಾರುಕಟ್ಟೆ ಬಂಡವಾಳೀಕರಣದಿಂದ (m-Cap) ಭಾರತದಲ್ಲಿ ಅತ್ಯಂತ ಮೌಲ್ಯಯುತ ಉದ್ದಿಮೆಯಾಯಿತು. ಇಂತಹ ಗಮನಾರ್ಹ ಸಾಧನೆಗೈದ ಉದ್ದಿಮೆ ಕೆಳಗಿನವುಗಳಲ್ಲಿ ಯಾವುದು ?

- (1) ಇನ್ಫೋಸಿಸ್
- (2) ಐ.ಟಿ.ಸಿ.
- (3) ಆದಿತ್ಯ ಬಿರ್ಲಾ ಗುಂಪು
- (4) ರಿಲಯನ್ಸ್

69. ಈ ಹೇಳಿಕೆಗಳನ್ನು ಪಾಕಿಸ್ತಾನದ ನ್ಯಾಯಾಧೀಶ ತಾಹಿರಾ ಸಫ್ಹಾರ್ಡ್ಗೆ ಸಂಬಂಧಿಸಿದಂತೆ ಪರಿಗಣಿಸಿ :

- A. ಆಕೆ ಪಾಕಿಸ್ತಾನದ ಉಚ್ಚನ್ಯಾಯಾಲಯದ ಮೊದಲ ಮಹಿಳಾ ಮುಖ್ಯ ನ್ಯಾಯಾಧೀಶರಾಗಿ ಪ್ರಮಾಣ ವಚನ ಸ್ವೀಕರಿಸಿದರು.
- B. ಈಕೆಯು ಬಲೂಚಿಸ್ತಾನದ ಉಚ್ಚನ್ಯಾಯಾಲಯದ ಮುಖ್ಯ ನ್ಯಾಯಾಧೀಶರಾಗಿ ಪ್ರಮಾಣವಚನ ಸ್ವೀಕರಿಸಿದ್ದಾರೆ.

ಈ ಮೇಲಿನ ಹೇಳಿಕೆಗಳಲ್ಲಿ ಯಾವುದು /ವು ಸರಿ ?

ನೀಡಿರುವ ಆಯ್ಕೆಗಳಲ್ಲಿ ಸರಿಯಾದ ಉತ್ತರಕ್ಕಾಗಿ ಸಂಕೇತವನ್ನಾರಿಸಿ :

- (1) A ಮಾತ್ರ
- (2) B ಮಾತ್ರ
- (3) A ಮತ್ತು B ಇವೆರಡೂ
- (4) A ಆಗಲೀ ಅಥವಾ B ಆಗಲೀ ಅಲ್ಲ

70. ಎರಡು ವಾರಗಳ ಕಾಲ ಸುದೀರ್ಘ ಜಂಟಿ ಸೇನಾ ಕಾರ್ಯಾಚರಣೆ 'ಮೈತ್ರಿ 2018' ಆಗಸ್ಟ್ 6 ರ 2018 ರಂದು ಪ್ರಾರಂಭವಾಗಿದ್ದು, ಇದು ಭಯೋತ್ಪಾದಕತೆ ವಿರುದ್ಧ ಸಹಕಾರ ಬೆಳೆಸುವ ಕಾರ್ಯ ಕ್ರಮವಾಗಿದ್ದು ಇದನ್ನು ಭಾರತವು ಈ ಕೆಳಗಿನ ಇತರ ಯಾವ ದೇಶದ ಸಹಯೋಗದೊಂದಿಗೆ ಕೈಗೊಂಡಿತು ?

- (1) ಥೈಲ್ಯಾಂಡ್
- (2) ಮಲೇಷಿಯಾ
- (3) ಸಿಂಗಪುರ್
- (4) ಶ್ರೀ ಲಂಕಾ

71. ಅಂತರರಾಷ್ಟ್ರೀಯ ವಾಯುಯಾನ ಶೃಂಗ ಸಭೆ 2018 ಇತ್ತೀಚೆಗೆ ನಡೆದದ್ದು ಎಲ್ಲಿ ?

- (1) ಪುಣೆ
- (2) ಬೆಂಗಳೂರು
- (3) ಹೈದರಾಬಾದ್
- (4) ನವ ದೆಹಲಿ

72. ಏಷ್ಯನ್ ಕ್ರೀಡೆಗಳಲ್ಲಿ ಅತ್ಯಂತ ಅಮೂಲ್ಯ ಆಟಗಾರರೆನಿಸಿದ (MVP) ಮೊದಲ ಮಹಿಳಾ ಆಟಗಾರ್ತಿ ರಿಕಾಕೋ ಐಕೀಯು ಜಕಾರ್ತ ಏಷಿಯನ್ ಕ್ರೀಡೆಗಳು 2018 ರಲ್ಲಿ ಗಳಿಸಿದ ಚಿನ್ನದ ಪದಕಗಳ ಸಂಖ್ಯೆ ಎಷ್ಟು ?

- (1) 4
- (2) 5
- (3) 6
- (4) 7

68. A firm superseded Tata Consultancy Services (TCS) on 31st July, 2018 to become India's most valued firm by market capitalization (m-Cap). Which of the following firms achieved the feat ?

- (1) Infosys
- (2) ITC
- (3) Aditya Birla Group
- (4) Reliance

69. Consider the following statements about Justice Tahira Safdar of Pakistan :

- A. She has been sworn in as the first female High Court Chief Justice in Pakistan.
- B. She has been sworn in as Chief Justice of Balochistan High Court.

Which of the above statements is/are correct ?

Select the code for the correct answer from the options given below :

- (1) A only
- (2) B only
- (3) Both A and B
- (4) Neither A nor B

70. The two week-long joint military exercise 'Maitree 2018' which started on August 6, 2018 with a focus on enhancing anti-terror cooperation was conducted between India and which other country ?

- (1) Thailand
- (2) Malaysia
- (3) Singapore
- (4) Sri Lanka

71. Where was the International Aviation Summit 2018 held recently ?

- (1) Pune
- (2) Bengaluru
- (3) Hyderabad
- (4) New Delhi

72. Rikako Ikee, who has become the first female athlete to become the most valuable player (MVP) at Asian Games, has won how many Gold Medals in Jakarta Asian Games 2018 ?

- (1) 4
- (2) 5
- (3) 6
- (4) 7

73. ಪಟ್ಟಿ I (ಜಲಪಾತಗಳು) ಮತ್ತು ಪಟ್ಟಿ II (ದೇಶಗಳು) ಗಳನ್ನು ಹೊಂದಿಸಿರಿ :

ಪಟ್ಟಿ I (ಜಲಪಾತಗಳು)	ಪಟ್ಟಿ II (ದೇಶಗಳು)
-----------------------	----------------------

- | | |
|-----------------|--------------------|
| A. ಏಂಜೆಲ್ | I. ನಾರ್ವೆ |
| B. ಲ್ಯಾಂಗ್‌ಪೋಸ್ | II. ದಕ್ಷಿಣ ಆಫ್ರಿಕಾ |
| C. ಮುತಾರಾಝಿ | III. ವೆನಿಜೂಲಾ |
| D. ಟಗೇಲಾ | IV. ಜೆಂಬಾಬ್ವೆ |

ಸಂಕೇತಗಳ ಸಹಾಯದಿಂದ ಸರಿ ಉತ್ತರಗಳನ್ನು ಆರಿಸಿ :

	A	B	C	D
(1)	I	III	IV	II
(2)	I	III	II	IV
(3)	III	I	II	IV
(4)	III	I	IV	II

74. ಪಟ್ಟಿ I (ಅಲ್ಯೂಮಿನಿಯಂ ಸ್ಥಾವರ) ಮತ್ತು ಅವು ಇರುವ ಸ್ಥಳ ಪಟ್ಟಿ II (ಸ್ಥಳ) ಗಳನ್ನು ಹೊಂದಿಸಿರಿ :

ಪಟ್ಟಿ I (ಅಲ್ಯೂಮಿನಿಯಂ ಸ್ಥಾವರ)	ಪಟ್ಟಿ II (ಸ್ಥಳ)
---------------------------------	--------------------

- | | |
|-------------|---------------|
| A. BALCO | I. ಮೆಟ್ಟೂರು |
| B. HINDALCO | II. ಹಿರಾಕುಡ್ |
| C. INDAL | III. ರೇಣುಕೋಟ್ |
| D. MALCO | IV. ಕೊರಬಾ |

ಸಂಕೇತಗಳ ಸಹಾಯದಿಂದ ಸರಿ ಉತ್ತರಗಳನ್ನು ಆರಿಸಿ :

	A	B	C	D
(1)	III	IV	I	II
(2)	III	IV	II	I
(3)	IV	III	II	I
(4)	IV	III	I	II

75. ಕೆಳಗಿನ ಯಾವ ಜೋಡಿಯು ಕರ್ನಾಟಕದಲ್ಲಿ “ಥರ್ಮಲ್ ಶಕ್ತಿ ಸ್ಥಾವರ”ದ ಸರಿಯಾದ ನೆಲೆಯನ್ನು ತೋರಿಸುತ್ತದೆ ?

- (1) ರಾಯಚೂರು ಮತ್ತು ಗುಲ್ಬರ್ಗಾ
- (2) ರಾಯಚೂರು ಮತ್ತು ಬಳ್ಳಾರಿ
- (3) ಬಳ್ಳಾರಿ ಮತ್ತು ಚಿತ್ರದುರ್ಗ
- (4) ಬಳ್ಳಾರಿ ಮತ್ತು ಕೋಲಾರ

76. ಕೆಳಗಿನ ಹೇಳಿಕೆಗಳನ್ನು ಪರಿಗಣಿಸಿ :

- A. ಸರ್ವೋಚ್ಚ ನ್ಯಾಯಾಲಯವು ದಾಖಲೆಗಳ ನ್ಯಾಯಾಲಯವಾಗಿದೆ ಮತ್ತು ತನ್ನದೇ ಸ್ವಂತ (ಅಗೌರವ) ನ್ಯಾಯಾಲಯ ನಿಂದನೆಗೆ ಶಿಕ್ಷಿಸುವ ಅಧಿಕಾರವನ್ನು ಹೊಂದಿದೆ.
- B. ಸರ್ವೋಚ್ಚ ನ್ಯಾಯಾಲಯದ ಒಬ್ಬ ನ್ಯಾಯಾಧೀಶರು ಭಾರತದಾದ್ಯಂತ ಯಾವ ನ್ಯಾಯಾಲಯದಲ್ಲಿಯಾದರೂ ಅಥವಾ ಯಾವುದೇ ಪ್ರಾಧಿಕಾರದಲ್ಲಾದರೂ ಅವರ ನಿವೃತ್ತಿಯ ನಂತರ ಮಾತ್ರ ತಮ್ಮ ಕಾರ್ಯವನ್ನು (ವೃತ್ತಿ) ನಡೆಸಬಹುದು.

ಈ ಮೇಲಿನ ಹೇಳಿಕೆಗಳಲ್ಲಿ ಯಾವುದು /ವು ಸರಿ ?

ನೀಡಿರುವ ಆಯ್ಕೆಗಳಲ್ಲಿ ಸರಿಯಾದ ಉತ್ತರಕ್ಕಾಗಿ ಸಂಕೇತವನ್ನಾರಿಸಿ :

- (1) A ಮಾತ್ರ
- (2) B ಮಾತ್ರ
- (3) A ಮತ್ತು B ಇವೆರಡೂ
- (4) ಈ ಯಾವುದೂ ಅಲ್ಲ

73. Match List I (Waterfalls) with List II (Country) :

<i>List I</i> (Waterfall)	<i>List II</i> (Country)
A. Angel	I. Norway
B. Langfoss	II. South Africa
C. Mutarazi	III. Venezuela
D. Tugela	IV. Zimbabwe

Select the code for the correct answer from the options given below :

	A	B	C	D
(1)	I	III	IV	II
(2)	I	III	II	IV
(3)	III	I	II	IV
(4)	III	I	IV	II

74. Match List I (Aluminium Plants) with List II (Places they are situated in) :

<i>List I</i> (Aluminium Plant)	<i>List II</i> (Place)
A. BALCO	I. Mettur
B. HINDALCO	II. Hirakud
C. INDAL	III. Renukoot
D. MALCO	IV. Korba

Select the code for the correct answer from the options given below :

	A	B	C	D
(1)	III	IV	I	II
(2)	III	IV	II	I
(3)	IV	III	II	I
(4)	IV	III	I	II

75. Which of the following pairs shows the correct location of Thermal Power Plants in Karnataka ?

- (1) Raichur and Gulbarga
- (2) Raichur and Bellary
- (3) Bellary and Chitradurga
- (4) Bellary and Kolar

76. Consider the following statements :

- A. A Supreme Court is the court of record and has power to punish for its own contempt.
- B. A judge of the Supreme Court can practice in any Court or in any authority throughout India only after his retirement.

Which of the above statements is/are correct ?

Select the code for the correct answer from the options given below :

- (1) A only
- (2) B only
- (3) Both A and B
- (4) None

77. ಒಂದು ವೇಳೆ ವ್ಯಕ್ತಿಯೊಬ್ಬರು ಸಂಸತ್ತಿನ ಎರಡೂ ಸದನಗಳಿಗೆ ಆಯ್ಕೆಯಾಗಿದ್ದು ಮತ್ತು ಆಕೆ/ಆಕೆ ಯಾವ ಸದನವನ್ನು ಬಿಟ್ಟು ಕೊಡುವುದೆಂಬ ಬಗ್ಗೆ 10 ದಿನಗಳೊಳಗಾಗಿ ನಿರ್ಧರಿಸದಿದ್ದಲ್ಲಿ ಅವರ ಸ್ಥಾನವನ್ನು ಕೆಳಗಿನ ಯಾವ ಸದನದಲ್ಲಿ ತೆರವಾಗಿಡಲಾಗುವುದು ?

- (1) ಲೋಕ ಸಭೆ
- (2) ರಾಜ್ಯ ಸಭೆ
- (3) ಲೋಕ ಸಭೆ ಮತ್ತು ರಾಜ್ಯ ಸಭೆಗಳೆರಡೂ
- (4) ಮೇಲಿನ ಯಾವುದೂ ಅಲ್ಲ

78. 1903 ರಲ್ಲಿ ಸ್ವರಾಜ್ ಕಲ್ಪನೆಯನ್ನು ಹೀನಾಯ ಗೊಳಿಸಲಿಕ್ಕಾಗಿ ಸ್ವಾತಂತ್ರ್ಯದ ಬಗ್ಗೆ “ಹುಚ್ಚಿನ ಹೊರಗಣ ಮನುಷ್ಯರು ಮಾತ್ರವೇ ಯೋಚಿಸಬಲ್ಲರು ಅಥವಾ ಮಾತನಾಡಬಲ್ಲರು” ಎಂಬುದಾಗಿ ಹೇಳಿದರು ?

- (1) ಲಾರ್ಡ್ ಕರ್ಝನ್
- (2) ಲಾರ್ಡ್ ಹಾರ್ಡಿಂಗ್
- (3) ಗೋಪಾಲ ಕೃಷ್ಣ ಗೋಖಲೆ
- (4) ಫಿರೋಜ್ ಷಾ ಮೆಹ್ತಾ

79. “ವಿತ್ತೀಯ ಸಂಯುಕ್ತ ವ್ಯವಸ್ಥೆ” ಎಂದರೇನು ?

- (1) ಇದು, ರಾಷ್ಟ್ರೀಯ, ಉಪರಾಷ್ಟ್ರೀಯ ಮತ್ತು ಸರ್ಕಾರಗಳ ಹೊಣೆಗಾರಿಕೆಗಳು ಮತ್ತು ಅಧಿಕಾರ ಪ್ರಾಪ್ತಿಗೆ ಸಂಬಂಧಿಸಿದ್ದಾಗಿದೆ.
- (2) ಸಂಯುಕ್ತ ಸರ್ಕಾರಿ ವ್ಯವಸ್ಥೆಯಲ್ಲಿ ಸರ್ಕಾರಗಳ ಘಟಕಗಳ ನಡುವಣ ಹಣಕಾಸಿನ ಭಾಂದವ್ಯವನ್ನು ಕುರಿತದ್ದಾಗಿದೆ.
- (3) ಆದಾಯ ತೆರಿಗೆಯನ್ನು ಲೆಕ್ಕಿಸಿದ ನಂತರ ಕುಟುಂಬ ಮುಖ್ಯಸ್ಥರಿಗೆ ವೆಚ್ಚಕ್ಕಾಗಿ ಮತ್ತು ಉಳಿತಾಯಕ್ಕಾಗಿ ಲಭ್ಯವಾಗುವ ಹಣದ ಮೊತ್ತವಾಗಿದೆ.
- (4) ಕನಿಷ್ಠ ನಿರ್ದಿಷ್ಟ ಮಟ್ಟಕ್ಕಿಂತಲೂ ತಲಾ ಆದಾಯವು ಹೆಚ್ಚಳವಾದಲ್ಲಿ ಜನಸಂಖ್ಯಾ ಪ್ರವೃತ್ತಿಯೂ ಹೆಚ್ಚಾಗುವುದನ್ನು ವಿವರಿಸುತ್ತವೆ.

80. ಪಟ್ಟಿ I (ಭಾರತೀಯ ಸಂವಿಧಾನದ ಲಕ್ಷಣಗಳು) ಮತ್ತು ಪಟ್ಟಿ II (ಅವುಗಳನ್ನು ಎರವಲಾಗಿ ಯಾವ ದೇಶದಿಂದ ಪಡೆಯಲಾಗಿದೆ) ಗಳನ್ನು ಹೊಂದಿಸಿರಿ :

ಪಟ್ಟಿ I (ಭಾರತೀಯ ಸಂವಿಧಾನದ ಲಕ್ಷಣಗಳು)	ಪಟ್ಟಿ II (ಯಾವ ದೇಶದಿಂದ ಎರವಲಾಗಿ ಪಡೆದಿದೆ)
A. ಮೂಲಭೂತ ಹಕ್ಕುಗಳು	I. ಯುನೈಟೆಡ್ ಕಿಂಗ್‌ಡಂ
B. ಸಂಸದೀಯ ರೂಪ	II. ಯು.ಎಸ್.ಎ.
C. ತುರ್ತುಪರಿಸ್ಥಿತಿ ಉಪಬಂಧಗಳು	III. ಐರ್ಲೆಂಡ್
D. ರಾಜ್ಯ ನೀತಿಯ ನಿರ್ದೇಶಕ ತತ್ವಗಳು	IV. ಜರ್ಮನಿ

ಸಂಕೇತಗಳ ಸಹಾಯದಿಂದ ಸರಿ ಉತ್ತರಗಳನ್ನು ಆರಿಸಿ :

	A	B	C	D
(1)	II	IV	III	I
(2)	II	I	III	IV
(3)	II	I	IV	III
(4)	I	II	IV	III

81. ಭಾರತ ಸರ್ಕಾರ ಇತ್ತೀಚೆಗೆ ಹಸಿರು ಕೃಷಿ ಯೋಜನೆಯನ್ನು ಪ್ರಾರಂಭಿಸಿತು. ಇದು ಕೃಷಿವಲಯದಲ್ಲಿ ಪರಿವರ್ತನೆಯ ಬದಲಾವಣೆಯನ್ನು ತಂದು ಜೀವಿ ವೈವಿಧ್ಯ ಮತ್ತು ಅರಣ್ಯ ಭೂ ವಲಯ ಸಂರಕ್ಷಣೆಗೆ ಪ್ರಯತ್ನಿಸಿದೆ. ಈ ಯೋಜನೆ ಯಾವ ಅಂತರರಾಷ್ಟ್ರೀಯ ಸಂಸ್ಥೆಯು ಸಹಯೋಗದೊಂದಿಗೆ ಪ್ರಾರಂಭಿಸಲಾಗಿದೆ ?

- (1) UNESCO
- (2) WWF
- (3) FAO
- (4) ILO

77. When a person is selected to the both houses of the Parliament and he/she does not decide within 10 days which house he/she desires to vacate, his/her seat shall become vacant in which of the following houses ?

- (1) Lok Sabha
- (2) Rajya Sabha
- (3) Both Lok Sabha and Rajya Sabha
- (4) None of the above

78. Ridiculing the idea of Swaraj in 1903, who said "Only mad men outside lunatic asylums could think or talk of independence" ?

- (1) Lord Curzon
- (2) Lord Hardinge
- (3) Gopal Krishna Gokhale
- (4) Firozshah Mehta

79. What do you mean by "Fiscal Federalism" ?

- (1) It refers to the devolution of power and responsibilities of national and state governments.
- (2) It refers to the financial relations between units of governments in a federal government system.
- (3) It is the amount of money that households have available for spending and saving after income taxes have been accounted for.
- (4) It states that when per capita income increases above the minimum specific level, population tends to increase.

80. Match the features of the Constitution of India (List I) with the Country they are borrowed from (List II) :

<i>List I</i> (Features of the Indian Constitution)	<i>List II</i> (Country borrowed from)
A. Fundamental Rights	I. UK
B. Parliamentary Form	II. USA
C. Emergency Provisions	III. Ireland
D. Directive Principles of State Policy	IV. Germany

Select the code for the correct answer from the options given below :

	A	B	C	D
(1)	II	IV	III	I
(2)	II	I	III	IV
(3)	II	I	IV	III
(4)	I	II	IV	III

81. Government of India has recently launched the Green Agriculture Project, that seeks to bring transformative change in the farm sector through conservation of biodiversity and forest landscapes. This project has been launched along with which of the following organisations ?

- (1) UNESCO
- (2) WWF
- (3) FAO
- (4) ILO

82. ಕೆಳಗಿನ ಹೇಳಿಕೆಗಳನ್ನು ಪರಿಗಣಿಸಿ :

A. ಸ್ವಾಮಿ ಶ್ರದ್ಧಾನಂದ್ ಮತ್ತು ಮೌಲಾನಾ ಅಬುಲ್ ಕಲಾಂ ಆಜಾದ್ ಇವರ ಬಂಧನದ ವಿರುದ್ಧ ಪ್ರತಿಭಟಿಸಲು ಒಂದು ದೊಡ್ಡ ಗುಂಪು 13 ನೇ ಏಪ್ರಿಲ್ 1919 ರಂದು ಅಮೃತ್‌ಸರ್‌ನಲ್ಲಿ ಜಲಿಯನ್‌ವಾಲ್ ಬಾಗ್‌ನಲ್ಲಿ ಸೇರಿತು.

B. ಜಲಿಯನ್ ವಾಲಾಬಾಗ್ ದುರಂತದ ವಿರುದ್ಧ ಪ್ರತಿಭಟಿಸಲು ಮಹಾತ್ಮಾ ಗಾಂಧೀಜಿಯವರು ಬ್ರಿಟಿಷ್ ಸರ್ಕಾರವು ಅವರಿಗೆ ಕೊಡ ಮಾಡಿದ ನೈಟ್ ಹುಡ್, ಬಿರುದನ್ನು ಹಿಂದಿರುಗಿಸಿದರು.

ಈ ಮೇಲಿನ ಹೇಳಿಕೆಗಳಲ್ಲಿ ಯಾವುದು /ವು ಸರಿ ?

ನೀಡಿರುವ ಆಯ್ಕೆಗಳಲ್ಲಿ ಸರಿಯಾದ ಉತ್ತರಕ್ಕಾಗಿ ಸಂಕೇತವನ್ನಾರಿಸಿ :

- (1) A ಮಾತ್ರ
- (2) B ಮಾತ್ರ
- (3) A ಮತ್ತು B ಇವೆರಡೂ
- (4) ಈ ಯಾವುದೂ ಅಲ್ಲ

83. ರಾಷ್ಟ್ರಕೂಟರಿಗೆ ಸಂಬಂಧಿಸಿದಂತೆ ಈ ಹೇಳಿಕೆಗಳನ್ನು ಪರಿಗಣಿಸಿ :

A. ರಾಷ್ಟ್ರಕೂಟ ಮನೆತನವು ದಂತಿದುರ್ಗನಿಂದ ಸ್ಥಾಪಿಸಲ್ಪಟ್ಟಿತು.

B. ಮಾನ್ಯಖೇಟವು ರಾಷ್ಟ್ರಕೂಟರ ರಾಜಧಾನಿಯಾಗಿತ್ತು.

ಈ ಮೇಲಿನ ಹೇಳಿಕೆಗಳಲ್ಲಿ ಯಾವುದು /ವು ಸರಿ ?

ನೀಡಿರುವ ಆಯ್ಕೆಗಳಲ್ಲಿ ಸರಿಯಾದ ಉತ್ತರಕ್ಕಾಗಿ ಸಂಕೇತವನ್ನಾರಿಸಿ :

- (1) A ಮಾತ್ರ
- (2) B ಮಾತ್ರ
- (3) A ಮತ್ತು B ಇವೆರಡೂ
- (4) A ಆಗಲೀ ಅಥವಾ B ಆಗಲೀ ಅಲ್ಲ

84. ಕೆಳಗಿನ ಹೇಳಿಕೆಗಳನ್ನು ಪರಿಗಣಿಸಿ :

A. ಭಾರತೀಯ ರಾಷ್ಟ್ರೀಯ ಕಾಂಗ್ರೆಸ್‌ನ ಮೊದಲನೇ ಅಧಿವೇಶನವು ಬಾಂಬೆಯಲ್ಲಿ ಡಬ್ಲ್ಯೂ.ಸಿ. ಬ್ಯಾನರ್ಜಿಯವರ ನಾಯಕತ್ವದಲ್ಲಿ ಜರುಗಿತು.

B. ಭಾರತೀಯ ರಾಷ್ಟ್ರೀಯ ಕಾಂಗ್ರೆಸ್‌ನ ಎರಡನೇ ಅಧಿವೇಶನವು ಕಲ್ಕತ್ತಾದಲ್ಲಿ ದಾದಾಭಾಯಿ ನವರೋಜಿಯವರ ನಾಯಕತ್ವದಲ್ಲಿ ನಡೆಯಿತು.

ಈ ಮೇಲಿನ ಹೇಳಿಕೆಗಳಲ್ಲಿ ಯಾವುದು /ವು ಸರಿ ?

ನೀಡಿರುವ ಆಯ್ಕೆಗಳಲ್ಲಿ ಸರಿಯಾದ ಉತ್ತರಕ್ಕಾಗಿ ಸಂಕೇತವನ್ನಾರಿಸಿ :

- (1) A ಮಾತ್ರ
- (2) B ಮಾತ್ರ
- (3) A ಮತ್ತು B ಇವೆರಡೂ
- (4) ಈ ಯಾವುದೂ ಅಲ್ಲ

85. ಈ ಕೆಳಗಿನವುಗಳಲ್ಲಿನ ಭಾರತದ ಯಾವ ರಾಜ್ಯವು ಅತ್ಯಧಿಕ ಮೀನು ಉತ್ಪಾದನೆಯನ್ನು ಮಾಡುತ್ತದೆ ?

- (1) ಕೇರಳ
- (2) ಆಂಧ್ರ ಪ್ರದೇಶ
- (3) ತಮಿಳು ನಾಡು
- (4) ಪಶ್ಚಿಮ ಬಂಗಾಳ

86. ಭಾರತವು ಯಾವ ಪಂಚವಾರ್ಷಿಕ ಯೋಜನೆಯಲ್ಲಿ ಮಿಶ್ರ ಆರ್ಥಿಕತೆಯನ್ನು ಆರಿಸಿಕೊಂಡಿದೆ ?

- (1) ಮೊದಲನೇ
- (2) ಎರಡನೇ
- (3) ಮೂರನೇ
- (4) ನಾಲ್ಕನೇ

82. Consider the following statements :

- A. A large crowd gathered in the Jallianwala Bagh at Amritsar on 13th April, 1919 to protest against the arrest of Swami Shraddhanand and Maulana Abul Kalam Azad.
- B. To protest against the Jallianwala Bagh tragedy Mahatma Gandhi surrendered the Knighthood conferred on him by the British Government.

Which of the above statements is/are correct ?

Select the code for the correct answer from the options given below :

- (1) A only
- (2) B only
- (3) Both A and B
- (4) None

83. Consider the following statements about Rashtrakutas :

- A. Rashtrakuta dynasty was founded by Dantidurga.
- B. Manyakheta was the capital of Rashtrakutas.

Which of the above statements is/are correct ?

Select the code for the correct answer from the options given below :

- (1) A only
- (2) B only
- (3) Both A and B
- (4) Neither A nor B

84. Consider the following statements :

- A. The first session of the Indian National Congress was held at Bombay under the leadership of W.C. Banerjee.
- B. The second session of the Indian National Congress was held at Calcutta under the leadership of Dadabhai Naoroji.

Which of the above statements is/are correct ?

Select the code for the correct answer from the options given below :

- (1) A only
- (2) B only
- (3) Both A and B
- (4) None

85. Which of the following is the largest Fish Producing State of India ?

- (1) Kerala
- (2) Andhra Pradesh
- (3) Tamil Nadu
- (4) West Bengal

86. Which Five Year Plan opted for mixed economy ?

- (1) First
- (2) Second
- (3) Third
- (4) Fourth

87. ಬಂಡವಾಳ ಪಾವತಿಗಳ ಸರಿಯಾದ ವ್ಯಾಖ್ಯೆಯನ್ನು ಕಂಡುಹಿಡಿಯಿರಿ

- (1) ಇದು, ಬಂಡವಾಳ ಯೋಜನೆಗಳ ನಿರ್ಮಿತಿಯಲ್ಲಾಗುವ ಬಂಡವಾಳ ವೆಚ್ಚಗಳು ಮತ್ತು ಭೂಮಿ, ಕಟ್ಟಡಗಳು, ಯಂತ್ರೋಪಕರಣಗಳು ಮತ್ತು ಸಾಧನ ಸಲಕರಣೆಗಳಂತಹ ಆಸ್ತಿಯಗಳಿಗೆ ಸಂಬಂಧಿಸಿದ್ದಾಗಿದೆ.
- (2) ಇದು, ಬಂಡವಾಳ ಯೋಜನೆಗಳ ನಿರ್ಮಿತಿಯಿಂದಾಗುವ ಆದಾಯ ಸಂಗ್ರಹ ಮತ್ತು ಭೂಮಿ, ಕಟ್ಟಡಗಳು ಯಂತ್ರೋಪಕರಣಗಳು ಮತ್ತು ಸಲಕರಣೆಗಳಂತಹ ಆಸ್ತಿಯಗಳಿಗೆ ಸಂಬಂಧಿಸಿದ್ದಾಗಿದೆ.
- (3) ಸರ್ಕಾರ ಮತ್ತು ಅದರ ವಿವಿಧ ಇಲಾಖೆಗಳು ಮತ್ತು ಅವು ಒದಗಿಸುವ ಸೇವೆಗಳಿಗಾಗಿ ದಿನನಿತ್ಯದ ಚಾಲನೆಗಾಗಿ ಕುರಿತ ಅದರ ವೆಚ್ಚಗಳಾಗಿದೆ.
- (4) ಮೇಲಿನ ಯಾವುದೂ ಅಲ್ಲ

88. “ವಿಲೇಜ್ ರಾಕ್‌ಸ್ಟಾರ್” ಇತ್ತೀಚೆಗೆ ಏಕೆ ಸುದ್ದಿಯಲ್ಲಿದೆ ?

- (1) ತ್ರಿಪುರದ ಹುಡುಗರ ತಂಡವೊಂದು ಅವರ ಸಂಗೀತಕ್ಕೆ ವಿಮರ್ಶಾತ್ಮಕ ಮೆಚ್ಚುಗೆ ಪಡೆಯಿತು
- (2) ಅದು ಅಸಾಮಾನ್ಯ ಚಿತ್ರವಾಗಿದ್ದು, ಆಸಕ್ತರ 2019 ಕ್ಕಾಗಿ, ಭಾರತದ ಆಯ್ಕೆಯಾಗಿ ಅತ್ಯುತ್ತಮ ವಿದೇಶೀ ಭಾಷಾ ಪ್ರವರ್ಗದಲ್ಲಿ ಪ್ರವೇಶ ಪಡೆಯಿತು
- (3) ಇದು ಭಾರತದ ವೇಗದ ಓಟಗಾರ್ತಿ ಹಿಮಾದಾಸ್‌ರವರ - ಜೀವನ ಆಧಾರಿತವಾದ ಡಾಕ್ಯುಮೆಂಟರಿಯಾಗಿದೆ
- (4) ಈ ಮೇಲಿನ ಯಾವುದೂ ಅಲ್ಲ

89. ಪಟ್ಟಿ I (ಪರಿಸರ ವ್ಯವಸ್ಥೆ) ಮತ್ತು ಪಟ್ಟಿ II (ಸಸ್ಯವರ್ಗ ವಿಧಗಳು) ಗಳನ್ನು ಹೊಂದಿಸಿರಿ :

ಪಟ್ಟಿ I (ಪರಿಸರ ವ್ಯವಸ್ಥೆ)	ಪಟ್ಟಿ II (ಸಸ್ಯವರ್ಗ ವಿಧಗಳು)
A. ಉಷ್ಣವಲಯ ಹುಲ್ಲುಗಾವಲು	I. ಸೆಲ್ವಾ
B. ಸಮಶೀತೋಷ್ಣ ಅರಣ್ಯಗಳು	II. ಟೈಗಾ
C. ಉಷ್ಣವಲಯ ಮಳೆ ಅರಣ್ಯ	III. ಸವನ್ನಾ
D. ಸಮಶೀತೋಷ್ಣ ಹುಲ್ಲುಗಾವಲು	IV. ಪಾಂಪಾಸ್

ಸಂಕೇತಗಳ ಸಹಾಯದಿಂದ ಸರಿ ಉತ್ತರಗಳನ್ನು ಆರಿಸಿ :

	A	B	C	D
(1)	III	II	I	IV
(2)	I	II	III	IV
(3)	IV	III	II	I
(4)	II	I	IV	III

90. ಪ್ರತಿವರ್ಷದ ಸೆಪ್ಟೆಂಬರ್ 16 ರಂದು ಓಜೋನ್ ಪದರದ ರಕ್ಷಣೆಗಾಗಿ ಅಂತರರಾಷ್ಟ್ರೀಯ ದಿನಾಚರಣೆಯನ್ನು ಕೈಗೊಳ್ಳಲಾಗುತ್ತದೆ. ಈ ವರ್ಷದ ಆಶಯ ಏನು ?

- (1) ಸಮಾಧಾನವಾಗಿ ಮತ್ತು ಮುಂದುವರಿಯಿರಿ : ಮಾಂಟ್ರಿಯಲ್ ಪ್ರೋಟೋಕಾಲ್
- (2) ಭೂಮಿಯನ್ನು ಉಳಿಸಿ : ಮಾಂಟ್ರಿಯಲ್ ಮತ್ತು ಕಿಗಾಲಿ
- (3) ಪರಿಸರಕ್ಕಾಗಿ ವಿಶ್ವ ಒಕ್ಕೂಟ
- (4) ರಕ್ಷಿಸಲು ನಿಯೋಗ

87. Find out the correct definition of Capital Payments.

- (1) It refers to capital expenditure on construction of capital projects and acquisition of assets like land, buildings, machinery and equipment.
- (2) It refers to revenue collected from the construction of projects and acquisition of assets like land, buildings, machinery and equipment.
- (3) It is the expenditure on the day-to-day running of the Government and its various departments, and for services that it provides.
- (4) None of these

88. Why is “Village Rockstars” in the news recently ?

- (1) It is a band of boys from Tripura who received critical acclaim for their music
- (2) It is an Assamese movie chosen as India’s entry for Oscars 2019 in the Best Foreign Language category
- (3) It is a documentary based on the life of Indian sprint runner Hima Das
- (4) None of the above

89. Match List I (Ecosystems) with List II (Vegetation Types) :

<i>List I</i> (<i>Ecosystem</i>)	<i>List II</i> (<i>Vegetation Types</i>)
A. Tropical grassland	I. Selva
B. Temperate forests	II. Taiga
C. Tropical rainforests	III. Savanna
D. Temperate grassland	IV. Pampas

Select the code for the correct answer from the options given below :

	A	B	C	D
(1)	III	II	I	IV
(2)	I	II	III	IV
(3)	IV	III	II	I
(4)	II	I	IV	III

90. International Day of Ozone Layer Preservation is observed every year on September 16. What was the theme of this year ?

- (1) Keep Cool and Carry On : The Montreal Protocol
- (2) Save the Earth : Montreal and Kigali
- (3) World United for Environment
- (4) The Mission to Protect

91. ಇತ್ತೀಚೆಗೆ ಆನ್ ಲೈನ್ ಪೋರ್ಟಲ್ 'ಇಸಹಾಯ' ಅನ್ನು ಕೇಂದ್ರ ಗೃಹಕಾರ್ಯದರ್ಶಿಯವರು ಪ್ರಾರಂಭಿಸಿದ್ದಾರೆ. ಈ ಪೋರ್ಟಲ್‌ನ ಉದ್ದೇಶವೇನು ?

- (1) ವಹಿವಾಟಿಗೆ ಭದ್ರತಾ ತೀರುವಳಿ
- (2) ಉತ್ಪಾದಕ ಘಟಕಗಳಿಗೆ ಸುಲಭ ಅನುಮೋದನೆ
- (3) ಆದಾಯ ತೆರಿಗೆ ಸಲ್ಲಿಕೆಯ e-ಫೈಲಿಂಗ್
- (4) ಜಿ.ಎಸ್.ಟಿ. ಆಧಾರಿತ ಪ್ರಶ್ನೆಗಳಿಗೆ ಪರಿಹಾರ

92. ಮಾಲಿನ್ಯಕಾರಕ ಡೀಸೆಲ್ ಯಂತ್ರಗಳಿಗೆ ಸವಾಲನ್ನು ರೂಪಿಸಲು ಅಧಿಕ ವೆಚ್ಚದಾದರೂ ಪರಿಸರ ಸ್ನೇಹಿ ತಾಂತ್ರಿಕತೆಯ ಮುಖ್ಯ ಉದ್ದೇಶದಿಂದ ಜಗತ್ತಿನ ಮೊದಲ ಹೈಡ್ರೋಜನ್ ಚಾಲಿತ ರೈಲನ್ನು ಪ್ರಾರಂಭಿಸಿದ ದೇಶ ಯಾವುದು ?

- (1) ಜರ್ಮನಿ
- (2) ಫ್ರಾನ್ಸ್
- (3) ಡೆನ್ಮಾರ್ಕ್
- (4) ಅಮೇರಿಕಾ ಸಂಯುಕ್ತ ಸಂಸ್ಥಾನ

93. ಈ ಕೆಳಗಿನ ರಾಣಿ ಎಲಿಜಬೆತ್‌ನ ರಾಯಬಾರಿಗಳ ಪೈಕಿ ಅಕ್ಟೋಬರ್ ಆಸ್ಟ್ರೇಲಿಯಕ್ಕೆ ಭೇಟಿ ಇತ್ತು ಗುಜರಾತಿನಲ್ಲಿ ವ್ಯಾಪಾರಕ್ಕೆ ಫರ್ಮಾನು ಪಡೆದವರು ಯಾರು ?

- (1) ಸರ್ ಥಾಮಸ್ ರೋ
- (2) ಜಾನ್ ಮಿಲ್ಡನ್‌ಹಾಲ್
- (3) ವಿಲಿಯಮ್ ಹಾಕಿನ್ಸ್
- (4) ಮೇಲಿನ ಯಾರೂ ಅಲ್ಲ

94. ಅಪ್ಪಲ್ ಖಾನ್‌ನ ನಿಜವಾದ ಹೆಸರು, - ವಿಜಾಪುರದ ಆದಿಲ ಷಾಹಿ ಮನೆತನದ ಸೇನಾಧಿಪತಿಯಾಗಿದ್ದವನು

- (1) ಮಹಮ್ಮದ್ ಖಾನ್
- (2) ಅಬ್ದುಲ್ಲಾ ಬಟಾರಿ
- (3) ಷಂಷುದ್ದೀನ್
- (4) ಸಬರ ಖಾನ್

95. ಈ ಕೆಳಗಿನವುಗಳಲ್ಲಿನ ಯಾವ ಕಾರಣದಿಂದ ಬಲ್ಕನ್ ದಿಗ್ವಿಜಯ ನೀತಿಯನ್ನು ರದ್ದುಮಾಡಿ ಕ್ರೋಢೀಕರಣ ನೀತಿಯನ್ನು ಅಳವಡಿಸಿಕೊಂಡನು ?

- A. ಬಾಹ್ಯ ಧಾಳಿಯ ಬೆದರಿಕೆ
- B. ಅಂತರಿಕ ದಂಗೆಗಳು
- C. ಭಾರತದ ದೊರೆಗಳು ಟರ್ಕಿಷ್ ಆಲ್ಟೆಕೆಯನ್ನು ಕಿತ್ತೊಗೆಯಲು ಸಿದ್ಧರಿದ್ದುದು
- D. ಆತನ ದುರ್ಬಲ ಗುಣ

ಈ ಮೇಲಿನ ಹೇಳಿಕೆಗಳಲ್ಲಿ ಯಾವುದು /ವು ಸರಿ ?

ನೀಡಿರುವ ಆಯ್ಕೆಗಳಲ್ಲಿ ಸರಿಯಾದ ಉತ್ತರಕ್ಕಾಗಿ ಸಂಕೇತವನ್ನಾರಿಸಿ :

- (1) A ಮಾತ್ರ
- (2) A ಮತ್ತು B ಮಾತ್ರ
- (3) A, B ಮತ್ತು C ಮಾತ್ರ
- (4) A, B, C ಮತ್ತು D

96. ವಿಜಯ ನಗರ ಸಾಮ್ರಾಜ್ಯವನ್ನು ಕ್ರಿ.ಶ. 1336 ರಲ್ಲಿ ಹರಿಹರ ಮತ್ತು ಬುಕ್ಕರು ಸ್ಥಾಪಿಸಿದರು. ಈ ಸಂಸ್ಥಾನವು ಸ್ಥಾಪನೆಯಾದಾಗ ಈ ಕೆಳಗಿನವರಪೈಕಿ ದೆಹಲಿಯಲ್ಲಿ ಸುಲ್ತಾನರಾಗಿದ್ದವರು ಯಾರು ?

- (1) ಫಿಯಾಸುದ್ದೀನ್ ತುಘಲಕ್
- (2) ಫಿರೋಜ್ ತುಘಲಕ್
- (3) ಮಹಮದ್ -ಬಿನ್ - ತುಘಲಕ್
- (4) ಸಿಕಂದರ್ ಲೋದಿ

91. Recently an online portal 'e-Sahaj' has been launched by Union Home Secretary. What is the purpose of the portal ?

- (1) Security clearances to businesses
- (2) Easy approval to manufacturing units
- (3) e-filing of IT returns
- (4) To solve GST based queries

92. Which country has rolled out the world's first hydrogen powered train, signalling the start of a push to challenge the might of polluting diesel trains with costlier but more eco-friendly technology ?

- (1) Germany
- (2) France
- (3) Denmark
- (4) United States of America

93. Which of the following ambassadors of Queen Elizabeth visited Akbar's court to obtain a Firman for trade in Gujarat ?

- (1) Sri Thomas Roe
- (2) John Mildenhall
- (3) William Hawkins
- (4) None of the above

94. The real name of Afzal Khan, the commander of Adil Shahi dynasty of Bijapur, was

- (1) Muhammad Khan
- (2) Abdullah Bhatari
- (3) Shamshuddin
- (4) Sabar Khan

95. Balban abandoned the policy of conquest and adopted the policy of consolidation. The reasons were which of the following ?

- A. Threat of external invasion
- B. Internal revolts
- C. Indian kings willing to throw off the Turkish rule
- D. His weak nature

Which of the above statements is/are correct ?

Select the code for the correct answer from the options given below :

- (1) A only
- (2) A and B only
- (3) A, B and C only
- (4) A, B, C and D

96. Vijayanagar empire was founded in 1336 by Harihara and Bukka. Who among the following was the Sultan at Delhi when Vijayanagar empire was founded ?

- (1) Ghiyasuddin Tughlaq
- (2) Firoz Tughlaq
- (3) Muhamad-bin-Tughlaq
- (4) Sikander Lodi

97. SBI ಮತ್ತು ICICI ಬ್ಯಾಂಕಿನ ನಂತರ ಭಾರತದ ಮೂರನೆಯ ಅತಿದೊಡ್ಡ ಸಾಲನೀಡಿಕೆದಾರನ ಸೃಷ್ಟಿಗಾಗಿ - ಸಾರ್ವಜನಿಕ ವಲಯದಲ್ಲಿ ಬ್ಯಾಂಕಿಂಗ್ ನಿರ್ವಹಣೆಯಲ್ಲಿನ ಸುಧಾರಣೆಯ ಅಂಶವಾಗಿ ಭಾರತ ಸರ್ಕಾರವು ಈ ಕೆಳಗಿನ ಯಾವ ಬ್ಯಾಂಕುಗಳ ವಿಲೀನವನ್ನು ಇತ್ತೀಚೆಗೆ ಕೈಗೊಂಡಿತು ?

- ಇಂಡಿಯನ್ ಬ್ಯಾಂಕ್
- ವಿಜಯಾ ಬ್ಯಾಂಕ್
- ದೇನಾ ಬ್ಯಾಂಕ್
- ಪಂಜಾಬ್ ನ್ಯಾಷನಲ್ ಬ್ಯಾಂಕ್ (ಪಿ.ಎನ್.ಬಿ.)
- ಬ್ಯಾಂಕ್ ಆಫ್ ಬರೋಡಾ (ಬಿ.ಒ.ಬಿ.)

ಈ ಮೇಲಿನ ಹೇಳಿಕೆಗಳಲ್ಲಿ ಯಾವುವು ಸರಿ ?

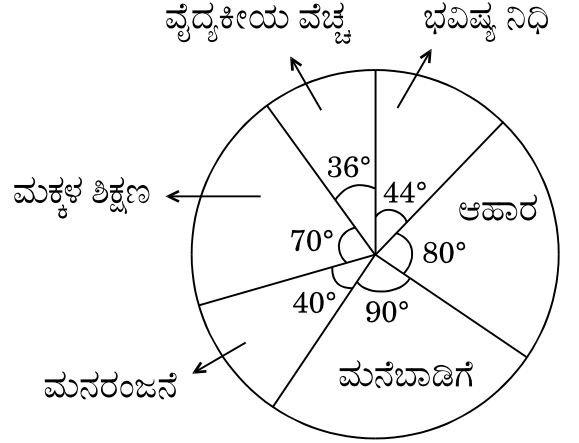
ನೀಡಿರುವ ಆಯ್ಕೆಗಳಲ್ಲಿ ಸರಿಯಾದ ಉತ್ತರಕ್ಕಾಗಿ ಸಂಕೇತವನ್ನಾರಿಸಿ :

- B, C ಮತ್ತು E ಮಾತ್ರ
- C ಮತ್ತು D ಮಾತ್ರ
- A, B ಮತ್ತು C ಮಾತ್ರ
- A, B, C, D ಮತ್ತು E

98. 2018 ರ ರಾಜೀವ್ ಗಾಂಧಿ ಖೇಲ್ ಪ್ರಶಸ್ತಿಯನ್ನು ಗೆದ್ದವರು ಯಾರು ?

- ರೊಹಿತ್ ಶರ್ಮ ಮತ್ತು ಪಿ.ವಿ. ಸಿಂಧೂ
- ವಿರಾಟ್ ಕೊಹ್ಲಿ ಮತ್ತು ಮೀರಾಬಾಯಿ ಚಾನು
- ನೀರಜ್ ಚೋಪ್ರ ಮತ್ತು ಹಿಮಾದಾಸ್
- ಅರ್ಪಿಂಧರ್ ಸಿಂಗ್ ಮತ್ತು ಸಾಕ್ಷಿ ಮಲಿಕ್

99. ಈ ಕೆಳಗಿನ ಪೈ ನಕ್ಷೆಯು ಕುಟುಂಬ ಒಂದರ ಮಾಸಿಕ ಗೃಹಕೃತ್ಯ ವೆಚ್ಚವನ್ನು ಡಿಗ್ರಿಗಳಲ್ಲಿ ನೀಡುತ್ತದೆ.



ಕುಟುಂಬದ ಒಟ್ಟು ಮಾಸಿಕ ವೆಚ್ಚವು ರೂ. 36,000 ಆದರೆ ಆಹಾರ ಮತ್ತು ಮನರಂಜನೆಗೆ ತಗಲುವ ಒಟ್ಟು ವೆಚ್ಚವೆಷ್ಟು ?

- ₹ 12,000
- ₹ 12,500
- ₹ 11,000
- ₹ 11,500

100. ಪಟ್ಟಿ I (ಮಹಾಜನಪದರು) ಮತ್ತು ಪಟ್ಟಿ II ಅವರುಗಳ (ರಾಜಧಾನಿ) ಗಳನ್ನು ಹೊಂದಿಸಿ :

ಪಟ್ಟಿ I (ಮಹಾಜನಪದರು) ಪಟ್ಟಿ II (ರಾಜಧಾನಿ)

- | | |
|----------|---------------|
| A. ಕೋಸಲ | I. ರಾಜಗೃಹ |
| B. ಮಗಧ | II. ಶ್ರಾವಸ್ತಿ |
| C. ಅವಂತಿ | III. ಕೌಶಾಂಬಿ |
| D. ವತ್ಸ | IV. ಉಜ್ಜೈನಿ |

ಸಂಕೇತಗಳ ಸಹಾಯದಿಂದ ಸರಿ ಉತ್ತರಗಳನ್ನು ಆರಿಸಿ :

- | | A | B | C | D |
|-----|----|----|-----|-----|
| (1) | II | I | IV | III |
| (2) | I | IV | II | III |
| (3) | I | II | IV | III |
| (4) | II | I | III | IV |

97. Government of India prepared merger of which of the following banks recently to create India's third largest lender after SBI and ICICI, as a part of reforms in public sector banking management ?

- A. Indian Bank
- B. Vijaya Bank
- C. Dena Bank
- D. Punjab National Bank (PNB)
- E. Bank of Baroda (BOB)

Which of the above are correct ?

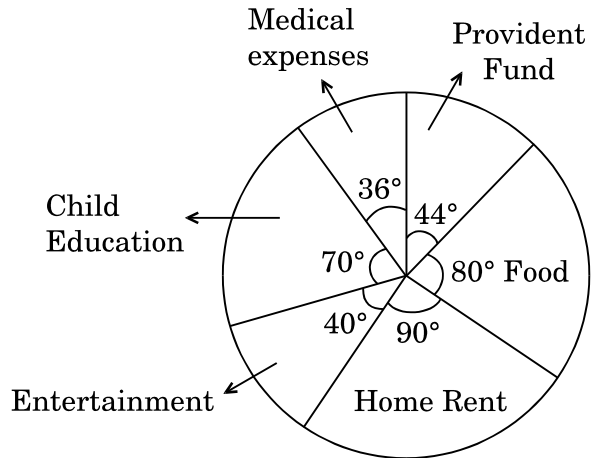
Select the code for the correct answer from the options given below :

- (1) B, C and E only
- (2) C and D only
- (3) A, B and C only
- (4) A, B, C, D and E

98. Who has won the Rajiv Gandhi Khel Ratna Award for the year 2018 ?

- (1) Rohit Sharma and P.V. Sindhu
- (2) Virat Kohli and Mirabai Chanu
- (3) Neeraj Chopra and Hima Das
- (4) Arpinder Singh and Sakshi Malik

99. The pie chart given below represents the domestic monthly expenditure of a family in degrees.



If the total monthly expenditure of a family is ₹ 36,000, how much is the expenditure on food and entertainment combined ?

- (1) ₹ 12,000
- (2) ₹ 12,500
- (3) ₹ 11,000
- (4) ₹ 11,500

100. Match List I (Mahajanapadas) with List II (their Capitals) :

<i>List I</i> (Mahajanapada)	<i>List II</i> (Capital)
A. Kosala	I. Rajgriha
B. Magadha	II. Shravasti
C. Avanti	III. Kaushambi
D. Vatsa	IV. Ujjaini

Select the code for the correct answer from the options given below :

- | | A | B | C | D |
|-----|----------|----------|----------|----------|
| (1) | II | I | IV | III |
| (2) | I | IV | II | III |
| (3) | I | II | IV | III |
| (4) | II | I | III | IV |


SPACE FOR ROUGH WORK

SPACE FOR ROUGH WORK

2018

Question Paper Version Code

QUESTION BOOKLET
GENERAL PAPER (PAPER I)



SUBJECT CODE : 306

Time Allowed : $1\frac{1}{2}$ Hours

Maximum Marks : 200

INSTRUCTIONS

1. Immediately after the commencement of the Examination, you should check that this Question Booklet does NOT have any unprinted or torn or missing pages or questions etc. If so, get it replaced by a complete 'Question Booklet' of the same Question Paper Version Code as printed in your OMR Answer Sheet.
 2. **Candidate has to ensure that Question Paper Version Code of the Question Booklet given is same as the Question Paper Version Code printed on OMR Answer Sheet. Discrepancy, if any should be reported to the Invigilator and a new Question Booklet should be taken whose Question Paper Version Code tallies with the Question Paper Version Code printed on the OMR Answer Sheet.**
 3. You have to enter your Register Number in the Question Booklet in the box provided alongside.
DO NOT write anything else on the Question Booklet.
- | Register Number | | | | | | |
|-----------------|--|--|--|--|--|--|
| | | | | | | |
4. **This Question Booklet contains 100 questions.** Each question contains **four** responses (answers). Select the response which you want to mark on the Answer Sheet. In case you feel that there is more than one correct response, mark the response which you consider the most appropriate. In any case, choose **ONLY ONE RESPONSE** for each question.
 5. All the responses should be marked **ONLY** on the separate OMR Answer Sheet provided and **ONLY** in **Black or Blue Ball Point Pen**. See detailed instructions in the OMR Answer Sheet.
 6. All questions carry equal marks. **Attempt all questions.** Every question for which wrong answer has been given by the candidate, $\frac{1}{4}$ th (0.25) of the marks assigned for that question will be deducted.
 7. Sheets for rough work are appended in the Question Booklet at the end. You should not make any marking on any other part of the Question Booklet.
 8. Immediately after the final bell indicating the conclusion of the examination, stop making any further markings in the OMR Answer Sheet. Be seated till the OMR Answer Sheets are collected and accounted for by the Invigilator.
 9. **Questions are printed both in Kannada and English. If any confusion arises in the Kannada Version, please refer to the English Version of the questions. Please note that in case of any confusion the English Version of the Question Booklet is final.**

Possession of Mobile Phones, Calculators and other Electronic/Communication gadgets
of any kind is prohibited inside the Examination venue.

ಗಮನಿಸಿ: ಸೂಚನೆಗಳ ಕನ್ನಡ ಆವೃತ್ತಿಯು ಈ ಪ್ರಶ್ನೆ ಪುಸ್ತಿಕೆಯ ಮುಂಭಾಗದಲ್ಲಿ ಮುದ್ರಿಸಲ್ಪಟ್ಟಿದೆ.